

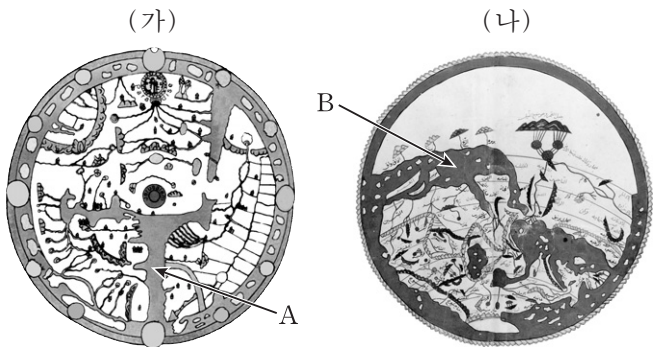
제 4 교시

사회탐구 영역(세계 지리)

성명

수험 번호

1. (가), (나) 지도에 대한 옳은 설명을 <보기>에서 고른 것은?

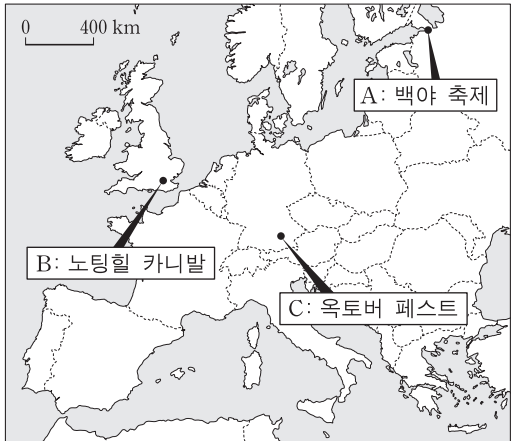


- < 보 기 > —
- ㄱ. (가)에는 종교적 이상향이 표현되어 있다.
 - ㄴ. (나)에는 지도의 중심부에 메카가 위치한다.
 - ㄷ. (나)는 중세 유럽과 중국에서 널리 사용되었다.
 - ㄹ. A와 B 바다는 오늘날의 지중해이다.

- ① ㄱ, ㄴ ② ㄱ, ㄷ ③ ㄴ, ㄷ ④ ㄴ, ㄹ ⑤ ㄷ, ㄹ

2. 다음 (가), (나)에서 설명하는 축제를 지도의 A~C에서 고른 것은?

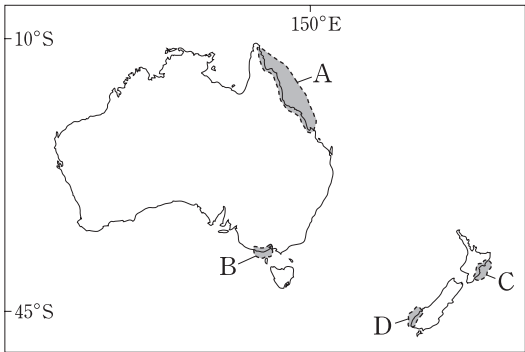
- (가) 이 축제는 템스 강이 흐르는 도시의 북서쪽에서 8월에 열린다. 카리브 해 출신 흑인 이주자들에 의해 시작되어 오늘날 전 세계의 다양한 민족이 전통 의상을 입고 악기를 연주하거나 민속춤을 보여 주며 행진하는 다문화 축제로 발전하였다.
- (나) 이 축제는 겨울이 길고 일사량이 적은 지역에서, 낮이 긴 6월을 전후하여 약 2개월 동안 열린다. 1990년대부터 국제 가요제와 영화제 등을 개최하면서 발전을 거듭하고 있다.



- | | | | | | |
|-----|-----|-----|-----|-----|-----|
| (가) | (나) | (가) | (나) | (가) | (나) |
| ① A | B | ② A | C | ③ B | A |
| ④ B | C | ⑤ C | B | | |

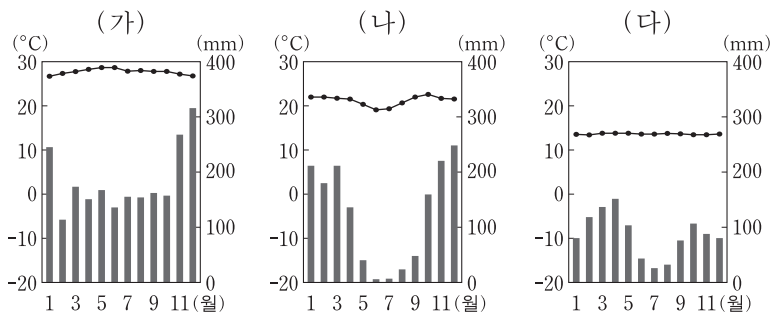
3. 다음 (가)~(다)에서 설명하는 지역을 지도의 A~D에서 고른 것은?

- (가) 해안 침식 지형의 교과서라고도 불리는 곳으로, 시 스택, 해식애, 해안 단구 등의 다양한 해안 지형이 발달해 있다. 특히 '12사도 바위', '런던 브리지' 등이 유명하다.
- (나) 대보초는 세계에서 가장 큰 산호초 생태계로 유명하다. 이곳은 관광지로 개발된 이후 광범위한 환경 문제가 나타나서, 최근 3개 지구로 구분하여 관리되고 있다.
- (다) '사운드'라 불리는 만(灣)들이 잘 발달해 있고, 빙하로 덮여 있는 높은 산지와, 해수면으로부터 약 1,600m 높이 까지 솟아 있는 봉우리도 볼 수 있다.



- | | | | | | |
|-----|-----|-----|-----|-----|-----|
| (가) | (나) | (다) | (가) | (나) | (다) |
| ① A | B | C | ② B | A | D |
| ③ B | D | C | ④ C | A | B |
| ⑤ C | B | D | | | |

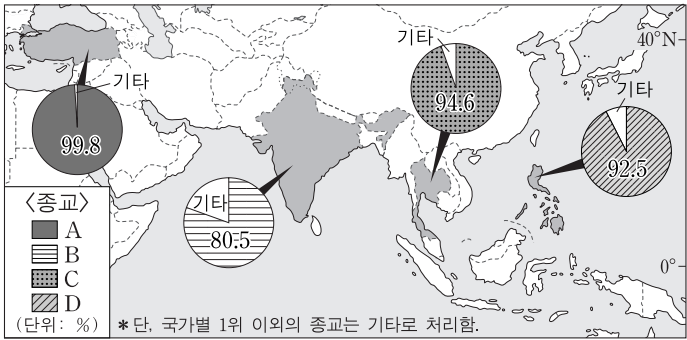
4. 다음 자료는 (가)~(다) 지역의 기온과 강수량을 나타낸 것이다. 이에 대한 옳은 설명을 <보기>에서 고른 것은? [3점]



- < 보 기 > —
- ㄱ. (가) - 기온의 일교차보다 연교차가 크다.
 - ㄴ. (나) - 월별 강수 분포는 적도 수렴대의 이동과 관련이 깊다.
 - ㄷ. (다) - 대부분의 가옥은 습기를 피하기 위한 고상 가옥이나 수상 가옥이다.
 - ㄹ. (다) - (가), (나)보다 해발 고도가 높다.

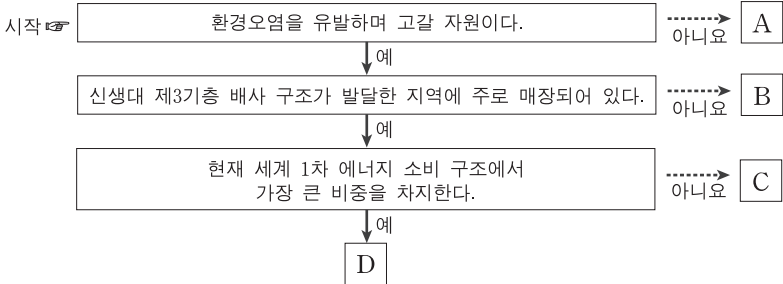
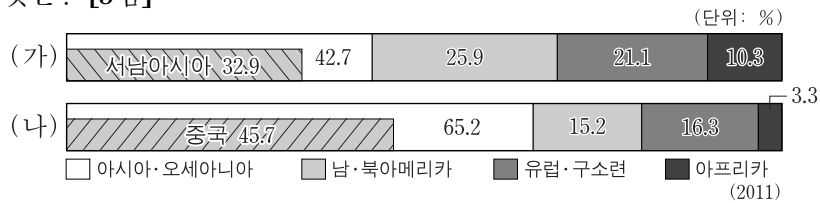
- ① ㄱ, ㄴ ② ㄱ, ㄷ ③ ㄴ, ㄷ ④ ㄴ, ㄹ ⑤ ㄷ, ㄹ

5. 지도는 해당 국가별 신자 수가 가장 많은 종교의 인구 비율을 나타낸 것이다. A~D 종교에 대한 설명으로 옳지 않은 것은? [3점]



- ① A는 돼지고기를, B는 쇠고기를 금기시한다.
- ② A와 C의 사원에는 신들의 조각상이 장식되어 있다.
- ③ A와 D는 모두 유일신을 믿는다.
- ④ B와 C는 모두 남부 아시아에서 기원하였다.
- ⑤ B는 민족 종교이고, D는 보편 종교이다.

6. 그래프는 주요 1차 에너지 자원의 지역별 생산량 비중을 나타낸 것이다. (가), (나) 자원에 해당하는 것을 그림의 A~D에서 고른 것은? [3점]



- | | | | | | |
|-----|-----|-----|-----|-----|-----|
| (가) | (나) | (가) | (나) | (가) | (나) |
| ① A | B | ② B | C | ③ C | B |
| ④ D | B | ⑤ D | C | | |

7. 다음 자료의 밑줄 친 ㉠~㉤에 대한 옳은 설명을 <보기>에서 고른 것은? [3점]

〈세계 지리 과제 작성을 위해 수집한 신문 기사〉

○ 미국 ㉠금융 시장의 불안이 전 세계 증시에 영향을 주었다. ㉡미국의 금융 위기가 가시화된 직후 유럽, 아시아 지역의 주가도 동반 폭락했다. —△△신문, 2008년 ○월 ○일—

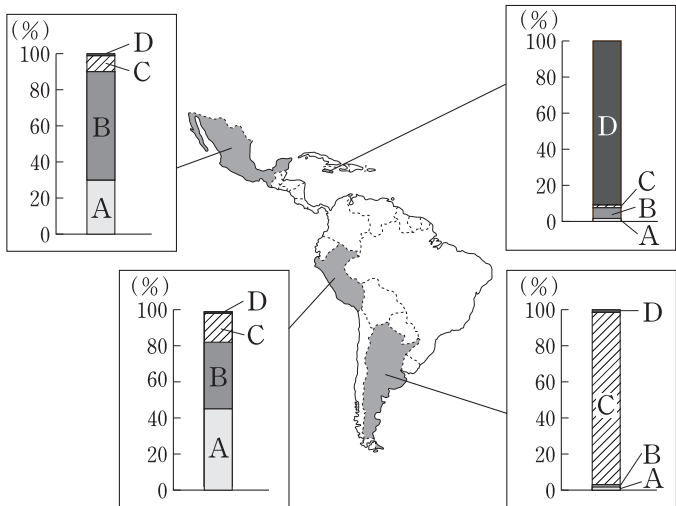
○ 세계적인 식료품 시장으로 부상하고 있는 중국에서는 ㉢글로벌 대형 마트들이 치열한 경쟁을 하고 있다. 2010년 현재 ㉣중국 시장에는 프랑스의 ○○, 미국의 ▽▽, 영국의 □□ 등이 진출한 상태이다. —◇◇신문, 2010년 ○월 ○일—

〈 보 기 〉

- ㉠. ㉠ - 생산자 서비스업의 일종으로 기업 활동과 밀접하게 연관되어 있다.
- ㉡. ㉡ - 금융의 세계화로 인해 나타나는 현상의 한 사례이다.
- ㉢. ㉢ - 서비스 공급 주체에 따라 공공 서비스업으로 분류된다.
- ㉣. ㉣ - 중국과 해당 국가들 간 경제 블록화의 결과이다.

- | | | | | |
|--------|--------|--------|--------|--------|
| ① ㉠, ㉡ | ② ㉠, ㉢ | ③ ㉡, ㉢ | ④ ㉡, ㉣ | ⑤ ㉢, ㉣ |
|--------|--------|--------|--------|--------|

8. 지도는 라틴아메리카 일부 국가의 인종(민족) 비율을 나타낸 것이다. A~D에 대한 옳은 설명을 <보기>에서 고른 것은?



* A~D 이외의 인종(민족)은 표시하지 않음.

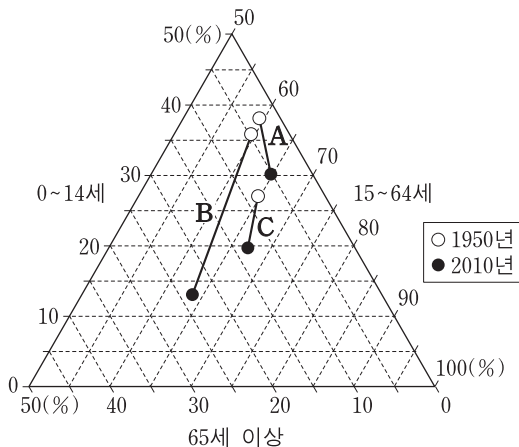
〈 보 기 〉

- ㉠. A의 조상들은 잉카 및 아스테카 문명을 발달시켰다.
- ㉡. B는 아프리카계 흑인으로 과거 플랜테이션을 위해 강제로 이주되었다.
- ㉢. C는 유럽계 백인으로 주로 가톨릭교를 믿고 있다.
- ㉣. D는 아메리카 원주민, 유럽계 백인, 아프리카계 흑인 사이의 혼혈이다.

- | | | | | |
|--------|--------|--------|--------|--------|
| ① ㉠, ㉡ | ② ㉠, ㉢ | ③ ㉡, ㉢ | ④ ㉡, ㉣ | ⑤ ㉢, ㉣ |
|--------|--------|--------|--------|--------|

9. 다음 (가), (나)에 해당하는 국가를 그래프의 A~C에서 고른 것은? [3점]

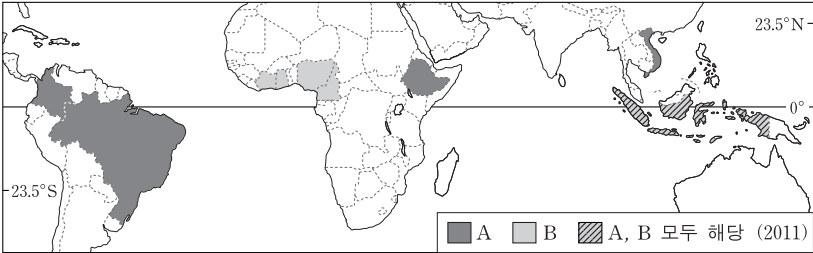
- (가) 이 국가는 1952년 국가적 차원의 산아 제한 정책을 실시하였다. 그러나 여전히 높은 출산율이 유지되고 있어 가까운 미래에 인구 최대국이 될 가능성이 높다.
- (나) 이 국가는 최근 인구 고령화 수준이 세계 최고로, 2006년 이후 노년층 인구 비율이 20%를 넘어섰다. 이로 인해 노년 인구 부양비가 높아지고 있다.



〈연령 계층별 인구 구성비 변화〉

- | | | | | | |
|-----|-----|-----|-----|-----|-----|
| (가) | (나) | (가) | (나) | (가) | (나) |
| ① A | B | ② A | C | ③ B | A |
| ④ B | C | ⑤ C | B | | |

10. 지도는 A와 B 작물의 생산량 상위 5개국을 나타낸 것이다. 이에 대한 설명으로 옳은 것은? [3점]

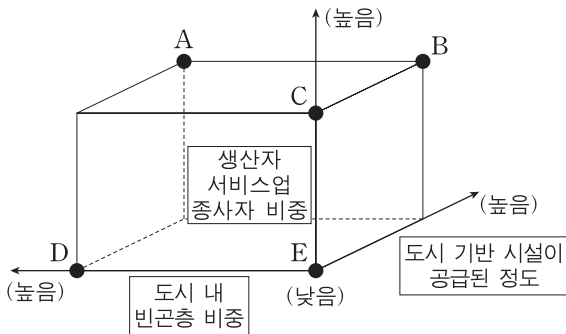


- ① A는 바이오 에너지의 생산에 주로 이용된다.
- ② B는 건기와 우기가 뚜렷한 기후에서 주로 생산된다.
- ③ A와 B는 단위 면적당 생산량이 많아 인구 부양력이 높다.
- ④ A와 B는 생산지와 소비지의 불일치로 국제 이동량이 많다.
- ⑤ A와 B는 대규모 농장에서 재배되어 노동력 의존도가 낮다.

11. 다음 글에서 설명하는 (가) 도시에 대한 (나) 도시의 상대적 특성을 그림의 A~E에서 고른 것은? [3점]

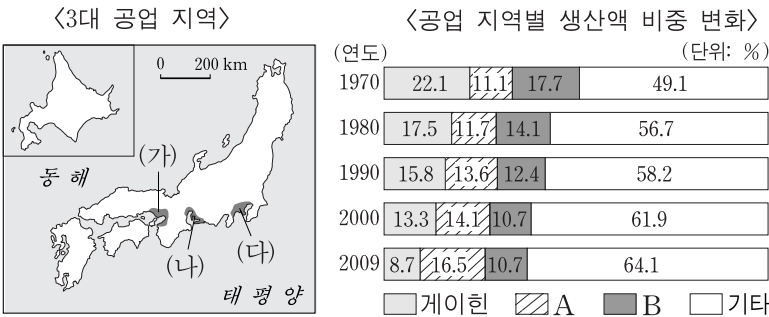
○ (가) 도시는 남부 아시아에 위치한 어느 국가의 수도였다. 도심은 인구 밀도가 높고, 상업과 소규모 산업 활동이 혼재하는 곳이다. 도시의 외곽 지역에는 일자리를 찾아 이주한 사람들의 주거지가 나타나는데, 이곳의 주거 환경은 매우 열악하다. 또한 정치적, 민족적 갈등으로 인한 혼란이 도시 곳곳에서 발생하기도 한다.

○ (나) 도시의 도심은 초고층 빌딩들이 뽕뽕한 숲을 이루고 있으며, 재즈와 블루스의 선율이 도시의 분위기를 부드럽게 하고 있다. 그러나 일부 지역은 과거에 이탈리아 갱들의 근거지로서 흑인과 백인들의 갈등이 많이 일어났고, 게토 및 슬럼가는 지금도 관광객들에게 위험한 장소이다.



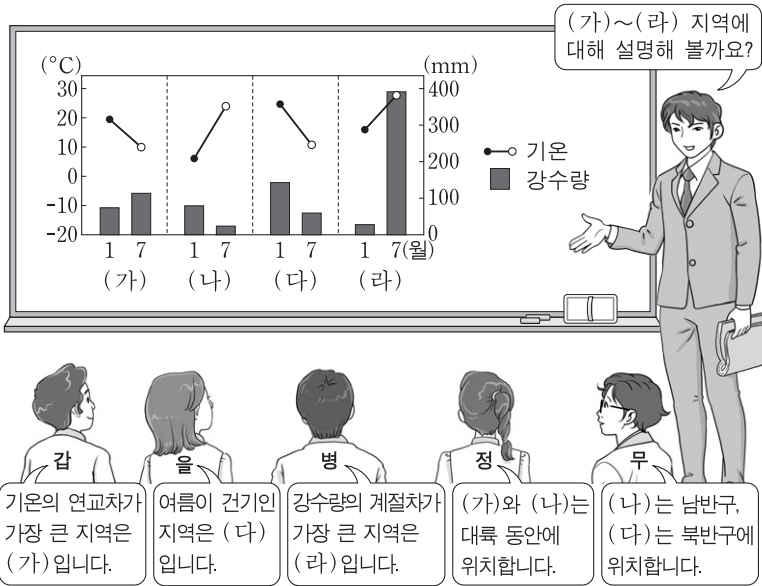
- ① A ② B ③ C ④ D ⑤ E

12. 다음 자료는 일본의 공업 지역에 대한 것이다. (가)~(다) 공업 지역에 대한 설명으로 옳은 것은?



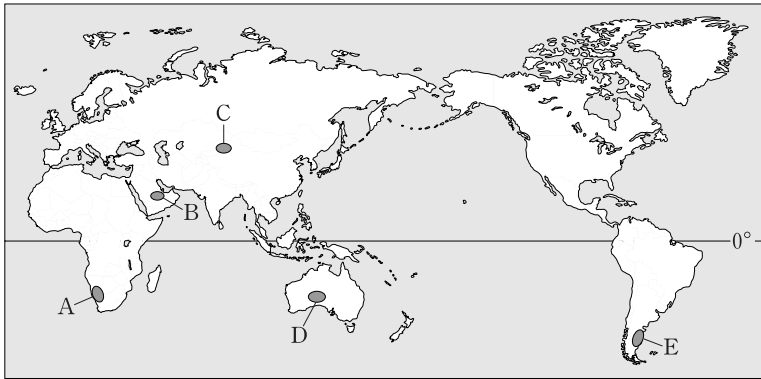
- ① 자동차 및 관련 부품 생산액 비중이 가장 높은 곳은 (가)이다.
- ② 최근 일본 정부는 내륙 지역에서 (나)의 임해 지역으로 첨단 산업 생산 공장의 이전을 유도하고 있다.
- ③ (나)는 최근에 집적의 불이익이 심화되고 있으며, 생산액 비중은 B이다.
- ④ (다)는 석탄 산지를 중심으로 발달하였으며, 생산액 비중은 A이다.
- ⑤ (가)~(다)는 원료 수입과 제품 수출에 이점을 가지고 있다.

13. 다음은 온대 기후 지역에 대한 수업 장면이다. 교사의 질문에 옳게 대답한 학생을 고른 것은?



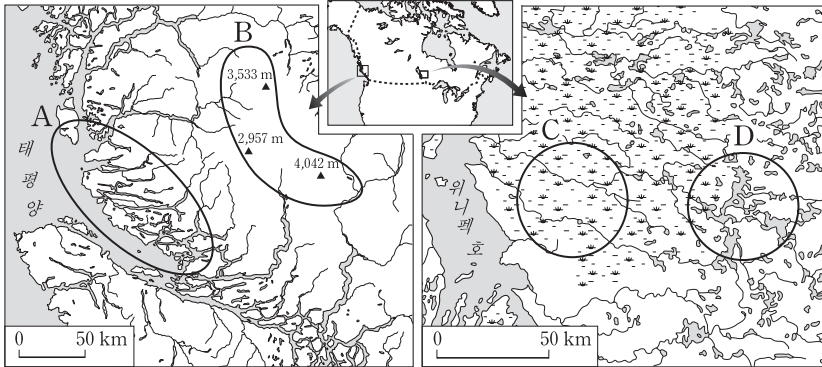
- ① 갑 ② 을 ③ 병 ④ 정 ⑤ 무

14. 지도의 A~E 지역에 나타나는 사막의 주된 형성 원인으로 가장 적절한 것은? [3점]



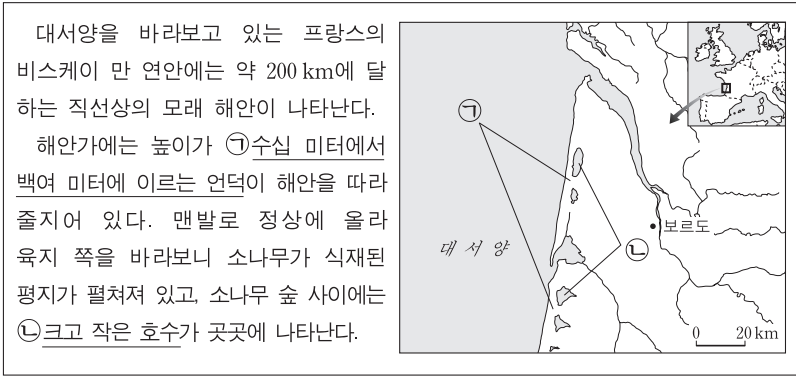
- ① A - 해발 고도가 높아 수분의 공급이 어렵기 때문이다.
- ② B - 바다로부터 멀리 떨어져 있기 때문이다.
- ③ C - 아열대 고압대에 해당되기 때문이다.
- ④ D - 한류가 흘러 대기가 안정적이기 때문이다.
- ⑤ E - 주변에 높은 산지가 있어 탁월풍의 바람 그늘이 되기 때문이다.

15. 지도의 A~D에 대한 설명으로 옳은 것은?



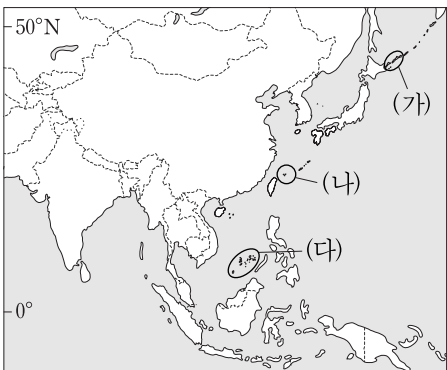
- ① A는 전형적인 리아스(식) 해안이다.
- ② B의 산지 정상부에서는 모레인이 활발히 형성되고 있다.
- ③ C의 토양은 비옥하고 배수가 양호하여 농경에 유리하다.
- ④ D의 호수는 대부분 영구 동토층이 녹아 형성된 것이다.
- ⑤ A~D 지역 모두 최후 빙기에 빙하로 덮인 적이 있다.

16. 다음 자료의 밑줄 친 ㉠, ㉡ 지형에 대한 설명으로 옳은 것은? [3점]



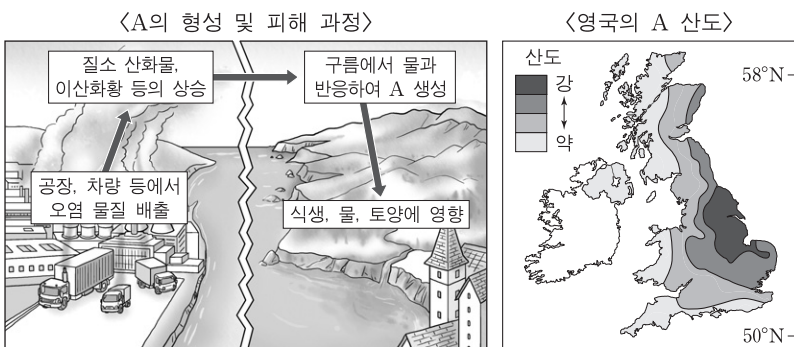
- ① ㉠은 파랑과 연안류에 의해 형성되었다.
- ② ㉠의 구성 물질은 빙하에 의해 공급되었다.
- ③ ㉡은 수심이 얕고, 염분의 농도가 바닷물보다 높다.
- ④ ㉡은 만입부의 입구를 사주가 가로막아 형성되었다.
- ⑤ ㉠과 ㉡ 모두 퇴적보다 침식이 활발한 해안에서 잘 발달한다.

17. 지도의 (가)~(다) 지역에서 나타나는 분쟁에 대한 설명으로 옳은 것은? [3점]



- ① (가)는 제2차 세계 대전 이후 미국이 실효적 지배를 하고 있다.
- ② (나)에서는 생활용수 부족이 분쟁의 가장 큰 원인이다.
- ③ (다)에서는 관련 국가 간 종교 차이가 분쟁의 가장 큰 원인이다.
- ④ (가), (나) 각 지역의 분쟁은 당사국 간 원활한 협상을 통해 해결되고 있다.
- ⑤ (나), (다) 모두 분쟁 당사국에 중국이 포함되어 있다.

18. 다음 자료에 제시된 A에 대한 적절한 설명을 <보기>에서 고른 것은?

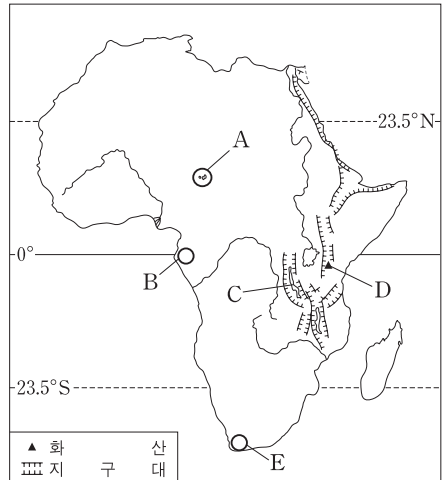


— < 보 기 > —

- ㄱ. A는 건축물이나 문화 유적을 부식시키기도 한다.
- ㄴ. A 문제는 화석 연료의 과도한 사용이 주요 원인이다.
- ㄷ. 영국에서 A를 유발하는 오염 물질은 주로 동쪽에서 서쪽으로 이동한다.
- ㄹ. 생물종 다양성을 높이는 것이 A 문제의 가장 효과적인 방지 대책이다.

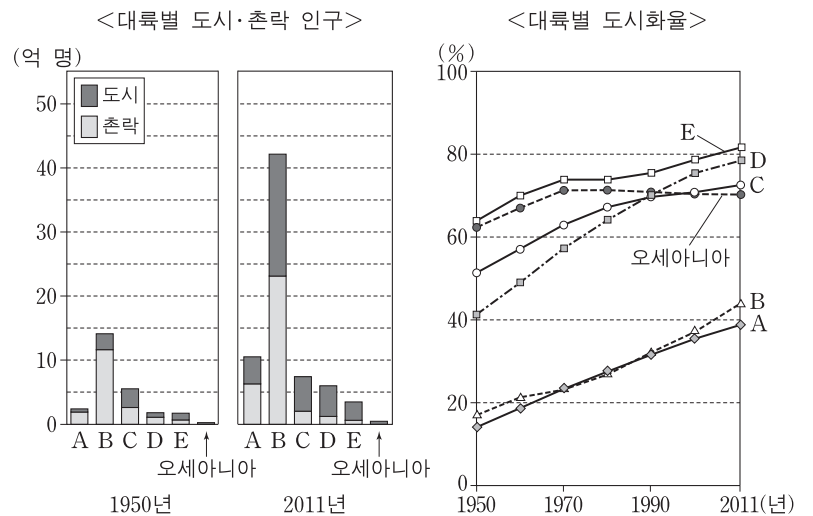
- ① ㄱ, ㄴ ② ㄱ, ㄷ ③ ㄴ, ㄷ ④ ㄴ, ㄹ ⑤ ㄷ, ㄹ

19. 지도는 ○○ 학생이 올해 8월 여름 방학을 이용해 탐방할 지역을 표시한 것이다. 탐방 중에 A~E 지역에서 관찰할 수 있는 경관으로 가장 적절한 것은?



- ① A - 건기를 맞아 우기에 비해 수위가 낮아진 호수
- ② B - 물을 찾아 광활한 초원을 이동하는 수많은 야생 동물
- ③ C - 지각 판이 분리되는 지역에 형성된 호수
- ④ D - 고기 조산대에 속하는 아프리카 최고봉
- ⑤ E - 뜨거운 여름 햇살을 받으며 익어 가는 포도

20. 그래프의 A~E 대륙에 대한 설명으로 옳은 것은? (단, 아메리카는 앵글로아메리카와 라틴아메리카로 구분함.)



- ① A 대륙은 가장 먼저 산업화되었으며, 현대 문명과 중세 크리스티교 경관이 어우러져 있는 도시가 나타난다.
- ② B 대륙에는 국제 연합 본부를 비롯한 여러 국제기구가 위치한 대도시가 있다.
- ③ C 대륙은 전 세계 대륙 면적의 약 1/4을 차지하며, 도시 거주 인구가 가장 많다.
- ④ D 대륙에는 원주민과 이주민의 문화가 혼합된 경관이 나타나며, 크레올 문화를 경험할 수 있는 도시가 있다.
- ⑤ E 대륙의 국가들은 20세기 중반 이후 대부분 독립하였지만, 최근까지도 기아 문제 및 종족 분쟁 등을 겪고 있다.

* 확인 사항

○ 답안지의 해당란에 필요한 내용을 정확히 기입(표기)했는지 확인 하시오.