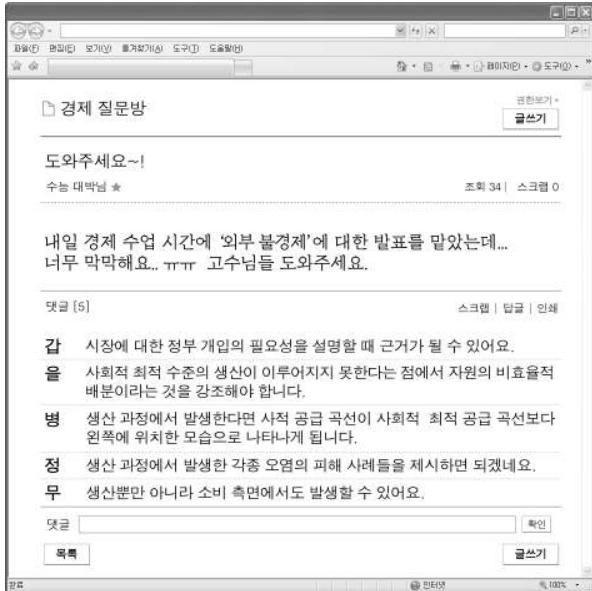


6. 그림은 인터넷 카페의 경제 질문방에 올라온 내용이다. 질문에 대해 잘못된 답변을 한 사람은?



- ① 가 ② 을 ③ 병 ④ 정 ⑤ 무

7. 표는 갑국과 을국 전체 가구의 분위별 소득 누적 점유율을 나타낸 것이다. 이에 대한 옳은 분석을 <보기>에서 고른 것은?

[3점]

(단위 : %)

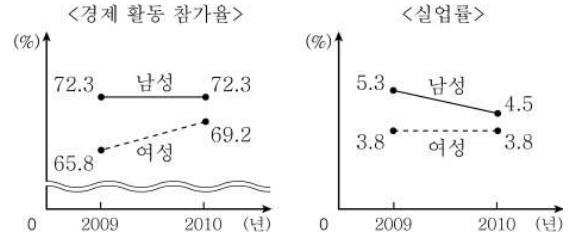
구분	갑국	을국
1분위	10	12
2분위	23	24
3분위	42	45
4분위	71	71
5분위	100	100

* 모든 분위의 가구별 구성원 수는 동일하다.

- < 보 기 >
- ㄱ. 갑국의 상위 40%에 속한 가구는 소득이 모두 같다.
 - ㄴ. 을국보다 갑국의 10분위 분배율이 높게 나타난다.
 - ㄷ. 4분위까지의 누적 소득은 갑국과 을국이 동일하다.
 - ㄹ. 양국의 로렌츠 곡선은 하위 40% 구간에서 교차하지 않는다.

- ① ㄱ, ㄴ ② ㄱ, ㄹ ③ ㄴ, ㄷ ④ ㄴ, ㄹ ⑤ ㄷ, ㄹ

8. 그림에 대한 분석으로 옳지 않은 것은? (단, 이 기간 동안 남성과 여성의 15세 이상 인구는 변동이 없다.) [3점]



- ① 전체 취업자 수는 증가하였다.
- ② 여성 실업자 수는 감소하였다.
- ③ 남녀 간 취업률 격차가 줄어들었다.
- ④ 여성 15세 이상 인구 중 취업자의 비율은 증가하였다.
- ⑤ 비경제 활동 인구 중 남성이 차지하는 비율은 증가하였다.

9. 다음은 갑국에서 재정 적자 해소를 위해 제기된 방안들이다. 이에 대한 옳은 설명을 <보기>에서 고른 것은?

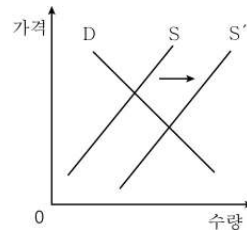
- 1안 : 소득세의 세율을 평균 10% 인상하되, 소득에 비례하여 세율을 차등 적용한다.
- 2안 : 국민들이 필수적으로 구입하는 상품에 적용되는 소비세의 세율을 10% 인상한다.

< 보 기 >

- ㄱ. 1안은 소득 재분배 효과가 있다.
- ㄴ. 2안은 물가 상승을 초래할 수 있다.
- ㄷ. 1안은 조세 징수의 편의성, 2안은 담세 능력을 증시한다.
- ㄹ. 1안, 2안 모두 비례세율이 적용된다.

- ① ㄱ, ㄴ ② ㄱ, ㄷ ③ ㄴ, ㄷ ④ ㄴ, ㄹ ⑤ ㄷ, ㄹ

10. 그림과 같은 변화에 해당하는 사례를 <보기>에서 고른 것은?

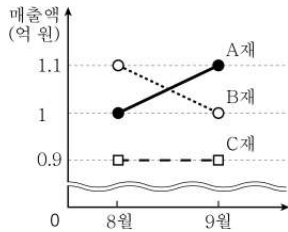


< 보 기 >

- ㄱ. 채소 시장 : 시설 재배의 성공으로 시장에 들어오는 채소량이 늘고 있다.
- ㄴ. 주식 시장 : 경기 불황 전망이 나오자 투자자들의 주식 매도 주문이 늘고 있다.
- ㄷ. 노동 시장 : 임금 상승에 따라 구직자들의 고용센터 취업 문의가 꾸준히 늘고 있다.
- ㄹ. 외환 시장 : 은행 창구는 휴가철을 맞아 해외 여행을 위해 환전하는 사람들로 북적인다.

- ① ㄱ, ㄴ ② ㄱ, ㄷ ③ ㄴ, ㄷ ④ ㄴ, ㄹ ⑤ ㄷ, ㄹ

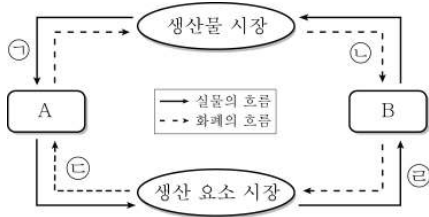
11. 그림은 제과업체인 갑이 9월에 A~C재의 가격을 10% 인상했을 때의 매출액 변동을 나타낸 것이다. 이에 대한 옳은 설명을 <보기>에서 고른 것은? [3점]



< 보기 >
 ㄱ. A재의 판매량은 변함이 없다.
 ㄴ. B재의 수요 곡선은 우하향의 형태로 나타나지 않는다.
 ㄷ. C재에 대한 수요는 가격에 대해 완전 비탄력적이다.
 ㄹ. 수요의 가격 탄력성 크기는 B재 > C재 > A재 순이다.

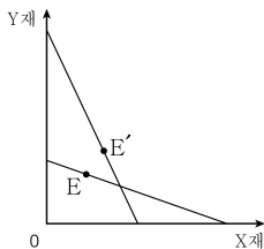
- ① ㄱ, ㄴ ② ㄱ, ㄹ ③ ㄴ, ㄷ ④ ㄴ, ㄹ ⑤ ㄷ, ㄹ

12. 그림은 민간 경제의 흐름을 나타낸 것이다. 이에 대한 설명으로 옳지 않은 것은?



- ① ㉠에는 친구에게 선물을 보내기 위해 택배를 이용하는 것이 포함된다.
 ② ㉡에는 은행의 계좌 이체 수수료 수입이 포함된다.
 ③ ㉢에는 인터넷 쇼핑몰 운영자의 의류 판매 수입이 포함된다.
 ④ ㉣에는 홈페이지 구축을 위한 웹디자이너 채용이 포함된다.
 ⑤ 생산 요소 시장에서 A, 생산물 시장에서 B는 공급자이다.

13. 그림은 갑이 동일한 소득으로 소비할 수 있는 X재와 Y재의 조합을 나타낸 것이다. 두 재화의 가격 변동에 따라 갑의 소비 조합이 E에서 E'로 변화되었다고 할 때, 이에 대한 분석으로 옳은 것은? [3점]



- ① X재의 가격이 하락하였다.
 ② Y재는 수요 법칙이 적용되지 않는다.
 ③ Y재 소비에 따른 비용이 편익보다 커졌다.
 ④ X재와 Y재는 대체재 관계에 있다.
 ⑤ X재와 Y재의 소비에 따른 편익의 합이 증가하였다.

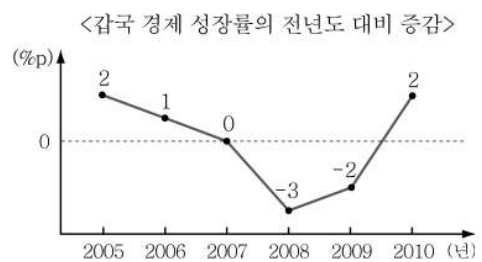
14. 표는 갑국의 GDP와 GNP를 항목별로 분류한 것이다. 이에 대한 분석으로 옳지 않은 것은?

(단위: 억 달러)

구분	GDP		GNP	
	㉠	㉡	갑국 국민의 국내 소득	갑국 국민의 해외 소득
임금	㉢	㉣	90	
이윤	50	㉤	65	
이자	20	70	10	
지대	10	80	15	

- ① 갑국에서 활동하는 외국인 야구 선수의 연봉이 인상되면 ㉠이 늘어난다.
 ② ㉡이 100억 달러보다 많으면 GDP가 GNP보다 크다.
 ③ 갑국 국민이 국내에 설립된 외국계 기업에 취업하여 받는 임금은 ㉣에 포함된다.
 ④ 갑국 기업이 수입품을 국내에 팔아 얻는 이윤은 ㉤에 포함된다.
 ⑤ 갑국에서는 150억 달러의 재산 소득이 발생하였다.

15. 그림에 대한 옳은 분석을 <보기>에서 고른 것은? [3점]



- * 2004년 갑국의 경제 성장률은 4%이다.
 * %p(% 포인트)는 %의 차를 측정하는 단위이다. 예를 들어, 경제 성장률이 5%에서 4%로 바뀌면 경제 성장률이 1%p 낮아진 것이고 -1%p로 표시된다.

< 보기 >
 ㄱ. 2006년 경제 성장률은 3%이다.
 ㄴ. 실질 GDP 증가분은 2006년에 비해 2007년이 크다.
 ㄷ. 전년도에 비해 생산 규모가 가장 크게 축소된 해는 2008년이다.
 ㄹ. 위 기간 동안 경제는 지속적으로 성장하였다.

- ① ㄱ, ㄴ ② ㄱ, ㄷ ③ ㄴ, ㄷ ④ ㄴ, ㄹ ⑤ ㄷ, ㄹ

16 표는 두 재화만을 생산하고 있는 갑국의 경제 정보를 나타낸 것이다. 이에 대한 옳은 분석을 <보기>에서 고른 것은? [3점]

(단위 : 달러, 대)

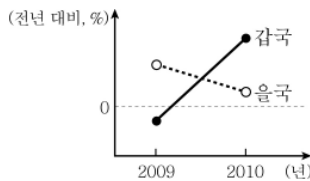
구분	기계		자전거		GDP 디플레이터
	가격	수량	가격	수량	
2009년	20	10	40	20	100
2010년	30	20	(㉠)	40	130

* GDP 디플레이터 = (명목 GDP / 실질 GDP) × 100

< 보 기 >
 가. ㉠에 들어갈 값은 50이다.
 나. 2010년의 경제 성장률은 50%이다.
 다. 2009년에 비해 2010년의 화폐 가치는 하락하였다.
 리. 2009년에 비해 2010년의 실질 GDP에서 기계 생산이 차지하는 비율은 증가하였다.

- ① 가, 나 ② 가, 다 ③ 나, 리 ④ 나, 리 ⑤ 다, 리

17 그림은 미국 달러화 대비 갑국, 을국 통화 가치의 절상률 변화를 나타낸 것이다. 이를 바탕으로 전년도와 비교한 분석이 옳은 것은? (단, 무역 결제 수단은 미국 달러화이다.) [3점]



- ① 2009년에는 갑국의 달러 표시 외채의 상황 부담이 감소하였다.
 ② 2009년에는 을국에 수입되는 갑국 상품의 가격 경쟁력이 낮아졌다.
 ③ 2010년에는 미국으로 여행하는 갑국 관광객의 부담이 증가하였다.
 ④ 2010년에는 을국 상품에 대한 미국 상품의 가격 경쟁력이 약화되었다.
 ⑤ 2010년에는 갑국에서 생산된 부품을 수입하여 사용하는 을국 기업의 생산비가 증가하였다.

18 그림에 나타난 경제 문제를 해결하기 위한 정책을 <보기>에서 고른 것은?

2010년 국내 경제 동향

- 소비 심리 위축으로 민간 소비가 전년도보다 15% 감소
- 기업의 채산성 악화로 민간 투자가 전년도보다 12% 감소

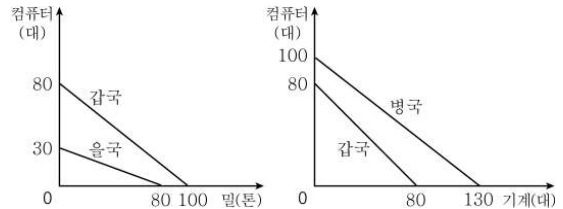
< 보 기 >
 가. 재할인을 인상 나. 국·공채 매입
 다. 정부 지출 축소 리. 지급 준비율 인하

- ① 가, 나 ② 가, 리 ③ 나, 다 ④ 나, 리 ⑤ 다, 리

[19~20] 다음 자료를 읽고 물음에 답하십시오.

<자료1>

갑국, 을국, 병국 모두 투입 가능한 생산 요소의 양이 같다고 할 때, 갑국의 생산 가능 곡선을 을국, 병국과 비교하여 나타내면 다음과 같다.



<자료2>

<자료1>에 따라 갑국은 을국, 병국과 무역을 시작하였다. 갑국은 비교 우위 상품만 생산하여 자국 소비량을 제외하고 남는 양의 절반은 을국의 비교 우위 상품과, 나머지 절반은 병국의 비교 우위 상품과 교환하였다. 갑국의 무역 전후 각 상품 소비량은 다음과 같다.

(단위 : 대, 톤)

구분	무역 이전	무역 이후
컴퓨터	20	30
밀	50	50
기계	20	30

19 <자료1>에 대한 분석으로 옳지 않은 것은?

- ① 갑국은 을국에 대해 컴퓨터 생산에 절대 우위가 있다.
 ② 을국은 갑국에 대해 밀 생산에 비교 우위가 있다.
 ③ 병국은 갑국에 대해 기계 생산에 비교 우위가 있다.
 ④ 병국은 갑국에 비해 기계의 수로 표시한 컴퓨터 1대 생산의 기회 비용이 크다.
 ⑤ 갑국에서 컴퓨터 수로 표시한 각 상품 1단위 생산의 기회 비용은 밀이 기계보다 크다.

20 <자료1>, <자료2>를 바탕으로 갑국의 무역에 대한 옳은 분석만을 <보기>에서 있는 대로 고른 것은? [3점]

< 보 기 >
 가. 갑국은 을국과의 무역에서 이익을 얻지 못했다.
 나. 무역의 결과 갑국에서는 컴퓨터 10대와 기계 10대의 이익이 발생하였다.
 다. 갑국과 병국의 무역은 컴퓨터 5대당 기계 6대의 교환 비율로 이루어졌다.
 리. 무역 전에 비해 무역 후 갑국에서 기계의 수로 표시한 밀 1톤의 기회 비용은 감소하였다.

- ① 가, 나 ② 가, 리 ③ 나, 다
 ④ 가, 다, 리 ⑤ 나, 다, 리

※ 확인 사항
 ○ 답안지의 해당란에 필요한 내용을 정확히 기입(표기)했는지 확인하십시오.