

# 사회탐구 영역(사회·문화)

성명  수험번호           3

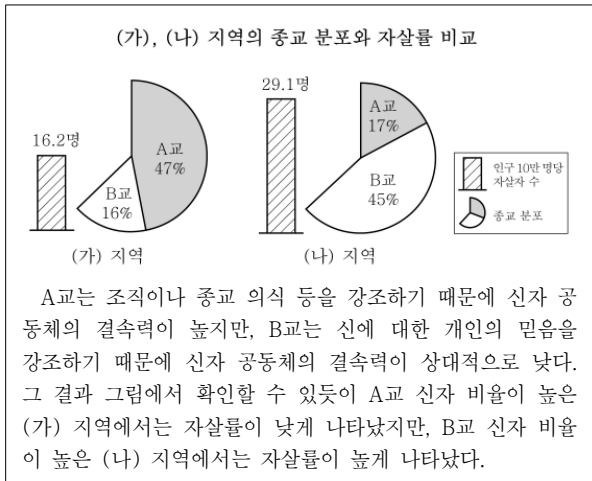
1. 다음은 제4차 국토 종합 계획의 수정 내용을 정리한 것이다. 이에 대한 옳은 분석을 <보기>에서 고른 것은?

- 전국을 7개 권역으로 나누어 권역별로 선도·전략 산업을 육성하고, 인프라를 확충하여 지역 발전을 추구한다.
- 한반도의 지정학적 이점을 살려 동·서·남 해안권 등을 벨트화하여 대륙과 해양으로 진출하는 전략적 성장 축으로 집중 육성한다.
- 도시 간 광역 교통망 확충, 첨단 산업 및 고차 서비스업 유치, 도시권 고유 문화 창출 등을 추진하고, 권역별로 거점 도시권을 육성한다.

- < 보 기 >
- ㄱ. 지방 자치 단체가 계획 수립의 주체였다.
  - ㄴ. 권역 내에서 집적 이익의 확산을 기대하고 있다.
  - ㄷ. 효율성 제고와 형평성 실현을 상충되는 과제로 보았다.
  - ㄹ. 광역화·특성화를 통해서 지역 경쟁력을 강화하려 하였다.

- ① ㄱ, ㄴ    ② ㄱ, ㄷ    ③ ㄴ, ㄷ    ④ ㄴ, ㄹ    ⑤ ㄷ, ㄹ

2. 다음의 연구 결과는 개인과 사회의 관계를 보는 특정 관점을 설명하기 위해 제시된 자료이다. 이 관점에 부합하는 진술로 옳은 것은?



- ① 사회 구성원들은 자유 의지에 따라 행동한다.
- ② 개인은 객관적 상황을 주관적으로 정의하여 행동한다.
- ③ 사회는 개인의 목표를 증진시켜 주는 도구에 불과하다.
- ④ 사회 체계의 각 구성 요소들은 유기적인 관계를 유지한다.
- ⑤ 사회를 떠난 개인은 있을 수 있어도 개인을 떠난 사회는 있을 수 없다.

[3~4] 다음은 어떤 연구 논문의 서론 부분이다. 물음에 답하시오.

본 연구의 목표는 사이버 공간에서 ‘도움 행동’을 하는 원인이 무엇인지를 파악하는 것이다. 이를 위해 먼저 선행 연구를 검토한 후, 사이버 공간에서 타인에게 지식 정보를 활발하게 제공하는 사람들이 그러한 도움 행동을 하는 이유가 무엇인지 심층적으로 이해하고자 했다. 이 과정에서 수집된 정보를 기초로 질문 문항들을 개발하여 사이버 공간에서 도움 행동을 주는 네티즌을 대상으로 온라인 조사를 실시하였다. 그리고 이를 분석하여 도움 행동의 원인, 도움 행동의 전이 및 확산 과정 등에 관한 포괄적이고 일반화된 결론을 도출하고자 하였다. 연구 단계를 나타내면 아래와 같다.

1단계	(가)를 통한 선행 연구 검토	<ul style="list-style-type: none"> <li>• 사이버 공간의 특성</li> <li>• 도움 행동의 원인</li> </ul>
2단계	(나)를 통한 자료 수집	<ul style="list-style-type: none"> <li>• 조사 대상자 확정</li> <li>• 도움 행동에 대한 조사</li> </ul>
3단계	1차 결과 분석 및 질문지 개발	<ul style="list-style-type: none"> <li>• 조사 결과 심층 분석</li> <li>• 질문지 개발</li> </ul>
4단계	(다)를 통한 자료 수집	<ul style="list-style-type: none"> <li>• 설문 조사 대상자 선정</li> <li>• 설문 조사 실시</li> </ul>
5단계	결과 도출	<ul style="list-style-type: none"> <li>• 종합 결과 분석</li> <li>• 요약 및 결론</li> </ul>

3. 위 연구에 대한 분석으로 옳은 것은? [3점]

- ① 귀납적 연구는 진행되지 않았다.
- ② 인과 관계를 찾는 연구는 아니다.
- ③ 질적 연구와 양적 연구를 병행하였다.
- ④ 방법론적 이원론에 입각하여 일반화를 시도하였다.
- ⑤ 사이버 공간에서 활동하는 모든 사람들이 모집단이다.

4. 위 (가)~(다)는 자료 수집 방법이다. 이에 대한 설명으로 옳은 것은?

- ① (가)를 통해 수집된 것은 1차 자료이다.
- ② (나)는 비언어적인 방법을 활용한다.
- ③ (다)는 주관적 가치 개입의 가능성이 크다.
- ④ (나)는 (가)보다 시간적 제약을 덜 받는다.
- ⑤ (다)는 (나)보다 구조화된 도구를 사용한다.

5. 그림의 ㉠ ~ ㉢에 대한 설명으로 옳지 않은 것은?



㉠ ◇◇시청이 개최한 다문화 음식 축제에서  
㉡ ▽▽대학교 학생 동아리들의 활동이 빛났습니다. 특히 봉사 동아리 ㉢ '올타리'는 장애우들과 함께 행사에 참여하여 많은 사람들에게 감동을 주었으며, ㉣ ▽▽대학교 총동창회에서도 행사 참여에 필요한 물품을 지원하였습니다.

- ① ㉠과 ㉡은 과업 지향적인 조직이다.
- ② ㉢의 회원에게 ㉣은 내집단이다.
- ③ ㉣은 ㉡을 매개로 조직된 이의 사회이다.
- ④ ㉢과 달리 ㉣은 비공식 조직이다.
- ⑤ ㉠, ㉡, ㉣은 업무 수행의 절차, 행위 규범 등을 명시적으로 규정한다.

6. 다음은 어떤 사회 복지 기관을 소개한 글이다. 이 기관의 활동에 대한 설명으로 옳은 것은?

- □□시로부터 민간 기관이 그 운영을 위탁받아 고령자 재취업을 목표로 활동하고 있다.
- 실버 취업 박람회를 개최하여 고령자 재취업에 관한 사회적 인식 개선에 중요한 역할을 하고 있다.
- 노인 취업 상담과 알선, 구인 업체 개발, 직종별 전문 교육 등의 체계를 갖추어 고령자 재취업을 돕고 있다.

- ① 상호 부조의 성격이 강하다.
- ② 생산적 복지 실현에 기여한다.
- ③ 소득 재분배 효과가 매우 크다.
- ④ 복지병을 유발할 가능성이 크다.
- ⑤ 국민 기초 생활 보장법에 근거를 두고 있다.

7. 표는 A, B 국의 계층별 인구 비율 변화를 나타낸 것이다. 이 변화에 대한 분석으로 옳은 것은? [3점]

(단위 : %)

국가 연도	A 국		B 국	
	1970	2010	1970	2010
상층	14	22	18	16
중층	35	16	49	34
하층	51	62	33	50

- ① A 국의 계층 구조는 폐쇄적으로 변화되었다.
- ② B 국에서는 하강 이동보다 상승 이동이 많았다.
- ③ A 국과 달리 B 국의 상층 인구 수는 감소하였다.
- ④ A 국보다 B 국에서 계층 간 양극화가 심화되었다.
- ⑤ A, B 국 모두 사회 불안을 조래하는 방향으로 변화되었다.

8. 다음은 청소년 비행과 관련된 대화이다. 갑 ~ 병에 대한 설명으로 옳은 것은? [3점]

갑 : 청소년 비행은 구조적 빈곤에서 헤어날 수 없는 청소년들의 반항이라 할 수 있어요.  
을 : 가정이 제 역할을 하지 못해 청소년들의 가솔이 늘어나고 있어요.  
병 : '문제 청소년'이라는 주변의 시선과 평가를 내면화하면서 비행에 빠지게 되지요.

- ① 갑은 교육을 통해 청소년 비행을 예방할 수 있다고 본다.
- ② 을은 문제 해결을 위해 사회 체제의 근본적인 개혁을 중시할 것이다.
- ③ 병은 사회 문제를 규정하는 객관적 기준이 없다고 본다.
- ④ 갑과 달리 을은 미시적 관점에서 청소년 비행에 접근하고 있다.
- ⑤ 갑과 병은 모두 청소년 비행의 책임을 개인에게서 찾는다.

9. 다음 사례를 통해 설명하기에 적합한 내용만을 <보기>에서 있는 대로 고른 것은? [3점]

식민지 행정관은 식민지에는 상속 등에 관한 법률이 없다고 보고 본국의 민법을 도입했다. 선진 법률이 있으면 원주민 간 분쟁이나 원주민과 백인 간 법률 문제를 쉽게 해결할 수 있다고 여겼던 것이다. 그러나 결과는 오히려 나빠졌다. 도입된 법률이 현지의 풍습, 친족 관계 등을 고려하지 못했기 때문이다. 당혹한 본국 정부는 학자들을 현지에 파견하여 조사하게 하였으며, 그 결과 분쟁을 해결하는 데 현지의 문화가 더욱 적합하다는 연구 결과가 나왔다.

< 보 기 >

- ㄱ. 제도 문화의 기능                      ㄴ. 문화 복고 운동의 의미
- ㄷ. 총체론적 관점의 필요성            ㄹ. 자문화 중심주의의 문제점

- ① ㄱ, ㄴ                                      ② ㄱ, ㄹ                                      ③ ㄴ, ㄷ
- ④ ㄱ, ㄷ, ㄹ                                ⑤ ㄴ, ㄷ, ㄹ

10. 다음 글을 근거로 가상 공간의 기능을 옳게 추론한 것은?

가상 공간에서 사람들은 가상의 아바타를 통해 성별과 연령은 물론 머리색, 키, 얼굴 생김새 등을 변화시킨다. 심지어 직업과 계층, 교육 수준, 자신의 성격이나 취향, 가치관까지도 얼마든지 새롭게 창조해 낸다. 이렇게 창출된 자아는 실제 세계에서 경험하지 못하던 세계를 경험하고 실험하게 해준다. 한 예로 남성들이 아바타의 성(性)을 바꾸는 것은 자신이 여성을 대하는 태도에 대해 다시 한 번 생각해 보도록 하는 계기가 되기도 한다.

- ① 면대면 접촉을 확산시킨다.
- ② 타인 지향적 인간을 만들어낸다.
- ③ 사회적 상호 작용의 지속성을 강화시킨다.
- ④ 고정적인 자아 정체성이 형성되도록 한다.
- ⑤ 비공식적 사회화 기관과 같은 역할을 수행한다.



16. 자료와 관련된 진술 중 가장 적절한 것은?



- ① 사회·문화 현상은 보편성을 띤다.
- ② 사회·문화 현상은 인간이 부여한 의미를 내포하고 있다.
- ③ 자연 현상과 사회·문화 현상 간에 인과 관계가 나타나고 있다.
- ④ 갑은 문화 상대주의적 태도를 보이고 있다.
- ⑤ 을의 진술에서는 가족의 본질적 기능이 강조되고 있다.

17. 다음은 각 모둠이 설정한 가설이다. 이를 검증하기 위해 가장 적합한 자료를 수집한 모둠은? [3점]

- 1모둠 : 도시가 농촌보다 인구 이동성이 더 높다.
- 2모둠 : 도시가 농촌보다 개인주의 경향이 더 심하다.
- 3모둠 : 도시보다 농촌 남성들의 사회적 지위가 더 낮다.
- 4모둠 : 도시보다 농촌 지역 주민들의 유대감이 더 강하다.
- 5모둠 : 도시보다 농촌에서 주민들 간 소득 격차가 더 작다.

- ① 1모둠 : 도시와 농촌 주민의 현 주택 평균 거주 기간
- ② 2모둠 : 도시와 농촌의 1인 가구 수
- ③ 3모둠 : 도시와 농촌의 성별 경제 활동 참가율
- ④ 4모둠 : 도시와 농촌 간 자매 결연 건수
- ⑤ 5모둠 : 도시와 농촌 주민의 평균 소득

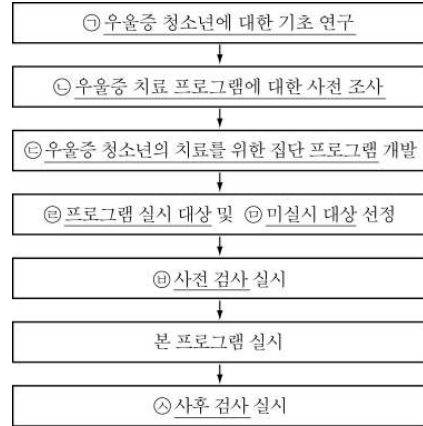
18. 그림은 어떤 경영 컨설팅사가 작성한 (가), (나) 회사에 대한 보고서의 일부이다. 두 회사에 대한 설명으로 옳은 것은?

조사 항목	회사	(가)	(나)
부서 조직의 평균 수명		4.4	0.8
구성원의 업무 처리 정형화 정도		4.3	0.9
조직 내 자원 배분에 관련된 의사결정의 분산도		1.1	4.7

\* 각 항목(5점 배점)의 수치가 클수록 그 정도가 길거나 높음.

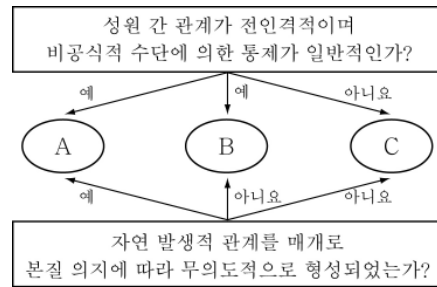
- ① (가)에서는 구성원의 정보 공유 정도가 높을 것이다.
- ② (나)는 규정에 따른 업무 처리를 매우 중시할 것이다.
- ③ (나)보다 (가)에서 조직 내 활동의 예측 가능성이 높을 것이다.
- ④ (나)보다 (가)가 목표를 달성하는 데 효율적일 것이다.
- ⑤ (가), (나) 모두 환경 변화에 유연하게 대처할 수 있을 것이다.

19. 그림은 어떤 연구 과정의 일부를 나타낸 것이다. 이와 관련된 설명으로 옳은 것은? [3점]



- ① 사회 과학만의 고유한 방법에 따른 연구이다.
- ② 연구자와 연구 대상자 간 감정 이입이 필수적이다.
- ③ ㉠과 달리 ㉡에서는 문헌 연구가 이루어지지 않는다.
- ④ ㉢의 시행은 독립 변인, 우울증 정도는 종속 변인이다.
- ⑤ ㉤과 달리 ㉥에게는 ㉥과 ㉦이 모두 실시되지는 않는다.

20. 그림은 두 가지 기준에 따라 사회 집단을 분류한 것이다. 집단 A, B, C에 대한 옳은 설명을 <보기>에서 고른 것은? [3점]



- < 보 기 >
- ㄱ. 원초적 사회화는 A에서 이루어진다.
  - ㄴ. 소규모 동호회는 B에 해당될 수 있다.
  - ㄷ. 비공식적 사회화 기관은 C로 분류된다.
  - ㄹ. 현대 사회에서는 C보다 A, B가 증가하고 있다.

- ① ㄱ, ㄴ
- ② ㄱ, ㄷ
- ③ ㄴ, ㄷ
- ④ ㄴ, ㄹ
- ⑤ ㄷ, ㄹ

※ 확인 사항

○ 답안지의 해당란에 필요한 내용을 정확히 기입(표기)했는지 확인하십시오.