

5. 지도는 삼국 시대에 건립된 비석을 표시한 것이다. (가), (나) 왕에 대한 설명으로 옳은 것은? [3점]



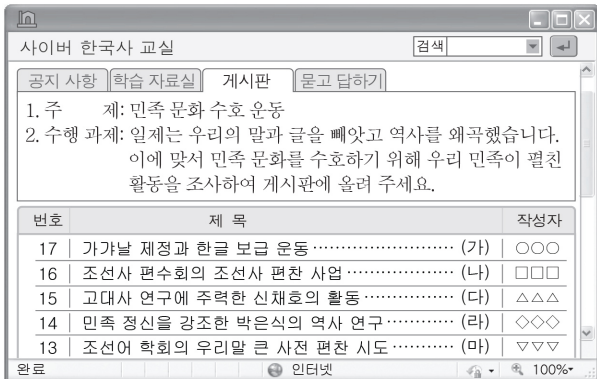
- ① (가) - 화랑도를 국가적인 조직으로 개편하였다.
- ② (가) - 금관가야를 정복하여 영토를 확장하였다.
- ③ (나) - 낙랑을 한반도에서 몰아내었다.
- ④ (나) - 신라에 침입한 왜구를 물리쳤다.
- ⑤ (가), (나) - 천도를 통해 왕권을 강화하였다.

6. 그림의 대화를 통해 알 수 있는 단체에 대한 설명으로 옳은 것은?



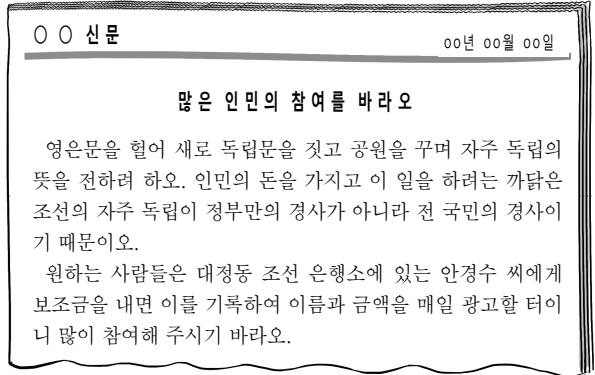
- ① 어린이날을 제정하였다.
- ② 기관지로 근우를 발행하였다.
- ③ 입헌 군주제의 실시를 주장하였다.
- ④ 백정의 지위 향상을 위해 결성되었다.
- ⑤ 기회주의 배격을 기본 강령으로 내세웠다.

7. (가)~(마) 중 학생이 작성한 보고서 제목으로 적절하지 않은 것은? [3점]



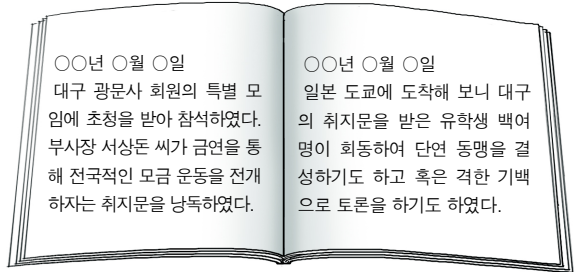
- ① (가) ② (나) ③ (다) ④ (라) ⑤ (마)

8. 자료의 활동을 전개한 단체에 대한 설명으로 옳은 것은?



- ① 만민 공동회를 개최하였다.
- ② 구미 위원부를 설치하였다.
- ③ 대성 학교, 오산 학교를 세웠다.
- ④ 고종 강제 퇴위 반대 운동을 전개하였다.
- ⑤ 조선 총독부에 국권 반환 요구서를 제출하였다.

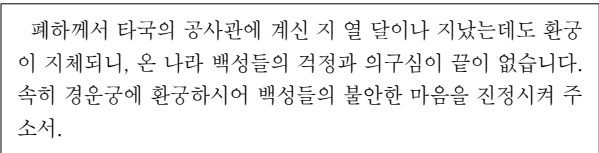
9. 다음 가상 일기를 통해 알 수 있는 민족 운동에 대한 옳은 설명을 <보기>에서 고른 것은? [3점]



- 〈 보기 〉
- ㄱ. 대한매일신보 등 언론사의 지원을 받았다.
 - ㄴ. '내 살림 내 것으로'라는 구호를 내세웠다.
 - ㄷ. 일본이 강요한 차관을 갚기 위해 전개되었다.
 - ㄹ. 조선 총독부의 방해와 탄압으로 실패하였다.

- ① ㄱ, ㄴ ② ㄱ, ㄷ ③ ㄴ, ㄷ
- ④ ㄴ, ㄹ ⑤ ㄷ, ㄹ

10. 다음 상소문이 작성된 시기를 연표에서 고른 것은?



(가)	(나)	(다)	(라)	(마)	
갑신정변	갑오개혁	을미사변	을사조약	정미조약	국권피탈

- ① (가) ② (나) ③ (다) ④ (라) ⑤ (마)

11. 다음은 일제가 발행한 교과서의 일부이다. 이를 통해 알 수 있는 시기에 볼 수 있는 모습으로 적절한 것은? [3점]

육군에서 지원병 제도를 실시하여 조선인들도 국방을 담당할 수 있게 되었고, 이미 전쟁에 나가 용감하게 전사한 이는 야스쿠니 신사에 봉안되어 호국의 신으로 추앙되었다. 또한 조선인에게도 일본식 성씨를 칭할 수 있게 허락되어 내지(內地)와 동일한 가문의 성씨를 붙일 수 있게 되었다.

- 1. 조선 태형령을 집행하는 경찰
2. 낫그릇을 공출당하여 통곡하는 부인
3. 토지 조사 사업을 추진하는 총독부 관리
4. 민립 대학 설립 운동에 성금을 내는 노신사
5. 브나로드 운동에 참여하여 한글을 가르치는 학생

12. 밑줄 친 '이 부대'의 활동으로 옳은 것은? [3점]

수도를 개경으로 다시 옮기면서 방(榜)을 붙여 아직 강화에 남아있는 사람들에게 일정한 기일 내에 모두 고향으로 돌아가라고 명령하였다. 그러나 이 부대의 지휘관 배중손 등은 다른 생각을 가지고 따르지 않았다. 이에 왕이 김지서를 강화로 보내서, 명령에 따르지 않는 군인들의 명단을 작성하게 하고 부대를 해산시키도록 하였다.

- 1. 거란과 협상하여 강동 6주를 확보하였다.
2. 원으로부터 철령 이북의 땅을 수복하였다.
3. 여진족을 물리치고 동북 지방에 9성을 쌓았다.
4. 요동 정벌 명령을 거부하고 위화도에서 회군하였다.
5. 진도와 제주도로 근거지를 옮기며 대몽 항쟁을 전개하였다.

13. 자료는 어느 경제적 구국 운동과 관련된 것이다. 이 운동에 대한 적절한 탐구 활동을 <보기>에서 고른 것은?

손해 배상 청구서
1889년 10월 함경도 관찰사가 내린 금지령으로 인해 우리 일본 상인이 입은 피해에 대해 아래와 같이 조선 정부에 배상을 요구한다.
제1. 조선 관리에게 곡물을 강제 압수당함으로써 초래된 손실금
제2. 매입한 곡물의 유통 지연으로 인한 손실금
제3. 돈을 활용할 수 없어 받지 못하게 된 이자
- 카지야마 신스케 외 40명 -

< 보기 >
ㄱ. 조·일 통상 장정의 규정을 분석한다.
ㄴ. 개항 이후 곡물 가격의 추이를 알아본다.
ㄷ. 화폐 정리 사업이 끼친 영향을 정리한다.
ㄹ. 통리기무아문이 설치된 목적을 조사한다.

- 1. ㄱ, ㄴ 2. ㄱ, ㄷ 3. ㄴ, ㄷ
4. ㄴ, ㄹ 5. ㄷ, ㄹ

14. 자료는 어느 독립군의 활동에 대한 것이다. 이 독립군에 대한 설명으로 옳은 것은? [3점]

임시 정부에 소속된 이 독립군은 미군 전략 정보처(OSS)와 협약을 맺고 50명의 대원을 선발하여 유격전에 필요한 특수 훈련을 끝마쳤다. 대원들은 함경도로부터 남해에 이르기까지 4~5명씩 지구(地區)별 공작반을 편성하고 국내에 잠입하여 파괴·정탐 등의 공작을 통해 일본군을 몰아내는 것을 목표로 하였다.



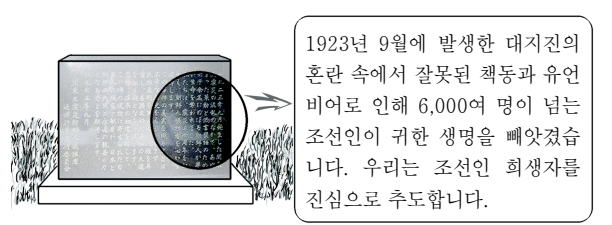
- 1. 홍범도의 지휘 하에 활동하였다.
2. 자유시 참변으로 큰 타격을 입었다.
3. 쌍성보 전투에서 일본군을 격파하였다.
4. 조선 혁명 선언을 활동 지침으로 삼았다.
5. 인도, 미얀마 전선에 연합군의 일원으로 참전하였다.

15. 다음 회고록을 통해 알 수 있는 항일 민족 운동의 영향으로 옳지 않은 것은?

새벽에 손병희를 비롯한 33명의 종교 지도자가 독립을 선언할 것이라는 첩보가 들어왔다. 혹시나 하여 이들 33명의 집을 탐색하였지만 모두 빈 집이라 첩보가 진짜일 수도 있겠다는 걱정을 하였다. ... (중략) ... 그날 정오, 탑골 공원에 모인 수천 명의 학생과 대중이 '독립 만세'를 외쳤고, 무장한 헌병 경찰들은 시위 군중을 어떻게 해야 할지 몰라 손을 쓰지 못했다.
- 조선 총독부 경기도 경찰부장의 회고록 -

- 1. 신흥 강습소가 설립되었다.
2. 중국에서 5·4 운동이 일어났다.
3. 대한민국 임시 정부가 수립되었다.
4. 국외 항일 무장 투쟁이 활성화되었다.
5. 일제가 이른바 문화 통치를 실시하였다.

16. 다음은 어느 지역에서 일어난 사건의 희생자에 대한 추도비이다. 이 지역에서 일어난 사실로 옳은 것은? [3점]



1923년 9월에 발생한 대지진의 혼란 속에서 잘못된 책동과 유언비어로 인해 6,000여 명이 넘는 조선인이 귀한 생명을 빼앗겼습니다. 우리는 조선인 희생자를 진심으로 추도합니다.

- 1. 신한촌이 건설되었다.
2. 중광단이 결성되었다.
3. 이봉창의 의거가 일어났다.
4. 국민 대표 회의가 개최되었다.
5. 대조선 국민군단이 조직되었다.

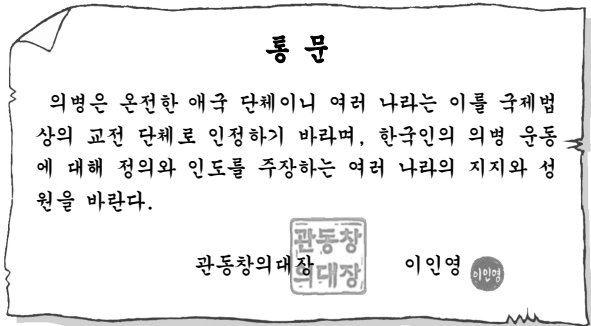
17. 밑줄 친 ‘이것’이 처음 만들어졌던 시기의 과학 기술에 대한 옳은 설명을 <보기>에서 고른 것은?



< 보 기 >
 ㄱ. 세계 최초로 금속 활자를 발명하였다.
 ㄴ. 기기도설을 참고하여 거중기를 만들었다.
 ㄷ. 한양을 기준으로 한 역법서인 칠정산을 만들었다.
 ㄹ. 우리 풍토에 맞는 의학 서적인 향약집성방이 편찬되었다.

- ① ㄱ, ㄴ ② ㄱ, ㄷ ③ ㄴ, ㄷ
 ④ ㄴ, ㄹ ⑤ ㄷ, ㄹ

18. 다음 통문을 작성한 시기의 의병에 대한 설명으로 옳은 것은? [3점]



- ① 단발령 실시를 계기로 일어났다.
 ② 평민 출신의 의병장이 등장하기 시작하였다.
 ③ 을사조약 체결에 반발한 최익현이 주도하였다.
 ④ 13도 연합 부대가 서울 진공 작전을 전개하였다.
 ⑤ 국왕의 해산 권고 조직으로 대부분 해산하였다.

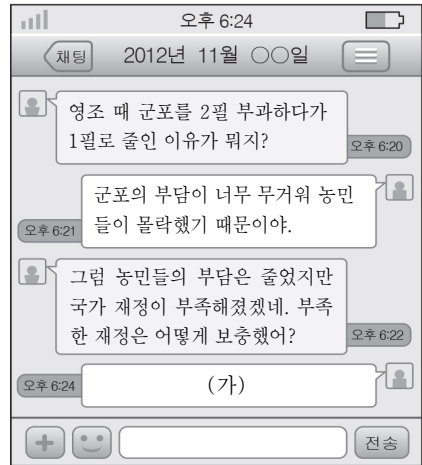
19. 다음은 어느 사건을 배경으로 한 역사 드라마 대본이다. 이 사건 당시의 조선을 둘러싼 정세로 옳은 것은?

S#4. 거문도에 도착한 조선 관리가 영국 해군 대령에게 항의한다.

조선 관리: (강경한 어조로) 귀국이 조선 땅을 점령하고 국기를 게양한 이유가 무엇인가?
 영국 대령: (당황하며) 러시아가 이 섬을 점령한다는 정보가 있었기 때문에 먼저 와서 이 섬을 잠시 보호하고자 함이다. 또한 국기를 게양한 것은 해군 제독의 명에 따른 것이다.
 조선 관리: (다그치며) 즉시 철수하십시오. 이 섬을 점거하고 귀국의 국기를 게양하는 것은 결코 허락할 수 없습니다.

- ① 삼국 간섭이 일어났다.
 ② 청·일 전쟁이 발발하였다.
 ③ 일본이 경복궁을 점령하였다.
 ④ 한반도 중립화론이 제기되었다.
 ⑤ 제2차 영·일 동맹이 체결되었다.

20. 다음은 어느 제도에 대한 학생들의 문자 대화이다. (가)에 들어갈 내용으로 적절한 것은? [3점]



- ① 토지 1결당 2두의 결작을 거두었어.
 ② 풍흉에 관계없이 지주에게 1결당 쌀 4두를 거두었어.
 ③ 토산물을 토지 결수에 따라 쌀, 포목 등으로 거두었어.
 ④ 토지 소유자에게 미국 생산량의 10분의 1을 거두었어.
 ⑤ 양반에게도 호(戶)를 기준으로 군포를 납부하게 하였어.

※ 확인사항
 문제지와 답안지의 해당란을 정확히 기입(표기)했는지 확인하십시오.