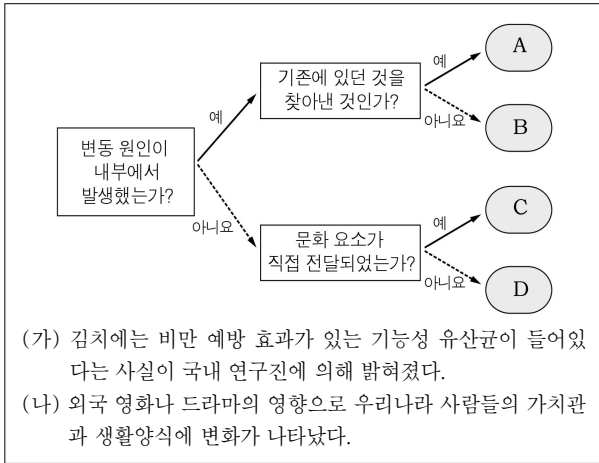
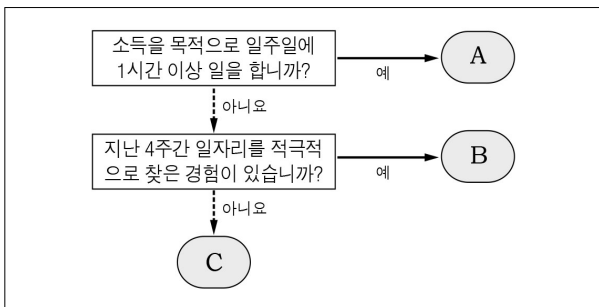


11. 다음은 문화 변동의 원인을 도식화한 것이다. (가), (나) 사례에 나타난 문화 변동의 원인을 A~D에서 고른 것은?



- | | | | |
|-----|-----|-----|-----|
| (가) | (나) | (가) | (나) |
| ① A | C | ② A | D |
| ③ B | D | ④ C | B |
| ⑤ D | C | | |

12. 다음은 고용 실태 조사 과정의 일부를 나타낸 것이다. A~C에 대한 옳은 설명을 <보기>에서 고른 것은? (단, 조사 대상은 15세 이상 인구이다.) [3점]



< 보 기 >
 가. A에 전업 주부는 포함되지 않는다.
 나. B가 증가하면 취업률은 높아진다.
 다. A와 B는 모두 일할 의사가 있다.
 르. B에서 C로 인구가 이동하면 실업률은 높아진다.

- ① 가, 나 ② 가, 다 ③ 나, 다 ④ 나, 르 ⑤ 다, 르

13. 다음 사례에 대한 법적 분석 및 판단으로 옳은 것은? [3점]

갑: 저는 강도 사건으로 구속되어 ○○ 지방법원에 기소되었고, 법원에서 징역형을 선고 받았습니다. 이에 항소하여 2심 법원에서 무죄 판결을 받았고, 다시 검사의 상고가 있었지만 대법원에서 기각되어 무죄 판결이 확정되었습니다. 저는 수사 단계에서부터 구속되어 있었으므로 신체의 자유, 영업의 자유 등 기본권을 크게 침해받았습니다.
 을: 제가 살인죄로 복역하던 중, 교도관은 자신의 직위를 이용하여 가족들과의 면회를 허락하지 않고 가족들에게 보내는 편지도 전달해 주지 않았으며, 운동도 허락하지 않는 등 저의 기본권을 침해했습니다.

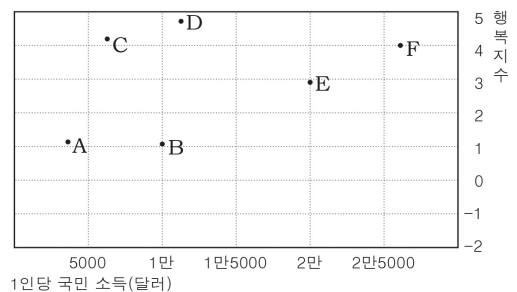
- ① 갑은 검사를 상대로 민사상 손해 배상을 청구할 수 있다.
 ② 을은 형사 보상 청구권을 행사하여 구제받을 수 있다.
 ③ 을의 기본권 침해는 법의 적용 과정에서 발생한 것이다.
 ④ 갑과 을은 모두 국가 기관에 의해 기본권이 침해되었다.
 ⑤ 갑과 을이 가장 먼저 취할 수 있는 법적 구제 절차는 헌법 소원이다.

14. 다음에 제시된 정치 문화의 유형 A~C에 대한 설명으로 옳은 것은?

한 사회의 정치 문화는 정치 체제, 투입 과정, 산출 과정, 정치 주체의 네 가지 정치적 대상에 대해 어떤 인식과 반응을 보이는지를 기준으로 분류할 수 있다. A는 정치적 대상 모두에 대한 인식과 반응이 거의 없으며, B는 정치 체제와 산출 과정에 대해서는 비교적 높은 인식과 반응을 나타내지만, 기타 차원에 대해서는 인식이 낮거나 반응을 제대로 나타내지 않는다. C는 정치적 대상 모두에 대해 높은 인식과 반응을 나타낸다.

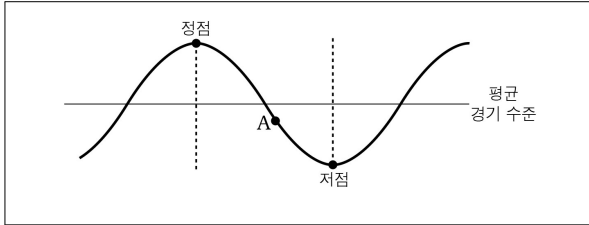
- ① A에서 구성원들은 정치 공동체에 대한 명확한 의식을 가진다.
 ② B에서 구성원들은 정책 결정 과정에 능동적인 태도를 취한다.
 ③ C에서 구성원들은 결정된 정책에 대하여 복종적인 태도를 가진다.
 ④ A보다 B에서 구성원들의 정치적 관심 범위가 좁다.
 ⑤ C와 달리 B는 중앙 집권적 권위주의 사회에서 주로 나타난다.

15. 다음은 A~F국의 1인당 국민 소득과 행복지수를 나타낸 것이다. 이에 대한 분석으로 옳은 것은? [3점]



- ① A국과 B국은 경제 규모와 행복지수가 비슷하게 나타난다.
 ② B국 국민이 느끼는 행복감은 C국 국민에 비해 크다.
 ③ D국에서 경제적 요소는 행복을 결정하는 절대적 조건이다.
 ④ E국 국민의 평균적인 생활 수준은 B국 국민보다 높다.
 ⑤ C국과 F국은 1인당 국민 소득과 행복지수의 관계가 정(+)의 관계에 있음을 보여준다.

16. 그림은 경기 순환 과정을 나타낸 것이다. A 시점에서 나타나는 경제 상황으로 가장 적절한 것은? [3점]



- ① 기업의 고용이 확대된다.
- ② 상품의 재고가 증가한다.
- ③ 기업의 투자 활동이 과열된다.
- ④ 소비 증가로 물가가 상승한다.
- ⑤ 금융 시장에서 자금의 수요가 증가한다.

17. 그림은 국민 소득 지표에 대한 수업 장면이다. 교사의 지시를 옳게 수행한 학생만을 있는 대로 고른 것은?

◆ 학습 활동: GDP, GNP 구분하기

학생	사례*	활동 결과**
갑	가족이 먹기 위해 텃밭에서 재배한 토마토	<input type="checkbox"/> <input type="checkbox"/>
을	작년에 국내에서 생산되어 올해 판매된 자동차	GNP <input type="checkbox"/>
병	국내 기업이 해외 공장에서 생산한 LED TV	GNP <input type="checkbox"/>
정	국내 기업에 취업한 외국인 근로자가 받은 봉급	<input type="checkbox"/> GDP

* 사례는 모두 금년도에 이루어졌음.
** 활동 결과는 학생들이 스티커를 붙인 결과임.

- ① 갑, 을 ② 갑, 병 ③ 을, 정
- ④ 갑, 병, 정 ⑤ 을, 병, 정

18. (가) ~ (다) 헌법 조항에 대한 설명으로 옳지 않은 것은? [3점]

(가) 제23조 ① 모든 국민의 재산권은 보장된다. 그 내용과 한계는 법률로 정한다.

(나) 제34조 ① 모든 국민은 인간다운 생활을 할 권리를 가진다.

(다) 제37조 ② 국민의 모든 자유와 권리는 국가 안전 보장·질서 유지 또는 공공복리를 위하여 필요한 경우에 한하여 법률로써 제한할 수 있으며, 제한하는 경우에도 자유와 권리의 본질적인 내용을 침해할 수 없다.

- ① (가)에 나타난 기본권은 '국가로부터의 자유'를 추구하는 소극적 권리이다.
- ② (나)에 나타난 기본권은 구체적인 근거 규정이 있어야 보장이 가능한 개별적이고 열거적인 권리이다.
- ③ (다)에 의하면 공권력에 의한 자의적인 기본권 제한은 금지된다.
- ④ (가)에 나타난 기본권과 달리 (나)에 나타난 기본권은 국가의 적극적 개입을 통해 실현된다.
- ⑤ (가)와 (다)는 공공의 이익이 국민의 기본권보다 우월한 가치를 보여준다.

19. 다음은 갑국 고등학생의 법의식을 조사한 결과의 일부이다. 이에 대한 옳은 분석만을 <보기>에서 있는 대로 고른 것은?

- 평소 약속을 잘 지키는 친구와의 약속이라도 지켜야 한다.

75.84	24.16
-------	-------

- 법이 없으면 세상이 매우 편할 것이다.

7.14	92.86
------	-------

- 부자들의 돈을 조금 훔치는 것은 그다지 나쁘지 않다.

14.32	85.68
-------	-------

- 돈이나 명예, 권력이 생겼다면 기꺼이 법을 어기겠다.

17.96	82.04
-------	-------

예 아니요
 (단위: %)

< 보기 >

- ㄱ. 준법에 대해서는 회의적인 입장이 많다.
- ㄴ. 다수가 신뢰의 중요성을 인식하고 있다.
- ㄷ. 대체로 부자에 대한 적대감이 강하게 나타난다.
- ㄹ. 법의 필요성에 대해서는 대체로 공감하고 있다.

- ① ㄱ, ㄴ ② ㄴ, ㄹ ③ ㄷ, ㄹ
- ④ ㄱ, ㄴ, ㄷ ⑤ ㄱ, ㄷ, ㄹ

20. 그림은 인플레이션에 대한 학생의 발표 장면이다. (가), (나)에 들어갈 내용으로 적절하지 않은 것은? [3점]

○ A국은 총수요의 증가로 인플레이션이 발생하였다. 이로 인해 A국에서는 다음과 같은 현상이 나타나고 있다.

(가)

○ A국의 경제 주체들은 인플레이션을 극복하기 위해 다음과 같이 행동해야 한다.

(나)

- ① (가) - 수출 기업의 국제 경쟁력이 약화된다.
- ② (가) - 현금 보유자들의 부동산 투기 심리가 조장된다.
- ③ (가) - 화폐 가치의 상승으로 봉급 생활자의 실질 소득이 증가한다.
- ④ (나) - 기업은 불필요한 중복 투자를 자제해야 한다.
- ⑤ (나) - 가계는 과소비를 억제하고 바람직한 소비를 해야 한다.

※ 확인사항

문제지와 답안지의 해당란을 정확히 기입(표기)했는지 확인하십시오.