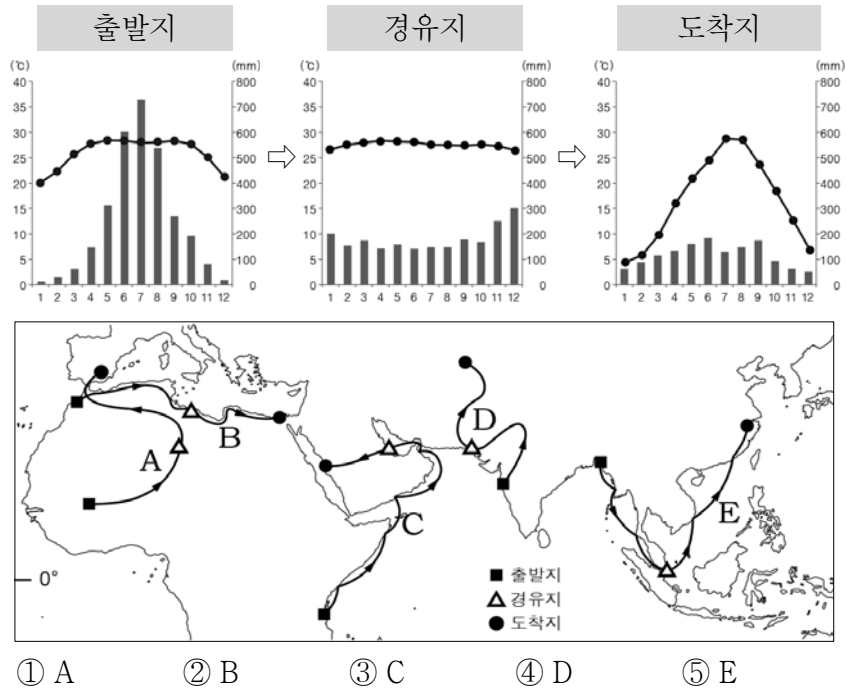


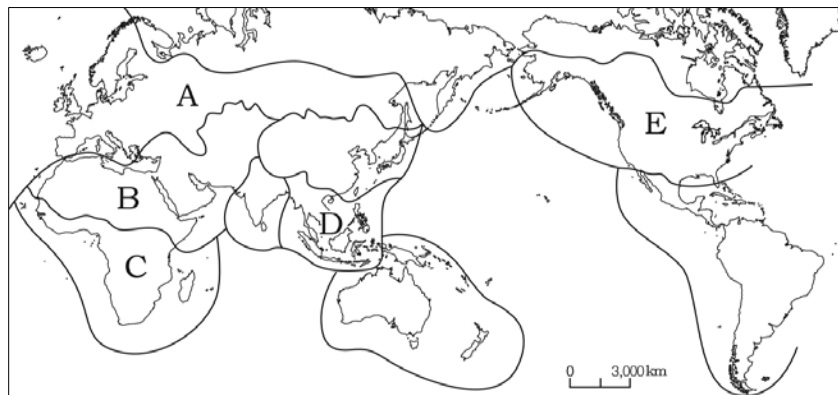




11. 그래프는 어느 여행가가 여행한 세 지역의 기후를 나타낸 것이다. 여행 경로를 지도에서 고른 것은? [3점]

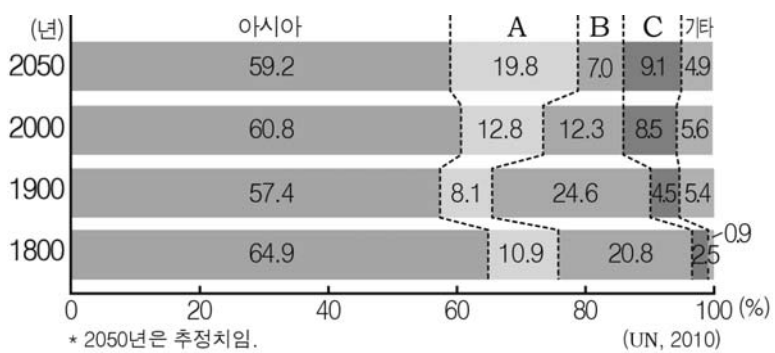


12. 지도는 세계의 문화권을 나타낸 것이다. A~E에 대한 설명으로 옳지 않은 것은?



- ① A의 주된 종교는 세계에서 신도 수가 가장 많다.
- ② B는 대부분 이슬람교를 믿으며 과거에는 유목 생활이 활발했다.
- ③ C에서는 부족 단위의 공동체 생활과 다양한 원시 종교가 나타난다.
- ④ D는 지리적 특성으로 대륙 문화와 도서 문화가 혼합되어 나타난다.
- ⑤ E는 남부 유럽의 영향으로 주민들은 주로 가톨릭교를 믿는다.

13. 그래프는 세계 인구의 지역별 비중 변화를 나타낸 것이다. A~C에 해당하는 지역을 바르게 연결한 것은? [3점]



- |   |          |          |          |
|---|----------|----------|----------|
|   | <u>A</u> | <u>B</u> | <u>C</u> |
| ① | 유럽       | 아프리카     | 라틴아메리카   |
| ② | 유럽       | 라틴아메리카   | 아프리카     |
| ③ | 아프리카     | 유럽       | 라틴아메리카   |
| ④ | 아프리카     | 라틴아메리카   | 유럽       |
| ⑤ | 라틴아메리카   | 유럽       | 아프리카     |

14. 자료는 아시아 지역의 분쟁 발생 지역에 대한 탐구 활동이다. (가)~(다)에 들어갈 사례 지역을 옳게 고른 것은? [3점]


**탐구 활동**

A~F 지역을 분쟁 발생 배경에 따라 분류해 보자.

발생 배경	사례 지역
종교 간의 대립	(가)
독립을 위한 투쟁	(나)
자원을 둘러싼 갈등	(다)

- |   |      |      |      |
|---|------|------|------|
|   | (가)  | (나)  | (다)  |
| ① | A, C | B, E | D, F |
| ② | A, D | B, C | E, F |
| ③ | B, F | A, D | C, E |
| ④ | C, D | E, F | A, B |
| ⑤ | C, F | A, E | B, D |

15. 자료는 유럽 어느 국가의 축제 사진과 설명이다. 이 축제들이 개최되는 국가를 지도에서 고른 것은?



풍부한 일조량 덕분에 지역 특산품이 된 토마토의 가격 폭락에 항의하여 농민들이 이를 던진 것에서 유래되었다.

군중들이 오후에 열릴 투우에 쓰일 소들을 골목에 풀어 놓고, 직접 투우장까지 소몰이 하는 것이 장관이다.



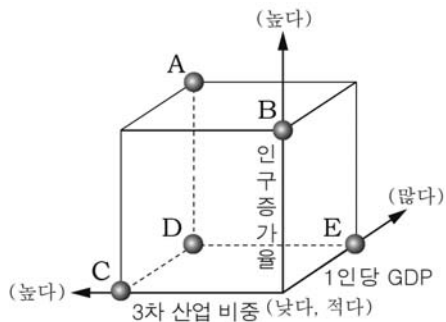
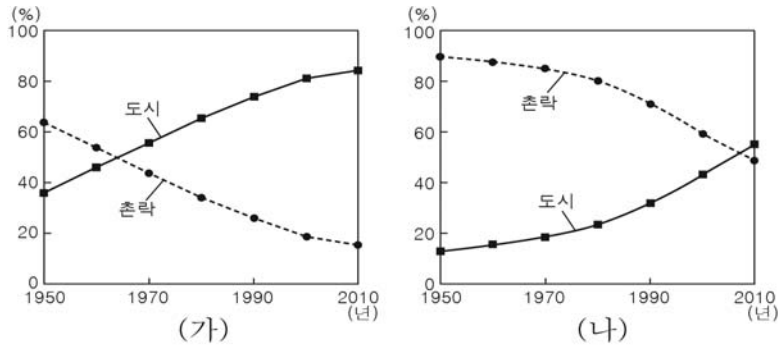
- ① A
- ② B
- ③ C
- ④ D
- ⑤ E

16. 다음은 '오세아니아 지역의 생태 관광'을 주제로 한 수업 장면이다. 선생님의 질문에 대한 학생들의 발표 내용으로 옳지 않은 것은?



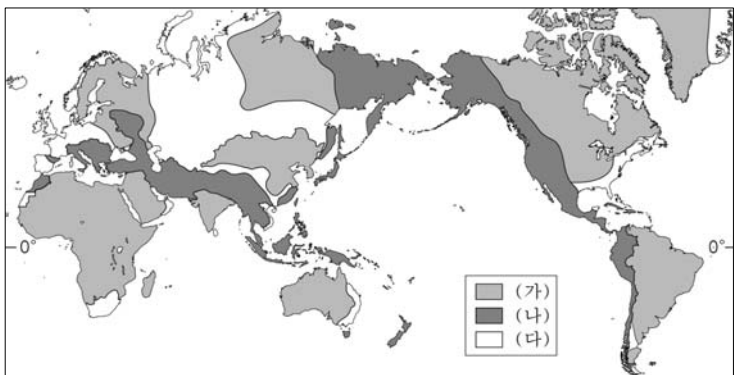
- ① 갑: A에서는 사막을 걸어 보고 원주민을 만날 수 있습니다.
- ② 을: B에서는 거대한 산호초와 바다 속 생태계를 볼 수 있습니다.
- ③ 병: C에서는 열대 습지에 사는 악어를 관찰할 수 있습니다.
- ④ 정: D에서는 고래, 물개, 펭귄 등 야생 동물들을 볼 수 있습니다.
- ⑤ 무: E에서는 활화산을 둘러보고 온천욕을 즐길 수 있습니다.

17. 자료는 어느 두 국가의 도시와 촌락의 거주 비율 변화를 나타낸 것이다. (나) 국가와 비교한 (가) 국가의 상대적 특성을 그래프에서 고른 것은? [3점]



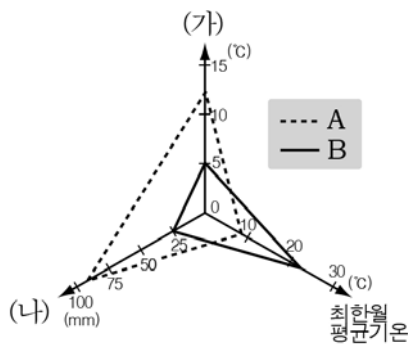
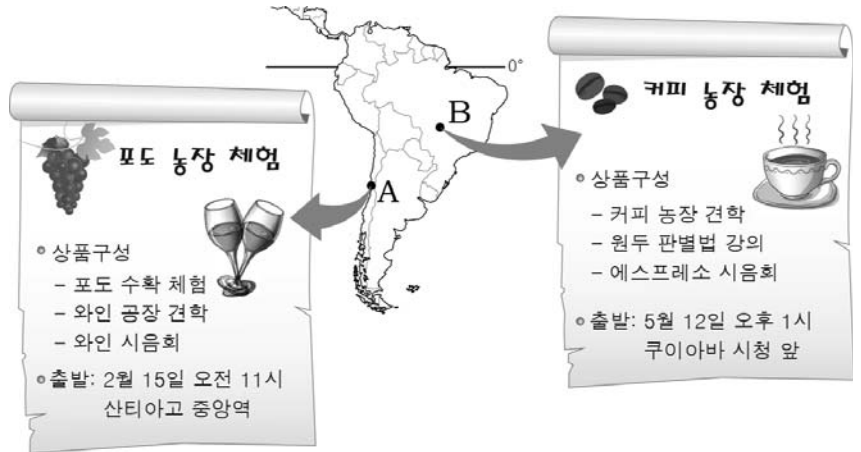
- ① A
- ② B
- ③ C
- ④ D
- ⑤ E

18. 지도는 세계의 대지형의 분포를 나타낸 것이다. (가) ~ (다) 지형에 대한 설명으로 옳은 것은?



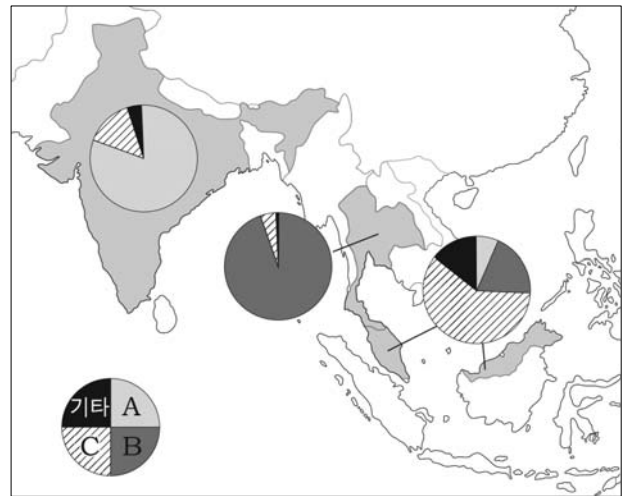
- ① (가)는 (나)보다 지진의 발생 빈도가 높다.
- ② (나)는 (가)보다 형성 시기가 오래되었다.
- ③ (나)는 (다)보다 높고 험준하여 교통의 장애가 된다.
- ④ (가)는 석유, (나)는 철광석이 주로 매장되어 있다.
- ⑤ (나)는 애플래치아 산지, (다)는 히말라야 산지가 대표적이다.

19. 자료는 A, B 지역의 관광 상품 홍보물이다. 두 지역의 기후 요소별 특징을 그래프와 같이 나타냈을 때, (가)와 (나)에 해당하는 기후 요소를 고른 것은? [3점]



- |   |        |        |
|---|--------|--------|
|   | (가)    | (나)    |
| ① | 연교차    | 연 강수량  |
| ② | 연교차    | 7월 강수량 |
| ③ | 연교차    | 1월 강수량 |
| ④ | 연평균 기온 | 연 강수량  |
| ⑤ | 연평균 기온 | 7월 강수량 |

20. 지도는 세 국가의 종교별 신도 비율을 나타낸 것이다. A ~ C 종교와 관련된 경관을 <보기>에서 고른 것은? [3점]



- |   |   |   |   |   |   |   |   |
|---|---|---|---|---|---|---|---|
|   | A | B | C |   | A | B | C |
| ① | 가 | 나 | 다 | ② | 가 | 다 | 나 |
| ③ | 나 | 가 | 다 | ④ | 나 | 다 | 가 |
| ⑤ | 다 | 나 | 가 |   |   |   |   |

※ 확인사항

문제지와 답안지의 해당란을 정확히 기입(표기)했는지 확인하십시오.