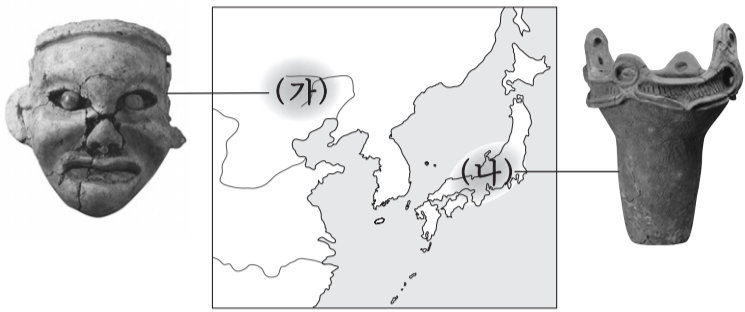


제 4 교시

사회탐구 영역(동아시아사)

성명 수험 번호

1. (가), (나) 지역의 신석기 문화에 대한 설명으로 옳은 것은? [3점]



- ① (가) - 청동북을 제작하였다.
- ② (가) - 용을 닮은 옥기를 만들었다.
- ③ (나) - 거친무늬 거울을 제작하였다.
- ④ (나) - 돌림판을 이용하여 토기를 만들었다.
- ⑤ (가), (나) - 고인돌을 축조하였다.

2. 다음 자료와 관련된 전쟁의 영향으로 옳은 것을 <보기>에서 고른 것은?

○ 나는 일본 국내를 무사 평온하게 만들어 나라를 동생에게 넘겨주고 나서 조선과 중국을 정복하는 일에 매진하고 싶다. 이를 준비하고자 대군을 태우고 항해할 수 있는 선박 2천 척의 건조에 필요한 목재를 벌채하도록 지시하였다.

○ 국왕이 서북쪽으로 피난하고 나서 국내가 텅 비어 적병이 가득 차고, 조정의 명이 제대로 행해지지 아니한 채로 한 달 이상 혼란이 이어졌다. ... (중략) ... 지방 도처에서 병사를 모아 의병장이라 칭하는 자가 무려 수백 명을 넘었고, 이들이 쳐들어온 왜적들을 제거하기에 이르렀다.

— <보기> —

ㄱ. 쿠빌라이가 남송을 공격하여 멸망시켰다.
 ㄴ. 미나모토노 요리토모가 가마쿠라에 막부를 세웠다.
 ㄷ. 이삼평 등의 도공을 통해 도자기 기술이 일본으로 전수되었다.
 ㄹ. 누르하치가 이끄는 여진족이 만주 지역을 지배하는 세력으로 성장하였다.

- ① ㄱ, ㄴ ② ㄱ, ㄷ ③ ㄴ, ㄷ ④ ㄴ, ㄹ ⑤ ㄷ, ㄹ

3. (가)~(라)에 대한 탐구 활동으로 적절한 것을 <보기>에서 고른 것은? [3점]




— <보기> —

ㄱ. (가) - 토번의 성장과 발전 과정을 조사한다.
 ㄴ. (나) - 백제 지배층의 형성 과정을 살펴본다.
 ㄷ. (다) - 진시황제의 통일 과정을 알아본다.
 ㄹ. (라) - 야마토 정권의 성립 과정을 찾아본다.

- ① ㄱ, ㄴ ② ㄱ, ㄷ ③ ㄴ, ㄷ ④ ㄴ, ㄹ ⑤ ㄷ, ㄹ

4. (가)에 들어갈 내용으로 적절하지 않은 것은?



그림은 전국 각지의 다이묘 영지에서 운송된 쌀을 거래 하던 오사카 쌀 시장의 모습이다. 에도, 교토와 더불어 번영을 누렸던 오사카는 쌀을 비롯한 여러 물자가 집결되어 당시 '천하의 부엌'이라 불렸다. 이 시기 (가)


- ① 중국은 차와 도자기를 유럽에 수출하였다.
- ② 조선에서는 대동법의 시행으로 상품 화폐 경제가 촉진되었다.
- ③ 일본에서는 다이묘에게 대부해 주는 금융업자가 번성하였다.
- ④ 일본에서는 영주의 성 아래 만들어진 조카마치가 발달하였다.
- ⑤ 중국과 일본은 무역 허가증인 감합을 사용하여 교역하였다.

5. (가) 국가에 대한 설명으로 옳은 것은?

제○○호 **동아시아사 신문**

〈특집〉 유목 국가의 기마 군단, 농경 국가를 압도하다

(가) 은/는 대심안링 산맥에서 파미르 고원에 이르는 초원 세계를 통일하였다. 기원전 200년 이들은 뛰어난 기마술로 한의 30여 만 군대를 패배시키고 고조를 백등산에서 포위하였다. **군주의 머리 장식(금관)**



- ① 고려를 공격하였다.
- ② 차마고도를 개척하였다.
- ③ 독자적인 문자를 만들었다.
- ④ 불교를 국교로 채택하였다.
- ⑤ 최고 통치자를 선우라고 불렀다.

6. 다음 자료를 이용한 탐구 활동의 주제로 적절한 것은? [3점]

- 신라는 당의 복색과 관직을 수용하였고, 국학을 세워 유교 경전을 가르쳤다. 그러나 관리 선발에는 과거제 대신 독서 삼품과를 실시하였다.
- 일본은 당의 관제를 받아들였지만 3성 대신 행정을 총괄하는 태정관과 제사를 담당하는 신기관의 2관을 두었다.

- ① 황제 독재 체제의 구축
- ② 이원적 통치 체제의 내용
- ③ 종법에 입각한 봉건제의 성립
- ④ 생활 규범으로 정착된 유교적 전통
- ⑤ 율령 체제 수용 과정에서의 지역적 변용

7. 지도에 나타난 시기의 동아시아 상황으로 옳은 것을 <보기>에서 고른 것은? [3점]



〈보기〉

- ㄱ. 일본에서는 무로마치 막부가 성립하였다.
- ㄴ. 고구려는 북조, 남조와 외교 관계를 맺었다.
- ㄷ. 강남 지방에서는 왜구의 밀무역이 성행하였다.
- ㄹ. 화북 지방에서는 선비족이 호한 융합을 시도하였다.


- ① ㄱ, ㄴ ② ㄱ, ㄷ ③ ㄴ, ㄷ ④ ㄴ, ㄹ ⑤ ㄷ, ㄹ

8. (가) 제도에 대한 설명으로 옳은 것은? [3점]

- 서양 각국은 모두 (가) 을/를 만들어 정치적 현안이 있을 때마다 사람들의 의견을 듣고 동의를 구한다. 백성이 불편해 하거나 불가능하다고 여기는 일은 억지로 하지 않는다.
- 신들은 나라를 구하는 길을 강구해 보았는데, 오직 천하의 공론을 펼치는 길밖에 없습니다. 천하의 공론을 펼치기 위해서는 백성이 뽑은 사람들로 구성되는 (가) 을/를 두는 길밖에 없습니다.

- ① 중국에서는 양무운동이 추진되면서 도입되었다.
- ② 한국에서는 대한 제국이 선포되면서 시행되었다.
- ③ 일본에서는 자유 민권 운동 세력이 도입을 주장하였다.
- ④ 베트남에서는 제1차 사이공 조약으로 실시가 결정되었다.
- ⑤ 동아시아에서는 중화민국이 최초로 실시하였다.

9. (가) 왕조 시기의 동아시아 문화에 대한 설명으로 옳지 않은 것은?



이 전통극의 이름은 지방에서 발달한 연극들이 (가) 시기에 수도 베이징에 올라와 상연된 데서 비롯되었다. 노래와 춤, 무술과 극예의 예술적 기교를 갖춘 이 연극은 이민족 치하의 서민들에게 환영을 받아 중국을 대표하는 전통극으로 발전하였다.

- ① 중국 - 인간과 우주의 원리를 탐구하는 성리학이 등장하였다.
- ② 한국 - 양반 사회를 풍자하는 판소리가 유행하였다.
- ③ 한국 - 실사구시적인 성격을 띤 실학이 발달하였다.
- ④ 일본 - 음악, 무용, 연기가 결합된 가부키가 성행하였다.
- ⑤ 일본 - 일본 문화의 우월성을 강조하는 국학이 발전하였다.

10. (가), (나) 협정 사이의 시기에 있었던 사실로 옳은 것은?

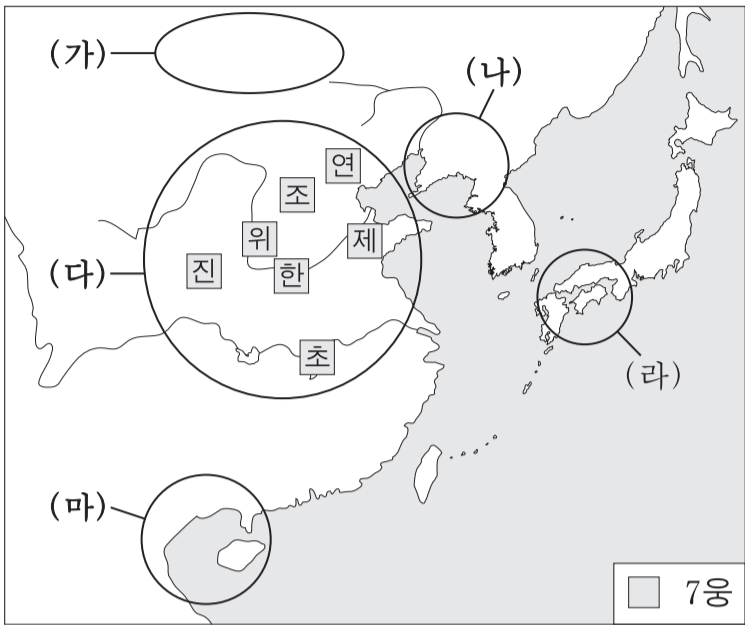
(가) 제1조 잠정적인 군사 분계선을 설정하고 베트남 민주 공화국 군대와 프랑스 연합군은 북위 17도선의 남북으로 물러난다.

(나) 제4조 미국은 남베트남의 내부 문제에 앞으로도 계속하여 군사 개입을 하지 않는다.

제15조 북위 17도선에 의한 두 지역 사이의 군사 분계선은 잠정적일 뿐이며 정치적이거나 영토상의 경계는 아니다.

- ① 퉁킹 만 사건이 발생하였다.
- ② 디엔비엔푸 전투가 벌어졌다.
- ③ 도이머이 정책이 추진되었다.
- ④ 베트남 독립 동맹이 결성되었다.
- ⑤ 중국과 베트남 간에 전쟁이 일어났다.

11. 지도에 나타난 시기에 (가)~(마)에서 있었던 사실로 옳은 것은? [3점]



- ① (가) - 위구르가 초원 지대의 패자로 등장하였다.
- ② (나) - 위만이 무리를 이끌고 고조선으로 망명하였다.
- ③ (다) - 철제 무기가 보급되면서 정복 전쟁이 격화되었다.
- ④ (라) - 야마타이국 중심의 연맹체가 형성되었다.
- ⑤ (마) - 남월(남비엣)이 중원 세력의 공격으로 멸망하였다.

12. 밑줄 친 ㉠, ㉡에 대한 설명으로 옳은 것은? [3점]

㉠ 우리나라는 고구려의 옛 땅에서 일어난 나라요, ...(중략)... 본디 압록강의 안팎과 그대들의 동경(東京)이 모두 우리의 땅이요. 그런데 지금 여진이 나라도 없이 부족 단위로 이곳에 거주하면서 두 나라 사이를 가로막고 있어, 우리로서는 ㉡ 그대 나라와 교류하기가 바다 건너 송과 교류하기보다 어려운 형편이요. 지금껏 양국의 왕래가 어려웠던 것은 여진의 탓이요.

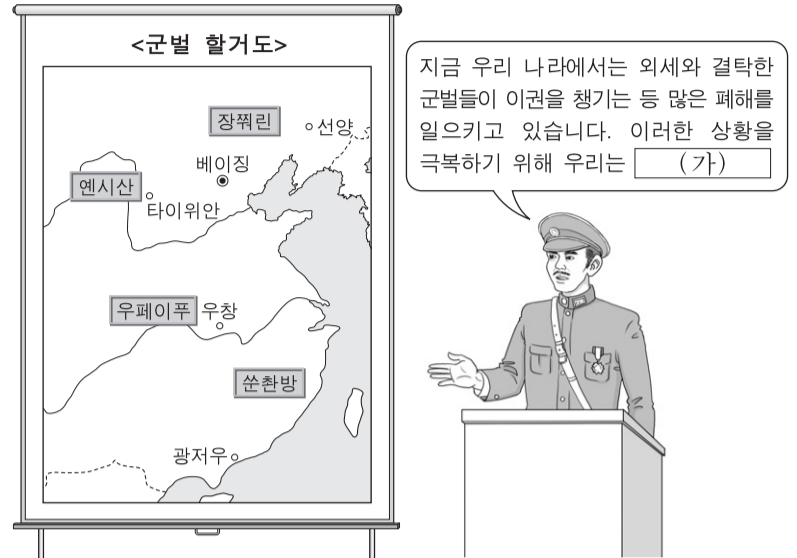
- ① ㉠은 대월을 침공하였다.
- ② ㉠은 건당사를 파견하였다.
- ③ ㉡은 발해를 멸망시켰다.
- ④ ㉠은 ㉡에 화번공주를 보냈다.
- ⑤ ㉡은 ㉠에 통신사를 파견하였다.

13. 밑줄 친 '현행 헌법'에 대한 설명으로 옳은 것은?

2014년 7월 1일 일본의 아베 신조 내각은 임시 내각 회의를 열어 전쟁 포기와 군사력 보유 금지를 규정한 현행 헌법에 대한 해석을 변경하여 집단적 자위권을 행사하기로 결정하였다. 이로써 일본은 '공격받지 않아도 공격할 수 있는 나라'로 돌아갔다. 이에 대해 우리 정부는 "한반도의 안보와 국익에 나쁜 영향을 미쳐서는 안 된다."라고 하며 우려를 표명하였다.

- ① 미 군정 시기에 제정되었다.
- ② 대한민국 국제의 제정에 영향을 주었다.
- ③ 중화 인민 공화국 수립에 영향을 받아 제정되었다.
- ④ 샌프란시스코 강화 조약 체결과 동시에 공포되었다.
- ⑤ 천황을 국가 원수로서 통치권을 총괄하는 존재로 규정하였다.

14. (가)에 들어갈 내용으로 적절한 것은?



지금 우리 나라에서는 외세와 결탁한 군벌들이 이권을 챙기는 등 많은 폐해를 일으키고 있습니다. 이러한 상황을 극복하기 위해 우리는 (가)


- ① 의화단을 적극 지원합시다.
- ② 북벌(국민 혁명)을 단행합시다.
- ③ 만주국 타도를 결행해야 합니다.
- ④ 제2차 국·공 합작을 추진합시다.
- ⑤ 한·중 연합군을 결성해야 합니다.

15. (가)~(마) 도시에 대한 설명으로 옳지 않은 것은? [3점]



- ① (가) - 일본에서 최초로 철도가 부설되었다.
- ② (나) - 일본 최초의 일간지가 발간되었다.
- ③ (다) - 강화도 조약에 따라 개항장으로 개방되었다.
- ④ (라) - 영국 상인이 신보라는 신문을 창간하였다.
- ⑤ (마) - 프랑스식 건축물이 늘어선 신시가지가 조성되었다.

16. 다음 자료에 나타난 왕조 시기의 동아시아 지배층에 대한 설명으로 옳은 것은?



그림은 대도와 카라코룸을 중심으로 간선 도로마다 약 40킬로미터 간격으로 배치된 역참을 이용할 수 있는 통행증이다.
 역참은 간단한 숙박 시설과 말, 식량을 갖추고 통행증을 가진 관리나 사절 등이 이용할 수 있는 곳이다. 초원과 사막 등에 1,500여 곳이 설치되어 있었다.

- ① 한국 - 문벌 귀족이 출현하였다.
- ② 일본 - 무사 계층이 등장하였다.
- ③ 베트남 - 과거를 통한 관인이 등장하였다.
- ④ 중국 - 색목인이 통치에 참여하였다.
- ⑤ 중국 - 신사층이 지방에서 성장하였다.

17. 밑줄 친 '이들'이 믿는 종교에 대한 설명으로 옳지 않은 것은? [3점]

- 이들은 출가하여 군신의 의리를 저버리고, 부자의 인연을 끊어 버리며, 자식을 낳아 대를 잇는 것을 거부하고 있습니다.
- 이들은 안으로 인륜을 떠나기는 하지만 효도에 어긋나는 것은 아니고, 밖으로 임금을 받들지는 않지만 공경을 거부하는 것은 아닙니다.

- ① 백제를 거쳐 일본으로 전해졌다.
- ② 고구려에 4세기 무렵 전래되었다.
- ③ 일본에서 신토(신도)와 결합하였다.
- ④ 북조 왕실의 적극적인 후원을 받았다.
- ⑤ 천명사상으로 황제 통치를 뒷받침하였다.

18. 다음 자료에 나타난 왕조 시기의 동아시아 상황으로 적절한 것은?

- 강남 지방은 물의 고장이어서, 저습지에 제방을 쌓고 그 안쪽에 논을 만드는데 이를 우전이라고 부른다. ... (중략) ... 논이 주변의 물보다 낮으므로 제방을 따라 갑문을 만들어 논에 물을 댄다. 그래서 우전에는 물 걱정이 없고 늘 풍년이 든다.
- 점성도를 강남 지방에 도입하여 높은 지대에 있는 논에 심어 보니, 가물에 잘 견디는 품종이었다. 점성도는 중국의 품종에 비하면 이삭이 길고 까끄라기가 없으며, 낱알이 조금 작고 어느 땅에서나 자랄 수 있었다.

- ① 한국 - 농사직설 등의 농서가 편찬되었다.
- ② 일본 - 토지 조사(검지)가 전국적으로 실시되었다.
- ③ 일본 - 묘슈라 불리는 유력 농민층이 장원을 관리하였다.
- ④ 중국 - 각종 세금 항목을 간소화한 일조편법이 시행되었다.
- ⑤ 중국 - 호적을 토대로 토지를 분배하는 균전제가 시행되었다.

19. 다음 자료에 나타난 시기의 동아시아 경제 상황으로 적절한 것을 <보기>에서 고른 것은?

당시 중국에서는 갑작스러운 은 유입의 격감으로 전례 없는 재정 문제가 발생하였다. 에도 막부는 마카오의 포르투갈 상인들을 나가사키로 들어오지 못하게 하여 양국의 교역이 중단되었다. 게다가 곧이어 마닐라에서 중국 상인과 에스파냐 간에 유험 사태가 벌어져 양국의 교역마저 사실상 중단되었다.
 이로 인해 조세를 은으로 징수하던 중국에서는 급격한 디플레이션과 은·곡물 사재기 현상이 일어났고, 곳곳에서 폭동이 일어났다. 이는 결국 왕조 멸망의 요인이 되었다.

— <보기> —

- ㄱ. 중국에서는 은과 교환할 수 있는 지폐인 교초가 발행되었다.
- ㄴ. 조선에서는 일본에서 유입된 은이 대외 무역의 결제 수단으로 사용되었다.
- ㄷ. 일본에서는 이와미 광산을 개발하여 은을 생산하기 시작하였다.
- ㄹ. 일본에서는 조선에서 들여온 회취법을 이용하여 은을 생산하였다.

- ① ㄱ, ㄴ ② ㄱ, ㄷ ③ ㄴ, ㄷ ④ ㄴ, ㄹ ⑤ ㄷ, ㄹ

20. (가) 전쟁의 영향으로 가장 적절한 것은? [3점]



< (가) 전쟁 전후 일본의 영토 변화 >

- ① 러시아가 삼국 간섭을 주도하였다.
- ② 미국 주도로 워싱턴 회의가 개최되었다.
- ③ 중국은 일본의 21개조 요구를 수용하였다.
- ④ 일본은 강제로 대한 제국을 보호국으로 삼았다.
- ⑤ 프랑스는 인도차이나 연방을 결성하여 통치하였다.

* 확인 사항
 ○ 답안지의 해당란에 필요한 내용을 정확히 기입(표기)했는지 확인하십시오.