

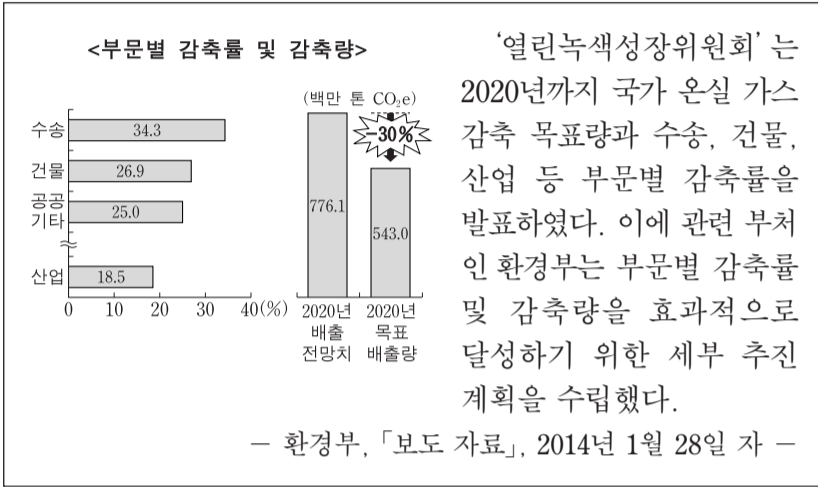
제 4 교시

직업탐구 영역(상업 정보①)

성명

수험 번호

1. 다음 환경 관련 보도 자료에 나타난 감축 목표를 달성하기 위하여 실천할 수 있는 방안으로 적절한 것을 <보기>에서 고른 것은?



— <보기> —

- ㄱ. 기업의 탄소 배출권 구입을 확대한다.
- ㄴ. 수소 연료 전지 자동차의 보급을 확대한다.
- ㄷ. 산업 부문의 에너지를 화석 연료로 대체한다.
- ㄹ. 신재생 에너지 개발에 대하여 보조금을 지원한다.

- ① ㄱ, ㄴ ② ㄱ, ㄷ ③ ㄴ, ㄷ
- ④ ㄴ, ㄹ ⑤ ㄷ, ㄹ

2. 다음은 ○○(주)에 대한 물류 전문가의 [평가 의견]을 나타낸 것이다. 이에 따라 ○○(주)가 도입해야 하는 물류 시스템으로 가장 적절한 것은?

물류 전문가는 ○○(주)의 물류 관리에 대한 평가 의견을 아래와 같이 경영진에게 제시하였다.

[평가 의견]

- 팔레트(pallet) 등 물류 기기와 설비가 표준화, 규격화되어 있고 일관 운송 체계가 잘 갖추어져 있음.
- 상품의 재고 현황이 공급업자에게 자동 전달되어 신속하고 정확하게 상품을 주문하여 공급받을 수 있는 시스템 마련이 필요함.
- 화물 차량에 대한 위치 및 운행 상태를 실시간 추적하여 화물 차량의 공차율을 줄이는 시스템이 잘 갖추어져 있음.

- ① 전자 주문 시스템(EOS)
- ② 지리 정보 시스템(GIS)
- ③ 유닛 로드(Unit-load) 시스템
- ④ 무선 주파수 식별(RFID) 기술
- ⑤ 첨단 화물 운송(CVO) 시스템

[3~4] 다음은 A(주) 사장의 유통 경로 정책 관련 연설문 내용이다. 물음에 답하시오.

사원 여러분!

현재 ○○ 상품의 유통 관리에 어려움이 있어 새로운 유통 전략이 필요한 시점입니다. 지금까지 우리 A(주)의 유통 경로 정책은 취급을 원하는 모든 점포에게 ○○ 상품을 공급함으로써 상품의 이미지 하락, 판매 실적 파악의 어려움 등 상품 관리에 여러 가지 문제점이 발생하였습니다.

따라서 상품의 이미지를 제고하고 상품 관리 등을 효과적으로 하기 위하여 앞으로는 전매권을 부여한 대리상에게만 ○○ 상품을 공급하는 유통 경로 정책으로 변경하고자 합니다.

3. 위 A(주)가 변경하고자 하는 ○○ 상품의 새로운 유통 경로 정책으로 옳은 것은?

- ① 분산 기관 확대 정책 ② 수집 기관 확대 정책
- ③ 개방적 유통 경로 정책 ④ 선택적 유통 경로 정책
- ⑤ 전속적 유통 경로 정책

4. 위 A(주)가 유통 경로 정책을 변경한 후 ○○ 상품을 취급 할 보조 상인에 대한 설명으로 옳은 것을 <보기>에서 고른 것은? [3점]

— <보기> —

- ㄱ. A(주)에 고용되어 상품을 판매한다.
- ㄴ. A(주)의 명의를 사용하여 상거래를 한다.
- ㄷ. 거래 후 A(주)와 고객 쌍방으로부터 수수료를 받는다.
- ㄹ. A(주)의 허락 없이 자기 계산으로 동종 영업부류에 속한 거래를 할 수 없다.

- ① ㄱ, ㄴ ② ㄱ, ㄷ ③ ㄴ, ㄷ
- ④ ㄴ, ㄹ ⑤ ㄷ, ㄹ

5. 다음 글에 나타난 무형 재화에 대한 설명으로 옳은 것은?

이 권리는 1709년 출판물 보호를 위해 개인적 권리를 최초로 인정한 영국의 ‘앤 여왕법’ 이래, 각국에서 국내법으로 보호되어 왔다. 현재 우리나라에서도 인간의 사상 또는 감정을 표현한 글, 그림, 음악, 사진 등의 공정한 이용을 도모하여 문화 및 관련 산업의 발전에 이바지함을 목적으로 이 권리를 보호하는 법률이 시행되고 있다.

- ① 산업재산권에 속하는 권리이다.
- ② 권리금 형태로 양도할 수 있는 권리이다.
- ③ 물품의 최초 발명에 대한 독점적인 권리이다.
- ④ 물품의 형상이나 구조의 실용적 개선에 대한 권리이다.
- ⑤ 학문이나 예술 분야의 독창적 개인 창작물에 대한 권리이다.

[6~7] 다음은 ○○(주)의 유통 시장 변화에 따른 조직 구조 개편과 관련된 내용이다. 물음에 답하시오.

최근의 유통 시장은 전통적인 상거래 방식에서 모바일 앱을 이용하여 상품을 구매하고 대금을 결제하는 방식으로 변화하고 있으며, 이러한 추세는 급속히 증가하고 있다. 또한 소비자의 취향에 맞추어 문자 서비스를 이용한 판촉 활동이 활성화되고 있다.

이에 따라 ○○(주)는 변화하는 유통 시장에 대응하기 위해 기존의 기능식 조직을 사업별로 분권화하여 고객들의 요구에 대처할 수 있는 조직으로 개편하였다.

[개편된 조직 구조]

```

            graph TD
            CEO[사장] --> A[A 사업부]
            CEO --> B[B 사업부]
            A --> A_Ad[광고]
            A --> A_Sale[영업]
            B --> B_Ad[광고]
            B --> B_Sale[영업]
            
```

6. 위 ○○(주)의 기존 조직 구조에 비해 [개편된 조직 구조]가 지닌 장점으로 가장 적절한 것은?

- ① 명령 권한이 일원화된다.
- ② 사업 부문별 책임 소재가 명확해진다.
- ③ 최고 경영자의 의사 결정이 신속해진다.
- ④ 일시적 조직으로 구성과 해체가 용이해진다.
- ⑤ 최고 경영자가 강한 통솔력을 발휘할 수 있다.

7. 위와 같은 유통 시장의 변화에 따라 나타날 수 있는 현상으로 적절한 것을 <보기>에서 고른 것은?

— <보기> —

ㄱ. 에스프로 서비스 이용이 점차 확대될 것이다.
 ㄴ. 지급 결제 수단은 신용카드로 단일화될 것이다.
 ㄷ. 모바일 앱을 이용한 개인별 맞춤 서비스가 확대될 것이다.
 ㄹ. 소비자의 구매 패턴에 대한 정보 수집이 어려워질 것이다.

- ① ㄱ, ㄴ
- ② ㄱ, ㄷ
- ③ ㄴ, ㄷ
- ④ ㄴ, ㄹ
- ⑤ ㄷ, ㄹ

8. 다음은 산업체 안전에 관한 신문 기사이다. (가)에 해당하는 사회 보험에 대한 설명으로 옳은 것을 <보기>에서 고른 것은?

국회 환경노동위원회는 교육·사회·문화 부문 대정부 질문에서 '안전한 일터, 신나는 일터', '안심하고 살 수 있는 환경'을 통해 '국민행복시대'를 열어 가자고 제안했다.

이러한 대책으로 근로자가 업무상 발생한 부상 등의 사고로 입은 재해를 보상하기 위한 (가) 가입 확인, 산업 안전 담당관 수 확충, 안전 관리 대행 기관 신고 제도 도입 등을 주문했다.

— ○○신문, 2014년 6월 20일 자 —

— <보기> —

ㄱ. 산업 정책 보험에 해당한다.
 ㄴ. 근로복지공단에서 관리한다.
 ㄷ. 보험료 전액을 근로자가 부담한다.
 ㄹ. 보험 사고 시 근로자가 보상을 받는다.

- ① ㄱ, ㄴ
- ② ㄱ, ㄷ
- ③ ㄴ, ㄷ
- ④ ㄴ, ㄹ
- ⑤ ㄷ, ㄹ

9. 다음은 환율 변동에 대한 대화 내용이다. (가), (나)와 같은 환율 변동 상황이 지속될 경우, 향후 예상되는 경제 현상으로 옳은 것은? (단, 환전 및 환율만 고려한다.) [3점]

일본 지사 건물 구입 대금을 지급하기 위한 환전은 언제 하는 것이 좋을까요?

현재 엔화 대비 원화 가치 변동 추세로 보아 가능한 한 환전 시기를 늦추는 것이 좋겠습니다.

(가)

미국에서 수입한 상품 대금은 언제 지급할 예정입니까?

현재 달러 대비 원화 가치 변동 추세로 보아 즉시 환전하여 지급하는 것이 유리합니다.

(나)

- ① (가)의 경우, 엔화 표시 자산의 가치가 증가할 것이다.
- ② (가)의 경우, 일본에서 수입하는 상품 가격은 상승하게 될 것이다.
- ③ (가)의 경우, 일본에 있는 자녀에게 학비를 송금한다면 부담이 커질 것이다.
- ④ (나)의 경우, 미달러 표시 외채 상환 부담이 감소하게 될 것이다.
- ⑤ (나)의 경우, 미국에 수출하는 상품의 가격 경쟁력이 높아지게 될 것이다.

10. 다음은 A무역(주) 해외 영업 담당자의 [업무 일지] 내용이다. 이를 바탕으로 담당자가 수행한 업무로 옳은 것을 <보기>에서 고른 것은? (단, 가격 조건은 인코텀즈 2000에 의한다.) [3점]

수출 회사인 A 무역(주)의 해외 영업 담당자는 수입 회사인 미국 B 기업과의 수출 관련 업무 처리 내용을 기록하였다.

[업무 일지]

일 자	내 용
7월 8일	B 기업에 판매 청약서를 발송함.
7월 14일	B 기업으로부터 가격 조건은 CIF New York 조건으로, 대금 결제 조건은 신용장 방식으로 변경해 달라는 요청을 받음.
7월 30일	B 기업의 변경 요청을 승낙하고, 수출 계약을 체결함.
8월 14일	정기선예 계약 상품을 선적함.
8월 28일	B 기업에 대한 수출 대금을 회수함.

— <보기> —

ㄱ. 수출 상품의 해상 운송 계약을 체결
 ㄴ. B 기업의 거래 은행에 신용장 발행을 요청
 ㄷ. 거래 은행에 화환어음을 제시하고 대금 지급을 요청
 ㄹ. A 무역(주)를 피보험자로 한 해상 보험 계약을 체결

- ① ㄱ, ㄴ
- ② ㄱ, ㄷ
- ③ ㄴ, ㄷ
- ④ ㄴ, ㄹ
- ⑤ ㄷ, ㄹ

11. 다음은 우리나라의 ○○(주)가 해외 진출 방식을 변경한 내용이다. (가), (나)에 대한 설명으로 적절한 것을 <보기>에서 고른 것은? [3점]

기존 해외 진출 방식	새로운 해외 진출 방식
반제품을 A국에 수출하고 현지 공장에서 조립하여 완성품을 생산하고, 현지 시장에 판매하는 방식	원자재 확보가 용이한 A국에 직접 투자하여 제품 생산의 전체 공정을 수행하는 현지 공장을 세워 완성품을 생산하고, 현지 시장에 판매하는 방식
(가)	(나)

— <보기> —

ㄱ. (가)는 턴키 방식에 해당한다.
 ㄴ. (나)는 자원 조달형 해외 직접 투자 방식에 해당한다.
 ㄷ. (가)와 (나) 모두 완성품 수입에 대한 A국의 관세 장벽을 피할 수 있다.
 ㄹ. (가)에서 (나)로 변경함으로써 반제품에 대한 무역 운송비가 증가할 것이다.

- ① ㄱ, ㄴ ② ㄱ, ㄷ ③ ㄴ, ㄷ
 ④ ㄴ, ㄹ ⑤ ㄷ, ㄹ

12. 다음은 A 학생이 과제를 수행하기 위하여 조사한 주식 시세표이다. 이를 분석한 내용으로 옳은 것만을 <보기>에서 있는 대로 고른 것은? (단, 증가를 기준으로 한다.) [3점]

A 학생은 경제 신문의 주식 시세표에 나타난 내용을 분석하는 과제를 수행하였다.

코스피 지수 2,000.50↓ (KOSPI) -6.16 (-0.31%)		코스닥 지수 555.84↑ (KOSDAQ) +0.94 (+0.17%)			
(종목 수)					
구분	상한(Ⓢ)	상승(△)	보합	하락(▽)	하한(Ⓣ)
코스피	5	387	125	432	3
코스닥	6	471	35	450	4

— <보기> —

ㄱ. 코스닥 시장에서 주가가 오른 종목의 상승률은 0.17%이다.
 ㄴ. 시세표에서 가격 변동 제한 폭까지 변한 종목 수는 18개이다.
 ㄷ. 코스피 지수는 1980년 1월 4일 기준으로 2,000.50배 상승하였다.

- ① ㄱ ② ㄴ ③ ㄱ, ㄷ
 ④ ㄴ, ㄷ ⑤ ㄱ, ㄴ, ㄷ

13. 다음은 ○○(주)가 A국에서 수행하고 있는 사업이다. 이와 관련된 기업의 사회적 책임으로 가장 적절한 것은?

○○(주)는 2012년 12월 A국에 무료 직업 훈련 기관을 설립하였다. 이 기관은 A국에 필요한 기술 인력을 양성하기 위해 기술뿐 아니라 과학, 영어 등 기본 과목을 가르치고 학비, 기숙사 등도 지원한다. ○○(주)는 앞으로도 글로벌 차원의 교육 불균형 해소를 위한 지원을 계속할 예정이다.

- ① 소비자의 법적 권익 보호를 준수하는 책임
 ② 투명 경영으로 회계 윤리를 준수하는 책임
 ③ 이윤 창출을 통해 기업 성장을 유지하는 책임
 ④ 자선 활동으로 교육, 복지 등을 지원하는 책임
 ⑤ 친환경 에너지를 개발하여 환경을 보호하는 책임

14. 다음은 ○○(주)가 A국에 진출하기 위해 작성한 계획서의 일부이다. (가)에 해당하는 방안을 시행할 경우 ○○(주)가 얻을 수 있는 효과로 적절한 것은? [3점]

해외 진출 계획서

○ 현재 상황

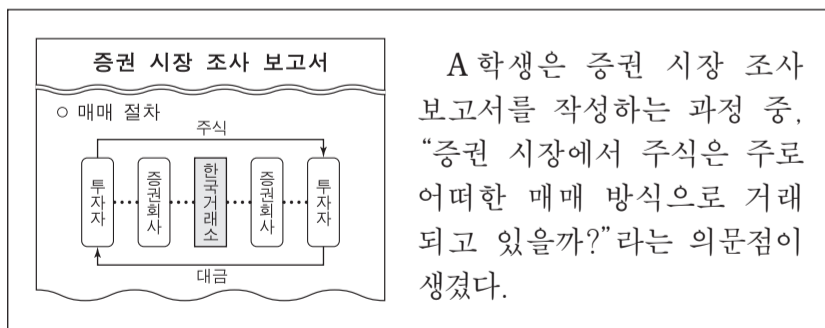
- 한류의 영향으로 본사의 브랜드 이미지 경쟁력이 높음.
- A국에서 상표권 사용 상담 요청이 증가하고 있음.
- A국 현지 투자자는 본사의 원료 및 관리 시스템 제공을 원하고 있음.

○ 진출 방안

프랜차이징, 컨소시엄, 경영관리계약 중 현재 상황에 가장 적합한 (가) 을 선택함.

- ① 선진 기술을 습득할 수 있다.
 ② 경영 기법을 제공하고 사용료를 받을 수 있다.
 ③ 해외 간접 투자로 배당금 수익을 얻을 수 있다.
 ④ 경영 관리 활동을 대행하고 대가를 받을 수 있다.
 ⑤ 여러 기업과 공동 투자하여 기술, 관리 능력을 공유할 수 있다.

15. 다음은 A 학생이 작성한 증권 시장에 대한 조사 보고서의 일부이다. 이를 작성하는 과정에서 나타난 의문점에 대한 답으로 옳은 것은?



- ① 역경매 방식으로 거래된다.
 ② 동시 경쟁을 통한 균형 가격으로 거래된다.
 ③ 판매자와 구매자 간 입찰 방식으로 거래된다.
 ④ 공기업의 공사 발주 시 사용하는 매매 방식과 동일하게 거래된다.
 ⑤ 구두나 손짓으로 최고 가격을 신청한 자에게 판매하는 방법으로 거래된다.

16. 표는 ○○국의 국제수지 누계를 나타낸 것이다. [2013년 1월 ~11월 말 누계] 대비 [2013년 연간 누계] 결과가 나타날 수 있는 12월 한 달 동안의 국제수지 관련 거래 사례로 적절한 것은? (단, 제시된 국제수지 관련 거래 외에는 고려하지 않는다.) [3점]

구분	상품 수지	서비스 수지	소득 수지	경상이전 수지	투자 수지
2013년 1월 ~ 11월 말 누계	100	-10	-10	30	20
2013년 연간 누계	-50	5	70	-10	30

* 현재 소득수지는 본원소득수지로, 경상이전수지는 이전소득수지로, 투자수지는 금융계정으로 변경되었다.

- ① 외국에 무상으로 10억 달러를 지원하였다.
- ② 외국에 상품을 수출하고 대금 40억 달러를 받았다.
- ③ 해외에 있는 외국 기업에 투자한 자본에 대한 이익 배당금으로 80억 달러를 받았다.
- ④ 내국인의 해외 증권 투자 금액이 외국인의 국내 증권 투자 금액보다 150억 달러 많았다.
- ⑤ 내국인이 해외 관광에서 지출한 금액이 외국인으로부터 획득한 국내 관광 수입보다 15억 달러 많았다.

17. 다음은 ○○씨가 작성한 [창업 계획]과 [입지별 특성]을 나타낸 것이다. 이를 바탕으로 ○○씨가 선택할 점포 입지로 A~E 지역 중 가장 적절한 것은?

<p>[창업 계획] 가정에서 자주 필요로 하는 식료품을 쉽고 빠르게 구매 할 수 있는 소규모의 점포 창업</p>	<p>[입지별 특성]</p>
--	-----------------

- ① A 지역 ② B 지역 ③ C 지역
- ④ D 지역 ⑤ E 지역

18. 다음은 통화신용정책에 관한 뉴스 내용이다. 이에 나타난 통화신용정책이 시행될 경우 취할 수 있는 합리적인 선택으로 적절한 것만을 <보기>에서 있는 대로 고른 것은? (단, 금리만 고려한다.) [3점]

○ 기 자: 최근 경기 침체로 인해 실업이 증가하고 있습니다.
○ 전문가: 시중에 유동성 자금이 부족하기 때문에 이러한 현상은 지속될 것 같습니다.
○ 기 자: 그러면 어떤 조치가 필요할까요?
○ 전문가: 한국은행이 유동성 자금을 늘리기 위해 지속적으로 금리를 조정하는 정책을 시행해야 합니다.

— <보기> —
ㄱ. 확정 금리형 금융 상품에 가입한다.
ㄴ. 고정 금리의 예금 상품은 계속 유지한다.
ㄷ. 변동 금리로 계약한 대출을 고정 금리로 전환한다.

- ① ㄱ ② ㄷ ③ ㄱ, ㄴ
- ④ ㄴ, ㄷ ⑤ ㄱ, ㄴ, ㄷ

19. 다음은 A씨가 사업 계획을 수립하는 과정이다. 이와 같은 계획에 따라 사업을 할 경우 나타날 수 있는 현상으로 적절한 것을 <보기>에서 고른 것은? (단, 제시된 자료 외에는 고려하지 않는다.) [3점]

상 황	A 씨는 사업 계획을 수립하기 위해 상품을 선택하고 관리하는 방법을 결정하기로 함.
↓	
상품 선택	상권의 특성을 반영하여 유명 브랜드 가구를 취급하기로 결정
관리 방법	○ EDI 활용 ○ 차별화된 고가격, 고품질 가구 판매 ○ 브랜드 충성도가 높은 고객에게 카탈로그 발송

— <보기> —
ㄱ. 박리다매 방식으로 상품의 회전율이 높아질 것이다.
ㄴ. 상품별 판매 시간 및 할인 판매 효과 측정이 가능할 것이다.
ㄷ. 표준화된 양식을 활용하여 공급업자와 정보를 공유할 수 있을 것이다.
ㄹ. DM 광고 방식을 통해 고객에게 신제품 정보를 제공할 수 있을 것이다.

- ① ㄱ, ㄴ ② ㄱ, ㄷ ③ ㄴ, ㄷ
- ④ ㄴ, ㄹ ⑤ ㄷ, ㄹ

20. 표는 [결제 형태에 따른 연도별 수출 대금 결제 금액]을 나타낸 것이다. 2012년 대비 2013년의 결제 형태에 따른 결제 금액 변화에 대한 설명으로 옳은 것을 <보기>에서 고른 것은? [3점]

결제 형태	2012년	2013년
D/P	7,083	6,417
D/A	44,388	45,463
L/C	일람출급	53,134
	기한부	21,984
T/T, M/T	273,861	293,515

- 한국무역협회(www.kita.net), 2014 -

— <보기> —
ㄱ. 기한부 환어음을 발행하여 추심을 의뢰하는 방식에 의한 결제 금액은 감소하였다.
ㄴ. 발행 은행이 수입 대금 지급을 보증하는 방식에 의한 결제 금액은 감소하였다.
ㄷ. 전신, 우편을 이용하여 대금 지급을 지시하는 방식에 의한 결제 금액은 감소하였다.
ㄹ. 일람출급 환어음을 발행하여 추심을 의뢰하는 방식에 의한 결제 금액은 감소하였다.

- ① ㄱ, ㄴ ② ㄱ, ㄷ ③ ㄴ, ㄷ
- ④ ㄴ, ㄹ ⑤ ㄷ, ㄹ

* 확인 사항
○ 답안지의 해당란에 필요한 내용을 정확히 기입(표기)했는지 확인 하시오.

제 4 교시

직업탐구 영역(상업 정보②)

성명

수험 번호

1. 다음은 A 학생이 거래의 종류에 대하여 작성한 과제 수행 보고서의 일부이다. (가)에 해당하는 거래로 옳은 것은?

과제 수행 보고서	
작성자: A	
과제명	손익 발생 여부에 따른 거래의 종류
○ 거래의 종류	
(가)	자산, 부채, 자본에만 증감 변화를 일으키는 거래
손익거래	하나의 거래 총액이 수익 또는 비용으로 이루어지는 거래
혼합거래	(가)와 손익거래가 혼합하여 동시에 발생하는 거래

- ① 전기 요금 ₩20,000을 현금으로 지급하다.
- ② 광고선전비 ₩300,000을 당좌수표를 발행하여 지급하다.
- ③ 단기대여금에 대한 이자 ₩40,000이 당좌예금 계좌에 입금되다.
- ④ 매출처의 외상매출금 ₩500,000을 동점 발행 당좌수표로 회수하다.
- ⑤ 단기차입금 ₩300,000과 그에 대한 이자 ₩30,000을 현금으로 지급하다.

2. 다음은 △△(주)가 보유하고 있던 주식의 처분에 관한 기사 내용이다. 이를 △△(주)가 회계 처리한 후 차변 계정과목의 재무상태표 통합 표시 항목으로 옳은 것은?

△△(주)는 2일 보유하고 있던 □□(주)의 주식 전량을 □□(주) 최대 주주에게 처분했다고 공시했다. 이 주식의 처분으로 △△(주)가 수취한 현금은 20억 원이다.
- ○○신문, 2014년 7월 3일 자 -

- ① 소액현금 ② 당좌예금 ③ 매출채권
- ④ 현금성자산 ⑤ 현금및현금성자산

3. 다음은 ○○(주)가 업무용 차량과 관련하여 인터넷뱅킹을 통해 계좌 이체한 금액의 납부 확인증이다. 이를 ○○(주)가 분개할 때 차변 계정과목으로 옳은 것은?

납부 확인증	
납부일	2014-06-30
납부기관	△△은행
출금계좌번호	123-45-678-***
종 류	지방세
청구기관	□□시
전자납부번호	46030*****
과세내용	자동차세(자동차)
금 액	122,430원
위 금액을 수납/납부하였습니다. 2014-06-30 △△은행	

- ① 잡손실 ② 기부금 ③ 수선비
- ④ 운반비 ⑤ 세금과공과

4. 다음은 개인기업인 ○○상점과 △△가구(주) 간의 [거래]를 분개하여 각 기업의 총계정원장에 전기한 내용의 일부이다. (가), (나)에 해당하는 계정과목으로 옳은 것은? (단, 상품 매매는 3분법에 의하며, 제시된 자료 외에는 고려하지 않는다.) [3점]

[거래]

7월 1일 ○○상점은 △△가구(주)로부터 업무용 책상과 의자를 ₩700,000에 구입하고 대금은 10일 후에 지급하기로 하다.

○ 각 기업의 총계정원장 일부

- ○○상점

(가)	
	7/ 1 비 품 700,000

- △△가구(주)

(나)	
7/ 1 매 출 700,000	

- | | |
|---------|-------|
| (가) | (나) |
| ① 선수금 | 선급금 |
| ② 선급금 | 미수금 |
| ③ 미지급금 | 미수금 |
| ④ 미지급금 | 외상매출금 |
| ⑤ 외상매입금 | 외상매출금 |

5. 다음 대화는 회계의 역할에 대한 기자와 전문가의 인터뷰 내용이다. (가)에 들어갈 보고서로 옳지 않은 것은? (단, 한국채택국제 회계기준을 적용한다.)



※ 일반기업회계기준에서는 포괄손익계산서를 손익계산서라고 한다.

- ① 총계정원장 ② 재무상태표 ③ 자본변동표
- ④ 현금흐름표 ⑤ 포괄손익계산서

6. 다음은 △△(주)의 [외화단기차입금 현황]과 [원/달러 환율]을 나타낸 기사 내용이다. 이를 통해 2014년 7월 2일 차입금 상환 시 나타나는 손익 관련 계정과목으로 옳은 것은? (단, 일반기업회계기준을 적용하고, 회계기간은 매년 1월 1일부터 12월 31일까지이며, 제시된 자료 외에는 고려하지 않는다.)

[외화단기차입금 현황]

- 2014년 3월 3일 US \$1,000 차입(환율 ₩1,070.70/US\$1)
- 2014년 7월 2일 차입금 전액 현금 상환

[원/달러 환율]

최근 원/달러 환율이 지속적으로 하락하여 달러(US)당 1,000원 선에 바짝 다가섰다. 7월 2일 달러화 대비 원화 환율은 1,009.20원이었다.

- ○○신문, 2014년 7월 3일 자 -

※ 한국채택국제회계기준에서는 외환차익과 외화환산이익, 외환차손과 외화환산손실을 구분하지 않고, 외환차이라고 한다.

- ① 외환차손 ② 외환차익 ③ 외화환산손실
- ④ 외화환산이익 ⑤ 채무면제이익

7. 다음은 ○○(주)의 자금 확보와 관련된 이사회 회의록 일부이다. 이를 실행하였을 때의 분개로 옳은 것은? (단, 일반기업회계기준을 적용하며, 제시된 자료 외에는 고려하지 않는다.) [3점]

이사회 회의록			
일시	2014년 9월 1일(월) 10시	장소	회의실
안건	자금 확보를 위한 자기주식 처분		
회의 내용	○ 다음과 같이 자기주식을 처분하기로 결의함. - 보유 중인 자기주식 200주(1주당 액면금액 ₩5,000, 취득금액 ₩6,000)를 1주당 ₩7,000에 처분하고, 대금은 보통예금에 예입하기로 함.		

※ 한국채택국제회계기준에서는 단기투자자산처분이익을 단기매매금융자산처분이익이라고 한다.

	차변		대변
① 보통예금	1,200,000	자기주식	1,200,000
② 보통예금	1,200,000	자기주식	1,000,000
		자기주식처분이익	200,000
③ 보통예금	1,400,000	자기주식	1,200,000
		자기주식처분이익	200,000
④ 보통예금	1,400,000	자기주식	1,200,000
		단기투자자산처분이익	200,000
⑤ 보통예금	1,400,000	자기주식	1,000,000
		단기투자자산처분이익	400,000

8. 다음은 ○○(주)의 2013년 단기매매금융자산과 관련된 거래이다. 이를 회계 처리한 경우 2013년 결산 시 당기순이익에 미치는 금액의 증감으로 옳은 것은? (단, 한국채택국제회계기준을 적용하고, 회계기간은 매년 1월 1일부터 12월 31일까지이며, 제시된 자료 외에는 고려하지 않는다.) [3점]

11월 27일 단기간 내의 매매 차익을 얻을 목적으로 △△(주)의 주식 300주(1주당 액면금액 ₩5,000)를 1주당 ₩8,000에 취득하고 대금은 수수료 ₩50,000과 함께 현금으로 지급하다.

12월 31일 결산일 현재 보유 중인 위 주식의 공정가치를 1주당 ₩7,000으로 평가하다.

※ 일반기업회계기준에서는 단기매매금융자산을 단기매매증권이라고 한다.

- ① ₩250,000 증가 ② ₩350,000 증가 ③ ₩250,000 감소
- ④ ₩300,000 감소 ⑤ ₩350,000 감소

9. 다음은 개인기업인 ○○상점이 8월 29일에 발생한 거래의 내용을 잘못 분개하여 기입한 분개장의 일부이다. 이를 수정한 분개로 옳은 것은?

분개장

월 일	적 요	원면	차변	대변
8 29	(여비교통비)	생	20,000	
	(현 금)	락		20,000
	본사 사원 결혼 축의금 현금 지급			

	차변		대변
① 접대비	20,000	현금	20,000
② 복리후생비	20,000	접대비	20,000
③ 복리후생비	20,000	여비교통비	20,000
④ 여비교통비	20,000	접대비	20,000
⑤ 여비교통비	20,000	복리후생비	20,000

10. 다음은 ○○(주)의 [거래]와 이를 분개하여 잘못 전기한 [총계정원장의 일부]이다. 이를 정정하지 않았을 경우 결산 시 재무상태표 항목에 미치는 영향으로 옳은 것만을 <보기>에서 있는 대로 고른 것은? (단, 회계기간은 매년 1월 1일부터 12월 31일까지이며, 제시된 자료 외에는 고려하지 않는다.) [3점]

[거래]

10월 1일 거래처로부터 현금 ₩100,000을 차입하고 6개월 후에 지급하기로 하다.

[총계정원장의 일부]

장기대여금			
1/ 1 전 기 이 월	500,000	10/ 1 현	금 100,000

— <보기> —

ㄱ. 유동자산 ₩100,000 과대 계상
 ㄴ. 유동부채 ₩100,000 과소 계상
 ㄷ. 비유동자산 ₩100,000 과소 계상

- ① ㄱ ② ㄴ ③ ㄱ, ㄷ ④ ㄴ, ㄷ ⑤ ㄱ, ㄴ, ㄷ

11. 다음은 ○○(주)의 받을어음 계정을 나타낸 것이다. 이를 통해 추정한 거래로 옳은 것을 <보기>에서 고른 것은? (단, 상품 매매는 3분법에 의하고, 어음의 배서 양도는 매각 거래로 회계 처리하며, 제시된 자료 외에는 고려하지 않는다.) [3점]

1/ 1 전 기 이 월 500,000	4/15 매 입 300,000
3/ 3 매 출 600,000	6/27 당 좌 예 금 600,000
7/18 외 상 매 출 금 200,000	

— < 보 기 > —

ㄱ. 3월 3일 상품 ₩600,000을 매출하고 대금은 매출처 발행 30일 후 만기의 약속어음으로 받다.
 ㄴ. 4월 15일 상품 ₩300,000을 매입하고 대금은 소지하고 있던 타인발행 약속어음을 배서 양도하다.
 ㄷ. 6월 27일 당점 발행 약속어음 ₩600,000이 만기가 되어 당좌수표를 발행하여 지급하다.
 ㄹ. 7월 18일 매입처의 외상매입금 ₩200,000을 60일 후 만기의 약속어음을 발행하여 지급하다.

- ① ㄱ, ㄴ ② ㄱ, ㄷ ③ ㄴ, ㄷ
 ④ ㄴ, ㄹ ⑤ ㄷ, ㄹ

12. 다음은 ○○(주)의 2014년 3월 31일 발생한 거래를 기입한 전표이다. (가), (나)에 해당하는 내용으로 옳은 것은? (단, 3전표제를 채택한다.)

		계	과장	부장
		현금	교통	평가
No. 16 2014년 3월 31일				
계정과목	(나)	거래처	△△통신	
적 요		금 액		
사무실 인터넷 사용 요금 현금 지급			5 0 0 0 0	
합 계			₩ 5 0 0 0 0	

- (가) (나) (가) (나)
 ① 입금 통신비 ② 입금 수도권열비
 ③ 출금 통신비 ④ 출금 수도권열비
 ⑤ 출금 임차료

13. 다음은 ○○(주)의 외상매출금 관련 거래와 대손충당금 계정이다. 7월 28일 거래를 회계 처리한 후 대손충당금 계정 잔액으로 옳은 것은?

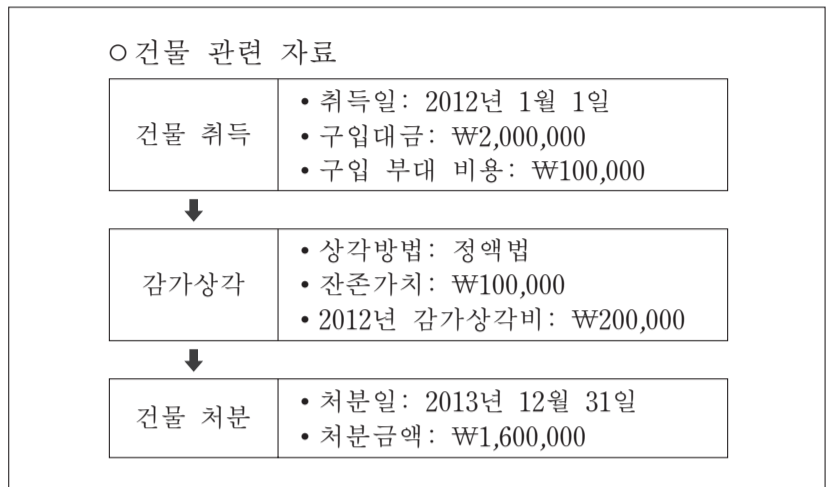
○ 외상매출금 관련 거래
 7월 28일 거래처가 파산하여 외상매출금 ₩60,000이 회수 불능으로 확정되다.

대손충당금

5/ 6 외 상 매 출 금 50,000	1/ 1 전 기 이 월 120,000
	7/15 현 금 10,000

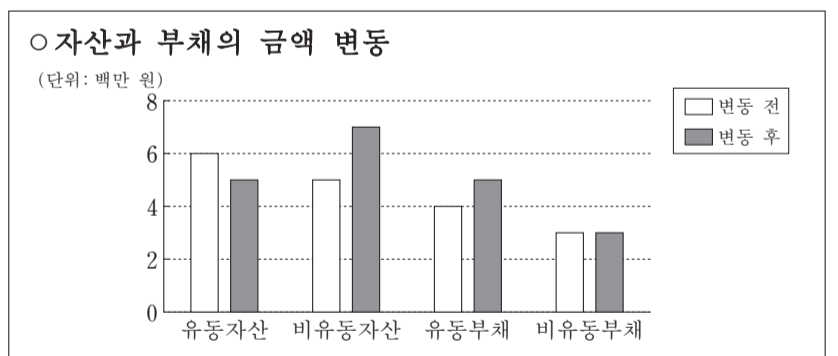
- ① ₩10,000 ② ₩20,000 ③ ₩40,000
 ④ ₩50,000 ⑤ ₩70,000

14. 다음은 ○○(주)의 업무용 건물 관련 자료이다. 이를 통해 알 수 있는 내용으로 옳은 것은? (단, 회계기간은 매년 1월 1일부터 12월 31일까지이며, 제시된 자료 외에는 고려하지 않는다.) [3점]



- ① 건물의 내용연수는 20년이다.
 ② 건물의 취득원가는 ₩2,000,000이다.
 ③ 2012년 12월 31일 결산 후 건물의 장부금액은 ₩1,900,000이다.
 ④ 2013년 12월 31일 결산 후 건물감가상각누계액은 ₩420,000이다.
 ⑤ 건물의 처분으로 발생한 유형자산처분이익은 ₩100,000이다.

15. 그래프는 ○○(주)의 자산과 부채의 금액 변동을 나타낸 것이다. 이와 같은 결과가 나타날 수 있는 거래를 추정한 것으로 옳은 것은? (단, 제시된 자료 외에는 고려하지 않는다.) [3점]



- ① 신주 200주(1주당 액면금액 ₩5,000)를 1주당 ₩10,000에 발행하고 납입금은 당좌예입하다.
 ② 업무용으로 사용하던 토지를 ₩2,000,000(장부금액 ₩1,000,000)에 처분하고 대금은 1개월 후에 받기로 하다.
 ③ 상품 ₩2,000,000을 매입하고 대금 중 ₩1,000,000은 현금으로 지급하고 잔액은 1개월 후에 지급하기로 하다.
 ④ 업무용 트럭을 ₩2,000,000에 구입하고 대금 중 ₩1,000,000은 현금으로 지급하고 잔액은 2개월 후에 지급하기로 하다.
 ⑤ 매입처에 발행하여 주었던 약속어음 ₩2,000,000이 만기가 도래 하였으나 1개월 간 만기 연장을 요청하여 승낙을 받고 새로운 어음을 발행하여 주다.

