

제 4 교시

# 사회탐구 영역 (세계 지리)

성명  수험 번호

1. 다음은 세계 지리 수업 장면의 일부이다. 교사의 질문에 옳게 대답한 학생을 고른 것은?

◎ 단원명: 유럽의 축제

(가) 부농의 토마토 축제 (나) 뮌헨의 옥토버 페스트

(가), (나) 축제에 대해 설명해 볼까요?

갑: (가) 축제의 대표적 볼거리는 전통 복장을 한 카리브 해 출신 이주자들의 거리 행진입니다.

을: (가) 축제가 열리는 지역은 여름철이 고온 건조한 기후 특성을 보이고 있습니다.

병: (나) 축제는 선조들의 개척 정신과 용맹성 그리고 뛰어난 항해술을 기리기 위한 것입니다.

정: (가), (나) 축제는 지역 특산물을 활용한 것으로 지역 경제 활성화에 많은 도움이 되고 있습니다.

- ① 갑, 을    ② 갑, 병    ③ 을, 병    ④ 을, 정    ⑤ 병, 정

2. 다음은 ○○○ 학생의 수행 평가 보고서의 일부이다. (가) 자료를 이용한 지리 정보 분석 사례로 가장 적절한 것은?

<주제> (가) 자료를 활용한 두바이의 변화 모습 탐구

△학년 □반 ○○○

1973년                      2010년

• 분석 내용  
과거의 두바이는 작은 어촌에 불과했지만, 오늘날 다양한 인공 시설물이 들어선 지역으로 바뀌었음.

...(중략)...


• 분석 방법의 장점  
항공 사진이나 (가) 자료를 이용하면 넓은 지역의 정보를 한 번에 수집할 수 있고, 시간에 따른 변화 내용도 파악할 수 있음.

- ① 아프리카의 민족 분포와 성비  
② 중국의 의료 수준과 기대 수명  
③ 아마존 강 유역의 열대 우림 훼손 면적  
④ 오스트레일리아의 소수 언어 쇠퇴 요인  
⑤ 북아메리카 자유무역협정(NAFTA) 회원국의 무역액

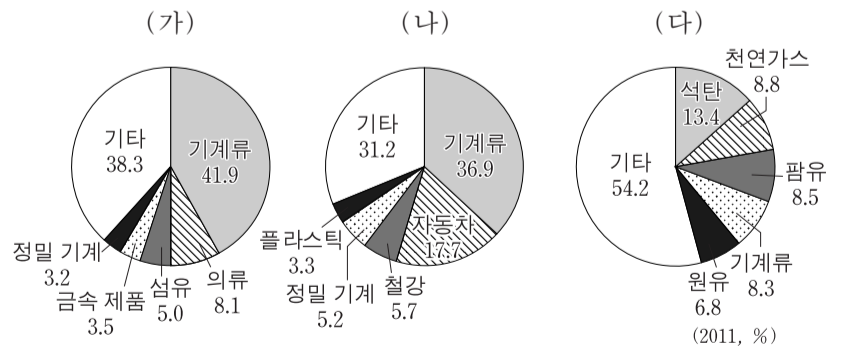
3. 다음은 ○○ 학생이 외국에 있는 누나로부터 받은 전자 우편의 일부이다. (가), (나) 종교에 대한 설명으로 옳은 것은? [3점]

...[전락]... 우리 가족사에는 동남아시아에서 온 유학생들이 많아. 나는 그들과 함께 요리를 자주 해 먹는데, (가) 종교 신자인 □□가 돼지고기를 먹지 않아서 요리할 때마다 조심스러워. 그 친구는 라마단이라는 금식 기간에는 낮 동안 아무것도 먹지 않아. 또, 한국의 주요 종교 중의 하나인 (나) 종교 신자 △△는 풀밭의 작은 동물이나 곤충들도 밟지 않으려고 많은 노력을 하더군. 나중에 알고 보니 살생 금지라는 종교적 계율을 평소에도 실천하는 친구였어. ...[후략]...

- ① (가)는 육식과 음주를 금기시한다.  
② (가)의 여신도들은 천으로 머리카락이나 몸을 가리는 경우가 많다.  
③ (나)는 성지 순례를 계율로 정하고 있다.  
④ (나)는 대표적인 민족 종교로 카스트 제도와 깊은 관련이 있다.  
⑤ (가), (나) 모두 유럽 국가의 식민지 지배를 통해 동남아시아로 확산되었다.
4. 그래프는 신·재생 에너지 (가)와 (나)의 생산량 비중 상위 5개국을 나타낸 것이다. 이에 대한 설명으로 옳은 것은? [3점]




- ① (가)는 조수 간만의 차가 큰 지역이 생산에 유리하다.  
② (가)는 낙차가 크고 수량이 풍부한 지역이 생산에 유리하다.  
③ (가)는 바람이 많이 부는 산지나 해안 지역이 생산에 유리하다.  
④ (나)는 일사량이 많은 지역이 개발에 유리하다.  
⑤ (나)는 지각판의 경계 지역이 개발에 유리하다.
5. 그래프는 (가)~(다) 국가의 주요 수출 품목 비중을 나타낸 것이다. 이에 대한 추론으로 가장 적절한 것은? (단, (가)~(다)는 일본, 중국, 인도네시아 중 하나임.) [3점]



- ① (가)는 (나)보다 1인당 국민 소득이 높을 것이다.  
② (가)는 (다)보다 1차 상품의 수출 비중이 높을 것이다.  
③ (나)는 (가)보다 서비스업 종사자 수 비율이 높을 것이다.  
④ (나)는 (다)보다 노동 집약적 산업 비중이 높을 것이다.  
⑤ (다)는 (나)보다 첨단 산업 제품의 수출 비중이 높을 것이다.

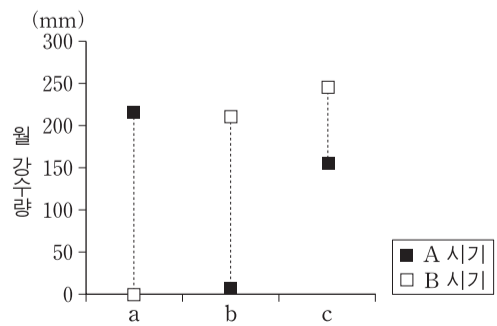
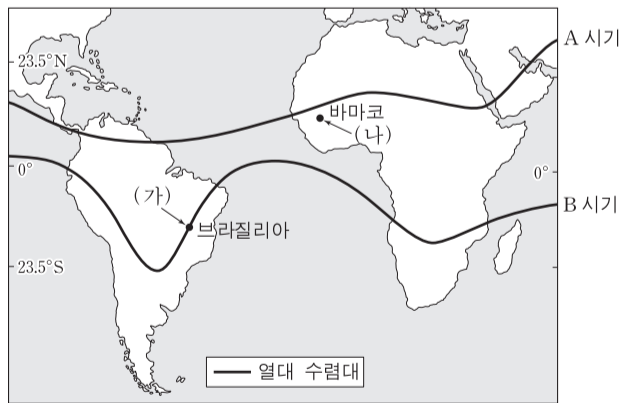
6. 지도 A, B와 관계가 깊은 지도 제작자에 대한 설명을 (가)~(다)에서 고른 것은? [3점]



(가) 그리스·로마 시대에 활동한 그는 투영법과 경·위도 개념을 사용하여 지도를 제작하였다. 그의 지도학적 업적은 유럽의 르네상스 시대에 재조명되어 유럽인들의 세계관을 넓혀 주었다.  
 (나) 북부 아프리카에서 태어난 그는 이슬람 지리학의 성과를 토대로 세계 지도를 만들었다. 지도의 위쪽이 남쪽을 가리키는 그의 지도는 아름다운 색채감과 기호로 유명하다.  
 (다) 16세기 네덜란드에서 태어난 그는 경선과 위선이 수직으로 교차하여 항로의 정확한 각도를 파악할 수 있는 지도 제작법을 고안하였다. 하지만 이 제작법은 고위도 지역이 실제 면적보다 크게 확대된다는 단점이 있다.

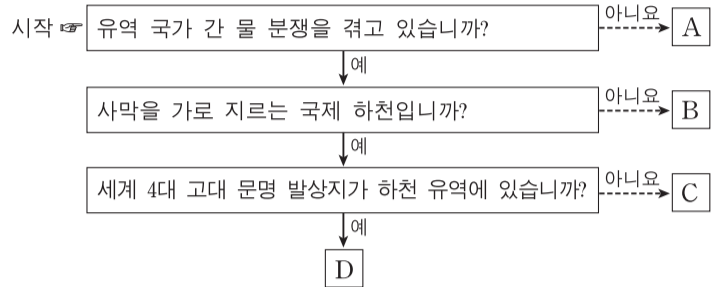
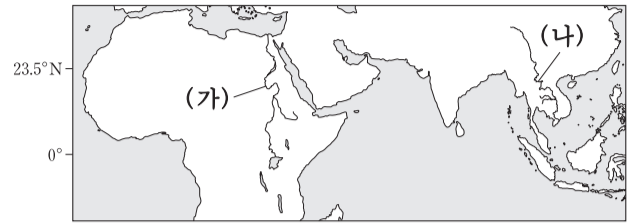
- ① A   B                      ② A   B                      ③ A   B  
 ④ (가) (나)                      ⑤ (가) (다)                      ⑥ (나) (가)

7. 지도는 계절에 따른 열대 수렴대의 이동을 나타낸 것이다. (가), (나) 지역에 해당하는 시기별 강수량을 그래프에서 고른 것은? (단, A, B 시기는 1월과 7월 중 하나임.) [3점]



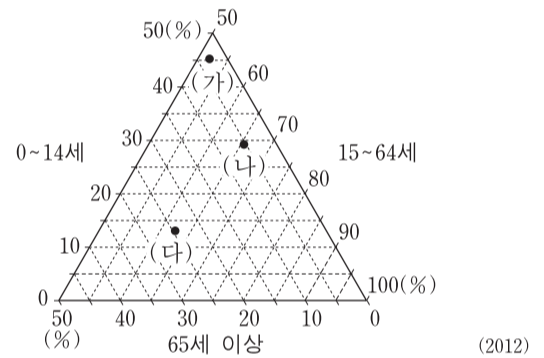
- ① (가)   (나)                      ② (가)   (나)                      ③ (가)   (나)  
 ④ a      b                              ⑤ a      c                              ⑥ b      a

8. 지도의 (가), (나) 하천에 해당하는 내용을 그림의 A~D에서 고른 것은?



- ① (가)   (나)                      ② (가)   (나)                      ③ (가)   (나)  
 ④ A      B                              ⑤ A      C                              ⑥ B      C

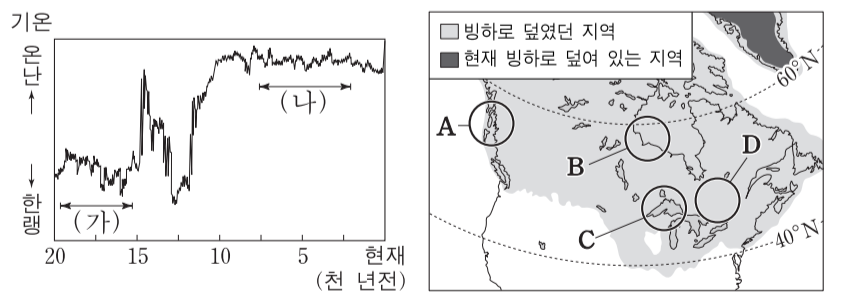
9. 그래프는 (가)~(다) 국가의 연령층별 인구 비중을 나타낸 것이다. 이에 대한 옳은 설명을 <보기>에서 고른 것은?



<보기>  
 가. (가)의 인구 피라미드는 종형이다.  
 나. 생산 연령층 인구 비중이 가장 낮은 국가는 (나)이다.  
 다. 인구 고령화 수준은 (다)가 가장 높다.  
 라. 인구 부양비는 (나)가 (가)보다 작다.

- ① 가, 나                      ② 가, 다                      ③ 나, 다                      ④ 나, 라                      ⑤ 다, 라

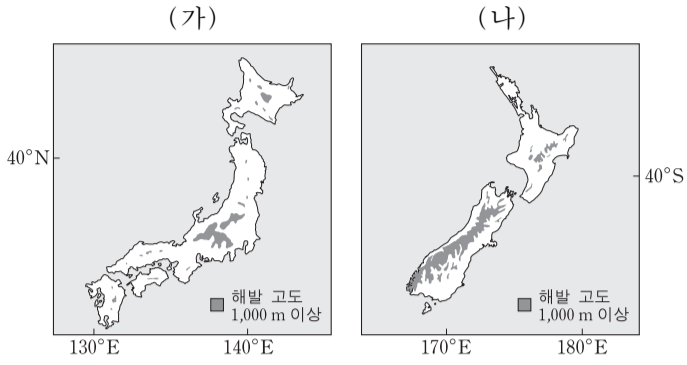
10. 자료를 바탕으로 추론한 내용으로 적절한 것을 <보기>에서 고른 것은? [3점]



<보기>  
 가. (가) 시기에는 B 지역에 구조토가 넓게 나타났을 것이다.  
 나. (가) 시기에는 D 지역에서 광활한 빙력토 평원을 볼 수 있었을 것이다.  
 다. (나) 시기에는 A 지역에 피오르 해안이 발달했을 것이다.  
 라. (나) 시기에는 C 지역에 빙하가 녹아서 형성된 호수가 나타났다.

- ① 가, 나                      ② 가, 다                      ③ 나, 다                      ④ 나, 라                      ⑤ 다, 라

11. (가), (나) 국가의 자연 환경에 대한 옳은 설명을 <보기>에서 고른 것은?



<보기>

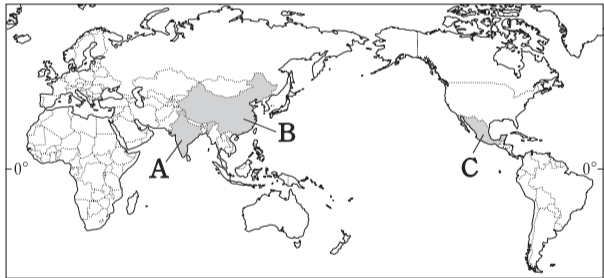
ㄱ. (가)의 산지는 대부분이 고기 습곡 산지로 오랜 침식을 받았다.  
 ㄴ. (나)는 계절풍의 영향으로 하계 강수 집중률이 높다.  
 ㄷ. (나)는 다양한 화산 지형과 간헐천, 온천 등을 관광 자원으로 활용하고 있다.  
 ㄹ. (가)는 (나)보다 열대성 저기압으로 인해 많은 피해를 입고 있다.

- ① ㄱ, ㄴ    ② ㄱ, ㄷ    ③ ㄴ, ㄷ    ④ ㄴ, ㄹ    ⑤ ㄷ, ㄹ

12. 다음 글의 (가), (나) 지역이 속한 국가를 지도의 A~C에서 고른 것은?

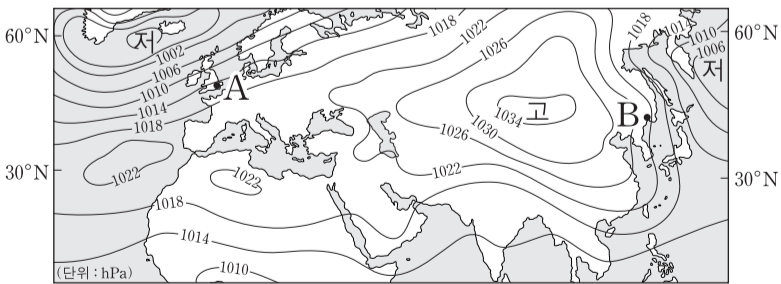
○ (가) 지역에는 수많은 정보 통신 관련 다국적 기업들이 진출해 있으며, 첨단 산업이 급성장하고 있다. 지역 내에 공과 대학 및 과학원이 있고, 영어가 공용어인 관계로 이를 능숙하게 구사하는 고급 기술 인력이 풍부하다. 이로 인하여 미국과의 유기적인 업무 협력도 가능해졌다.

○ (나) 지역은 개혁·개방 정책으로 급속한 경제 성장을 이룩한 이 나라의 수도에 위치한다. 이 지역은 대학 및 연구 기관, 정보 통신 기업들이 집적되어 있는 클러스터로 빠르게 성장하였다. 또한, 각종 전자 제품을 판매하는 전자 상가도 함께 형성되어 있다.



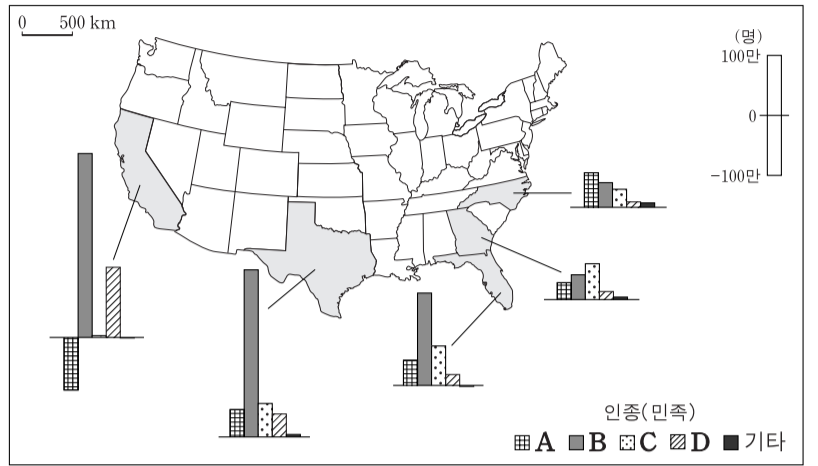
- (가)    (나)    (가)    (나)    (가)    (나)
- ①    A    B    ②    A    C    ③    B    A
- ④    C    A    ⑤    C    B

13. 지도는 어느 계절의 기압 배치를 나타낸 것이다. 이 계절에 A, B 지역에서 나타나는 자연 현상에 대한 설명으로 옳은 것은? [3점]



- ① A 지역은 낮의 길이가 밤의 길이보다 길다.  
 ② B 지역은 대륙에서 해양으로 계절풍이 분다.  
 ③ A 지역은 B 지역보다 강수량이 적다.  
 ④ A 지역은 B 지역보다 평균기온이 낮다.  
 ⑤ A, B 지역 모두 난류보다는 한류의 영향을 더 많이 받는다.

14. 지도는 최근 미국의 인구 증가 상위 5개 주의 인종(민족)별 인구 증감을 나타낸 것이다. A~D에 대한 옳은 설명을 <보기>에서 고른 것은? [3점]



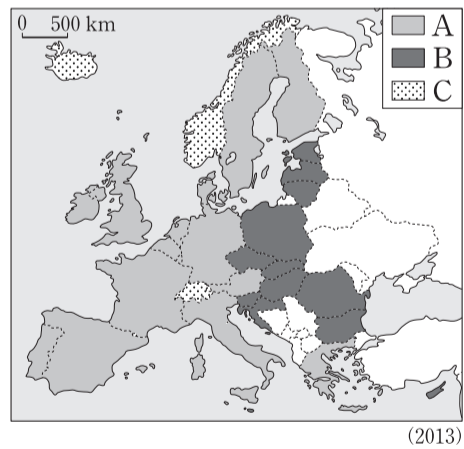
\* 제시된 그래프는 2000년과 2010년의 인구 차이임. (2010)

<보기>

ㄱ. A는 17~18세기에 주로 플랜테이션의 노동자로 강제 이주되었다.  
 ㄴ. B는 가정에서 주로 에스파냐어를 사용한다.  
 ㄷ. C는 미국 전체 인구에서 차지하는 비중이 가장 높으나, 최근 그 비중이 점차 줄고 있다.  
 ㄹ. D는 19세기부터 주로 건설 및 농업 노동자로 정착하기 시작하였다.

- ① ㄱ, ㄴ    ② ㄱ, ㄷ    ③ ㄴ, ㄷ    ④ ㄴ, ㄹ    ⑤ ㄷ, ㄹ

15. 지도의 A~C 국가군에 대한 옳은 설명을 <보기>에서 고른 것은?



<보기>

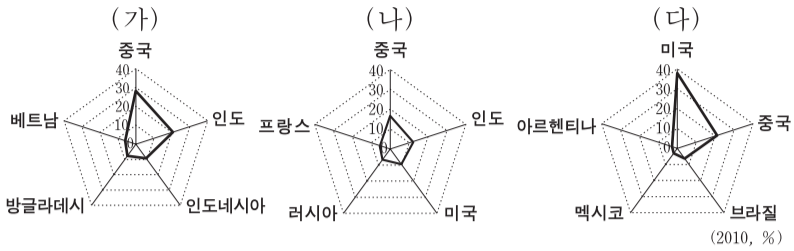
ㄱ. A는 B보다 유럽 연합에 먼저 가입한 국가들이다.  
 ㄴ. B는 유럽 연합에 가입한 이후, 이전에 비해 A로의 노동력 이동 증가가 나타났다.  
 ㄷ. C는 유럽 연합 출범 시기부터 회원국 지위를 유지하고 있다.  
 ㄹ. A와 C의 모든 국가들은 국가 단일 통화로서 유로화를 사용한다.

- ① ㄱ, ㄴ    ② ㄱ, ㄷ    ③ ㄴ, ㄷ    ④ ㄴ, ㄹ    ⑤ ㄷ, ㄹ



# 4 사회탐구 영역 (세계 지리)

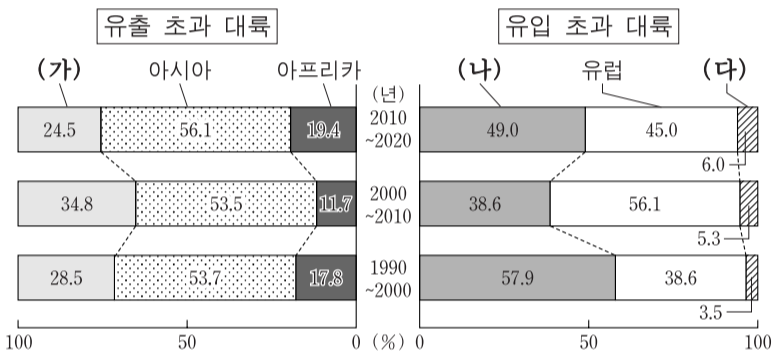
16. 그래프는 주요 식량 자원의 생산량 비중 상위 5개국을 나타낸 것이다. (가)~(다) 식량 자원에 대한 설명으로 옳은 것은? [3점]



- ① (가)는 전통적으로 이동식 경작 방식에 의해 재배된다.
- ② (나)는 생산지와 소비지가 일치하여 국제 이동량이 적은 편이다.
- ③ (다)는 육류 소비의 증대로 사료용으로의 수요가 증가하고 있다.
- ④ (가)는 (나)보다 서늘하고 건조한 기후에서 주로 재배된다.
- ⑤ (가)~(다) 중 단위 면적당 생산량은 (나)가 가장 많다.

17. 그래프는 대륙별 인구 이동에 관한 것이다. (가)~(다)에 해당하는 대륙으로 옳은 것은?

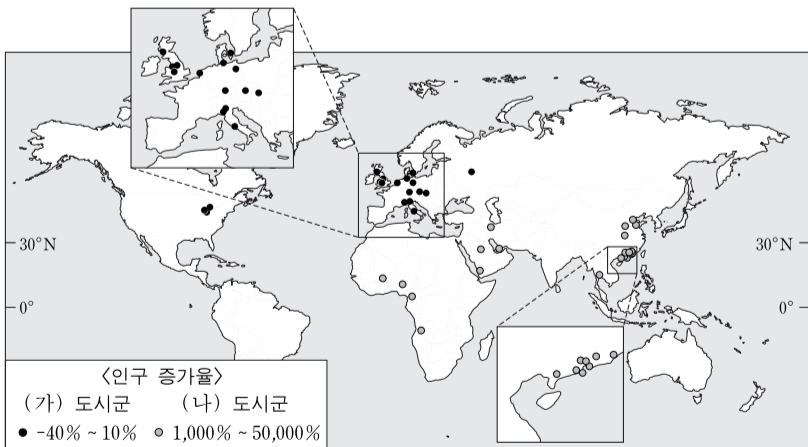
〈인구 순이동의 대륙별 비중 변화〉



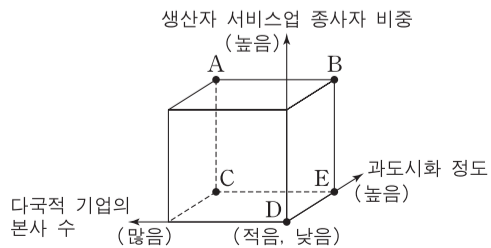
\* 인구의 순이동은 유입 인구에서 유출 인구를 뺀 값임.  
\*\* 2010~2020년 수치는 전망치임.

- |           |         |         |
|-----------|---------|---------|
| (가)       | (나)     | (다)     |
| ① 오세아니아   | 라틴아메리카  | 앵글로아메리카 |
| ② 오세아니아   | 앵글로아메리카 | 라틴아메리카  |
| ③ 라틴아메리카  | 오세아니아   | 앵글로아메리카 |
| ④ 라틴아메리카  | 앵글로아메리카 | 오세아니아   |
| ⑤ 앵글로아메리카 | 라틴아메리카  | 오세아니아   |

18. 지도의 (가) 도시군과 비교한 (나) 도시군의 상대적 특징을 그림의 A~E에서 고른 것은? (단, (가), (나) 도시군의 특징은 각 도시군의 평균을 기준으로 함.)

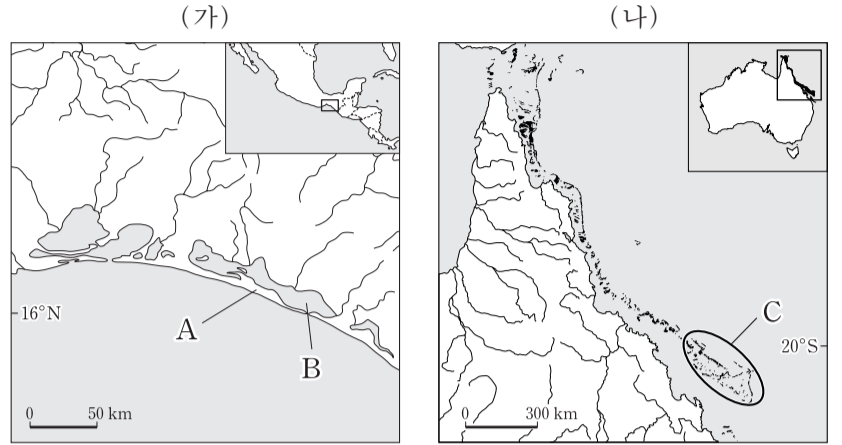


\* 2010년 기준 인구 100만 이상 도시 중 1970년 대비 2010년의 도시 인구 증가율임.



- ① A
- ② B
- ③ C
- ④ D
- ⑤ E

19. 지도 (가), (나)에 표시된 A~C에 대한 설명으로 적절한 것을 <보기>에서 고른 것은? [3점]

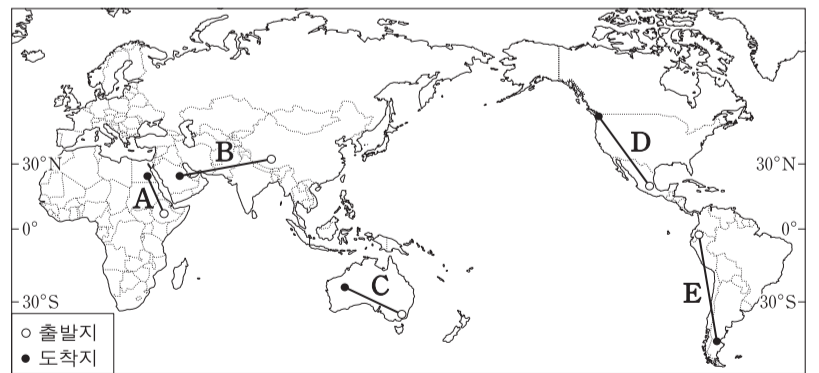
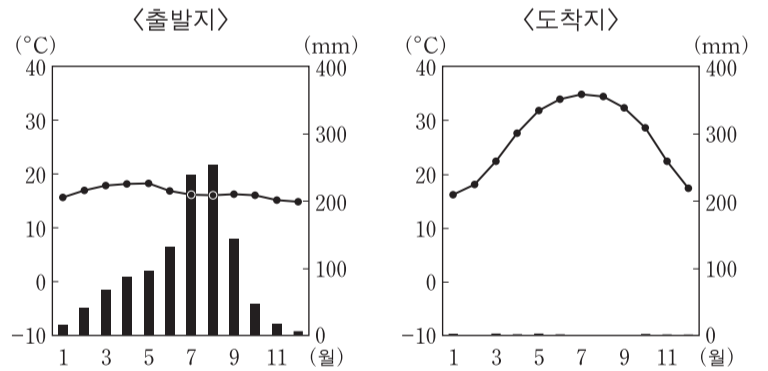


〈보기〉

- ㄱ. A 지형은 퇴적 작용보다 침식 작용이 우세한 해안에서 잘 발달한다.
- ㄴ. A 지형은 수심이 깊은 곳에 형성되며, 대규모 항구 발달에 유리하다.
- ㄷ. B 호수는 현재의 해수면 높이와 토사 공급이 유지되면, 면적이 점차 축소된다.
- ㄹ. C에는 얇은 바다에 서식하는 생물이 죽으면서 남긴 석회질의 유해가 퇴적되어 형성된 지형이 나타난다.

- ① ㄱ, ㄴ    ② ㄱ, ㄷ    ③ ㄴ, ㄷ    ④ ㄴ, ㄹ    ⑤ ㄷ, ㄹ

20. 자료는 ○○ 학생의 여행지 중 출발지와 도착지의 기후 그래프이다. 출발지와 도착지를 바르게 연결한 선을 지도의 A~E에서 고른 것은?



- ① A    ② B    ③ C    ④ D    ⑤ E

\* 확인 사항

○ 답안지의 해당란에 필요한 내용을 정확히 기입(표기)했는지 확인하십시오.