

제 4 교시 탐구 영역 (사회-일반 사회)

성명 수험 번호 1

1. 밑줄 친 ㉠에 해당하는 노력으로 적절한 것을 <보기>에서 고른 것은?

2015년 6월 ○○일

나는 요즘 고민이 많다. ... 지금 나의 모습을 보면 부모님과 닮은 점을 많이 보게 된다. 학교에서는 친구들과 비슷하기도 하고 다른 점도 많은 나의 모습을 발견한다. ... 이제부터 ㉠ '나는 누구인가?', '나는 어떻게 살아가야 하는가?'에 대한 답을 찾기 위해 노력해야겠다.

<보 기>

ㄱ. 다른 사람의 조언을 무비판적으로 받아들인다.
 ㄴ. 자신의 다양한 지위와 역할을 이해하기 위해 노력한다.
 ㄷ. 다른 사람의 시선과 자신에게 주어진 환경에 지나치게 얽매이지 않는다.
 ㄹ. 자신의 가치관이 인간의 존엄성과 같은 보편적 가치와 달라도 지키려고 애쓴다.

- ① ㄱ, ㄴ ② ㄱ, ㄷ ③ ㄴ, ㄷ ④ ㄴ, ㄹ ⑤ ㄷ, ㄹ

2. 밑줄 친 ㉠~㉣과 같은 사회적 상호 작용의 일반적 특징에 대한 설명으로 옳은 것은? (단, ㉠~㉣은 각각 협동, 경쟁, 갈등 중 하나이다.) [3점]

○○야, 지난 번 교내 체육 대회 때는 정말 미안했어. 그때 ㉠ 우리 반과 너희 반의 축구 경기는 정말 손에 땀을 쥐게 했었지. 우리 반 친구들이 ㉡ 한마음으로 응원 연습을 할 때도 너희 반을 견제할 정도였으니까 말이야. 결국 결승전 때 너무 치열하게 응원하다가 ㉢ 서로 몸싸움까지 일어나는 바람에 가장 친한 너에게도 화를 내고 말았어. 내 실수를 용서해 줄래? 우리 예전처럼 사이좋게 지내자.

- 친구 △△가 -

- ① ㉠은 추구하는 목표가 다를 때 나타나는 상호 작용이다.
 ② ㉡은 참가에 따른 보상이 공정하게 분배될 때 잘 이루어진다.
 ③ ㉢은 조직의 효율적 운영을 위해 내부 구성원 사이에 장려된다.
 ④ ㉡은 ㉠, ㉢과 달리 사전에 합의된 규칙이 존재한다.
 ⑤ ㉢은 ㉠, ㉡과 달리 희소한 자원을 얻기 위한 과정에서 반드시 나타난다.

3. 밑줄 친 ㉠에 대한 설명으로 옳은 것은? [3점]

최근 ○○시는 기초 생활 보장 기준을 완화하는 ㉠ 새로운 복지 체도를 도입하였다. 이 체도의 시행으로 그 동안 부모를 부양하지 않는 자녀의 소득 때문에 국민 기초 생활 보장 대상에서 제외되었던 독거 노인과 같은 빈곤층이 최저 생계비를 받을 수 있게 되었다. 이와 같은 체도는 전국의 지방자치단체 중에서 유일하게 시행된 것이다.

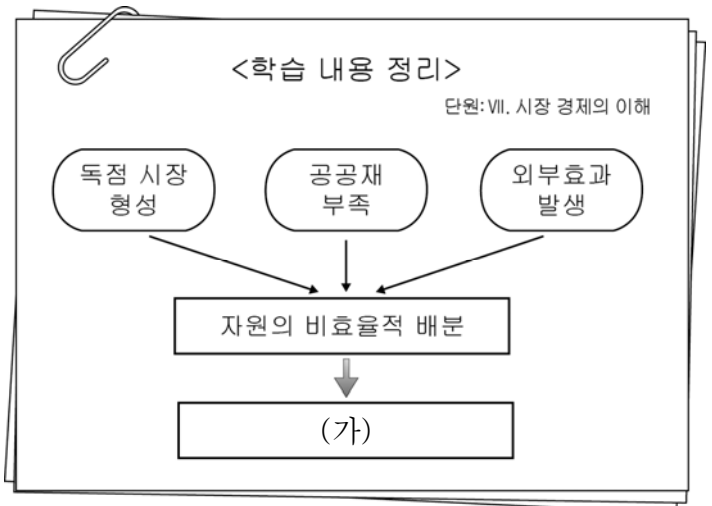
- ① 비금전적 지원 방식을 원칙으로 한다.
 ② 복지 혜택을 받는 사람이 비용을 부담하는 제도이다.
 ③ 자녀와의 동거 여부가 지원 대상자 선정의 기준이 된다.
 ④ 지원이 필요하지만 복지 혜택을 받지 못하는 사람이 줄어들 것이다.
 ⑤ 지방자치단체 간에 복지 혜택을 받는 대상자 범위의 격차가 줄어들 것이다.

4. 밑줄 친 ㉠의 구체적인 방안으로 옳지 않은 것은?

오늘날 대부분의 사회는 구성원의 삶의 질을 높여 인간다운 생활을 보장하는 것을 추구한다. 삶의 질을 높이기 위해서는 개인적 차원의 노력뿐만 아니라 ㉠ 국가적 차원의 노력이 필요하다.

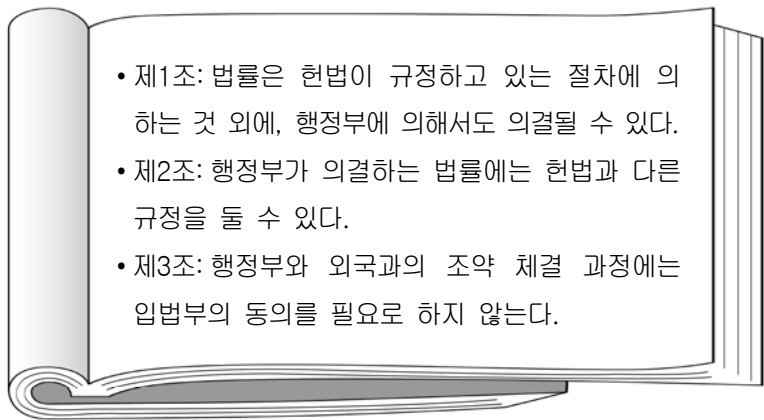
- ① 재능 기부와 사회 봉사에 참여한다.
 ② 정부가 수도권 정비 사업을 실시한다.
 ③ 최저 임금을 보장하는 법률을 제정한다.
 ④ 국·공립 어린이집과 유치원 시설을 늘린다.
 ⑤ 무주택 저소득층을 대상으로 공공임대 주택을 공급한다.

5. 그림은 사회 수업 시간에 사용한 학습지이다. (가)에 들어갈 경제적 개념으로 옳은 것은? [3점]



- ① 자유재 ② 기회비용 ③ 정부 실패
 ④ 초과 공급 ⑤ 시장 실패

6. 다음 법 조항에 대한 분석으로 가장 적절한 것은?



- ① 국가 권력을 입법부로 집중시키고 있다.
- ② 권력 분립의 원리가 지켜지지 않고 있다.
- ③ 법률 제정 권한을 행정부가 독점하고 있다.
- ④ 입헌주의의 원리를 뚜렷하게 보여주고 있다.
- ⑤ 행정부의 고유 권한을 지키도록 강조하고 있다.

7. (가)에 들어갈 옳은 사례를 <보기>에서 고른 것은?

차이와 차별은 구별된다. 차이란 사람들이 상황이나 성, 연령, 민족, 종교 등의 조건에 따라 서로 다른 특성을 보이는 것이다. 이와 달리 차별은 차이를 이유로 특정한 개인이나 집단을 부당하게 대우하는 것이다. 차별의 사례에는 (가) 이 있다.

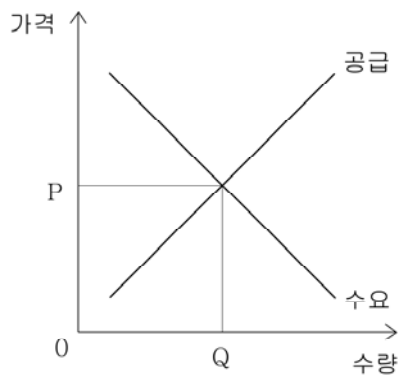
— <보 기> —

- ㄱ. 연령에 따라 유해 업소 출입을 제한하는 것
- ㄴ. 성별에 따라 공직에 진출할 기회를 제한하는 것
- ㄷ. 직원 채용 시 피부색을 평가 기준으로 하여 선발하는 것
- ㄹ. 비장애인보다 시각 장애인에게 시험 시간을 더 많이 주는 것

- ① ㄱ, ㄴ ② ㄱ, ㄷ ③ ㄴ, ㄷ ④ ㄴ, ㄹ ⑤ ㄷ, ㄹ

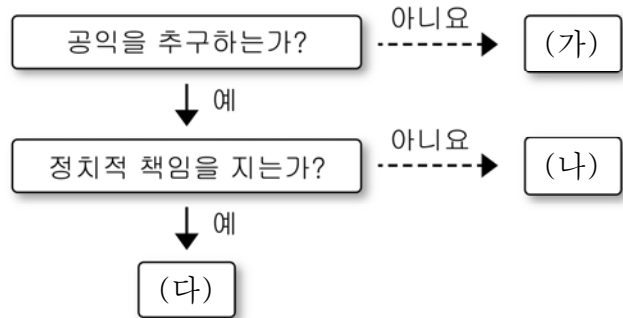
8. 다음과 같은 상황에서 나타날 수 있는 X재 시장의 균형 가격과 균형 거래량의 변화를 골라 옳게 짝지은 것은? (단, X재 수요, 공급의 다른 변화 요인은 고려하지 않는다.) [3점]

X재를 선호하는 사람들이 증가하였고, X재의 생산 요소 가격에는 변화가 없었다.



- | | 균형 가격 | 균형 거래량 | 균형 가격 | 균형 거래량 | |
|---|-------|--------|-------|--------|----|
| ① | 상승 | 증가 | ② | 변동 없음 | 증가 |
| ③ | 상승 | 감소 | ④ | 하락 | 감소 |
| ⑤ | 하락 | 변동 없음 | | | |

9. 그림은 정치 참여 주체의 일반적인 특징을 나타낸 것이다. (가) ~ (다)에 대한 옳은 설명을 <보기>에서 고른 것은? (단, (가) ~ (다)는 각각 정당, 이익 집단, 시민 단체 중 하나이다.)



— <보 기> —

- ㄱ. (가)는 정권을 획득하고 유지하기 위해 노력한다.
- ㄴ. (나)는 국가 정책에 대한 감시와 비판의 기능이 있다.
- ㄷ. (다)는 직업적 이익을 대표하는 기능을 중시한다.
- ㄹ. (가), (나), (다)는 모두 정치 과정에 영향을 미친다.

- ① ㄱ, ㄴ ② ㄱ, ㄷ ③ ㄴ, ㄷ ④ ㄴ, ㄹ ⑤ ㄷ, ㄹ

10. 갑, 을의 견해에 대한 옳은 설명은? [3점]



- ① 갑은 형식적 평등을 주장하고 있다.
- ② 갑은 다문화 가정 자녀들을 사회적 약자로 보고 있다.
- ③ 을은 개인의 선천적·후천적 조건의 차이를 인정하고 있다.
- ④ 을은 '같은 것은 같게, 다른 것은 다르게' 대우하는 평등을 추구하고 있다.
- ⑤ 갑, 을 모두 다문화 가정 자녀에 대한 가산점 제도를 역차별로 보고 있다.

11. 밑줄 친 ㉠이 해당되는 기본권의 특징으로 옳은 것은?

◇◇ 신문

0000년 00월 00일

국회의원 갑은 지난 5월 전자청원시스템을 도입할 것을 제안했다. 그는 “10년 전부터 이 제도를 도입한 □□국과 같이 국민들이 보다 편리하게 ㉠ 청원권을 행사할 수 있는 제도 마련이 필요하다.”고 법안 제출 배경을 설명했다.

- ① 기본권 중 가장 최근에 등장한 권리이다.
- ② 최소한의 생활 수준을 보장하는 권리이다.
- ③ 소극적이고 방어적 성격을 가지는 권리이다.
- ④ 국가 권력의 부당한 간섭을 받지 않을 권리이다.
- ⑤ 다른 기본권 보장을 위한 수단이 되는 권리이다.

12. 문화 이해 태도 (가)~(다)에 대한 설명으로 옳은 것은? (단, (가)~(다)는 각각 문화 상대주의, 자문화 중심주의, 문화 사대주의 중 하나이다.) [3점]

구 분	(가)	(나)	(다)
문화를 평가의 대상으로 보는가?	예	예	아니요
자기 문화의 우월성을 강조하는가?	예	아니요	아니요

- ① (가)는 다른 문화의 장점을 수용하는 데 유리하다.
- ② (나)는 자기 문화의 정체성을 상실할 우려가 있다.
- ③ (다)는 타문화와의 접촉 과정에서 문화적 마찰을 발생시킬 가능성이 크다.
- ④ (가)는 (다)와 달리 문화의 다양성 보존에 기여한다.
- ⑤ (가), (나) 모두 사회적 환경과 맥락을 고려한 문화 이해를 강조한다.

13. (가), (나)에 대한 옳은 설명을 <보기>에서 고른 것은?

(가)

프랑스 인권 선언

인간은 권리에 있어 자유롭고 평등하게 태어나... 모든 정치적 단결의 목적은 침해할 수 없는 인간의 자연권을 보호하는 데 있다. ...

(나)

미국 독립 선언

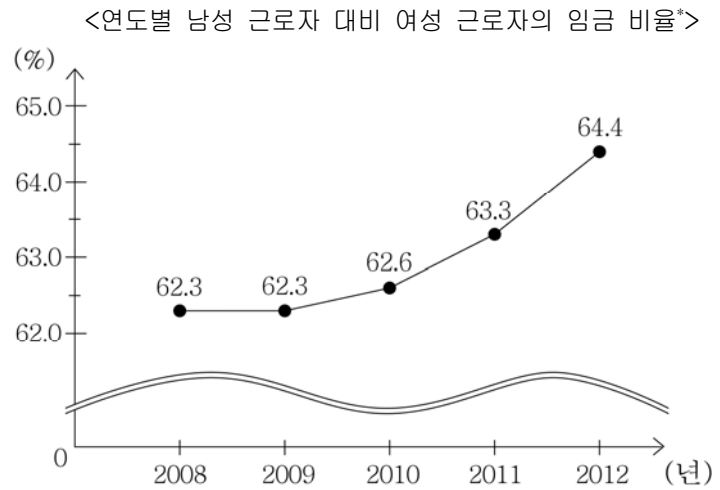
모든 사람은 누구에게도 양도하거나 침해당하지 않을 생명과 자유, 그리고 행복을 추구할 권리를 평등하게 지니고 태어났다. ...

<보 기>

ㄱ. (가)는 영국 명예혁명에 영향을 주었다.
 ㄴ. (나)는 천부인권 사상에 기초하고 있다.
 ㄷ. (나)로 인해 보통선거 제도가 정착되었다.
 ㄹ. (가), (나) 모두 계몽사상의 영향을 받았다.

- ① ㄱ, ㄴ ② ㄱ, ㄷ ③ ㄴ, ㄷ ④ ㄴ, ㄹ ⑤ ㄷ, ㄹ

14. 그래프에 대한 분석으로 옳은 것은? [3점]



* 남성 근로자 대비 여성 근로자의 임금 비율(%) = $\frac{\text{해당연도 여성 근로자의 평균 임금}}{\text{해당연도 남성 근로자의 평균 임금}} \times 100$
 ** 남성 근로자의 평균 임금은 매년 5%씩 증가한다.

- ① 2008년 여성 근로자 평균 임금은 62만 3천 원이다.
- ② 2009년 여성 근로자 평균 임금은 2008년에 비해 증가하였다.
- ③ 2010년 남성 근로자 평균 임금은 여성 근로자 평균 임금보다 5% 많다.
- ④ 2012년 여성 근로자 평균 임금은 남성 근로자 평균 임금보다 많다.
- ⑤ 여성 근로자 평균 임금은 2008년에 비해 2011년에 1% 증가하였다.

15. (가)에 들어갈 내용으로 가장 적절한 것은?



- ① 적은 돈이라도 낭비하지 말고 저축하는 습관을 기르는 것
- ② 주식 시세 같은 금융 정보를 활용해 주식에 집중 투자하는 것
- ③ 위험이 높더라도 수익이 높은 자산에만 투자하는 자세를 가지는 것
- ④ 예금 이자보다 수익성이 낮아도 안전성이 높으면 채권을 구입하는 것
- ⑤ 안전성, 수익성, 유동성을 고려하여 자금을 다양한 자산에 분산 투자하는 것


16. 밑줄 친 ㉠에 해당하는 적절한 사례를 <보기>에서 고른 것은?

다문화 사회에서는 서로 다른 문화를 가진 구성원들이 함께 살아가면서 여러 가지 문제가 발생하기도 한다. 이를 해결하기 위해서는 제도적 차원의 해결 방안만으로는 한계가 있으며, 사회 구성원들의 ㉠의식적 차원의 노력이 병행되어야 한다.

- <보 기> —
- ㄱ. 다문화 가족의 채용을 촉진하는 법률 제정
 - ㄴ. 외국인 근로자의 인권을 존중하는 태도 정착
 - ㄷ. 국제 결혼 이민자를 위한 출산 지원 센터 설치
 - ㄹ. 다양한 문화적 차이를 인정하는 관용의 자세 함양

- ① ㄱ, ㄴ ② ㄱ, ㄷ ③ ㄴ, ㄷ ④ ㄴ, ㄹ ⑤ ㄷ, ㄹ

17. 다음 뉴스 내용에서 나타난 오류로 가장 적절한 것은? [3점]



- ① 통계 계산법의 오류를 범하고 있다.
- ② 성급한 일반화의 오류를 범하고 있다.
- ③ 상관관계를 인과 관계로 착각하는 오류를 범하고 있다.
- ④ 수치화할 수 없는 현상을 통계로 나타내는 오류를 범하고 있다.
- ⑤ 혼인 건수와 이혼 건수를 양(+)의 상관관계로 해석하는 오류를 범하고 있다.

18. 자료에 대한 분석 및 추론으로 옳지 않은 것은? [3점]

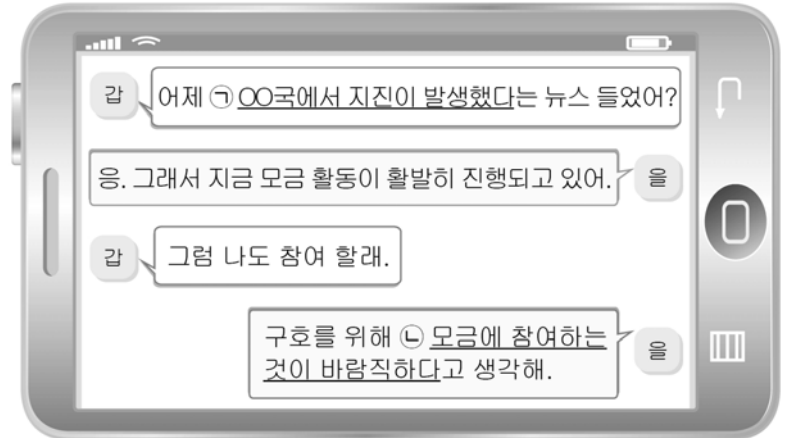
<연령별 인구 구성비* 예상 추이> (단위: %)

구 분	2020	2030	2040	2050
유소년 인구 (0~14세)	13.2	12.6	11.2	9.9
생산 가능 인구 (15~64세)	71.1	63.1	56.5	52.7
고령 인구 (65세 이상)	15.7	24.3	32.3	37.4

*연령별 인구 구성비(%) = $\frac{\text{해당 연령의 인구수}}{\text{총인구수}} \times 100$

- ① 고령화로 인한 사회 문제가 나타날 수 있다.
- ② 출산율 저하는 이러한 변화의 원인이 될 수 있다.
- ③ 2050년까지 고령 인구수가 지속적으로 증가할 것이다.
- ④ 2050년까지 고령 인구에 대한 유소년 인구의 비율은 지속적으로 감소할 것이다.
- ⑤ 2050년까지 생산 가능 인구의 고령 인구 부양 부담이 지속적으로 증가할 것이다.

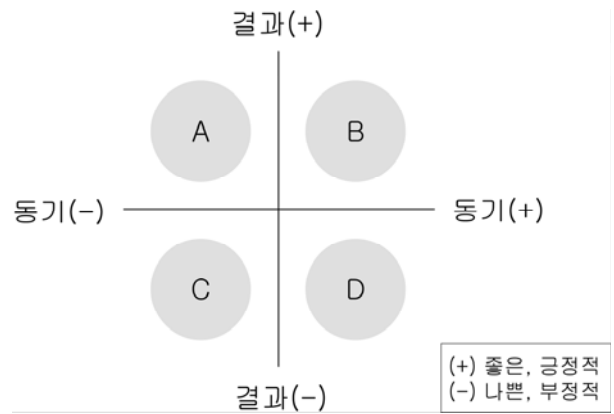
19. 밑줄 친 ㉠, ㉡에 대한 옳은 설명만을 <보기>에서 있는 대로 고른 것은?



- <보 기> —
- ㄱ. ㉠은 사실 진술이고, ㉡은 가치 진술이다.
 - ㄴ. ㉠은 개인의 판단이 배제된 객관적 상태에 관한 진술이다.
 - ㄷ. ㉡은 경험적 자료를 통해 참과 거짓의 검증이 가능하다.
 - ㄹ. ㉠은 ㉡에 비해 사회적 논쟁이 발생할 가능성이 크다.

- ① ㄱ, ㄴ ② ㄱ, ㄷ ③ ㄷ, ㄹ
④ ㄱ, ㄴ, ㄹ ⑤ ㄴ, ㄷ, ㄹ

20. 그림은 사회 현상을 동기와 결과를 기준으로 분류한 것이다. (가), (나)의 사례가 해당되는 영역을 옳게 짝지은 것은? [3점]



- (가) ○○시청 회계 담당 공무원 갑은 도박 자금으로 사용하기 위해 공금을 빼돌려 수십 억 원의 복지 예산이 부족해졌다.
- (나) □□컴퓨터 회사 사장인 을은 경제적으로 어려운 학생인 병에게 인터넷 강의를 들을 수 있도록 컴퓨터를 선물했으나, 병은 인터넷 게임 중독에 빠지게 되었다.

- (가) (나) (가) (나)
- ① A B ② A D
③ C A ④ C B
⑤ C D

※ 확인 사항
○ 답안지의 해당란에 필요한 내용을 정확히 기입(표기)했는지 확인하시오.