

제 4 교시

사회탐구 영역(경제)

성명

수험번호 3

1. 빈칸 (가)에 들어갈 수 있는 내용으로 적절한 것은?

[사례]
여름 휴가철을 맞아 가족과 함께 해외여행을 간 갑은 여행업체 직원 을의 여행 안내를 받았다.
[갑과 을의 경제 활동 분류]

질문 내용	갑의 경제 활동	을의 경제 활동
(가)	예	아니요

- ① 재화를 객체로 한 경제 활동인가?
- ② 서비스를 객체로 한 경제 활동인가?
- ③ 만족감을 얻기 위한 경제 활동인가?
- ④ 부가가치를 창출하는 경제 활동인가?
- ⑤ 생산에 참여한 대가를 받는 경제 활동인가?

2. 다음 자료의 (가), (나)에 대한 설명으로 옳은 것은?

셰일가스(shale gas)는 원유를 대체할 수 있는 자연 자원이다. (가), (나)는 셰일가스 시장에 변화를 준 요인이다.
(가) 산유국들이 원유 공급을 큰 폭으로 늘렸다.
(나) 셰일가스 굴착 기술이 좋아져 채굴 시간이 크게 단축되었다.

- ① (가)는 셰일가스의 수요 증가 요인이다.
- ② (나)는 셰일가스의 공급 감소 요인이다.
- ③ (가), (나) 모두 셰일가스의 균형 가격 하락 요인이다.
- ④ (가), (나) 모두 셰일가스의 균형 거래량 증가 요인이다.
- ⑤ (가)는 (나)와 달리 셰일가스의 판매 수입 증가 요인이다.

3. 표는 인플레이션의 두 유형 (가), (나)에 대하여 정리한 것이다. 이에 대한 옳은 설명을 <보기>에서 고른 것은?

구분	(가)	(나)
원인	(㉠)로/으로 인한 총수요 변동	(㉡)로/으로 인한 총공급 변동
대책	㉢	㉣

< 보 기 >
 가. (가)와 달리 (나)는 실질 GDP 감소가 수반된다.
 나. ㉠에 '투자 지출 증가'가 들어갈 수 있다.
 다. ㉡에 '국제 곡물가 하락'이 들어갈 수 있다.
 르. 기준 금리 인상은 ㉢이 아닌 ㉣에 해당한다.

- ① 가, 나 ② 가, 다 ③ 나, 다 ④ 나, 르 ⑤ 다, 르

4. [자료 2]는 [자료 1]의 ㉠과 ㉡의 유무에 따라 재화 또는 서비스를 분류한 것이다. (가)~(라)에 해당하는 재화 또는 서비스에 대한 설명으로 옳은 것은? [3점]

[자료 1]
 ○ ㉠ : 비용을 지불하지 않은 경제 주체의 소비를 막을 수 있는 특성
 ○ ㉡ : 한 경제 주체의 소비로 인해 다른 경제 주체의 소비 기회가 감소하는 특성

[자료 2]

구분		㉠	
		있음	없음
㉡	있음	(가)	(나)
	없음	(다)	(라)

- ① 케이블 TV 방송은 (가)에 해당한다.
- ② 공공 목초지는 (나)에 해당한다.
- ③ 민간 기업은 (다)를 생산하지 않는다.
- ④ (가)는 (라)와 달리 무임 승차자의 문제를 야기한다.
- ⑤ (나), (다)는 (가)와 달리 경제재이다.

5. 다음 자료의 X재와 Y재 수요의 가격 탄력성으로 옳은 것은?

[3점]

○○기업은 X재와 Y재를 독점 생산한다. ○○기업은 매출액을 늘리기 위해 X재와 Y재의 가격을 조정하였다. 그 결과 나타난 X재와 Y재의 판매량과 매출액의 변화율은 그림과 같다. 단, X재와 Y재 모두 수요 법칙을 따른다.

- | | | |
|---|--------|--------|
| | X재 | Y재 |
| ① | 탄력적 | 비탄력적 |
| ② | 탄력적 | 단위 탄력적 |
| ③ | 비탄력적 | 탄력적 |
| ④ | 비탄력적 | 단위 탄력적 |
| ⑤ | 단위 탄력적 | 탄력적 |

6. 다음 자료의 (가)~(다)에 대한 옳은 설명을 <보기>에서 고른 것은?

(가)~(다)는 자산 관리 시 고려해야 하는 사항으로 각각 안전성, 수익성, 유동성 중 하나이고, 표는 (가)~(다)를 파악하기 위하여 확인해야 하는 사항 중 일부이다.

구분	확인해야 하는 사항
(가)	매도하고자 할 때 단기간에 매도가 가능한가?
(나)	예금자 보호 제도의 보호 대상에 포함되는가?
(다)	가격 상승으로 가치 증대를 기대할 수 있는가?

< 보 기 >

ㄱ. (나)는 원금과 이자가 보전될 수 있는 정도를 의미한다.
 ㄴ. (다)가 높은 자산일수록 (나)도 높다.
 ㄷ. 주식은 부동산보다 (가)가 높다.
 ㄹ. 국채는 주식보다 (다)가 높다.

- ① ㄱ, ㄴ ② ㄱ, ㄷ ③ ㄴ, ㄷ ④ ㄴ, ㄹ ⑤ ㄷ, ㄹ

7. 다음 자료의 ㉠~㉢에 대한 옳은 설명을 <보기>에서 고른 것은? [3점]

회사원 갑은 공무원 시험 준비를 위해 학원에 다녔고, 결국 시험에 합격하였다. 하지만 공무원의 경우 고용 안정성은 높지만 월급이 적어 회사를 그만두고 공무원이 되어야 할지 고민하고 있다. 이에 갑은 ‘비용-편익 분석’을 통해 선택하기로 하였고, 공무원이 되는 것을 선택했을 때의 편익과 비용을 다음과 같이 정리하였다.

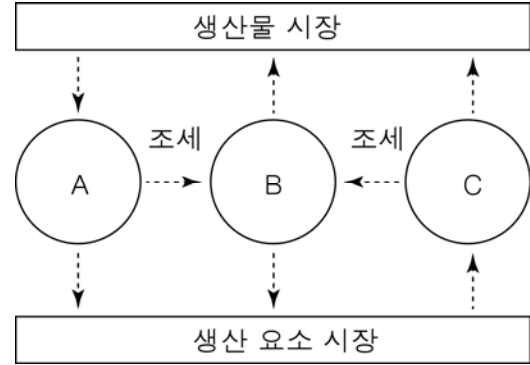
편익	비용
• ㉠ 고용의 안정성 • (㉡) : :	• ㉢ 현재 회사에서 받는 월급 • ㉣ 공무원 시험 준비를 위해 지출한 학원비 : :

< 보 기 >

ㄱ. ㉠은 편익이 아니기 때문에 제외되어야 한다.
 ㄴ. ㉡에 ‘공무원이 되었을 때 받는 월급’이 들어갈 수 있다.
 ㄷ. ㉣은 공무원이 되는 것을 선택했을 때의 명시적 비용이다.
 ㄹ. ㉢은 매몰 비용이기 때문에 제외되어야 한다.

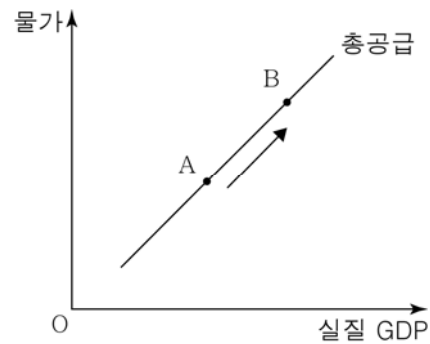
- ① ㄱ, ㄴ ② ㄱ, ㄷ ③ ㄴ, ㄷ ④ ㄴ, ㄹ ⑤ ㄷ, ㄹ

8. 그림은 국민 경제 주체 A~C 사이의 화폐 흐름을 나타낸 것이다. 이에 대한 설명으로 옳은 것은? [3점]



- ① A는 이윤의 극대화를 추구한다.
 ② B는 선택의 문제에 직면하지 않는다.
 ③ C는 생산 활동의 주체이다.
 ④ A는 생산물 시장의 수요자, C는 공급자이다.
 ⑤ B는 생산 요소 시장의 공급자, C는 수요자이다.

9. 그림의 국민 경제 균형점 A를 B로 이동시킬 수 있는 원인과 그 결과로 적절한 것은?



- | 원인 | 결과 |
|-------------|----------|
| ① 수출 증가 | 고용 증가 |
| ② 기술 혁신 | 인플레이션 발생 |
| ③ 민간 소비 증가 | 실업률 증가 |
| ④ 공장의 해외 이전 | 경상 수지 개선 |
| ⑤ 국제 원유가 하락 | 디플레이션 발생 |

10. 다음 자료에 대한 옳은 설명을 <보기>에서 고른 것은?

㉠ 금융이란 경제 주체 간에 돈을 빌리거나 빌려주는 행위를 의미한다. 이러한 금융 거래가 이루어지는 장소를 ㉡ 금융 시장이라고 한다. 금융 시장의 유형은 자금 공급자가 자금 수요자를 직접 선택하여 자금을 공급하는지 여부에 따라 A와 B로 나뉜다. A와 달리 B에서는 투자에 따른 책임을 전적으로 금융 기관이 아닌 자금 공급자 본인이 진다.

< 보 기 >

ㄱ. ㉠은 기업의 자금 부족 문제 해결에 기여한다.
 ㄴ. 채권 시장과 달리 주식 시장은 ㉡에 해당한다.
 ㄷ. 정기 예금은 A에서 거래되는 금융 상품이다.
 ㄹ. 일반적으로 B보다 A에서 높은 수익률을 기대할 수 있다.

- ① ㄱ, ㄴ ② ㄱ, ㄷ ③ ㄴ, ㄷ ④ ㄴ, ㄹ ⑤ ㄷ, ㄹ

11. 표는 갑국의 고용 통계를 나타낸 것이다. 이에 대한 분석으로 옳지 않은 것은? (단, 15세 이상 인구는 변화가 없다.) [3점]

(단위: 만 명)

구분	2012년	2013년	2014년
경제 활동 인구	800	810	820
취업자	720	720	720

- ① 2012년의 실업률은 10%이다.
- ② 2013년의 비경제 활동 인구는 전년에 비해 감소하였다.
- ③ 2014년의 경제 활동 참가율은 전년에 비해 상승하였다.
- ④ 2013년과 2014년 모두 실업률이 전년에 비해 하락하였다.
- ⑤ 2012년 이후 경제 활동 인구와 실업자는 매년 같은 수만큼 증가하였다.

12. 다음 자료에 대한 분석으로 옳은 것은? [3점]

갑은 용돈 10,000원을 모두 사용하여 X재 또는 Y재를 소비하며, 두 재화의 가격은 각각 2,000원이다. 표는 X재와 Y재의 각 소비량에서의 총 만족감을 나타낸 것이다.

소비량(개)	1	2	3	4	5
X재	10	18	24	28	30
Y재	15	27	36	42	45

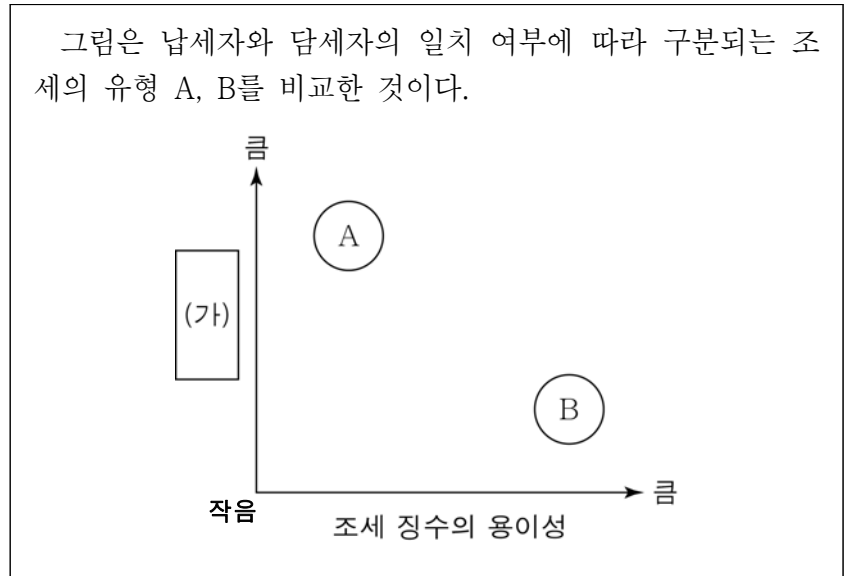
- ① 최대로 얻을 수 있는 만족감은 75이다.
- ② X재 3개와 Y재 2개를 소비할 때 얻는 만족감이 가장 크다.
- ③ X재는 소비량이 많을수록 1개당 평균적으로 얻는 만족감이 크다.
- ④ Y재 소비량을 1개씩 늘릴 때마다 추가되는 만족감은 점차 커진다.
- ⑤ 모든 소비량 수준에서 1개당 평균적으로 얻는 만족감은 Y재가 X재보다 크다.

13. 그림의 대화에 대한 설명으로 가장 적절한 것은?



- ① 갑과 을 모두 현재의 경제 상황을 불황이라고 보고 있다.
- ② ㉠은 확장 재정 정책의 수단이다.
- ③ ㉡의 수단으로 국공채 매입을 들 수 있다.
- ④ ㉠, ㉡ 모두 고용 감소를 초래할 수 있다.
- ⑤ ㉠은 총수요 감소, ㉡은 총수요 증가 요인이다.

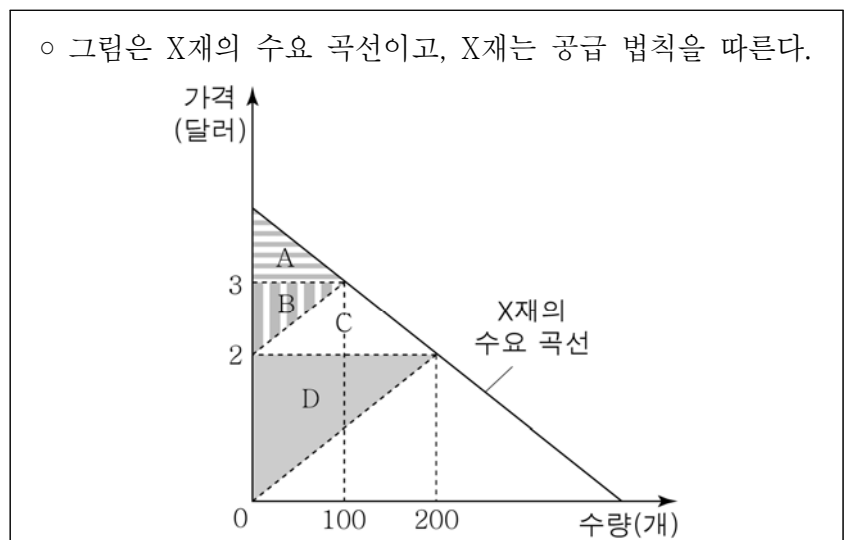
14. 다음 자료에 대한 옳은 설명을 <보기>에서 고른 것은?



- < 보기 >
- ㄱ. A는 주로 소비 지출에 부과된다.
 - ㄴ. B는 납세자와 담세자가 일치하지 않는다.
 - ㄷ. B와 달리 A는 물가 상승을 유발할 수 있다.
 - ㄹ. (가)에 '소득 재분배 효과'가 들어갈 수 있다.

- ① ㄱ, ㄴ ② ㄱ, ㄷ ③ ㄴ, ㄷ ④ ㄴ, ㄹ ⑤ ㄷ, ㄹ

15. 다음 자료에 대한 옳은 설명을 <보기>에서 고른 것은? [3점]



- ㉠ X재의 원자재 가격이 변동하여 X재의 생산자 잉여와 소비자 잉여가 표와 같이 변동하였다.

구분	변동 전	변동 후
생산자 잉여	D	B
소비자 잉여	㉡	㉢

- < 보기 >
- ㄱ. ㉠은 하락하였다.
 - ㄴ. ㉡은 (A+B+C), ㉢은 A이다.
 - ㄷ. X재의 균형 가격은 1달러 상승하였다.
 - ㄹ. X재의 균형 거래량은 100개 증가하였다.

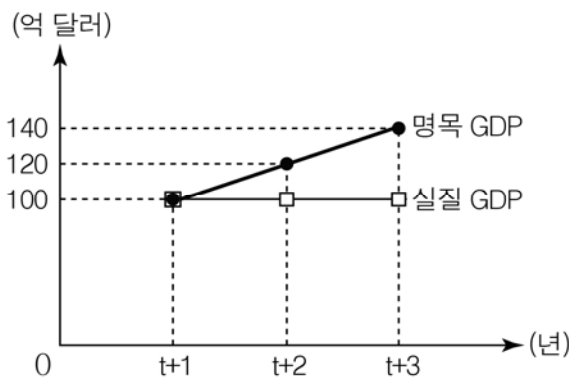
- ① ㄱ, ㄴ ② ㄱ, ㄷ ③ ㄴ, ㄷ ④ ㄴ, ㄹ ⑤ ㄷ, ㄹ

16. (가), (나)는 외부 효과가 발생한 경우이다. 이에 대한 설명으로 옳은 것은? [3점]

(가) X재 1개를 소비할 때 발생하는 사회적 편익은 10달러이다. 그 중에 X재를 소비하는 사람이 얻는 사적 편익은 8달러이고, 나머지 2달러는 제3자가 얻는다.
 (나) Y재 1개를 생산할 때 소요되는 사회적 비용은 10달러이다. 그 중에 Y재를 생산하는 사람이 부담하는 사적 비용은 8달러이고, 나머지 2달러는 제3자가 부담한다.

- ① X재는 소비 측면의 외부 불경제를 야기한다.
- ② Y재는 사회적 최적 수준보다 과소 생산된다.
- ③ (가)를 해결하기 위해서는 X재의 사적 편익을 줄여야 한다.
- ④ (나)를 해결하기 위해서는 Y재의 사적 비용을 줄여야 한다.
- ⑤ 독감 백신 접종으로 인해 발생하는 외부 효과는 (나)보다 (가)의 경우에 가깝다.

17. 그림은 갑국의 명목 GDP와 실질 GDP의 변화 추이를 나타낸 것이다. 이에 대한 분석으로 옳은 것은? (단, 기준 연도는 t년이며, 물가 수준은 GDP 디플레이터로 측정한다.) [3점]



- ① t+1년의 물가 수준은 t년과 동일하다.
- ② t+1년의 실질 GDP는 t년과 동일하다.
- ③ t+2년의 물가 지수는 t년보다 낮다.
- ④ t+2년과 t+3년의 물가 상승률은 같다.
- ⑤ t+3년의 경제 성장률은 t+2년보다 낮다.

18. 다음은 학생이 제출한 수행평가지이다. 밑줄 친 ㉠~㉣ 중 옳은 내용을 고른 것은?

[과제] 빈칸에 들어갈 적절한 기사를 찾아 그 제목만 쓰시오.

구분	외화 수취	외화 지급
서비스 수지	㉠ 올해 상반기 외국인에 게 벌어들인 관광 수입 10억 달러 달성	㉡ 정부, ○○국에 1억 달러 무상 원조 제공
본원 소득 수지	㉢ 국내 투자자의 외국 주식 배당금 수입 1억 달러 기록	㉣ 국내 기업, 6월 중 외국 주식 및 채권에 대하여 5억 달러 투자

- ① ㉠, ㉡ ② ㉠, ㉢ ③ ㉡, ㉣ ④ ㉢, ㉣ ⑤ ㉢, ㉠

19. 밑줄 친 ㉠, ㉡에 대한 옳은 설명을 <보기>에서 고른 것은?

매달 갑은 1만 엔을, 을은 100달러를 구입한다. ㉠ 원/엔 환율 변동과 ㉡ 원/달러 환율 변동으로 인해 갑과 을이 각각 엔화와 달러화를 구입하기 위해 매달 지불해야 하는 원화의 양이 표와 같이 변화했다.

구분	변동 전	변동 후
갑	10만 원	9만 원
을	10만 원	11만 원

< 보기 >
 ㉠. 엔화의 수요 증가는 ㉠의 요인이다.
 ㉡. 달러화의 공급 감소는 ㉡의 요인이다.
 ㉢. ㉠은 우리나라의 대일 상품 수지를 악화시키는 요인이다.
 ㉣. ㉡은 우리나라 국민의 미국 여행 경비 부담을 감소시키는 요인이다.

- ① ㉠, ㉡ ② ㉠, ㉢ ③ ㉡, ㉣ ④ ㉡, ㉣ ⑤ ㉢, ㉣

20. 다음 자료에 대한 옳은 분석만을 <보기>에서 있는 대로 고른 것은? (단, 갑국과 을국은 이익을 보는 경우에만 교역에 참여한다.) [3점]

갑국과 을국은 비교 우위 상품을 특화한 후 교역을 하였는데, 갑국의 교역 전과 교역 후의 소비 가능 영역은 다음과 같다.

< 교역 전 >

< 교역 후 >

< 보기 >
 ㉠. 갑국은 X재 생산에 비교 우위가 있다.
 ㉡. 을국의 X재 1개 생산의 기회비용은 Y재 1개보다 작다.
 ㉢. 갑국의 Y재 1개 소비의 기회비용은 교역 전보다 교역 후가 크다.
 ㉣. X재와 Y재의 교환 비율이 2:3이었어도 갑국과 을국 모두 교역에 참여하였을 것이다.

- ① ㉠, ㉢ ② ㉠, ㉣ ③ ㉡, ㉢
- ④ ㉠, ㉡, ㉣ ⑤ ㉡, ㉢, ㉣

※ 확인 사항
 ○ 답안지의 해당란에 필요한 내용을 정확히 기입(표기)했는지 확인하십시오.