

제 4 교시

사회탐구 영역(동아시아사)

성명

수험번호 3

1. 밑줄 친 '이 지역'을 지도에서 옳게 고른 것은?


이 지역에서는 신석기 시대에 새끼줄을 누르거나 굴려서 무늬를 새긴 토기에 이어 마치 불꽃이 타오르는 듯한 화려하고 정교한 장식의 토기가 나타났다. 신석기 시대가 끝나고 성립된 야요이 시대에는 무늬 없는 토기가 확산되어 갔다.



- ① (가) ② (나) ③ (다) ④ (라) ⑤ (마)

2. 밑줄 친 '이 전쟁'에 대한 설명으로 옳은 것을 <보기>에서 고른 것은?

보시는 무덤은 이 전쟁 당시 일본군이 조선에서 가져온 귀와 코를 묻은 것입니다. 도요토미 히데요시는 잘라온 조선인의 귀나 코의 숫자에 따라 전공을 매겼다고 합니다.



< 보 기 >

- ㄱ. 친명배금 정책을 구실로 발발하였다.
- ㄴ. 조선, 명, 일본이 참전한 국제전이였다.
- ㄷ. 일본의 도자기 문화 발전에 영향을 주었다.
- ㄹ. 조선에서 북벌론이 등장하는 계기가 되었다.

- ① ㄱ, ㄴ ② ㄱ, ㄷ ③ ㄴ, ㄷ ④ ㄴ, ㄹ ⑤ ㄷ, ㄹ

3. (가)~(다)에 대한 학생들의 발표 내용으로 가장 적절한 것은?

동아시아 각국의 상속 사례
- 당, 고려, 레 왕조를 중심으로 -

(가) 『당률소의』에 의하면, 자식들이 부모의 재산을 분할할 때 아들의 경우에는 균등 분할이 원칙이었으며, 딸의 경우에는 일반적으로 지참금의 몫이 인정되는 정도였다.

(나) 『고려사』에는 '부모의 재산이 대부분 누이에게 상속되자 남동생이 송사를 거쳐 재산을 균등하게 나눠가졌다.'라고 기록되어 있다.

(다) 『여조형률』에 의하면, 제사를 상속하는 장자에게 재산 가운데 20분의 1의 할증을 인정하고, 이것을 제외한 재산은 다른 모든 자녀에게 균분되도록 하였다.

- ① (가)는 종법에 입각한 봉건제 성립의 바탕이 되었습니다.
- ② (나)는 다이호 율령에 영향을 주었습니다.
- ③ (다)는 독자적인 전통이 반영되어 있습니다.
- ④ (가), (나)는 성별에 따라 차등을 둔 법이 적용되었습니다.
- ⑤ (가), (다)는 주자가례를 따랐습니다.

4. (가) 왕조 시기 동아시아 각 지역의 경제에 대한 설명으로 옳지 않은 것은? [3점]

2. 농업의 발전

(가) 대에는 농업 기술의 혁신과 강남 지방을 중심으로 한 농경지의 확대로 농업 생산력이 획기적으로 증가하였는데, 이를 농업 혁명이라 부른다.

◆ 이런 점이 궁금해요.

(가) 대에 어떻게 농업 혁명이 가능하였나요?

첫째, 용골차(수차)를 이용해 논으로 물을 쉽게 퍼 올릴 수 있었어요.

둘째, 양쯔 강 하류에 우전을 개발하여 경지를 늘렸어요.

- ① 한국 - 면화가 전해져 의생활이 개선되었다.
- ② 한국 - 은병(활구)이 고액 거래에 이용되었다.
- ③ 중국 - 점성도라는 조생종 벼가 도입되었다.
- ④ 중국 - 정더전에서 생산된 도자기가 각지로 수출되었다.
- ⑤ 일본 - 중국의 동전이 대량으로 유입되어 사용되었다.

5. 다음 황제의 정책으로 옳은 것은?



위만의 손자 우거가 지형의 견고함을 믿고 화를 자초하고 있구나. 왕검성을 공격하라.

- ① 반랑국을 멸망시켰다.
- ② 왜에 금도장을 하사하였다.
- ③ 서역으로 장건을 파견하였다.
- ④ 고구려와 조공·책봉 관계를 맺었다.
- ⑤ 흉노에 대비해 만리장성을 쌓기 시작하였다.

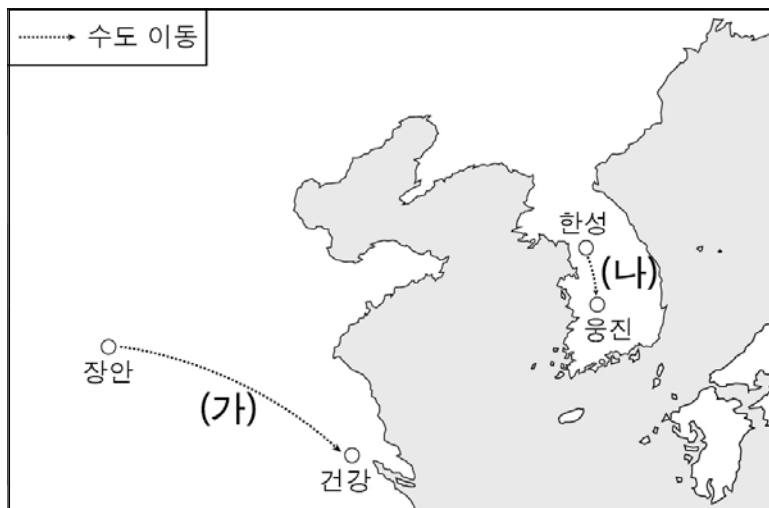
6. (가) 국가에 대한 설명으로 옳은 것은?

일본 정벌에 나섰던 고려·(가) 연합군 함대 소속 배 한 척이 수백여 년 만에 모습을 드러냈다. 이 배는 일본 규슈 서부 연해에서 발견되었는데, 발굴을 담당했던 일본의 한 고고학자는 “이 배는 폭풍을 만나 침몰했을 것이다.”라고 말하였다. 고려·(가) 연합군은 두 차례에 걸쳐 일본 공격에 나섰으나, 폭풍과 일본의 저항으로 소기의 목적을 달성하는 데는 실패하였다. 한편 한국과 일본의 학자들은 이 배의 발굴이 당시의 국제 정세를 파악하는 데 도움이 될 것으로 기대하고 있다.

- ○○일보, 2015. 7. 4. -

- ① 헤이조쿄를 건설하였다.
- ② 맹안·모극제를 시행하였다.
- ③ 금의 사대 요구를 수용하였다.
- ④ 다루가치를 주변 국가에 파견하였다.
- ⑤ 쯩짜·쯩니 자매의 독립운동을 진압하였다.

7. (가), (나)에 대한 설명으로 옳은 것은? [3점]



- ① (가) - 대운하를 통하여 진행되었다.
- ② (가) - 5호의 침입을 피해 이루어졌다.
- ③ (나) - 새로운 왕조의 개창으로 이어졌다.
- ④ (나) - 나·당 연합군의 공격을 받아 전개되었다.
- ⑤ (가), (나) - 유목 민족의 문화와 한족 문화가 융합되는 결과를 낳았다.

8. 자료에 반영된 사상에 대한 설명으로 옳은 것을 <보기>에서 고른 것은? [3점]

대개 인생의 만사가 경쟁에 의지하지 않는 일이 없으니 크게는 천하 국가의 일부부터 작게는 한 몸 한 집안의 일까지 실로 다 경쟁으로 인해서 먼저 진보할 수 있는 바라. ... (중략)... 만약 국가들 사이에 경쟁하는 바가 없으면 어떤 방법으로 그 광위(光威)와 부강을 증진할 수 있겠는가? 대개 경쟁이라는 것은 무릇 지혜를 연마하고 도덕을 닦는 일부부터 문학, 기예, 농·공·상의 사업까지 사람마다 그 높고 낮음, 우열을 서로 비교하여 타인보다 초월하기를 욕심내는 일이다.

- 『서유견문』 -

< 보 기 >

ㄱ. 청 - 변법자강 운동의 논리로 활용되었다.
 ㄴ. 조선 - 위정척사 운동의 중심 사상으로 작용하였다.
 ㄷ. 일본 - 제국주의 팽창을 정당화하는 데 이용되었다.
 ㄹ. 응우옌 왕조 - 베트남 독립 동맹 결성에 영향을 끼쳤다.

- ① ㄱ, ㄴ ② ㄱ, ㄷ ③ ㄴ, ㄷ ④ ㄴ, ㄹ ⑤ ㄷ, ㄹ

9. (가) 국가에 대한 설명으로 옳은 것은?



당번회맹비

이 비는 (가)와/과 당이 평화 협정을 맺고 건립한 것으로 라씨의 조칸 사원 옆에 있다. (가)은/는 7세기 전반 송첸캄포 왕 때 비단길과 쓰촨 방면을 공략하여 세력을 확대하고 당을 압박하기도 하였다. 이후 두 나라는 9세기에 이 비를 건립하여 국경선을 확정지었다.

- ① 당의 산둥 반도를 공격하였다.
- ② 남면관·북면관제를 시행하였다.
- ③ 말갈 부족들에게 복속을 강요하였다.
- ④ 고구려와 연합하여 당을 견제하였다.
- ⑤ 당으로부터 화번 공주를 맞아들였다.

10. (가), (나) 민족 운동에 대한 설명으로 옳은 것을 <보기>에서 고른 것은? [3점]

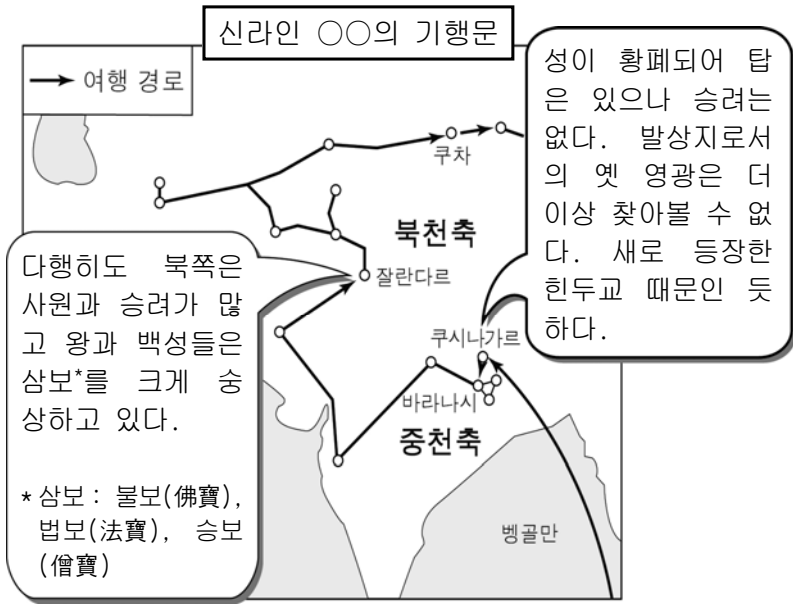
구분	(가)	(나)
시기	1851 ~ 1864	1894
중심 인물	홍수전	전봉준
주요 구호	멸만홍한	척왜양창의
개혁안	신분제 폐지, 남녀평등	신분제 폐지 등 폐정 개혁

< 보 기 >

ㄱ. (가) - 천조전무제의 실시를 주장하였다.
 ㄴ. (나) - 을사조약이 체결되는 계기가 되었다.
 ㄷ. (가), (나) - 외국의 군사적 지원으로 진압되었다.
 ㄹ. (가), (나) - 일본의 이권 침탈에 대항하여 일어났다.

- ① ㄱ, ㄴ ② ㄱ, ㄷ ③ ㄴ, ㄷ ④ ㄴ, ㄹ ⑤ ㄷ, ㄹ

11. 자료를 이용한 탐구 주제로 가장 적절한 것은?



- ① 신불습합의 특징
- ② 몽골 제국의 동서 교역
- ③ 부파 불교의 성립과 전파
- ④ 불교를 통한 교류의 사례
- ⑤ 도교의 유행과 선종의 등장

12. (가)에 들어갈 인물들의 활동으로 옳지 않은 것은? [3점]

탐구 활동 계획서		
<ul style="list-style-type: none"> ■ 단원: ○○○의 전개 ■ 목표: ○○○의 성립과 확산 과정을 파악한다. ■ 모듈별 탐구 활동 		
모듈	모듈별 탐구 주제	내용
1 모듈	성립 과정의 주요 인물	정호, 정이, 주희
2 모듈	주요 이론과 개념	심성론, 이기론, 거경궁리, 격물치지
3 모듈	확산에 기여한 주요 인물	(가)

- ① 동중서가 태학의 설치를 건의하였다.
- ② 강항과 후지와라 세이카가 교류하였다.
- ③ 이이가 향약의 보급을 위해 노력하였다.
- ④ 하야시 라잔이 에도 막부의 각종 제도를 정비하였다.
- ⑤ 레 왕조의 타인퐁이 사서를 중심으로 신유학을 보급하였다.

13. 다음 두 주장의 공통점으로 옳은 것은?

○ 오늘날 사람들은 우리나라에 태어났으면서도 우리나라의 사실을 전혀 알지 못하고 있다. 심지어 『동국통감』이 있으나 누가 읽겠는가.라고 말하니, 사리에 어긋남이 이와 같다. 우리나라는 규칙이나 제도, 나라의 운영 모습이 당연히 중국과 다르다.

○ 학문에서 도를 알려고 하면 먼저 가라고코로[漢意: 중국 서적을 읽고 중국식 사고 방식이나 사상에 심취함]를 모두 제거해야 한다. ...(중략)... 그런데 사람들은 하나같이 이 가라고코로에만 마음을 빼앗겨 진심(眞心)을 모두 잃어버렸다.

- ① 고증학 성립의 바탕이 되었다.
- ② 중국 중심의 세계관을 비판하였다.
- ③ 고대 유학으로의 복귀를 주장하였다.
- ④ 조선 중화주의의 확산에 기여하였다.
- ⑤ 청을 왕래하던 사신들에 의해 제기되었다.

14. (가)에 대한 설명으로 옳은 것을 <보기>에서 고른 것은?

[3점]



송 태조는 문치주의를 실시하여 절도사의 행정권을 몰수하고, 과거를 매우 엄정하게 운영하였다. 과거의 권위를 높이기 위해서 황제 자신이 직접 주관하는 최종 시험인 (가) 을/를 실시하였다.

황제 앞에서 (가) 을/를 치르는 모습

< 보 기 >

- ㄱ. 명 - 생원을 응시 대상으로 하였다.
- ㄴ. 송 - 황제권을 강화할 수 있는 배경이 되었다.
- ㄷ. 조선 - 복시 합격자를 대상으로 순위를 결정하였다.
- ㄹ. 고려 - 5품 이상 고위 관리의 자손을 대상으로 하였다.

- ① ㄱ, ㄴ ② ㄱ, ㄷ ③ ㄴ, ㄷ ④ ㄴ, ㄹ ⑤ ㄷ, ㄹ

15. (가), (나)에 대한 설명으로 옳은 것은? [3점]

(가)

○ 러시아 제국 정부는 일본 제국이 한국에서 정치·군사·경제상으로 탁월한 이익을 가진다는 것을 인정하고, 일본 제국 정부가 한국에서 필요하다고 인정하는 지도·보호 및 감리의 조치를 취하는 데 이를 저지하거나 간섭하지 않을 것이다.

(나)

○ 중국은 독일이 가지고 있는 산둥 반도에 관한 권리를 일본에 양도할 것.

○ 위순·다렌의 조차 기한, 남만주 및 안봉 두 개 철도의 기한도 다시 99년 동안 연장할 것.

○ 정치, 재정 및 군사 고문으로 일본인을 초빙할 것.

- ① (가) - 청·일 전쟁의 결과 체결되었다.
- ② (가) - 가쓰라·태프트 밀약이 체결되는 배경이 되었다.
- ③ (나) - 일본이 랴오둥 반도를 반환하는 결과를 가져왔다.
- ④ (나) - 위안스카이의 베이징 정부에 의해 대부분 수용되었다.
- ⑤ (가), (나) - 한·중 민족 항일 대동맹 결성의 계기가 되었다.

16. 밑줄 친 ㉠을 위한 노력으로 적절한 것을 <보기>에서 고른 것은?

그는 청 말기의 학자이자 정치가로서 현실 개혁적인 공양학에 심취하였다. 인간의 역사는 발전하여 계급과 남녀의 차별이 없는 대동의 세상으로 나아가는데, 여기에 도달하기 위해서는 먼저 '민권', '평등'이 실현되어야 한다고 주장하였다. 또한 일본과의 전쟁에서 패한 원인이 정부와 백성의 뜻이 서로 통하지 못한 데 있다고 지적하며, ㉠ 의회 정치의 도입을 주장하는 상소를 올렸다.

- < 보 기 > —
- ㄱ. 한국 - 독립 협회의 개혁 운동이 전개되었다.
 - ㄴ. 중국 - 양무운동이 추진되었다.
 - ㄷ. 일본 - 자유 민권 운동이 일어났다.
 - ㄹ. 베트남 - 근왕 운동이 전개되었다.

- ① ㄱ, ㄴ ② ㄱ, ㄷ ③ ㄴ, ㄷ ④ ㄴ, ㄹ ⑤ ㄷ, ㄹ

17. (가), (나) 사이의 시기에 있었던 사실로 옳은 것은? [3점]

(가)	(나)
<p>동아시아사신문</p> <p>북베트남, 사이공 점령</p> <p>북베트남군이 사이공을 점령하였다. 남베트남의 대통령이 방송을 통해 항복을 선언함으로써 길었던 전쟁은 마침내 종지부를 찍었다.</p>	<p>동아시아사신문</p> <p>한국, 베트남과 수교</p> <p>한국의 외교부 장관이 하노이를 방문하여 수교 문서에 서명하였다. 이로써 한국은 베트남과 적대 관계를 청산하고 정식으로 국교를 수립하였다.</p>

- ① 제네바 협정이 맺어졌다.
- ② 통킹 만 사건이 일어났다.
- ③ 도이머이 정책이 추진되었다.
- ④ 파리 평화 협정이 체결되었다.
- ⑤ 디엔비엔푸 전투가 발발하였다.

18. (가)에 들어갈 내용으로 가장 적절한 것은? [3점]

전쟁 후 미국은 유럽 지역의 복구와 아시아 지역에서의 전후 처리를 위하여 노력하였다. 유럽에서는 그리스 등의 국가 경제를 살리기 위해 마셜 계획을 발표하였다. 문제는 동아시아 지역이었다. (가) 을/를 계기로 미국의 아시아 정책에 커다란 변화가 일어났다. 먼저 타이완에 대한 원조 확대를 단행하였고, 이어 샌프란시스코 강화 조약을 통해 일본을 국제 무대로 복귀시켰다.


- ① 일본의 평화 헌법 제정
- ② 미국의 닉슨 독트린 발표
- ③ 한반도에서의 휴전 협정 체결
- ④ 호찌민의 베트남 민주 공화국 수립 선언
- ⑤ 마오쩌둥의 중화 인민 공화국 수립 선포

19. 지도의 상황이 나타나던 시기에 볼 수 있는 모습으로 가장 적절한 것은? [3점]



- ① 일본에 감함을 발급하는 명의 관리
- ② 공행을 통해 비단을 구입하는 영국인
- ③ 황제의 명을 받아 교초를 관리하는 색목인
- ④ 조선의 왜관에서 인삼을 구입하는 일본 상인
- ⑤ 신패를 제시하고 나가사키에 입항하는 청의 상선

20. 다음과 같은 도시의 모습을 볼 수 있었던 시기 동아시아 각 지역의 문화 동향으로 옳은 것을 <보기>에서 고른 것은?



한성 - 대동법의 확산과 화폐 유통의 발달로 시장이 활성화되었다. 에도 - 산킨코타이 제도가 실시되었으며, 도로망과 상업이 발달하였다.

- < 보 기 > —
- ㄱ. 한국 - 장시를 중심으로 탈춤과 가면극이 공연되었다.
 - ㄴ. 중국 - 서민들 사이에서 경극이 널리 유행하였다.
 - ㄷ. 일본 - 국가의 번영을 기원하는 도다이 사가 건립되었다.
 - ㄹ. 베트남 - 외침을 극복하면서 대월사기가 편찬되었다.

- ① ㄱ, ㄴ ② ㄱ, ㄷ ③ ㄴ, ㄷ ④ ㄴ, ㄹ ⑤ ㄷ, ㄹ

※ 확인 사항
○ 답안지의 해당란에 필요한 내용을 정확히 기입(표기)했는지 확인하십시오.