

사회탐구 영역(세계사)


제 4 교시

성명

수험번호 2

1

1. 자료에 나타난 문명에 대한 설명으로 옳지 않은 것은?




이 그림은 나일 강 유역 사람들의 생활 모습이 표현되어 있는 무덤 벽화이다. 이 그림에는 강가를 따라 심어져 있는 과일 나무와 밭갈이를 하거나 밀을 수확하는 농부의 모습이 그려져 있다. 또한 맨 위 부분에는 사후에 강을 건너 오시리스 신에게 가려는 부부의 모습도 그려져 있어, 이 문명 사람들의 삶과 죽음이 나일 강과 밀접하게 연결되어 있음을 알 수 있다.

- ① 배다가 만들어졌다.
- ② 태양력이 사용되었다.
- ③ 상형 문자가 사용되었다.
- ④ '사자의 서'가 제작되었다.
- ⑤ 측량술과 기하학이 발달하였다.

2. 밑줄 친 '이 인물'에 대한 설명으로 옳은 것은? [3점]

제○○호 **세 계 사 신 문** □□□년

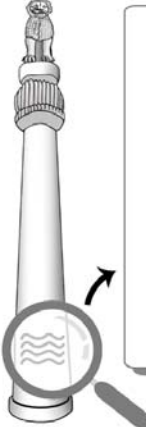
[현장취재] 성 베드로 성당에서 열린 대관식



오늘 성 베드로 성당에서 교황 레오 3세가 주관한 대관식이 열렸다. 교황은 이 인물이 서로마 제국의 옛 영토를 상당 부분 차지하고 정복지에 크리스티교를 전파한 공로를 인정하여 직접 황제의 관을 씌워 주었다. 이로써 이 인물은 서로마 제국의 후계자로 인정받게 되었고, 교황 레오 3세는 든든한 후원자를 확보하게 되었다.

- ① 12표법을 제정하였다.
- ② 밀라노 칙령을 반포하였다.
- ③ 베르사유 궁전을 건립하였다.
- ④ 궁정 학교를 세워 문예 부흥에 힘썼다.
- ⑤ 투르 · 푸아티에 전투에서 승리하였다.

3. 다음을 통해 알 수 있는 왕조에 대한 설명으로 옳은 것은?



법(다르마)이란 무엇인가? 그것은 적은 죄, 많은 선행, 연민, 관대, 진실, 청정이다. ... (중략) ... 천애회견왕*은 이 법칙을 다음과 같은 목적을 위해 석주에 새기게 했다. 즉 이와 같이 사람들에게 법을 준수하도록 하기 위해서, 그리고 법이 오래 계속되도록 하기 위해서이다.

- 라우리야 난단가리 석주 비문 -

* 천애회견왕: 아소카 왕을 일컫는 칭호

- ① 시크교가 성립되었다.
- ② 상좌부 불교가 발달하였다.
- ③ 아잔타 석굴 사원이 조성되었다.
- ④ 지구라트라는 신전이 만들어졌다.
- ⑤ 북면관제와 남면관제가 운영되었다.

4. 밑줄 친 '황제'가 추진한 정책으로 옳은 것은?

- 황제는 율지가 항상 흉노를 원수처럼 여기고 있지만 함께 공격할 세력이 없음을 알고 장건을 사신으로 보내 율지와 연락하고자 하였다.
- 황제는 장건과 이광을 시켜 흉노를 공격하게 하였다. 이광의 군대가 모두 전멸할 지경이 되었으나 마침 장건의 군대가 구하러 왔기 때문에 위험에서 벗어날 수 있었다.

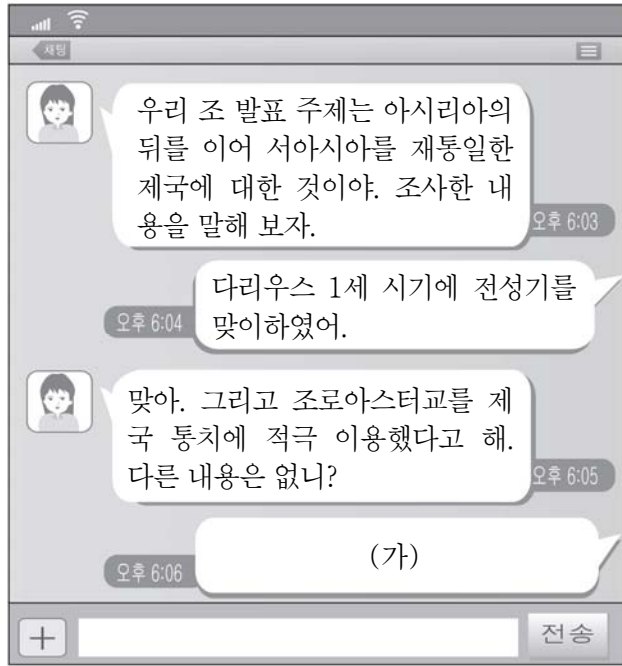
- ① 시박사를 설치하였다.
- ② 도량형, 문자를 통일하였다.
- ③ 소금과 철의 전매제를 실시하였다.
- ④ 변방 방어를 위해 절도사를 두었다.
- ⑤ 강남과 화북을 잇는 대운하를 건설하였다.

5. 다음을 통해 알 수 있는 전쟁이 끼친 영향으로 가장 적절한 것은? [3점]

페르시아의 3차 침입에 대비하여 테미스토클레스는 해군 양성에 주력할 것을 호소하였다. 그리스가 적의 거대한 지상군을 상대로 마라톤에서와 같은 승리를 더 이상 거둘 수 없다는 것을 간파하였기 때문이다. 그리스 인들은 라우리움에서 발견된 거대한 은광에서 재원을 조달하여 함대를 건설하였고, 이 함대로 페르시아군을 살라미스에서 대파하였다.

- ① 도편 추방제가 도입되었다.
- ② 대농장인 라티폰디움이 확산되었다.
- ③ 그라쿠스 형제의 개혁이 추진되었다.
- ④ 알렉산드로스의 동방 원정이 시작되었다.
- ⑤ 아테네를 중심으로 한 델로스 동맹이 결성되었다.

6. (가)에 들어갈 내용으로 적절한 것을 <보기>에서 고른 것은?



< 보기 >
 가. 모헨조다로 등의 계획 도시를 건설하였어.
 나. 군사적 봉건제인 티마르 제도를 운영하였어.
 다. 중앙 집권을 위해 도로와 역참 제도를 정비하였어.
 라. '왕의 눈', '왕의 귀'로 불리는 감찰관을 파견하였어.

- ① 가, 나 ② 가, 다 ③ 나, 다 ④ 나, 라 ⑤ 다, 라

7. 밑줄 친 '왕조'에 대한 설명으로 옳은 것은? [3점]



- ① 예니체리를 창설하였다.
 ② 파스파 문자를 사용하였다.
 ③ 탈라스 전투에서 승리하였다.
 ④ 게르만 족의 남하로 멸망하였다.
 ⑤ 카니슈카 왕 시기에 전성기를 맞이하였다.

8. (가)에 들어갈 내용으로 적절한 것은?

특집 기획 국제적 문화를 꽃피운 ○ 왕조

이 왕조에서는 활발한 동서 교류를 통해 다채로운 문화가 발달하였다. 수도 장안에는 신라인, 유럽인, 서역인 등 여러 지역 출신 사람들이 모여들었고 다양한 문물이 교류되었다. 이번 기획에서는 이 왕조의 국제적인 문화를 조명하고자 한다.

서역인 도용

특집 1 서역에 다녀온 현장, 여행기를 남기다.

특집 2 경교의 수용, 대진 경교 유행 중국비가 건립되다.

특집 3 (가)

- ① 마르코 폴로, 제국의 황제를 알현하다.
 ② 이슬람 역법의 수용, 수시력이 편찬되다.
 ③ 당삼채, 이국적 색채와 소재로 인기를 끌다.
 ④ 그리스 문화와의 만남, 간다라 미술이 등장하다.
 ⑤ 웅장한 불교 미술의 정수, 산치 대탑이 조성되다.

9. 다음에 나타난 상황을 배경으로 일어난 혁명에 대한 탐구 활동으로 가장 적절한 것은? [3점]

최근 영국 의회에서 만든 인지세법이 우리의 기본적 권리와 자유를 박탈하는 것 같아 견딜 수가 없다. 이 세금은 너무 무거워서 우리 아메리카의 경제를 힘들게 하고 있다. ...(중략)... 우리가 그들의 식민지라고 하나 자유민인 이상, 대표 없는 곳에 과세할 수 없다고 늘 생각해 왔다. 영국 의회가 부과하는 세금에 복종하는 것은 분명히 보편적인 법의 정신에 모순되는 일이라고 생각한다.

- ① 남북 전쟁의 영향을 알아본다.
 ② 보스턴 차 사건의 결과를 조사한다.
 ③ 비스마르크의 철혈 정책을 분석한다.
 ④ 권리 장전이 승인되는 과정을 살펴본다.
 ⑤ 차티스트 운동의 주도 세력을 찾아본다.

10. 밑줄 친 '개혁'이 추진된 배경으로 옳은 것은? [3점]

당시 사람들은 왕안석이 사악한 무리를 등용하여 청묘법, 보감법 등 개혁을 단행하고 조정의 법령을 뜯어고쳐 마침내 나라를 위태롭게 하여 정강의 변에 이르게 되었다고 믿었다. 하지만 이는 사실을 제대로 알지 못한 것이다. 그 바탕에는 신종 황제의 마음이 크게 작용하였다. 황제는 연운 16주를 회복하려는 강한 의지를 가지고 그를 등용하였던 것이다.

- ① 고구려 침략에 동원된 농민들이 반발하였다.
 ② 흉건적이 난을 일으켜 사회 혼란이 일어났다.
 ③ 요, 서하 등과의 전쟁으로 재정이 악화되었다.
 ④ 제후들의 패권 다툼으로 봉건제가 붕괴되었다.
 ⑤ 시황릉 건설 등 대규모 토목 공사가 진행되었다.

11. 다음 여행기의 소재가 된 유적으로 옳은 것은?


<인도네시아 여행기> 2015년 ○월 ○일



오늘은 자와 섬 중앙에 있는 대승 불교 사원을 다녀왔다. 9세기 경 사일렌드라 왕조에 의해 조성된 이 사원은 수많은 탑이 모여 하나의 거대한 탑의 형상을 이루고 있었다. 현재 국민의 다수가 이슬람교도인 이 나라에 과거의 불교 유적이 잘 보존되어 있는 것을 보며 다양함이 공존하는 동남아시아의 모습을 볼 수 있었다.

- ① 
- ② 
- ③ 
- ④ 
- ⑤ 

12. 교사의 질문에 대한 학생의 대답으로 적절한 것을 <보기>에서 고른 것은? [3점]

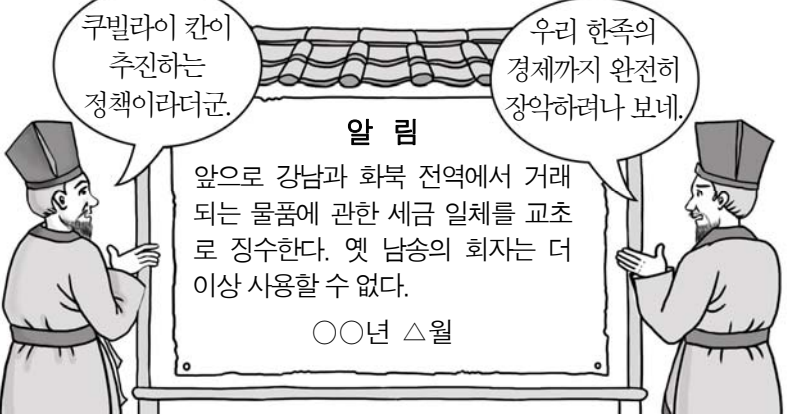


파니파트 전투에서 군대를 지휘하는 바부르

이 전투의 승리로 티무르의 후손 바부르는 ○○ 제국을 수립하였습니다. 이후 이 제국은 아크바르 시기에 전성기를 맞이하였지요. 이 제국에 대해서 말해 볼까요?

- < 보 기 >
- ㄱ. 팔기군이 조직되었어요.
 - ㄴ. 타지마할이 건축되었어요.
 - ㄷ. 우르두어가 사용되었어요.
 - ㄹ. 밀레트 제도가 운영되었어요.
- ① ㄱ, ㄴ ② ㄱ, ㄷ ③ ㄴ, ㄷ ④ ㄴ, ㄹ ⑤ ㄷ, ㄹ

13. 다음 정책을 시행한 왕조에 대한 설명으로 옳은 것은?



쿠빌라이 칸이 추진하는 정책이라더군.

우리 한족의 경제까지 완전히 장악하려나 보네.

알 림


앞으로 강남과 화북 전역에서 거래되는 물품에 관한 세금 일체를 교초로 징수한다. 옛 남송의 회자는 더 이상 사용할 수 없다.

○○년 △월

- ① 사고전서를 편찬하였다.
- ② 맹안·모극제를 시행하였다.
- ③ 러시아와 네르친스크 조약을 체결하였다.
- ④ 조세를 은으로 걷는 일조편법을 실시하였다.
- ⑤ 색목인을 등용하여 재정 업무를 담당하게 하였다.

14. 밑줄 친 '변화'의 내용으로 옳은 것은?

최초의 수력 면방직 공장인 '크롬퍼드 밀'은 잉글랜드 중부의 더웬트 계곡에 설립되었다. 이 공장은 아크라이트에 의해 방적기 50대 규모로 설립되었고, 이후 계곡을 따라 24km에 걸쳐 대규모 공장과 노동자 숙소가 속속 들어섰다. 계곡 주변은 거대한 산업 단지로 변모하였고, 이러한 대량 생산 시스템은 점차 다른 지역으로 확산되어 유럽 사회에 큰 변화를 가져왔다.



유네스코 세계 유산으로 등재된 더웬트 계곡의 크롬퍼드 밀

- ① 길드가 등장하였다.
- ② 제1차 인클로저 운동이 시작되었다.
- ③ 심사법과 인신 보호법이 제정되었다.
- ④ 산업 자본가 계급과 노동자 계급이 성장하였다.
- ⑤ 아메리카의 은이 대량 유입되어 가격 혁명이 일어났다.

15. 자료를 통해 알 수 있는 제국에 대한 설명으로 옳은 것은? [3점]



■ 유스티니아누스 황제 때 영역

제국의 수도 콘스탄티노폴리스는 대단히 번성한 도시이다. 그곳에는 성 소피아 성당이 있는데, 그리스인들의 교회 수장이 기거한다. 그리스인들은 로마 교황을 따르지 않기 때문이다.

- 『여행기』 -

- ① 둠즈데이 북을 작성하였다.
- ② 우파니샤드 철학이 발달하였다.
- ③ 헬레니즘 문화 형성에 기여하였다.
- ④ 군관구제와 둔전병제를 실시하였다.
- ⑤ 베르딩 조약과 메이르선 조약에 의해 분열되었다.

16. 다음을 통해 알 수 있는 관리 선발 제도가 실시된 시대의 문화에 대한 설명으로 옳은 것은? [3점]

○ 이함은 진왕의 신하인데도 왕의 장례가 끝나자마자 바로 상복을 벗었다. 이에 해당 주의 중정관이 의리에 맞지 않는 행동이라고 하여 이함의 향품을 깎아 5품으로 내렸다.

○ 중정관 유침이 관원을 2품으로 천거했으나 조정의 고관이 통과시키지 않았다. 이에 유침이 “관원은 은거하며 뜻을 구하여 행동과 명성이 올바르게 이루어졌습니다.”라고 글을 올려 변호하니 마침내 2품이 되었다.

- ① 제자백가가 출현하였다.
- ② 이백과 두보 등의 시인이 활동하였다.
- ③ 지행합일을 주장하는 양명학이 등장하였다.
- ④ 현실 도피적 경향의 청담 사상이 유행하였다.
- ⑤ 소설, 잡극 공연 등의 서민 문화가 발달하였다.

17. 밑줄 친 ‘나’에 대한 설명으로 옳은 것은?

작센 공의 보호를 받으며 신약 성서를 독일어로 번역하는 지금, 나는 새로 태어난 기분이다. 17년 전 면벌부 판매의 부당함을 주장하며 마인츠의 주교에게 항의했던 일이 이렇게까지 되리라곤 생각도 못했다. 특히 95개조의 반박문을 발표한 이후 나의 인생은 완전히 다른 길로 들어서게 되었다. 이것이 신의 뜻이 아닌가 생각한다.

- ① 예수회 창설을 주도하였다.
- ② 성서만이 신앙의 근거라고 주장하였다.
- ③ 카노사의 굴욕으로 교황에게 굴복하였다.
- ④ 우신예찬에서 성직자들의 타락을 비판하였다.
- ⑤ 신학대전을 저술하여 스콜라 철학을 집대성하였다.

18. 밑줄 친 ‘이 나라’에서 볼 수 있었던 모습으로 적절한 것은? [3점]



나는 선교사로 이 나라의 수도 베이징에 파견되었습니다. 흙천감에서 24년간 일하며 천문 관측 기구, 지도 등을 제작하였습니다. 또한 성능 좋은 대포를 제작하여 삼변의 난 진압에 큰 공을 세웠습니다.




나는 선교사로 이 나라에 파견되어 50년간 궁중에서 화가로 활동하며 용정제, 건륭제의 초상화를 그리기도 하였습니다. 또 서양식 궁전인 원명원 건설에도 참여하였습니다.

- ① 황소의 난에 가담한 농민
- ② 빈공과에 응시하는 외국인
- ③ 분서갱유를 피해 도망가는 유학자
- ④ 정화를 수행하여 항해를 떠나는 관리
- ⑤ 회관에서 물품을 정리하는 산시 상인

19. (가)에 들어갈 내용으로 적절한 것은? [3점]

그림으로 보는 세계사 ○○○편



이 그림은 어떤 혁명을 소재로 그린 것으로, 파리 시내에서 바리케이드를 사이에 두고

정부군과 맞선 시민군의 비장함이 잘 묘사되어 있다. 중소 시민 계층과 노동자들은 소수 부유층이 장악한 보수적인 정권에 맞서, 선거권 확대를 요구하며 이 혁명을 주도하였다. 그 결과 루이 필리프가 쫓겨나고 (가)

- ① 공화정이 수립되었다.
- ② 삼부회가 소집되었다.
- ③ 국민 공회가 구성되었다.
- ④ 인권 선언이 발표되었다.
- ⑤ 권리 청원이 통과되었다.

20. 지도는 어느 시기 일본의 대외 교류를 나타낸 것이다. 이 시기의 문화에 대한 설명으로 옳은 것은?



- ① 조닌 문화가 발달하였다.
- ② 도다이 사가 창건되었다.
- ③ 아스카 문화가 성립되었다.
- ④ 일본서기와 고사기가 편찬되었다.
- ⑤ 쇼토쿠 태자가 불교를 후원하였다.

※ 확인 사항
문제지와 답안지의 해당란을 정확히 기입(표기)했는지 확인하십시오.