

제 4 교시

# 사회탐구 영역(동아시아사)

성명		수험번호					2		
----	--	------	--	--	--	--	---	--	--

1. 다음 유물을 만들어 쓰던 사람들의 생활 모습으로 옳은 것은?

<○○○ 시대 동아시아 지역의 토기>



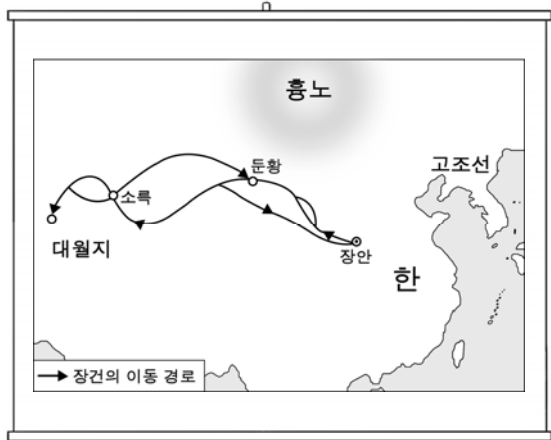
빗살무늬 토기



양사오 토기

- ① 철제 무기를 사용하였다.
- ② 청동으로 제사용 도구를 만들었다.
- ③ 농경과 목축을 통해 식량을 얻었다.
- ④ 지배층의 무덤으로 고인돌을 축조하였다.
- ⑤ 왕이 점을 쳐 국가의 중요한 일을 결정하였다.

2. 교사의 질문에 대한 학생의 발표 내용으로 가장 적절한 것은?



한 무제는 장건을 대월지에 파견했어요. 그 이유를 발표해 볼까요?



- ① 왜구를 소탕하고자 했어요.
- ② 흉노를 토벌하고자 했어요.
- ③ 남비엣을 정복하고자 했어요.
- ④ 고조선을 침략하고자 했어요.
- ⑤ 타이완을 복속시키고자 했어요.

3. (가) 사상이 확산됨에 따라 나타난 사실로 옳은 것은? [3점]

남송의 주희가 유학 사상을 형이상학의 체계로 종합한 것이 (가)이다. 인간의 심성과 우주의 원리를 철학적으로 탐구하는 이 사상은 수양의 방법으로 격물치지를 강조하였다.

- ① 진에서 분서갱유가 일어났다.
- ② 일본에서 야요이 문화가 나타났다.
- ③ 남조에서 청담 사상이 유행하였다.
- ④ 춘추·전국 시대에 법가 사상이 등장하였다.
- ⑤ 조선에서 서원과 향약이 전국적으로 보급되었다.

4. (가)에 들어갈 내용으로 적절한 것은? [3점]

### 고대 한·일 토기 특별전

- 주제: (가)
- 일시: 2016년 ○월 ○일 ~ ○월 ○일
- 장소: △△ 박물관

가야 토기

스에키 토기

단단하기로 유명한 토기!

가야인의 뛰어난 토기 제작 기술이 일본에 전해진 모습,  
이번 전시회에서 확인해 보세요.

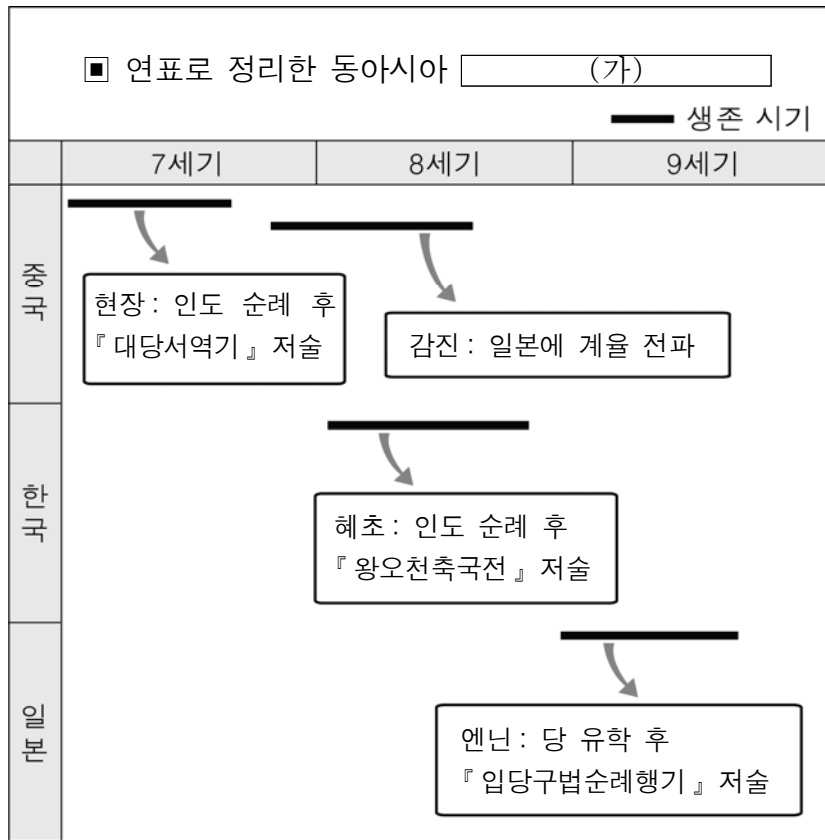
- ① 국풍 문화의 형성
- ② 율령 체제의 확산
- ③ 화번 공주와 문화 전파
- ④ 구석기 문화의 전파와 수용
- ⑤ 도래인과 일본 고대 문화의 발전

5. 밑줄 친 '이 사람'의 활동이 끼친 영향으로 옳은 것은?

이 사람은 15세기 전반에 영락제의 명령으로 여러 차례 대선단을 이끌고 동남아시아, 인도를 지나 아프리카 동부 해안까지 진출하였다. 그는 호르무즈로부터는 사자를, 아덴으로부터는 기린 등을 진상품으로 받았다. 그리고 황제의 조칙을 알리고 답례품을 하사하였다. 이러한 활동으로 진귀한 동물과 물품이 명에 소개되었고, 동남아시아 및 인도 연안의 수많은 나라가 명에 사절을 파견하게 되었다.

- ① 병자 전쟁이 일어났다.
- ② 안남도호부가 설치되었다.
- ③ 다이카 개신이 단행되었다.
- ④ 조선과 일본의 국교가 재개되었다.
- ⑤ 중국 중심의 국제 질서가 확대되었다.

6. (가)에 들어갈 내용으로 적절한 것은? [3점]



- ① 신불습합의 진전
- ② 민족의식의 성장
- ③ 무인 정권의 성립
- ④ 불교 교류의 확대
- ⑤ 유교 문화의 발전

7. (가)에 들어갈 내용으로 적절한 것은?

1. 북방 유목 민족의 성장  
1) 요(거란)와 금(여진)의 성립  
⋮  
2) 요와 금의 (가)

- 요 [ 북면관계: 유목민 통치  
남면관계: 한족 등 농경민 통치
- 금 [ 맹안·모극제: 유목민 통치  
주현제: 한족 등 농경민 통치

- ① 2관 8성 체제
- ② 문치주의 정책
- ③ 책봉·조공 체제
- ④ 이원적 통치 체제
- ⑤ 중법적 봉건 제도

8. 다음 가상 광고에 나타난 시기에서 볼 수 있는 모습으로 적절하지 않은 것은? [3점]

동아시아사 신문 청 문화 특집호

신간 안내: 『홍루몽』 (조설근 원작)



소설의 내용을 소재로 한 채색화

문인들의 극찬 속에 절찬리 판매 중!  
이 시대의 진정한 애정 소설이자 사회 소설이라는 평가를 받는 수작으로, 권세가의 생활상에 대한 세밀한 묘사가 일품입니다.

- ① 한국 - 홍길동전을 판매하는 상인
- ② 한국 - 삼국유사를 집필하는 승려
- ③ 중국 - 곤여만국전도를 보고 토론하는 학자들
- ④ 일본 - 데라코야에서 글을 배우는 서민의 자제
- ⑤ 베트남 - 수상 인형극을 관람하는 어린이들

9. 두 개혁의 공통점으로 옳은 것은? [3점]

- 일본은 메이지 유신을 통해 중앙 집권 체제를 강화하고 부국강병 정책을 전개하였다.
- 청·일 전쟁에서 패배한 청은 변법파를 중심으로 위기를 극복하기 위해 개혁을 추진하였다.

- ① 공화국을 수립하려고 하였다.
- ② 외세 배척 운동을 전개하였다.
- ③ 개화 정책 추진에 반대하였다.
- ④ 농민에게 토지를 균등 분배하였다.
- ⑤ 서양의 제도를 도입하여 근대화를 추구하였다.

10. (가) 정책에 대한 설명으로 옳은 것은?

< 20세기 중반 이후 베트남의 주요 사건 >

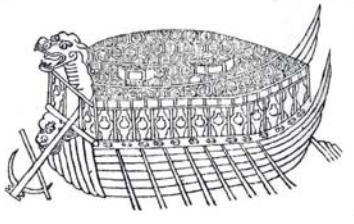
- 1954년 제네바 협정으로 프랑스의 식민 지배로부터 독립
- 1964년 통킹 만 사건을 계기로 미국이 전투 부대를 파병
- 1975년 베트남 전쟁의 종결
- 1976년 베트남 사회주의 공화국 수립
- 1986년 경제 성장을 위한 (가) 정책 도입
- 1992년 한국과 수교

- ① 개혁과 개방을 표방하였다.
- ② 문화 대혁명의 배경이 되었다.
- ③ 주요 기업의 국유화를 촉진시켰다.
- ④ 중국 공산당의 대장정에 영향을 미쳤다.
- ⑤ 일본과 영토 분쟁이 일어나는 원인이 되었다.

11. (가) 전쟁 중에 있었던 사실로 옳은 것은? [3점]


**사이버 동아시아 전쟁 박물관**

(가) 전쟁 관련 자료



<거북선>  
철갑을 씌운 배로, 적진에 돌진하여 전열을 무너뜨릴 목적으로 주로 사용됨.

오디오 가이드



<귀 무덤>  
일본 교토 시에 있는 무덤으로, 전쟁 때 일본군이 배어 간 조선인의 코와 귀를 묻은 곳.

오디오 가이드

메인
전시
검색

- ① 조선 - 북학론이 대두되었다.
- ② 대월 - 쩌 왕조가 성립되었다.
- ③ 명 - 조선에 지원군을 파병하였다.
- ④ 일본 - 무로마치 막부가 수립되었다.
- ⑤ 몽골 - 칭기즈 칸이 제국을 건설하였다.

12. (가)에 들어갈 내용으로 적절한 것을 <보기>에서 고른 것은? [3점]

<역사 자율 동아리 전공 심화 논문 구성안>

○ 주제: 16 ~ 19세기 동아시아의 급격한 인구 증가

1. 인구 증가의 주요 원인
  - 1) 경지 면적의 확대와 농업 기술의 발달
  - 2) 옥수수, 감자 등의 신작물 보급
2. 인구 증가가 동아시아 각국에 끼친 영향
  - 1) 상업의 발달
  - 2)  (가)

- < 보 기 >
- |            |             |
|------------|-------------|
| ㄱ. 견당사 파견  | ㄴ. 도시의 성장   |
| ㄷ. 군국제의 실시 | ㄹ. 서민 문화 발달 |

- ① ㄱ, ㄴ    ② ㄱ, ㄷ    ③ ㄴ, ㄷ    ④ ㄴ, ㄹ    ⑤ ㄷ, ㄹ

13. 밑줄 친 '이 나라'에 대한 설명으로 옳은 것은?

- 이븐 바투타는 『여행기』에서 “여행자에게 이 나라는 가장 안전하고 좋은 곳이다. 그들의 여행 질서를 보면 전국의 모든 역참에 여인숙이 있는데, 관리자가 몇몇 기병과 보병을 데리고 상주하고 있다.”고 서술하였다.
- 마르코 폴로는 이 나라의 쿠빌라이 칸을 ‘사람과 땅의 가장 강한 주인이자 가장 위대한 군주’라고 표현하였다.

- ① 쯤놈 문자를 사용하였다.
- ② 산킨코타이 제도를 실시하였다.
- ③ 사무라이가 지배층을 형성하였다.
- ④ 동서 교역로를 장악한 대제국이였다.
- ⑤ 신라와 연합하여 백제를 멸망시켰다.

14. 자료에 나타난 인구 이동이 동아시아에 끼친 영향으로 적절한 것은?

북방의 유목 민족인 5호(흉노·선비·저·갈·강)가 침략하여 나라가 크게 어지러웠다. 이에 중원의 백성들 중에 회수(화이허 강)를 건너고, 또한 양쯔 강을 건너 이주하는 자들이 많았다.

- 『송서』 -

- ① 후금이 건국되었다.
- ② 에도에 막부가 수립되었다.
- ③ 요가 연운 16주를 차지하였다.
- ④ 부여 세력의 일부가 고구려를 건국하였다.
- ⑤ 양쯔 강 하류 지역에 새로운 농법이 전래되었다.

15. (가)에 들어갈 내용으로 가장 적절한 것은?

동아시아사 신문 제작 회의

○ 특집 기사 주제:  (가)

송 대에 시행된 전시가 무엇인지 알아볼까?

그래. 나는 조선의 문신 관료층의 특징에 대해 찾아볼게.



- ① 과거제의 영향
- ② 불교의 토착화
- ③ 제자백가의 출현
- ④ 조닌 문화의 발달
- ⑤ 바닷길을 이용한 동서 교류

16. 밑줄 친 ㉠의 영향으로 일어난 사실로 옳은 것은? [3점]

이번 ㉠ 조선의 독립운동은 위대하고 비장하며 정확한 생각을 갖추고 있다. 민의를 사용하고 무력을 사용하지 않으므로써 참으로 세계 혁명사에 신기원을 열었다. 우리는 이에 대하여 찬미, 슬픔, 흥분, 희망, 부끄러움 등의 여러 가지 감상을 갖는다. 조선 민족 운동이 영광스러운 것에 비하여 우리의 노력이 부진하다는 사실을 확인할 수 있어 더욱 분발해야 함을 느낀다.

- 천두슈, 1919. 3. 22. -

- ① 한국 - 갑신정변이 일어났다.
- ② 한국 - 동학 농민 운동이 일어났다.
- ③ 중국 - 5·4 운동이 일어났다.
- ④ 일본 - 존왕양이 운동이 일어났다.
- ⑤ 베트남 - 근왕 운동이 일어났다.

17. 밑줄 친 '전쟁' 중에 있었던 사실로 옳은 것을 <보기>에서 고른 것은? [3점]

1950년 6월 25일 북한의 기습 남침으로 전쟁이 시작되었다. 초기에는 북한군이 우세하였지만, 유엔군이 참전하면서 전세가 역전되었다. 이후 전황은 다시 바뀌었고, 치열한 공방전이 계속되다가 1953년 정전 협정이 체결되었다.

< 보 기 >

ㄱ. 중국군이 참전하였다.  
 ㄴ. 인천 상륙 작전이 전개되었다.  
 ㄷ. 베트남에서 동유 운동이 일어났다.  
 ㄹ. 중국에서 국·공 합작이 이루어졌다.

- ① ㄱ, ㄴ    ② ㄱ, ㄷ    ③ ㄴ, ㄷ    ④ ㄴ, ㄹ    ⑤ ㄷ, ㄹ


18. 다음 자료에 나타난 변화의 공통점으로 가장 적절한 것은?

- 타이완에서는 2000년 국민당의 장기 집권이 끝나고 민주진보당(민진당)의 천수이볜이 총통으로 선출되었다.
- 일본에서는 1993년 자유민주당(자민당) 중심의 '55년 체제'가 막을 내렸고, 이후 2009년에는 민주당이 집권하였다.


- ① 냉전 체제 강화에 영향을 미쳤다.
- ② 경제 개발 5개년 계획이 실시되었다.
- ③ 선거를 통한 정권 교체가 이루어졌다.
- ④ 동아시아 나라 사이에 국교가 회복되었다.
- ⑤ 미국의 경제 원조를 바탕으로 경제 성장이 이루어졌다.

19. (가), (나) 조약에 대한 설명으로 옳은 것을 <보기>에서 고른 것은? [3점]

< 한국과 중국의 개항 >



(가) 조약(1876)



(나) 조약(1842)

< 보 기 >

ㄱ. (가) - 미국과 체결된 조약이었다.  
 ㄴ. (나) - 제1차 아편 전쟁의 결과로 체결되었다.  
 ㄷ. (가), (나) - 불평등 조약이었다.  
 ㄹ. (가), (나) - 천주교 포교를 허용하였다.


- ① ㄱ, ㄴ    ② ㄱ, ㄷ    ③ ㄴ, ㄷ    ④ ㄴ, ㄹ    ⑤ ㄷ, ㄹ

20. 교사의 질문에 대한 학생의 발표 내용으로 적절하지 않은 것은?

(가) 국가의 침략 전쟁 확대 과정

연도	사건
1931	만주 사변 도발
1937	중국 본토 침략
1941	진주만 기습 공격
1945	연합국에 무조건 항복

(가) 국가는 침략 전쟁 중에 동아시아에 많은 피해를 입혔어요. 그 사례를 발표해 보세요.



- ① 난징 대학살을 일으켰어요.
- ② 무력을 동원하여 텐안먼 사건을 일으켰어요.
- ③ 한국의 청년들을 군인으로 강제 동원하였어요.
- ④ 여성들을 일본군 '위안부'로 강제 동원하였어요.
- ⑤ 징용령으로 식민지 주민의 노동력을 수탈하였어요.

※ 확인 사항

- 답안지의 해당란에 필요한 내용을 정확히 기입(표기)했는지 확인하십시오.