

제 4 교시

사회탐구 영역(경제)

성명

수험번호 2

1. (가)~(라)에 대한 옳은 설명을 <보기>에서 고른 것은?

- (가) 노동, 토지, 자본 등 생산에 필요한 자원
- (나) 정부의 명령에 따라 경제를 운용하는 경제 체제
- (다) 희소성이 없어 누구나 공짜로 얻을 수 있는 재화
- (라) 선택으로 인해 포기한 대안들 중 가치가 가장 큰 것

< 보 기 >

- ㄱ. 기업은 (가)의 수요자이다.
- ㄴ. (나)는 형평성보다 효율성을 중시한다.
- ㄷ. (다)는 기본적인 경제 문제를 야기하지 않는다.
- ㄹ. 이미 지출되어 회수할 수 없는 비용은 (라)에 포함된다.

- ① ㄱ, ㄴ    ② ㄱ, ㄷ    ③ ㄴ, ㄷ    ④ ㄴ, ㄹ    ⑤ ㄷ, ㄹ

2. 다음은 공정 거래 위원회가 취한 조치이다. 밑줄 친 ㉠~㉣에 대한 옳은 설명을 <보기>에서 고른 것은?

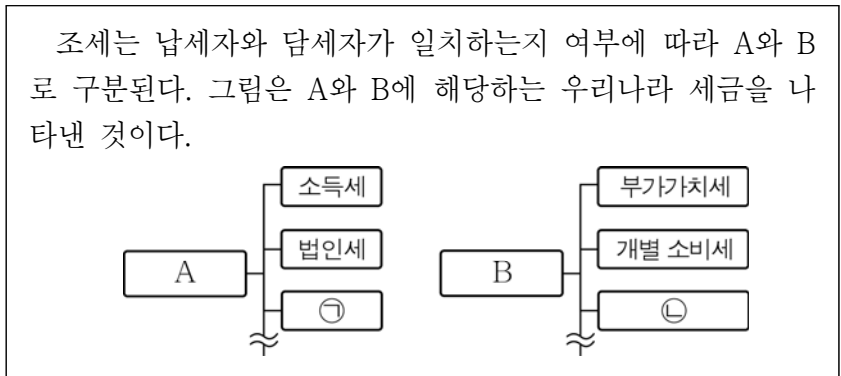
- A 회사와 B 회사가 컵 커피의 가격을 인상하기로 ㉠ 담합한 행위에 대해 시정 명령과 함께 ㉡ 과징금을 부과하였다.
- 기업 간 ㉢ 담합 행위를 신고한 2명에게 ㉣ 포상금을 지급하였다.

< 보 기 >

- ㄱ. ㉠은 정부 실패에 해당한다.
- ㄴ. ㉡은 과도한 경쟁을 억제하기 위해 부과하였다.
- ㄷ. ㉢과 ㉣은 모두 경제적 유인이다.
- ㄹ. ㉣은 ㉢을 통해 얻은 편익이다.


- ① ㄱ, ㄴ    ② ㄱ, ㄷ    ③ ㄴ, ㄷ    ④ ㄴ, ㄹ    ⑤ ㄷ, ㄹ

3. 다음 자료에 대한 설명으로 옳은 것은? [3점]



- ① A는 납세자와 담세자가 일치하지 않는다.
- ② B는 누진세율이 적용된다.
- ③ A보다 B의 조세 저항이 강하다.
- ④ B보다 A의 소득 재분배 효과가 크다.
- ⑤ 재산세는 ㉠이 아닌 ㉡에 들어갈 수 있다.

4. 그림의 교사의 질문에 대해 옳게 발표한 학생을 <보기>에서 고른 것은?

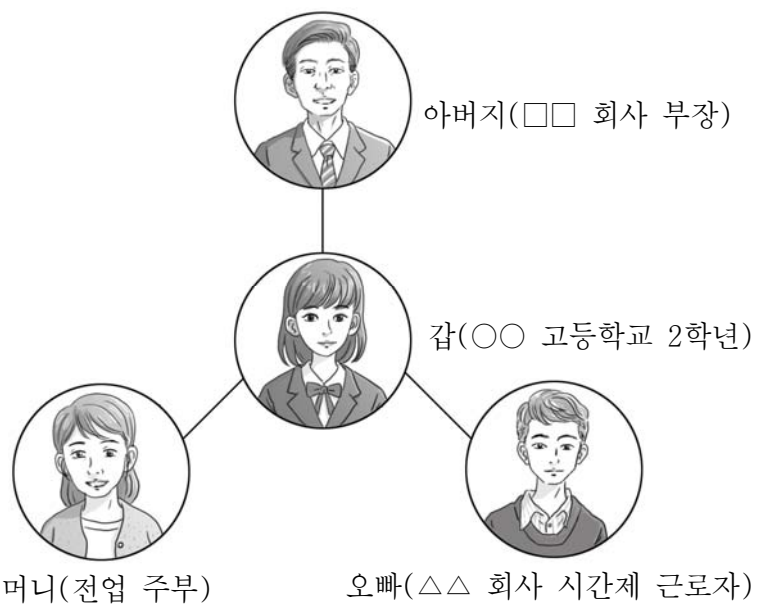


< 보 기 >

- 갑: 국제 유가 상승으로 인해 나타날 수 있습니다.
- 을: 연금 생활자의 실질 소득이 감소할 수 있습니다.
- 병: 상품 수지 흑자 폭을 늘리는 요인이 될 수 있습니다.
- 정: 중앙 은행의 재할인율 인하를 통해 해결할 수 있습니다.

- ① 갑, 을    ② 갑, 병    ③ 을, 병    ④ 을, 정    ⑤ 병, 정

5. 그림은 갑의 가족을 나타낸 것이다. 이에 대한 옳은 설명을 <보기>에서 고른 것은? [3점]



< 보 기 >

- ㄱ. 갑은 경제 활동 인구이다.
- ㄴ. 갑의 어머니는 비경제 활동 인구이다.
- ㄷ. 갑의 아버지와 오빠는 모두 취업자이다.
- ㄹ. 갑의 가족은 모두 경제 활동 인구이다.

- ① ㄱ, ㄴ    ② ㄱ, ㄷ    ③ ㄴ, ㄷ    ④ ㄴ, ㄹ    ⑤ ㄷ, ㄹ

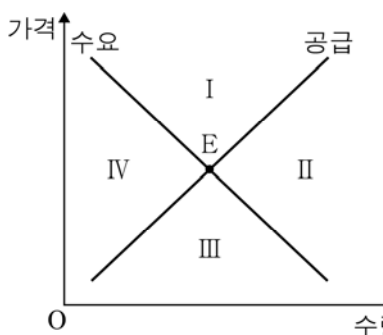
6. 그림의 대화를 통해 추론할 수 있는 감자 시장의 균형점 E가 이동할 영역으로 옳은 것은? (단, E는 현재의 균형점이다.) [3점]

달콤한 감자칩이 유행하면서 여러 기업들이 새롭게 감자칩 시리즈를 출시하고 있어요.

그런데 예년에 없던 극심한 가뭄으로 인해 감자 생산이 차질을 빚고 있어요.



<감자 시장>

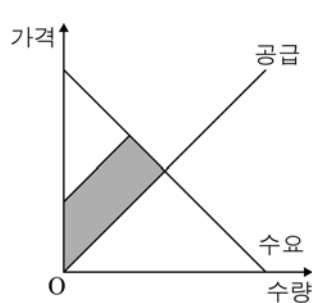


- ① I    ② II    ③ III    ④ IV    ⑤ 이동 없음

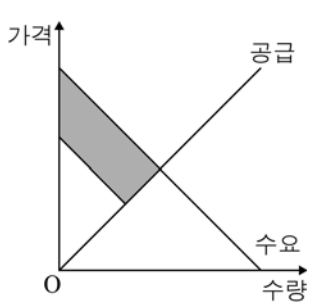
7. 다음 자료에 대한 옳은 분석을 <보기>에서 고른 것은? [3점]

그림과 같은 수요 곡선과 공급 곡선을 가지는 X재와 Y재 시장에서 수요와 공급 중 하나가 변동하였다. 그 결과 X재와 Y재의 사회적 잉여가 음영 처리된 부분만큼 각각 감소하였다.

<X재>



<Y재>



- < 보 기 >
- ㄱ. X재는 공급이 증가하였다.  
 ㄴ. Y재는 수요가 감소하였다.  
 ㄷ. X재와 Y재의 생산자 잉여가 모두 감소하였다.  
 ㄹ. X재와 달리 Y재의 소비자 잉여는 증가하였다.

- ① ㄱ, ㄴ    ② ㄱ, ㄷ    ③ ㄴ, ㄷ    ④ ㄴ, ㄹ    ⑤ ㄷ, ㄹ

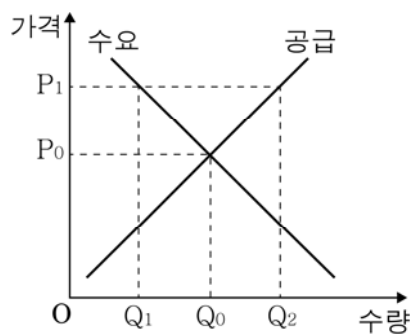
8. 다음 갑국과 을국의 2015년 경제 지표에 대한 설명으로 옳은 것은? (단, 무역은 갑국과 을국 사이에서만 이루어지고, 모든 수치는 명목 기준이다.)

- 갑국은 2015년에 중간재 없이 X재만을 100만 달러어치 생산하여 자국 내에서 80만 달러어치를 소비하였고, 20만 달러어치는 을국에 수출하였다.
- 을국은 2015년에 중간재 없이 Y재만을 100만 달러어치 생산하여 자국 내에서 70만 달러어치를 소비하였고, 30만 달러어치는 갑국에 수출하였다.

- ① 갑국과 을국의 GDP는 같다.  
 ② 갑국의 GDP는 80만 달러이다.  
 ③ 을국의 GDP는 90만 달러이다.  
 ④ 갑국의 순수출은 10만 달러이다.  
 ⑤ 을국보다 갑국의 총수요가 더 크다.

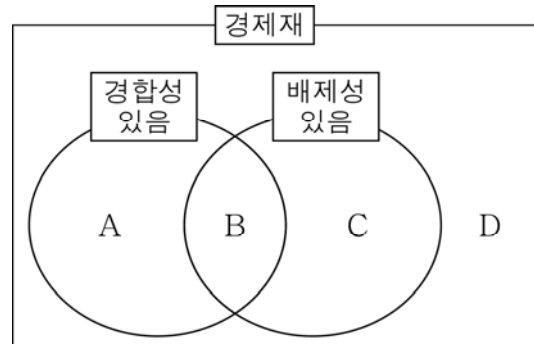
9. 밑줄 친 '가격 규제 정책'의 영향으로 옳은 것은?

갑국 정부는 그림과 같은 X재 시장에서 최저 가격을  $P_1$ 로 하는 가격 규제 정책을 실시하였다.



- ① 수요량이  $Q_0Q_2$ 만큼 증가한다.  
 ② 거래량이  $Q_1Q_2$ 만큼 감소한다.  
 ③  $Q_1Q_2$ 만큼의 초과 수요가 발생한다.  
 ④ 수요자의 지출액이  $P_1 \times Q_1$ 으로 변한다.  
 ⑤ 시장 가격이  $P_0$ 와  $P_1$  사이에서 결정된다.

10. 그림은 경합성과 배제성의 유무를 기준으로 경제제를 분류한 것이다. A ~ D에 대한 설명으로 옳은 것은? [3점]



- ① 막히는 무료 도로는 A에 해당한다.  
 ② 국방 서비스는 B에 해당한다.  
 ③ C는 남용에 의해 고갈될 가능성이 높다.  
 ④ D는 시장에서 사회적 최적 수준만큼 공급된다.  
 ⑤ A와 B는 모두 무임승차의 문제를 야기한다.

11. <자료 2>의 표는 <자료 1>에 나타난 갑과 을의 경제 활동을 구분한 것이다. 빈칸 ㉠~㉢에 들어갈 내용으로 옳은 것은?

<자료 1>

- 세무사인 갑은 1건당 20~30만 원씩 받고 고객들의 종합 소득세 신고를 대행하였다.
- 회사원인 을은 ○○ 세탁소에 5만 원을 주고 지난 겨울에 입었던 옷의 세탁을 맡겼다.

<자료 2>

구분	갑의 경제 활동	을의 경제 활동
생산 활동인가?	㉠	㉡
서비스를 객체로 하였는가?	㉢	㉣

- |   |     |     |     |     |
|---|-----|-----|-----|-----|
|   | ㉠   | ㉡   | ㉢   | ㉣   |
| ① | 예   | 예   | 예   | 예   |
| ② | 예   | 아니요 | 예   | 예   |
| ③ | 예   | 아니요 | 예   | 아니요 |
| ④ | 아니요 | 예   | 아니요 | 아니요 |
| ⑤ | 아니요 | 아니요 | 아니요 | 예   |

12. 표는 갑국의 경상 수지를 나타낸 것이다. 이에 대한 설명으로 옳은 것은? [3점]

(단위: 억 달러)

항목		연도	2014년	2015년
상품 수지			60	60
(가)	계		-10	5
	여행		-20	-10
	㉠		5	5
	⋮		⋮	⋮
(나)	계		-10	10
	급료 및 임금		-20	-10
	㉡		10	20
이전 소득 수지			5	-5

- 투자 소득은 ㉠에 해당한다.
- 지식 재산권 사용료는 ㉡에 해당한다.
- 2014년과 2015년의 재화 수출액은 같다.
- (가)는 본원 소득 수지, (나)는 서비스 수지이다.
- 2015년에 정부 간 무상 원조가 포함되는 항목은 적자이다.

13. 다음 사례에 나타난 가계 소득의 유형을 <보기>에서 고른 것은?

1년 전에 2억 원을 상속받은 갑은 1억 원을 연 이율 2%의 정기 예금에 넣고, 나머지 1억 원으로 ○○ 회사의 주식을 매입하였다. 이로 인해 이자 수익과 주식 배당금으로 약 500만 원의 소득을 얻었다.

- < 보 기 >
- |          |           |
|----------|-----------|
| ㄱ. 사업 소득 | ㄴ. 이전 소득  |
| ㄷ. 재산 소득 | ㄹ. 비경상 소득 |

- ① ㄱ, ㄴ    ② ㄱ, ㄷ    ③ ㄴ, ㄷ    ④ ㄴ, ㄹ    ⑤ ㄷ, ㄹ

14. 다음 대화에서 갑과 을이 생각하는 밑줄 친 '미용 서비스' 수요의 가격 탄력성으로 옳은 것은? [3점]

갑: ○○ 미용실에서 수능 수험표를 가지고 오는 수험생에게 미용 서비스 가격의 30%를 할인해 준대.  
 을: 나도 그 이야기 들었어.  
 갑: ○○ 미용실 사장님은 좋은 분이신 거 같아. 할인을 하면 판매 수입이 줄어들 텐데.  
 을: 그렇지 않아. 오히려 판매 수입은 늘어날 거야.

- |   |        |        |
|---|--------|--------|
|   | 갑      | 을      |
| ① | 탄력적    | 비탄력적   |
| ② | 탄력적    | 단위 탄력적 |
| ③ | 비탄력적   | 탄력적    |
| ④ | 비탄력적   | 단위 탄력적 |
| ⑤ | 단위 탄력적 | 탄력적    |

15. 그림의 신문 기사에 나타난 외부 효과에 대한 설명으로 옳은 것은? [3점]

○○ 신문

**아파트 층간 흡연 문제 심각**

아파트 실내 흡연으로 창문과 환풍구 등을 통해 담배 연기가 올라와 고통을 겪는 주민이 증가하고 있다.

- 긍정적 외부 효과이다.
- 사적 편익을 늘려야 해결할 수 있다.
- 사적 편익이 사회적 편익보다 작은 현상이다.
- 사회적 최적 수준보다 과다 소비되는 문제를 야기한다.
- '전염병 예방 접종'으로 인해 나타나는 외부 효과와 같은 유형이다.

16. 다음은 자산 관리 위험의 유형을 분류한 것이다. 밑줄 친 ㉠~㉣에 대한 설명으로 옳은 것은?

- ㉠ 유동성 위험: 자산을 현금화하기 어려운 위험
- ㉡ 인플레이션 위험: 물가 상승으로 보유 자산의 가치가 하락할 위험
- ㉢ 시장 가격 변동 위험: 자신이 보유한 자산의 가격이 하락할 위험
- ㉣ 채무 불이행 위험: 채무자가 계약상의 지급 의무를 이행하지 않을 위험

- ① 은행 예금보다 부동산의 ㉠이 크다.
- ② 현금 자산보다 실물 자산의 ㉡이 크다.
- ③ 주식보다 국채의 ㉢이 크다.
- ④ 예금자 보호법은 ㉣을 높인다.
- ⑤ 분산 투자는 ㉢을 높이고 ㉣을 낮춘다.

17. 밑줄 친 '경제 안정화 정책'에 해당하는 적절한 내용을 <보기>에서 고른 것은? [3점]

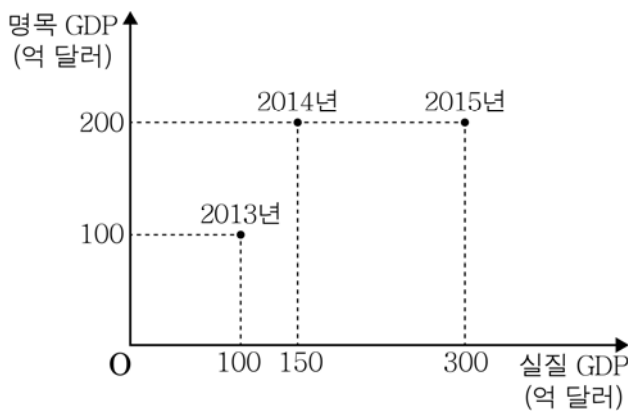
표는 갑국의 2015년 경제 지표와 2016년에 경제 안정화 정책을 통해 달성하고자 하는 목표를 나타낸 것이다.

구분	경제 성장률(%)	실업률(%)
2015년 경제 지표	-2	7
2016년 목표	5	3

- < 보 기 >
- ㄱ. 소득세율 인상                      ㄴ. 국·공채 매입
  - ㄷ. 정부 지출 축소                     ㄹ. 지급 준비율 인하

- ① ㄱ, ㄴ    ② ㄱ, ㄷ    ③ ㄴ, ㄷ    ④ ㄴ, ㄹ    ⑤ ㄷ, ㄹ

18. 그림은 갑국의 실질 GDP와 명목 GDP의 변화를 나타낸 것이다. 이에 대한 분석으로 옳은 것은? (단, 물가 수준은 GDP 디플레이터로 측정하고, 기준 연도는 2010년이다.)



- ① 2014년과 2015년의 경제 규모는 같다.
- ② 2014년의 GDP 디플레이터가 가장 작다.
- ③ 2015년의 물가 수준은 2013년보다 높다.
- ④ 2015년의 경제 성장률은 2014년보다 낮다.
- ⑤ 2010년과 2013년의 GDP 디플레이터는 같다.

19. 밑줄 친 '원/달러 환율 변동'의 영향으로 적절한 내용을 <보기>에서 고른 것은?



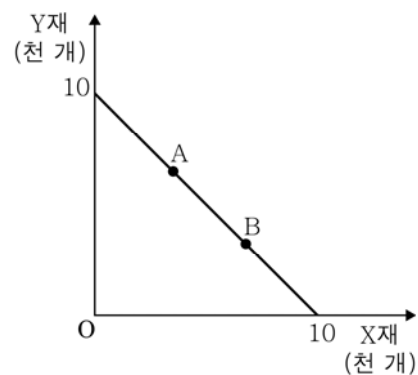
전문가들에 따르면 최근의 원/달러 환율 변동 추세가 장기간 지속될 것 같습니다. 미국 여행 계획이 있는 분은 달러화 환전을 서두르는 것이 좋을 것 같습니다. ○○○ 기자 연결하겠습니다.

- < 보 기 >
- ㄱ. 미국산 부품의 원화 표시 가격이 상승한다.
  - ㄴ. 미국에 수출하는 한국 상품의 가격 경쟁력이 약화된다.
  - ㄷ. 달러화 표시 외채를 상환해야 하는 한국 기업의 부담이 증가한다.
  - ㄹ. 미국에서 유학 중인 자녀에게 송금해야 하는 한국 부모의 부담이 감소한다.

- ① ㄱ, ㄴ    ② ㄱ, ㄷ    ③ ㄴ, ㄷ    ④ ㄴ, ㄹ    ⑤ ㄷ, ㄹ

20. 다음 자료에 대한 분석으로 옳은 것은? [3점]

그림은 을국과 교역하기 전 갑국의 생산 가능 곡선이다. 현재, 비교 우위론에 따라 갑국은 X재 생산, 을국은 Y재 생산에 특화하여 두 국가는 교역을 하고 있다.



- ① 을국은 Y재 생산에 절대 우위가 있다.
- ② X재 1개 생산의 기회비용은 갑국이 을국보다 크다.
- ③ 을국의 Y재 1개 생산의 기회비용은 X재 1개보다 작다.
- ④ 갑국은 X재 1만 개와 Y재 1만 개를 동시에 생산할 수 있다.
- ⑤ X재 1개 추가 생산에 따른 갑국의 기회비용은 A점보다 B점에서 더 크다.

※ 확인 사항  
○ 답안지의 해당란에 필요한 내용을 정확히 기입(표기)했는지 확인하십시오.