

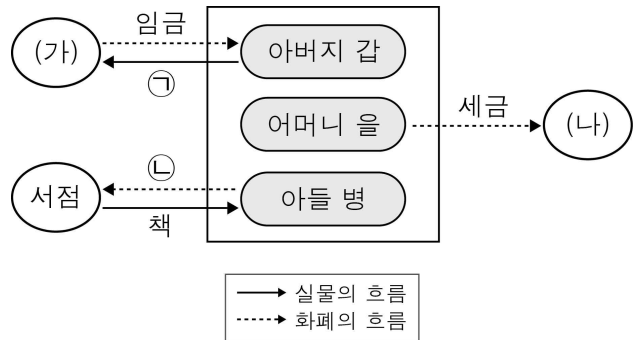
제 4 교시

사회탐구 영역(경제)

성명

수험번호 3

1. 그림은 어느 가게를 중심으로 나타낸 경제 활동 흐름의 일부이다. 이에 대한 설명으로 옳은 것은?



- ① 갑은 생산 요소 시장의 수요자이다.
- ② ㉠은 생산물 시장에서 거래된다.
- ③ ㉡은 투자에 해당한다.
- ④ (가)는 효용의 극대화를 추구한다.
- ⑤ (나)는 공공 서비스를 제공한다.

3. 밑줄 친 ㉠~㉣에 대한 설명으로 옳은 것은? [3점]

갑은 ㉠○○ 음악회 입장권을 10만 원에 구입하여 공연장에 입장하였다. 그런데 ㉡음악회 연주는 기대와 달리 매우 실망스러웠다. 갑은 ㉢연주를 마저 듣는 것보다 그 시간 동안 집에 가서 ㉣TV를 보는 것이 더 낫다고 생각하면서도 ㉤들인 돈이 아까워 ㉥그대로 앉아 연주를 들었다.

- ① ㉠은 재화를 소비하기 위한 활동이다.
- ② ㉡은 부가가치를 창출하는 활동이 아니다.
- ③ ㉢의 기회비용에는 ㉣에서 얻는 만족감이 포함된다.
- ④ ㉤은 매물 비용으로 볼 수 없다.
- ⑤ ㉥은 합리적 선택이다.

2. 다음은 서로 다른 연관재 관계에 있는 두 재화에 대한 사례이다. 이에 대한 옳은 설명을 <보기>에서 고른 것은? [3점]

- 갑국에서는 스마트폰의 보급이 늘면서 노트북 컴퓨터 판매량이 줄어들고 있다. 갑국 국민들은 간단한 메일을 확인하거나 정보를 검색하기 위해 굳이 노트북 컴퓨터를 사용할 필요가 없다고 생각하기 때문이다.
- 을국에서는 스마트폰의 보급이 늘면서 노트북 컴퓨터 판매량도 증가하고 있다. 을국 국민들은 스마트폰과 노트북 컴퓨터를 함께 사용하여 언제 어디서나 높은 수준의 정보 처리 작업을 하려는 성향이 있기 때문이다.

- < 보 기 >
- ㄱ. 갑국에서 스마트폰의 공급 증가는 노트북 컴퓨터의 수요를 감소시킬 것이다.
  - ㄴ. 을국에서 스마트폰의 공급 증가는 노트북 컴퓨터의 가격을 하락시킬 것이다.
  - ㄷ. 을국에서 스마트폰과 노트북 컴퓨터의 관계는 '바늘 가는 데 실 간다.'라는 속담으로 설명할 수 있다.
  - ㄹ. 스마트폰 생산 기술의 발달은 갑국과 을국 모두에서 노트북 컴퓨터 시장의 사회적 잉여를 증가시킬 것이다.

- ① ㄱ, ㄴ    ② ㄱ, ㄷ    ③ ㄴ, ㄷ    ④ ㄴ, ㄹ    ⑤ ㄷ, ㄹ

4. 그림은 경제 기사에 대한 갑과 을의 대화이다. 이에 대한 설명으로 가장 적절한 것은?



- ① 갑과 같은 생각은 대공황을 계기로 확산되었다.
- ② 갑은 시장 원리에 의한 문제 해결을 중시하고 있다.
- ③ 을은 기업의 경제적 역할을 간과하고 있다.
- ④ 갑이 을보다 큰 정부를 더 선호할 것이다.
- ⑤ 을이 갑보다 신자유주의를 더 지지할 것이다.

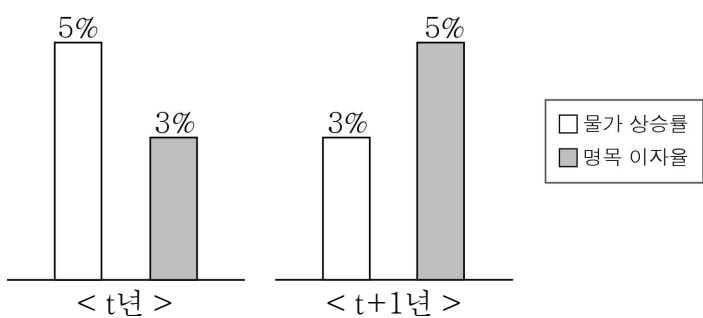
5. 다음 사례의 A 세금, B 세금에 대한 설명으로 옳은 것은?

○ 갑의 근로 소득은 지난해에 비해 크게 증가하였다. 이에 따라 지난해에는 A 세금으로 과세 대상 소득의 14%를 납부하였으나, 올해에는 과세 대상 소득의 19%를 납부하게 되었다.

○ 을 기업은 ○○재의 공급 가격을 1,000원에서 1,100원으로 인상했다. 이에 따라 가격 인상 전에는 ○○재 1개당 100원 부과되던 B 세금이, 가격 인상 후에는 110원 부과되고 있다.

- ① A 세금은 과세 대상 금액과 관계없이 동일한 세율이 적용된다.
- ② B 세금은 납세자와 담세자가 일치한다.
- ③ A 세금은 B 세금에 비해 소득 재분배 효과가 더 크다.
- ④ A 세금은 B 세금과 달리 조세 부담의 역진성이 나타난다.
- ⑤ B 세금은 A 세금에 비해 조세 저항이 더 크다.

6. 그림에 대한 옳은 분석을 <보기>에서 고른 것은? [3점]

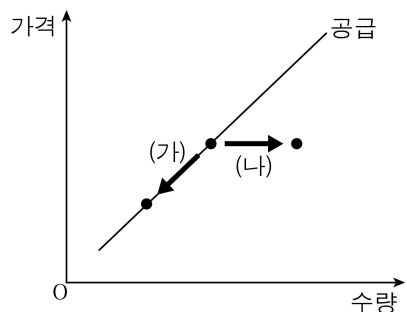


< 보 기 >

ㄱ. t년에 예금한다면 원리금이 원금보다 작아진다.  
 ㄴ. t년이 t+1년보다 실질 이자율이 낮다.  
 ㄷ. t년이 t+1년보다 예금하려는 유인이 크다.  
 ㄹ. t년과 t+1년 모두 예금이 현금 보유보다 유리하다.

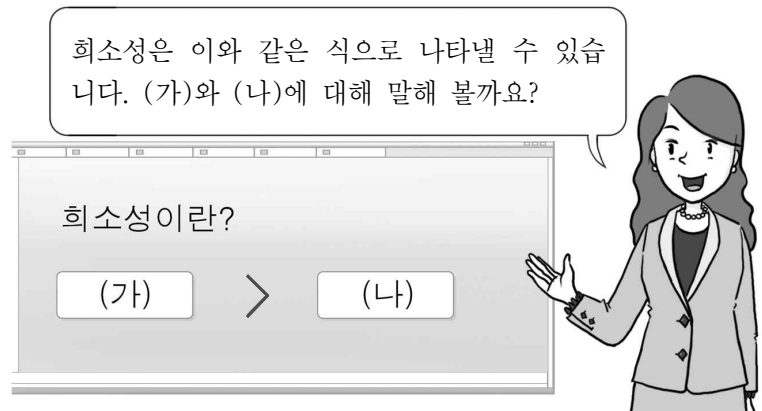
- ① ㄱ, ㄴ    ② ㄱ, ㄷ    ③ ㄴ, ㄷ    ④ ㄴ, ㄹ    ⑤ ㄷ, ㄹ

7. 그림의 (가), (나)는 X재 시장의 균형점 변화를 나타낸다. 이에 대한 설명으로 옳은 것은? (단, X재는 수요 법칙을 따른다.)



- ① (가)는 수요가 감소할 때 나타난다.
- ② (가)의 요인으로는 소득 수준의 향상을 들 수 있다.
- ③ (나)는 공급의 변화 없이도 나타날 수 있다.
- ④ (나)의 요인으로는 원자재 가격의 상승을 들 수 있다.
- ⑤ (가), (나)는 모두 판매 수입의 감소를 초래한다.

8. 그림을 보고 옳게 발표한 학생을 <보기>에서 고른 것은?

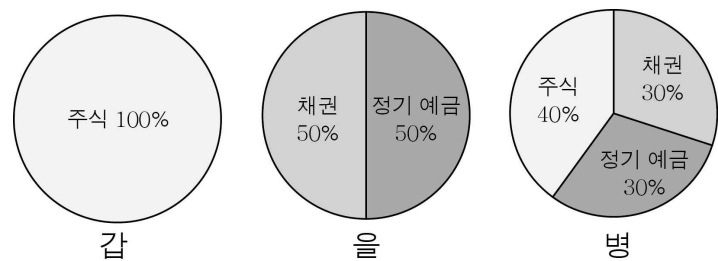


< 보 기 >

갑: 동일한 재화라도 (가)의 크기는 시·공간에 따라 달라질 수 있습니다.  
 을: 재화가 희귀할수록 (나)는 커집니다.  
 병: 경제재는 그림과 같이 (가)가 (나)보다 큼니다.  
 정: (가)에는 편익이, (나)에는 비용이 들어갑니다.

- ① 갑, 을    ② 갑, 병    ③ 을, 병    ④ 을, 정    ⑤ 병, 정

9. 그림은 갑~병의 금융 상품별 투자 비중을 나타낸다. 이에 대한 분석으로 옳지 않은 것은? [3점]



- ① 갑은 배당금을 받을 수 있는 상품에 투자하였다.
- ② 을이 투자한 상품은 모두 이자 수입을 기대할 수 있다.
- ③ 병의 투자 상품에는 시세 차익을 기대할 수 있는 것이 있다.
- ④ 갑은 을보다 수익성이 높은 상품을 선호한다.
- ⑤ 병은 을보다 안전성이 높은 상품을 선호한다.

10. 자료의 정책 (가), (나)에 대한 설명으로 옳은 것은? [3점]


X재의 수요·공급표는 아래와 같으며, 갑국 정부는 X재 시장에 정책 (가) 또는 정책 (나)의 도입을 고려하고 있다.

가격(원)	80	90	100	110	120
수요량(개)	120	110	100	90	80
공급량(개)	80	90	100	110	120

(가) 80원의 가격 상한선을 설정한다.  
 (나) 1개 구입할 때마다 소비자에게 20원의 보조금을 지급한다.

- ① (가)는 판매액을 증가시킨다.
- ② (나)는 생산자 잉여를 감소시킨다.
- ③ (가)는 (나)와 달리 생산자를 위한 정책이다.
- ④ (나)는 (가)와 달리 시장 거래량을 증가시킨다.
- ⑤ (가), (나)는 모두 시장 거래 가격을 상승시킨다.

11. 그림은 X재만을 생산하여 A~D국에 수출하는 기업의 회의 장면이다. 빈 칸 (가)에 들어갈 내용으로 옳은 것은? [3점]



구분	매출액 비중 (현재)	매출액 변화율 (예상)
A국	20%	-10%
B국	40%	5%
C국	10%	10%
D국	30%	0%

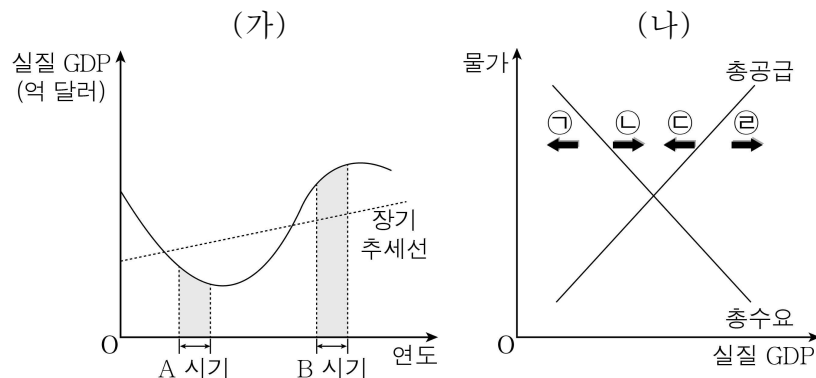
- ① A국의 수요가 가격에 대해 가장 탄력적입니다.
- ② B국이 차지하는 매출액 비중은 감소할 것입니다.
- ③ C국의 수요는 가격에 대해 단위 탄력적입니다.
- ④ D국에서의 판매량은 변화가 없을 것입니다.
- ⑤ 전체 매출액에는 변화가 없을 것입니다.

12. 표는 인플레이션의 유형 A, B를 정리한 것이다. 이에 대한 설명으로 옳은 것은?

유형	원인	특징
A	총수요의 (㉠)	실질 GDP의 (㉡)을/를 동반함
B	총공급의 (㉢)	실질 GDP의 (㉣)을/를 동반함

- ① ㉠은 증가, ㉡은 증가이다.
- ② ㉢은 감소, ㉣은 증가이다.
- ③ 정부 지출 확대는 A에 대한 대책이다.
- ④ 소비의 급격한 증가는 B의 원인이다.
- ⑤ B는 A와 달리 경기 호황기에 나타난다.

13. 그림 (가)는 갑국의 경기 변동 상황을, (나)는 총수요와 총공급의 변동 방향을 나타낸다. A, B 시기의 경기를 안정시키기 위한 재정 정책의 영향을 (나)에서 옳게 고른 것은?



- |   |      |      |   |      |      |
|---|------|------|---|------|------|
|   | A 시기 | B 시기 |   | A 시기 | B 시기 |
| ① | ㉠    | ㉡    | ② | ㉠    | ㉣    |
| ③ | ㉢    | ㉠    | ④ | ㉢    | ㉡    |
| ⑤ | ㉣    | ㉣    |   |      |      |

14. 그림은 갑국의 경제 뉴스이다. 밑줄 친 ㉠, ㉡에 대한 설명으로 옳은 것은?

중앙은행은 현재의 경기 과열 상황을 진정시키기 위해 강도 높은 ㉠ 긴축 통화 정책을 실시하기로 결정하고 이를 위해 ㉡ 모든 통화 정책 수단을 동원하겠다고 발표하였습니다.



- ① ㉠은 시중 금리를 하락시킬 것이다.
- ② ㉠은 통화량을 증가시키려는 것이다.
- ③ ㉠은 적자 재정 정책과 함께 시행되면 더욱 효과적이다.
- ④ ㉡에는 국·공채 매입이 포함된다.
- ⑤ ㉡에는 지급 준비율 인상이 포함된다.

15. 그림은 가격 결정 원리를 이해하기 위한 협상 게임에서 갑~정에게 주어진 카드이다. 이에 대한 설명으로 옳은 것은? [3점]

<p>&lt;갑의 카드&gt;</p> <div style="border: 1px solid black; padding: 5px;">당신은 가능한 높은 가격으로 빵 1개를 팔려고 한다. 단, 빵 1개를 2천 원 이하로 팔 수는 없다.</div>	<p>&lt;을의 카드&gt;</p> <div style="border: 1px solid black; padding: 5px;">당신은 가능한 높은 가격으로 빵 1개를 팔려고 한다. 단, 빵 1개를 5천 원 이하로 팔 수는 없다.</div>
<p>&lt;병의 카드&gt;</p> <div style="border: 1px solid black; padding: 5px;">당신은 가능한 낮은 가격으로 빵 1개를 사려고 한다. 단, 빵 1개에 1천 원 이상 지출할 수는 없다.</div>	<p>&lt;정의 카드&gt;</p> <div style="border: 1px solid black; padding: 5px;">당신은 가능한 낮은 가격으로 빵 1개를 사려고 한다. 단, 빵 1개에 4천 원 이상 지출할 수는 없다.</div>

- ① 갑과 을은 수요자, 병과 정은 공급자가 된다.
- ② 갑과 병 간에 거래가 이루어질 수 있다.
- ③ 갑~정 간의 거래량은 2개일 것이다.
- ④ 협상 가격이 3,000원이라면 갑과 정은 거래에 참여한다.
- ⑤ 협상 가격이 4,000원이라면 을은 병과 달리 거래에 참여한다.

16. 다음 자료를 통해 파악할 수 있는 내용만을 <보기>에서 있는 대로 고른 것은? [3점]

X재와 Y재만을 생산하는 갑국과 을국은 각각 비교 우위 상품을 특화하여 X재 10개와 Y재 15개를 교환하였다. 오른쪽 표는 갑국의 무역 전후의 상황을 나타낸다. 단, X재와 Y재의 생산 가능 곡선은 직선이다.

무역 전 생산량	무역 후 소비량
X재 18개 Y재 12개	X재 20개 Y재 15개

< 보 기 >

ㄱ. 갑국의 비교 우위 상품  
 ㄴ. 갑국과 을국 간의 교역 조건  
 ㄷ. 무역 전 갑국의 X재로 나타낸 Y재 1개 생산의 기회비용  
 ㄹ. 무역 전 을국의 Y재로 나타낸 X재 1개 생산의 기회비용

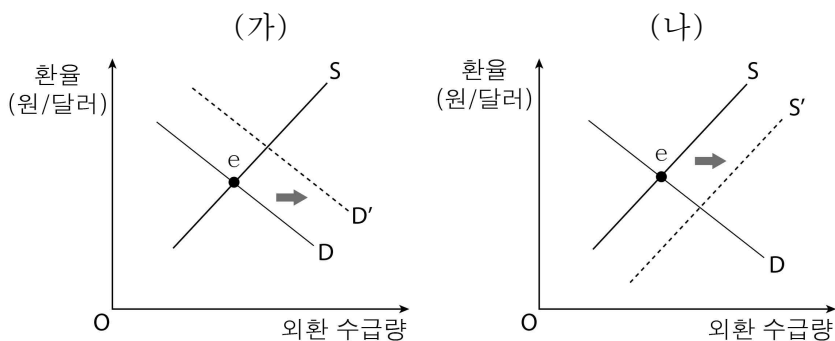
- ① ㄱ, ㄷ                      ② ㄱ, ㄹ                      ③ ㄴ, ㄹ  
 ④ ㄱ, ㄴ, ㄷ                ⑤ ㄴ, ㄷ, ㄹ

17. 국제 거래 (가), (나)에 대한 설명으로 옳은 것은?

(가) 우리나라 기업인 ○○ 항공이 미국 보험 회사가 판매하는 항공 사고 관련 보험에 가입하였다.  
 (나) 우리나라의 신용 등급이 크게 올라가자 외국 투자자들이 국내 주식 시장에서 대규모로 주식을 매입하였다.

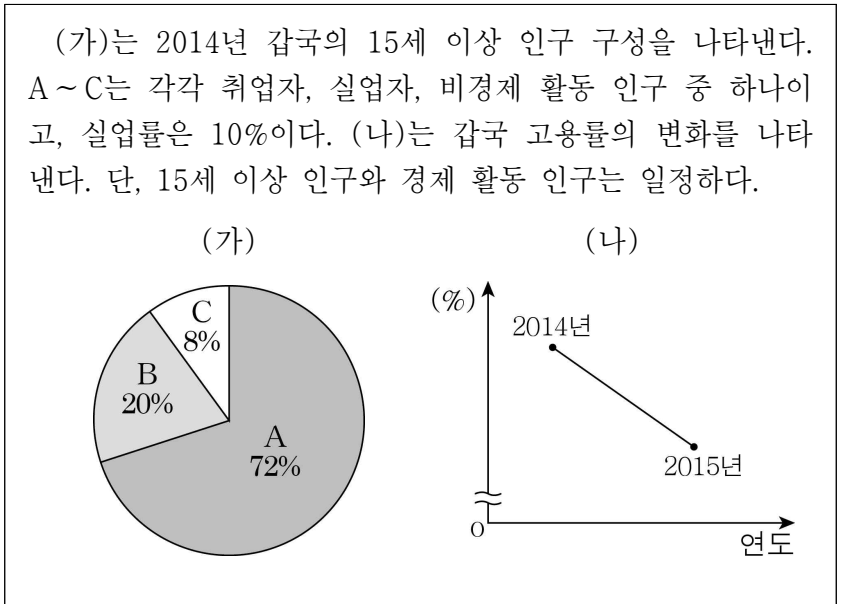
- ① (가)는 우리나라의 서비스 수지를 개선시킨다.  
 ② (나)의 거래 금액은 금융 계정에 반영된다.  
 ③ (가)는 (나)와 달리 국내로 외화를 유입시키는 요인이다.  
 ④ (나)는 (가)와 달리 국내 통화량을 감소시키는 요인이다.  
 ⑤ (가), (나)는 모두 우리나라의 외환 보유고를 증가시킨다.

18. 그림 (가), (나)는 우리나라 외환 시장의 변화를 나타낸다. 이에 대한 설명으로 옳은 것은?



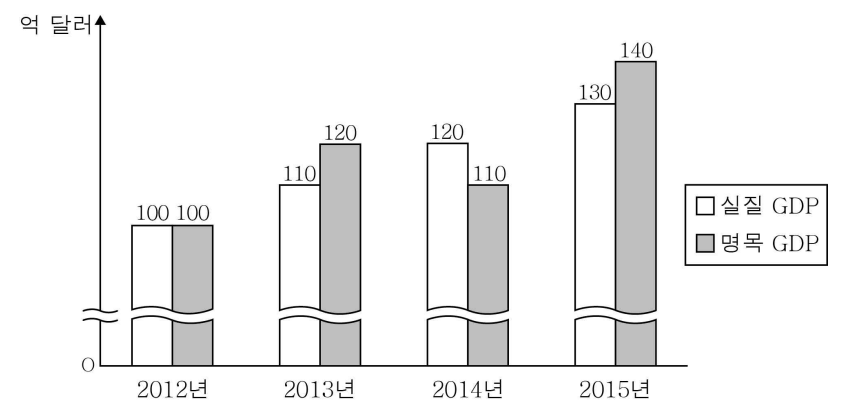
- ① 미국으로의 수출 증가는 (가)의 요인이다.  
 ② 미국인의 국내 채권 매입 증가는 (나)의 요인이다.  
 ③ (가)는 (나)와 달리 달러화 대비 원화의 가치를 상승시킨다.  
 ④ (나)는 (가)와 달리 미국에서 수입하는 상품의 원화 표시 가격을 상승시킨다.  
 ⑤ (가), (나)는 모두 대미 수출품의 가격 경쟁력을 강화시킨다.

19. 다음 자료에 대한 설명으로 옳지 않은 것은? [3점]



- ① A는 취업자이다.  
 ② 전업 주부와 취업 준비생은 B에 포함된다.  
 ③ 2014년의 경제 활동 참가율은 80%이다.  
 ④ 전년 대비 2015년의 실업률은 하락하였다.  
 ⑤ 전년 대비 2015년의 취업자 수는 감소하였다.

20. 그림은 갑국의 실질 GDP와 명목 GDP 변화를 나타낸다. 이에 대한 분석으로 옳은 것은? (단, 물가 수준은 GDP 디플레이터로 측정한다.) [3점]



- ① 물가 수준은 2012년이 가장 낮다.  
 ② 물가 수준은 2013년이 2014년보다 낮다.  
 ③ 물가 상승률은 2014년이 2015년보다 높다.  
 ④ 경제 규모는 2012년이 2013년보다 크다.  
 ⑤ 경제 성장률은 2013년이 2014년보다 높다.

※ 확인 사항  
 ○ 답안지의 해당란에 필요한 내용을 정확히 기입(표기)했는지 확인하십시오.