

제 4 교시

사회탐구 영역(사회·문화)

성명

수험번호 3

1. 밑줄 친 ㉠~㉣과 같은 현상의 일반적인 특징에 대한 설명으로 옳은 것은?

유명 선수들이 착용하여 수많은 세계 신기록 수립에 기여했던 전신 수영복은 작은 돌기로 덮여 있다. 이는 ㉠상어 지느러미에 있는 작은 돌기가 물의 저항을 줄여 상어가 물속에서 시속 60 km로 빠르게 헤엄칠 수 있다는 사실에 착안하여 만든 것이다. ㉡작은 돌기가 있는 전신 수영복을 착용한 수영 선수들은 100 m에 0.2초 정도 기록을 단축할 수 있다고 한다. 하지만 인간의 개인적 능력보다는 ㉢첨단 기술에 의한 기록 단축이라는 비판을 받아 국제 수영 연맹은 몇 년 전부터 착용을 금지하였다.




- ① ㉠과 같은 현상은 보편성보다 특수성이 강조된다.
- ② ㉡과 같은 현상은 인간의 가치와 무관하게 나타난다.
- ③ ㉢과 같은 현상은 존재 법칙의 지배를 받는다.
- ④ ㉠과 같은 현상은 ㉢과 같은 현상에 비해 인과 관계가 명확하다.
- ⑤ ㉠, ㉡과 같은 현상은 ㉢과 같은 현상과 달리 확률의 원리가 적용된다.

2. 다음 글에 나타난 사회·문화 현상을 바라보는 관점에 대한 설명으로 옳은 것은?

점심시간이 막 끝난 오후 첫 수업. 몇 명의 학생이 꾸벅꾸벅 졸고 있다. 이 경우 어떤 교사는 화를 내기도 하지만, 어떤 교사는 그냥 넘어가기도 한다. 화를 낸 교사는 그 반의 수업 태도가 불량하다고 판단했기 때문이며, 그렇지 않은 교사는 점심 식사 후의 노곤함에도 불구하고 단지 몇 명의 학생만 졸고 있어서 그 반의 수업 태도가 좋다고 느꼈기 때문이다. 이처럼 일상적으로 일어나는 행위의 대부분은 상대방의 행위에 대한 자신의 주관적 인식에 따른 반응인 것이다. 따라서 사회·문화 현상을 바라볼 때에는 일상생활에서 일어나는 사람들 간의 상호 작용에 초점을 두어야 한다.

- ① 사회의 안정과 통합을 중시한다.
- ② 사회를 거시적인 관점에서 이해한다.
- ③ 사회 구조나 제도의 영향을 중시한다.
- ④ 인간 행위의 자율성과 능동성을 강조한다.
- ⑤ 사회 구성원 간의 관계를 대립적으로 이해한다.

3. 다음은 어느 가족 구성원들의 최근 상황이다. 이에 대한 설명으로 옳은 것은? [3점]

	○○기업에서 20년 동안 근무하고 있으며, 지난해의 영업 실적을 높게 평가받아 부장에서 임원으로 승진하였다.
	요즘 남편인 갑이 직장 및 낚시 동호회에만 관심을 갖고 아들 교육에는 전혀 관심이 없는 것 같아 자주 다투고 있다.
	고등학교 학생회장 및 △△동아리 회장을 맡고 있는데, 학생회 회의와 동아리 회의가 겹치는 경우가 많아 어느 회의에 참석해야 할지 고민하고 있다.

- ① 갑은 역할 행동에 대한 보상을 받았다.
- ② 을은 공식적 사회화 기관에 속해 있다.
- ③ 병은 귀속 지위만 가지고 있다.
- ④ 병과 달리 을은 역할 갈등을 겪고 있다.
- ⑤ 갑~병은 모두 자발적 결사체에 속해 있다.

4. 사회 불평등 현상을 바라보는 을의 관점에 부합하는 진술을 <보기>에서 고른 것은? [3점]

갑: 얼마 전 미국 신문에 높은 연봉을 받는 이색 직업 순위가 발표되었는데, 10위 이내에 장례 메이크업 전문가, 악취 감식가 등이 있었고, 1위는 화이트 해커였다. 화이트 해커는 기업이나 정부 기관의 보안 시스템에 대한 해커의 공격을 막거나 퇴치하는 일을 하는 직업인데, 연봉이 2014년의 경우 최소 1억 5천만 원 이상이었다.  
 을: 그런 직업도 있었어? 그 직업들에 대해 잘 모르지만, 그 직업들은 사회적으로 기여하는 바가 크고 중요한 역할을 수행하고 있을 거야. 그렇기 때문에 그만큼 연봉을 받고 있다고 생각해.

— < 보 기 > —

ㄱ. 균등 보상 체계는 사회 발전에 기여한다.  
 ㄴ. 사회적 희소가치의 분배 기준은 사회적으로 합의된 것이다.  
 ㄷ. 사회 불평등 현상은 보편적이지만 필수 불가결하지는 않다.  
 ㄹ. 사회 불평등 현상은 인재를 적재적소에 배치하는 데 기여한다.

- ① ㄱ, ㄴ    ② ㄱ, ㄷ    ③ ㄴ, ㄷ    ④ ㄴ, ㄹ    ⑤ ㄷ, ㄹ

5. 표는 사회·문화 현상을 연구하는 방법 A, B를 비교한 것이다. 이에 대한 설명으로 옳은 것은? [3점]

구분	A	B
연구 목적	사회·문화 현상에 내재한 법칙 발견	사회·문화 현상에 대한 심층적 이해
주로 활용되는 자료 수집 방법	질문지법, 실험법	㉠
한계	㉡	연구자의 주관적 가치 개입 가능성이 큼

- ① A는 사회·문화 현상이 자연 현상과 본질적으로 다르다고 전제한다.
- ② B는 가설을 검증하여 결론을 도출하는 경우가 일반적이다.
- ③ 일기나 편지와 같은 비공식적 자료는 A보다 B에서 중시된다.
- ④ ㉠에 들어갈 수 있는 자료 수집 방법은 계량화된 자료를 수집하는 데 적합하다.
- ⑤ ‘객관적이고 정확한 연구의 어려움’은 ㉡에 들어갈 수 있다.

6. 빈칸 ㉠에 들어갈 수 있는 옳은 내용을 <보기>에서 고른 것은?

최근 독신 가구의 증가와 같이 가족 형성을 유보하거나, 무자녀 혹은 한 자녀 가정과 같이 가족의 규모를 최소화하려는 현상이 확산되고 있다. ㉠은/는 이러한 현상의 공통적인 원인으로 지목되고 있다.

< 보 기 >  
 가. 남아 선호 사상 확산    나. 자녀 양육 부담 증가  
 다. 개인주의적 가치관 확산    르. 가족 이기주의의 보편화

- ① 가, 나    ② 가, 다    ③ 나, 르    ④ 나, 르    ⑤ 다, 르

7. 다음 글의 필자가 지닌 개인과 사회의 관계를 바라보는 관점에 부합하는 진술로 가장 적절한 것은?

우리나라는 1997년의 IMF 외환 위기를 겪으면서 수많은 근로자가 실업자로 전락한 경험을 하였다. 또 어느 국가에서는 전쟁이 발발하여 시민이 군인이 되기도 하였다. 역사적으로는 시민 혁명과 산업 혁명을 거치면서 이전 사회의 귀족이 자본가가 되거나 완전히 몰락하기도 하였다. 이처럼 개인의 삶은 그의 의지가 아닌 사회 구조에 의해 결정된다. 따라서 개인의 삶을 올바르게 이해하기 위해서는 개인이 아닌 사회 구조의 힘을 이해해야 한다.

- ① 사회는 이름만 존재할 뿐 실체가 없다.
- ② 사회의 이익보다 개인의 이익이 우선한다.
- ③ 사회 현상은 개인의 자율적 의지에 의해 형성된다.
- ④ 사회는 개인들 간의 계약에 의한 합의로 만들어진다.
- ⑤ 사회 문제의 해결을 위해서는 의식 개혁보다 제도 개선이 중요하다.

8. 일탈 이론 (가), (나)에 대한 설명으로 옳은 것은? [3점]

(가) 일탈자와의 접촉이 빈번한 사람은 그들로부터 일탈 행동을 수행하는 방식과 일탈 행동을 정당화할 수 있는 가치 등을 학습하게 된다. 이러한 과정을 통해 일탈 행동이 발생한다.  
 (나) 일탈이란 그 행위 자체가 가지는 본질적인 특성에 따라 규정되는 것이 아니다. 즉 어떤 사람의 행위 자체가 반도덕적인 행위가 아님에도 불구하고 사회가 일탈 행동으로 규정하면 일탈 행동이 될 수 있는 것이다.

- ① (가)는 목표와 수단 간의 괴리를 일탈 행동의 원인으로 파악한다.
- ② (가)는 정상적인 사회 집단과의 교류 확대를 일탈 행동에 대한 대책 중 하나로 본다.
- ③ (나)는 일탈을 규정하는 객관적인 규범이 존재한다고 본다.
- ④ (나)는 사회 통제 강화를 일탈 행동에 대한 대책으로 강조한다.
- ⑤ (가)와 달리 (나)는 일탈 행동이 타인과의 상호 작용을 통해 학습된다고 본다.

9. 다음은 어느 고등학교에서 발송한 가정 통신문의 일부이다. 이에 대해 옳게 이해한 학생을 <보기>에서 고른 것은? [3점]

2015 - 134호  
○○고등학교

### 가정 통신문

**교육 급여 수급자 선정 기준이 변경되었습니다.**

새 기초 생활 보장 제도의 시행으로 교육 급여 수급자 선정 기준이 최저 생계비에서 중위 소득 50%로 변경되었습니다.

1. 가구원 수에 따른 교육 급여 지급 기준액이 모든 가구에서 이전보다 상향 조정되었습니다. (예를 들어 4인 가구의 경우 기준액이 2015년 최저 생계비인 167만 원에서 2015년 중위 소득 50%인 211만 원으로 높아졌습니다.)

< 새로운 교육 급여 수급자 선정 기준 (중위 소득 50%) >

가구원 수	1인	2인	3인	4인	5인
월 소득 인정액	78만 원	133만 원	172만 원	211만 원	250만 원

\* 중위 소득: 전체 가구를 소득 순으로 나열했을 때 한가운데 위치한 가구의 소득

2. 가구의 소득이 낮아도 같이 살지 않는 할아버지, 할머니 등 부양 의무자의 소득이 충분하면 급여를 받지 못했지만, 이제는 부양 의무자의 소득과 상관없이 가구의 소득이 낮으면 급여를 받으실 수 있습니다.

< 보 기 >  
 갑: 상대적 빈곤 개념을 복지 제도에 도입하였군.  
 을: 교육 급여 제도는 상호 부조 원칙을 적용하고 있어.  
 병: 변경 전보다 더 많은 사람들이 혜택을 받을 수 있도록 하였군.  
 정: 수혜자 부담 원칙이 적용되는 복지 제도에 대해 안내하고 있어.

- ① 갑, 을    ② 갑, 병    ③ 을, 병    ④ 을, 정    ⑤ 병, 정

# [사회 · 문화] 사회탐구 영역

3

10. 자녀 세대 계층 A ~ C에 대한 옳은 설명을 <보기>에서 고른 것은? (단, A ~ C는 각각 상층, 중층, 하층 중 하나이다.) [3점]

A에는 세대 간 상승 이동한 사람의 비율이 80%이고, 세대 간 하강 이동한 사람은 없다. B에는 세대 간 상승 이동한 사람은 없고, 세대 간 하강 이동한 사람의 비율이 30%이다. C에는 세대 간 상승 이동한 사람의 비율이 60%이고, 세대 간 하강 이동한 사람의 비율이 10%이다. 단, 자녀 세대는 피라미드형 계층 구조이다.

< 보 기 >  
 ㄱ. A에서 계층을 세습한 사람의 비율은 20%이다.  
 ㄴ. 계층을 세습한 사람은 B에서 가장 많다.  
 ㄷ. 신분제 사회에서는 C의 비율이 가장 높다.  
 ㄹ. C보다 B의 비율이 높을수록 사회 통합에 유리하다.

- ① ㄱ, ㄴ    ② ㄱ, ㄷ    ③ ㄴ, ㄷ    ④ ㄴ, ㄹ    ⑤ ㄷ, ㄹ

11. 다음 글에 나타난 대중 매체의 역기능으로 가장 적절한 것은?

많은 드라마에서 여성이 결단력, 집념, 추진력 등의 특성을 보이면 바람직하지 않은 여성, 즉 '고집이 센 여자', '가정에 소홀한 여자'로 묘사된다. 반면 이런 특성을 가진 남성은 긍정적으로 묘사된다. 게다가 수동적이고 의존적인 여성은 남성 주인공이나 주위 인물에게 사랑받는 존재로 묘사된다. 이는 사람들로 하여금 여성에 대한 잘못된 인식을 갖게 하는 주요 원인이 되고 있다.

- ① 대중의 정치적 무관심을 초래한다.  
 ② 상업주의로 인해 선정적 문화를 확산시킨다.  
 ③ 개인에 의한 문화 창조의 가능성을 약화시킨다.  
 ④ 정보의 대량 유통으로 개인의 사생활을 침해한다.  
 ⑤ 왜곡된 정보의 제공으로 대중에게 편견을 갖게 한다.

12. 문화 이해의 태도 A ~ C에 대한 설명으로 옳은 것은? (단, A ~ C는 각각 문화 상대주의, 자문화 중심주의, 문화 사대주의 중 하나이다.)



- ① A는 다른 문화의 수용에 적극적이다.  
 ② B는 사회 구성원들의 결속력을 강화시킨다.  
 ③ C는 타문화와 문화적 마찰을 일으킬 가능성이 높다.  
 ④ C와 달리 B는 문화적 다양성 증진에 기여한다.  
 ⑤ A는 B, C와 달리 문화 제국주의로 변질될 가능성이 높다.

13. 다음 연구 사례에 대한 옳은 분석을 <보기>에서 고른 것은? [3점]

○ 연구 주제: 우리나라 어머니의 정서 표현과 자녀의 사회성 간의 관계  
 ○ 연구 가설: 어머니의 긍정적인 정서 표현이 많을수록 자녀의 사회성이 높을 것이다.  
 ○ 조사 대상: ○○시에 사는 어머니 500명과 자녀 850명  
 ○ 자료 수집 방법: 질문지법

< 보 기 >  
 ㄱ. '자녀의 사회성'은 독립 변수에 해당한다.  
 ㄴ. 변수 간의 관계가 명확한 가설이 설정되었다.  
 ㄷ. 표본이 모집단의 특성을 대표하지 못하고 있다.  
 ㄹ. 조사 대상자와의 정서적 교감이 중시되는 자료 수집 방법을 채택하였다.

- ① ㄱ, ㄴ    ② ㄱ, ㄷ    ③ ㄴ, ㄷ    ④ ㄴ, ㄹ    ⑤ ㄷ, ㄹ

14. 밑줄 친 ㉠~㉣ 중 옳지 않은 것은?

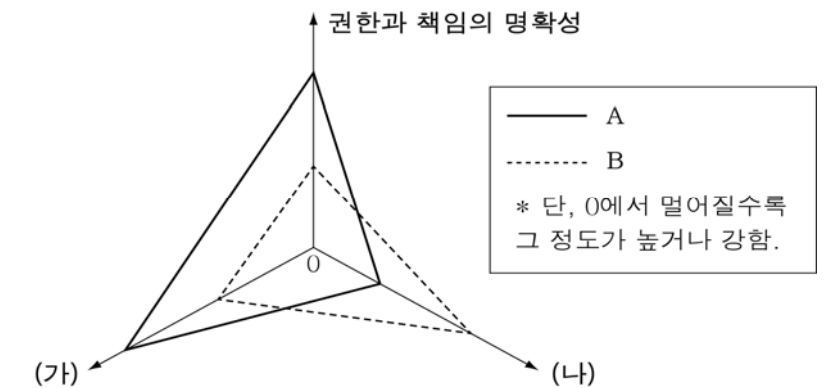
[서술형 문항] 사회 변동의 방향을 바라보는 관점 (가), (나)를 비교하여 설명하시오.

구분	(가)	(나)
사회는 퇴보하기도 합니까?	예	아니요
근대화론의 기반이 되는 관점입니까?	아니요	예

[답] ㉠(가)는 문명의 흥망성쇠를 확인하고 설명하는 데 유용하지만 ㉡ 운명론적 관점이라는 비판을 받는다. 반면 ㉢ 사회 변동을 긍정적으로 인식하는 (나)는 ㉣ 다양한 경로의 사회 발전 양상을 설명하는 데에만 유용하다는 비판을 받고 있다. 그리고 ㉣(나)는 (가)와 달리 서구 중심의 사고를 반영하고 있다는 평가를 받는다.

- ① ㉠    ② ㉡    ③ ㉢    ④ ㉣    ⑤ ㉣

15. 그림에 대한 설명으로 옳은 것은? (단, A, B는 각각 관료제와 탈관료제 중 하나이다.) [3점]



- ① A는 B에 비해 업적에 따른 보상을 더 중시한다.  
 ② A는 B와 달리 정보 사회의 특성을 반영하고 있다.  
 ③ A, B 모두 조직 운영의 효율성을 추구한다.  
 ④ (가)에는 '조직 운영의 유연성'이 들어갈 수 있다.  
 ⑤ (나)에는 '업무의 표준화'가 들어갈 수 있다.

16. 기사에 대한 옳은 분석을 <보기>에서 고른 것은?

○○ 신문 2016년 ○월 ○일

갑국 사람들이 을국 드라마에 열광하는 것은 단지 스토리가 흥미롭기 때문만이 아니라 을국 드라마 속 등장인물들의 패션과 스타일에 매료되었기 때문이다. 특히 을국 드라마에 등장하는 직장 여성들의 패션과 스타일은 갑국의 젊은 직장 여성들 사이에서 공유되고 있는 문화에 새로운 변화를 가져왔다. 을국 드라마에 나왔던 여자 주인공의 패션과 스타일은 다음 날이면 갑국 거리에서 쉽게 찾아 볼 수 있다.

- < 보 기 >
- ㄱ. 간접 전파에 의한 문화 변동 사례가 나타나 있다.
  - ㄴ. 을국 드라마는 갑국의 하위문화에 영향을 미쳤다.
  - ㄷ. 을국 드라마에 의해 갑국에서 문화 융합 현상이 나타났다.
  - ㄹ. 문화 수용자의 의사와 관계없이 문화 변동이 발생하였다.

- ① ㄱ, ㄴ    ② ㄱ, ㄷ    ③ ㄴ, ㄷ    ④ ㄴ, ㄹ    ⑤ ㄷ, ㄹ

17. 문화의 의미와 관련하여 밑줄 친 ㉠, ㉡에 대한 설명으로 옳은 것은?

○○군의 지역 축제가 △△도의 대표 축제로 선정되었다. △△도는 ○○군의 지역 축제가 춤꾼, 노래꾼과 같은 ㉠ 문화·예술인들의 일자리 창출에 기여한 점을 높게 평가했다고 밝혔다. 또한 ○○군의 지역 ㉡ 문화를 전국에 알려 ○○군뿐만 아니라 △△도의 이미지 역시 한 단계 높인 점도 선정 이유 중 하나라고 밝혔다.

- ① ㉠은 생활 양식의 총체를 의미한다.
- ② ㉠은 인간이 후천적으로 학습한 모든 것을 의미한다.
- ③ ㉡은 문명과 동일한 의미이다.
- ④ ㉡은 평가적 의미를 내포하고 있다.
- ⑤ ㉡은 '노인 문화'의 '문화'와 동일한 의미이다.

18. 사회 불평등 현상을 설명하는 이론 (가), (나)에 대한 설명으로 옳은 것은? [3점]

(가)와 달리 (나)는 경제적 요인뿐만 아니라 다양한 요인을 기준으로 사회 불평등 현상을 설명한다. 또한 (나)는 사회적 관계를 지배-피지배 관계나 적대 관계로 보지 않으며, 동일 계층에 속하더라도 그 구성원들의 심리적 귀속감이 명료하지 않다고 본다는 점에서 (가)와 구별된다.

- ① (가)는 개인적 능력에 의한 계층 이동이 자유롭다고 본다.
- ② (나)는 계층을 불연속적으로 구분한다.
- ③ 현대 사회의 불평등 현상을 설명하기에는 (나)보다 (가)가 적합하다.
- ④ (가)와 달리 (나)는 경제적 요인에 다른 요인들이 종속된다고 주장한다.
- ⑤ 가난하지만 사회적 명망이 높은 교육자를 설명하는 데에는 (가)보다 (나)가 적합하다.

19. 사회화를 바라보는 갑, 을의 관점에 대한 옳은 설명을 <보기>에서 고른 것은?



- < 보 기 >
- ㄱ. 갑은 사회화 과정에서 개인의 능동성을 강조한다.
  - ㄴ. 갑은 사회화가 기존의 권력 구조를 재생산한다고 본다.
  - ㄷ. 을은 사회화의 내용이 사회적으로 합의되었다고 본다.
  - ㄹ. 갑과 달리 을은 미시적 관점에서 사회화를 바라보고 있다.

- ① ㄱ, ㄴ    ② ㄱ, ㄷ    ③ ㄴ, ㄷ    ④ ㄴ, ㄹ    ⑤ ㄷ, ㄹ

20. 표는 갑국 남녀 근로자의 정규직과 비정규직 비율 변화를 나타낸 것이다. 이에 대한 옳은 분석을 <보기>에서 고른 것은? (단, 남녀 근로자의 수는 2013년 이후 각각 지속적으로 증가하였다.) [3점]

(단위 : %)

성별	2013년		2014년		2015년	
	정규직	비정규직	정규직	비정규직	정규직	비정규직
남자	73.5	26.5	73.4	26.6	73.5	26.5
여자	59.4	40.6	60.1	39.9	59.8	40.2

- < 보 기 >
- ㄱ. 2014년 비정규직 근로자 수는 남자가 여자보다 적다.
  - ㄴ. 2015년 전체 근로자 중 정규직 비율은 59.8%를 넘는다.
  - ㄷ. 2013년과 2015년의 남자 비정규직 근로자 수는 같다.
  - ㄹ. 2013년~2015년 여자 근로자의 과반수는 정규직이다.

- ① ㄱ, ㄴ    ② ㄱ, ㄷ    ③ ㄴ, ㄷ    ④ ㄴ, ㄹ    ⑤ ㄷ, ㄹ

※ 확인 사항  
○ 답안지의 해당란에 필요한 내용을 정확히 기입(표기)했는지 확인하십시오.