

제 4 교시 사회탐구 영역 [법과 정치]

성명		수험 번호					2		
----	--	-------	--	--	--	--	---	--	--

1. 다음 글에 나타난 정치를 바라보는 관점에 부합하는 진술을 <보기>에서 고른 것은?

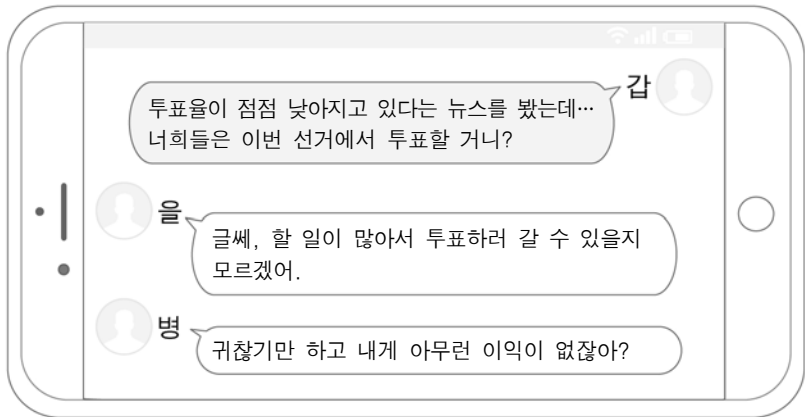
오늘날에는 사회적 희소가치를 둘러싼 갈등을 원만하게 조정하고 해결하려는 정치 행위가 통치 기구, 가족, 학교, 지역 사회 등 다양한 집단에서 이루어지고 있다. 즉, 이해관계의 조정이나 정치적 의사 결정은 국가뿐만 아니라 국가 이외의 다양한 집단에서도 나타나는 현상으로 볼 수 있다.

<보 기>

ㄱ. 권력 관계는 모든 집단에서 나타난다.
 ㄴ. 국가가 형성되기 이전에도 정치 현상은 존재한다.
 ㄷ. 정치는 정권을 획득·유지하려는 활동에 국한된다.
 ㄹ. 국가와 다른 사회 집단의 속성은 본질적으로 다르다.

- ① ㄱ, ㄴ ② ㄱ, ㄷ ③ ㄴ, ㄷ ④ ㄴ, ㄹ ⑤ ㄷ, ㄹ

2. 다음 대화에 나타난 문제를 개선하기 위한 방안으로 적절하지 않은 것은?



- ① 투표 시간의 연장
 ② 선출된 대표자들의 권한 강화
 ③ 투표 참여자에게 물질적 보상 제공
 ④ 사전 투표제 등 투표 참여 방법의 다양화
 ⑤ 유권자의 주인 의식 제고를 위한 캠페인 실시

3. 밑줄 친 ㉠~㉣에 대한 설명으로 옳은 것은? [3점]

○ 국회는 ㉠ ○○○ 대통령에 대한 탄핵 소추안을 통과시켰다.
 ○ 대통령은 △△에 관한 ㉡ 긴급 재정·경제 명령을 발동하였다.
 ○ 대법원은 ㉢ □□법 시행령의 위법 여부를 심사하였다.

- ① ㉠을 위해 국민 투표를 거쳐야 한다.
 ② ㉠이 되면 즉시 대통령직을 상실한다.
 ③ ㉡ 이후 지체 없이 국회의 승인을 얻어야 한다.
 ④ ㉢은 대통령이 행정부 수반으로서 행사하는 권한이다.
 ⑤ ㉢은 사법부가 입법부를 견제하기 위한 수단이다.

4. (가), (나)를 통해 공통적으로 도출할 수 있는 우리나라 헌법의 기본 원리가 반영된 헌법 조항으로 옳은 것은?



- ① 대한민국의 주권은 국민에게 있고, 모든 권력은 국민으로부터 나온다.(제1조 제2항)
 ② 대한민국은 국제 평화의 유지에 노력하고 침략적 전쟁을 부인한다.(제5조 제1항)
 ③ 모든 국민은 직업 선택의 자유를 가진다.(제15조)
 ④ 모든 국민은 인간다운 생활을 할 권리를 가진다.(제34조 제1항)
 ⑤ 법관은 헌법과 법률에 의하여 그 양심에 따라 독립하여 심판한다.(제103조)

5. (가), (나)에서 헌법 재판소 결정의 근거가 된 민주 선거의 원칙으로 옳은 것은? [3점]

(가) 2007년 헌법 재판소는 주민등록을 선거권 행사 요건으로 하는 공직 선거법에 대해 헌법 불합치 결정을 내렸다. 이에 국회는 대한민국 국적을 보유한 재외 국민도 투표권을 행사할 수 있도록 공직 선거법을 개정하였다.
 (나) 2014년 헌법 재판소는 집행 유예자의 선거권을 제한하고 있는 공직 선거법에 대해 헌법 불합치 결정을 내렸다. 집행 유예자는 교정시설에 구금되지 않고 일반인과 동일한 사회생활을 하고 있으므로, 그들의 선거권을 제한해야 할 필요성이 크지 않다는 것을 이유로 들었다.

- | | | | | | |
|---|-------|-------|---|-------|-------|
| | (가) | (나) | | (가) | (나) |
| ① | 보통 선거 | 보통 선거 | ② | 보통 선거 | 평등 선거 |
| ③ | 평등 선거 | 평등 선거 | ④ | 평등 선거 | 보통 선거 |
| ⑤ | 평등 선거 | 직접 선거 | | | |

6. ㉠, ㉡에 해당하는 정치 참여 집단에 대한 설명으로 옳은 것은? (단, ㉠, ㉡은 각각 정당, 시민 단체 중 하나이다.) [3점]

○ ㉠은/는 여론 조사를 반영하여 국회의원 선거 후보자를 공천하였다. 대통령뿐만 아니라 국회의원 후보 경선 과정에서도 일반 국민들의 참여를 확대해 나가는 추세이다.
 ○ ㉡은/는 '지속 가능한 사회'를 만들기 위해 시민의 자발적인 노력이 필요하다는 인식을 바탕으로 설립되었다. 최근에는 탄소 배출 줄이기를 실천하기 위해 '개인 컵 가지고 다니기' 운동을 하고 있다.

- ① ㉠은 자신들의 특수 이익을 실현하고자 한다.
- ② ㉡은 국민에 대해 정치적 책임을 진다.
- ③ ㉠은 ㉡과 달리 정부에 대한 감시와 비판의 기능을 수행한다.
- ④ ㉡은 ㉠과 달리 정치적 충원 기능을 수행한다.
- ⑤ ㉠, ㉡은 모두 정치 사회화 기능을 수행한다.

7. 표는 전형적인 정부 형태 A, B를 분류한 것이다. 이에 대한 옳은 설명을 <보기>에서 고른 것은? [3점]

	정부 형태	A	B
질문			
행정부가 법률안을 제출할 수 있는가?		예	아니요
(가)		아니요	예

— <보 기> —
 가. A는 행정부 수반의 임기가 보장된다.
 나. B는 의회 의원의 각료 겸직이 가능하다.
 다. B는 A와 달리 국가 원수와 행정부 수반이 동일하다.
 리. (가)에는 '행정부 수반이 법률안 거부권을 갖는가?'가 들어갈 수 있다.

- ① 가, 나 ② 가, 다 ③ 나, 다 ④ 나, 리 ⑤ 다, 리

8. 그림은 한 학생이 학습한 내용을 정리한 것이다. ㉠ ~ ㉤ 중 그 내용이 옳지 않은 것은?

◎ 고대 아테네의 민주 정치

1. 특징

- 직접 민주 정치의 실현
 - 배경: 규모가 작고, 인구가 적은 공동체 ㉠
 - 시민에게 민회에 참여할 수 있는 권한 부여 ㉡
 - 민회에서 정치적 의사 결정이 이루어짐 ㉢

2. 한계

- 제한된 민주 정치
 - 시민을 일정 연령 이상의 모든 남성으로 한정 ㉣
- 중우 정치 발생
 - 도편 추방제 등에서 문제점 노출 ㉤

- ① ㉠ ② ㉡ ③ ㉢ ④ ㉣ ⑤ ㉤

9. 다음 자료에 대한 분석으로 옳은 것은? [3점]

○ 갑국은 전형적인 의원 내각제 정부 형태를 채택하고 있다.
 ○ 의회는 지역구 의원 250명과 비례 대표 의원 50명으로 구성된다. 유권자는 지역구 후보자에게 1표, 선호하는 정당에 1표를 각각 행사한다. 지역구 의원은 다수 대표제로 선출되고, 비례 대표 의원은 정당 투표 득표율에 비례하여 각 정당의 의석수를 확정된 후 사전에 작성된 명부에 의해 결정된다.
 ○ 의회 의원 선거 결과는 아래와 같다.

구분	지역구 의원 의석수(석)	비례 대표 정당 득표율(%)
A당	120	40
B당	110	50
C당	20	10
합계	250	100

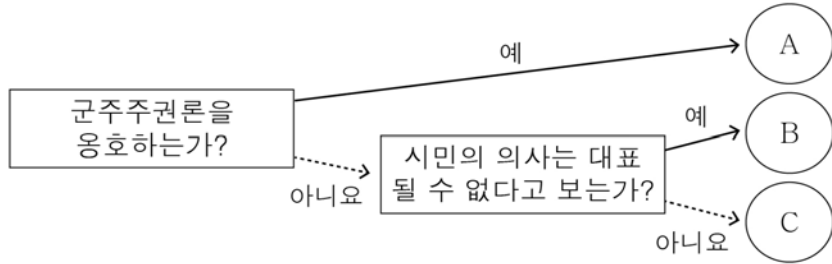
- ① A당은 단독으로 내각을 구성할 수 있다.
- ② C당의 비례 대표 의원 의석수는 5석이다.
- ③ A당과 B당의 총 의석수는 같다.
- ④ 대선거구제를 통해 지역구 의원을 선출한다.
- ⑤ 유권자는 비례 대표 후보자에게 직접 투표할 수 있다.

10. 밑줄 친 운동의 확산이 가져올 효과로 적절하지 않은 것은?

각종 선거에서 후보자들은 '일단 당선되고 보자'라는 생각으로 실천하지 못할 공약을 남발한다. 선진국들은 이 같은 폐해를 막기 위해 일찍부터 매니페스토(Manifesto) 운동을 추진하였고, 이후 점차 확산되어 왔다. 영국에서 시작된 매니페스토는 유권자에 대한 계약으로서의 선거 공약을 뜻한다. 이때 공약의 목표치와 추진 계획, 예산 확보 방안이 구체적이고 측정 가능하게 제시되어야 한다. 매니페스토 운동은 선거 전에 공약의 적절성을 검증하는 것은 물론이고, 당선 후에도 공약이 얼마나 실천되었는지 평가하는 기능도 한다.

- ① 당선자에 대한 통제 기능이 강화될 것이다.
- ② 공약에 대한 당선자의 책임감을 높일 것이다.
- ③ 후보자에게 선거 운동의 기회가 균등하게 부여될 것이다.
- ④ 후보자 상호 간의 정책 대결이 이전보다 활발해질 것이다.
- ⑤ 공약 이행의 검증을 위한 명확한 기준이 제공될 수 있을 것이다.

11. 대표적인 근대 사회계약론자 A ~ C의 주장에 대한 설명으로 옳지 않은 것은?



- ① A는 인간의 본성을 이기적이라고 보았다.
- ② B는 자연권의 일부 양도를 주장하였다.
- ③ C는 자연권 보장을 위해 권력 분립을 주장하였다.
- ④ C는 A와 달리 국가 권력에 대한 시민의 저항권을 인정하였다.
- ⑤ A ~ C는 모두 구성원들의 자발적 동의로 국가가 성립된다고 보았다.

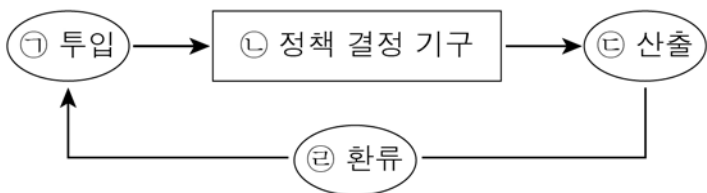
12. 밑줄 친 ㉠, ㉡이 해당되는 기본권에 대한 설명으로 옳은 것은? [3점]

○ 갑의 이웃집 건물주가 상가를 신축하면서 측량을 잘못하여 갑 소유의 토지를 침범하였다. 갑은 ㉠ 침해된 권리에 대해 건물주를 상대로 책임을 묻고자 한다.

○ 을은 타인의 범죄로 인해 남편이 사망하였다. 범인을 잡지 못하고 생계를 유지할 수 없게 된 을은 ㉡ 국가에 범죄 피해자 구조금을 청구하였다.

- ① ㉠은 독일의 바이마르 헌법에서 최초로 명시된 권리이다.
- ② ㉠은 '기본권 보장을 위한 기본권'으로서의 성격을 갖는다.
- ③ ㉡은 헌법에 열거되지 아니한 이유로 경시되어서는 안 될 권리이다.
- ④ ㉡은 ㉠과 달리 국가에 일정한 행위를 요구하는 적극적 권리이다.
- ⑤ ㉠, ㉡은 모두 방어적 권리로서 천부인권적 성격을 지닌다.

13. 그림은 정책 결정 과정을 나타낸 것이다. ㉠ ~ ㉣에 대한 옳은 설명만을 <보기>에서 있는 대로 고른 것은?



<보기>

㉠. 정치적 효능감이 높은 사회일수록 ㉠이 활발하다.

㉡. 의회와 정당은 모두 ㉡에 해당한다.

㉢. 현대 복지 국가의 행정부는 ㉢에서 역할이 강화되고 있다.

㉣. 선거는 ㉢에 해당하지만, ㉠에는 해당하지 않는다.

- ① ㉠, ㉡ ② ㉠, ㉢ ③ ㉡, ㉢
- ④ ㉠, ㉢, ㉣ ⑤ ㉡, ㉢, ㉣

14. 현재 우리나라에서 실시하고 있는 (가)에 대한 옳은 설명을 <보기>에서 고른 것은? [3점]

<(가)의 진행 과정>

투표 청구	<ul style="list-style-type: none"> • 대상: 지방 자치 단체의 장 및 지역구 지방 의회 의원 • 요건: 투표권자 일정 수 또는 일정 비율의 서명
↓	
투표 실시	<ul style="list-style-type: none"> • 절차: 발의 → 해당 지방 공직자의 소명 → 투표
↓	
확정	<ul style="list-style-type: none"> • 요건: 투표권자 일정 수의 찬성 • 효력: 확정 즉시 해당 지방 공직자는 그 직을 상실

<보기>

- ㉠. 하향식 의사 결정 방식을 채택한다.
- ㉡. 투표권자에게 정책 결정권을 부여한다.
- ㉢. 간접 민주 정치의 한계를 보완하는 기능을 한다.
- ㉣. 해당 지방 공직자의 정치적 행위에 대해 책임을 물을 수 있다.

- ① ㉠, ㉡ ② ㉠, ㉢ ③ ㉡, ㉢ ④ ㉡, ㉣ ⑤ ㉢, ㉣

15. (가), (나)에 대한 설명으로 옳은 것은? [3점]

(가)	(나)
헌법소원심판청구서	헌법소원심판청구서
청구인 ○○○ ...(중략)...	청구인 ◇◇◇ ...(중략)...
청 구 취 지	청 구 취 지
“△△법 제▽조는 헌법에 위반된다.”라는 결정을 구합니다.	“◎◎법 제☆조는 헌법에 위반된다.”라는 결정을 구합니다.
당 해 사 건	침 해 된 권 리
□□법원 2006구000호 퇴직 처분 무효확인	헌법 제11조 평등권

- ① (가)를 제출하려면 해당 법률 조항의 위헌 여부가 재판의 전제가 되어야 한다.
- ② (가)의 해당 법률 조항이 위헌으로 결정될 경우 그 효력은 사건 당사자에게만 미친다.
- ③ (나)의 청구인은 사전에 위헌 법률 심판 제청 신청 서류를 법원에 제출해야 한다.
- ④ (가), (나)는 상고심을 담당하는 국가 기관에 제출한다.
- ⑤ (가)는 법원, (나)는 국민이 청구인의 자격을 갖는다.

16. 우리나라 헌법 기관 ㉠의 권한으로 옳은 것은? [3점]

국민의 직접 선거로 선출된 ㉠은/는 취임 첫 날, 국군 통수권자로서 합동 참모 본부로부터 근무 상황을 보고받았다. 이날 오전 취임식에서 “나는 헌법을 준수하고 국가를 보위 하며…….”라고 국민 앞에서 엄숙히 선서하였다. 취임식을 마친 후 ㉠은/는 집무실로 이동하여 5년 임기의 공식적 업무에 들어갔다.

- ① 외국과의 조약을 체결·비준한다.
- ② 국정 감사 및 국정 조사권을 가진다.
- ③ 국가의 세입·세출의 결산을 담당한다.
- ④ 대법관 회의의 동의를 얻어 법관을 임명한다.
- ⑤ 국무 위원에 대한 임명 제청 및 해임 건의권을 가진다.

17. 밑줄 친 ㉠, ㉡에 대한 설명으로 옳은 것은?

플라톤이 추구했던 세상은 공동선과 덕을 갖춘 완벽한 지도자에 의해 통치되는 ‘이상 국가’이다. 하지만 플라톤은 노년의 저술인 《법률》에서 현실적 국가 형태로 법을 우선시 하는 민주 정치를 구상하였다. 플라톤은 자연법에 보다 가까운 새로운 성문법을 설계하고자 했으며 플라톤의 이런 법치 사상은 오늘날의 ㉠ ‘실질적 법치주의’에 부합한다. 이는 통치자가 법을 권력의 수단으로 활용하여 지배하는 ㉡ ‘형식적 법치주의’와는 근본적으로 다르다.

- ① ㉠은 ‘인치(人治)’를 의미한다.
- ② ㉡은 현대 사회에 와서 새롭게 등장하였다.
- ③ ㉠은 ㉡과 달리 위헌 법률 심사제의 필요성을 강조한다.
- ④ ㉡은 ㉠과 달리 법 제정 절차의 합법성을 중시한다.
- ⑤ ㉠, ㉡은 모두 법의 목적과 내용이 정의에 부합한다.

18. (가), (나)에 나타난 헌법상 국민의 의무에 대한 설명으로 옳지 않은 것은?



- ① (가)는 국토와 국민의 생명을 방위하기 위한 것이다.
- ② (나)는 국민뿐만 아니라 국가에게도 부과된다.
- ③ (나)는 의무인 동시에 권리의 성격을 지니고 있다.
- ④ (가)는 (나)와 달리 이행하지 않으면 법적 제재가 따른다.
- ⑤ (나)는 (가)와 달리 현대에 와서 새롭게 부과된 의무이다.

19. 다음 자료에서 공통적으로 드러나는 헌법의 법적 의의로 가장 적절한 것은?

- 헌법은 국가의 기본적이고 으뜸가는 법이며 모든 하위 법령, 즉 법률, 명령, 조례, 규칙 등은 헌법에 위반되어서는 안 된다.
- 헌법 재판소는 법률의 위헌 여부를 심사하며, 헌법 재판소의 위헌 결정이 내려지면 해당 법률은 그 효력을 상실한다.

- ① 정치적 공동체인 국가를 창설한다.
- ② 다양한 사회적 갈등을 극복하고 사회를 통합한다.
- ③ 권력 기관 간의 상호 견제를 통해 권력에 제한을 가한다.
- ④ 국가의 통치 기구와 통치 작용을 구성하고 국가 기관에 권한을 부여한다.
- ⑤ 모든 법령의 제정 근거인 동시에 법령의 정당성을 평가하는 기준이 된다.

20. 자료를 바탕으로 선거구 조정 후 나타난 변화에 대한 옳은 분석을 <보기>에서 고른 것은? [3점]

<그림> 유권자별 지지 정당과 선거구 조정 전·후의 선거구 모습

A	A	A	A	A	A	A	A	A	A	A	A	A	A	A	A
A	A	A	B	B	B	B	A	A	A	A	B	B	B	B	A
A	A	A	B	B	B	B	A	A	A	A	B	B	B	B	A
A	A	A	B	B	B	B	A	A	A	A	B	B	B	B	A
A	A	A	B	B	A	A	A	A	A	A	B	B	A	A	A
A	A	A	B	B	A	A	A	A	A	A	B	B	A	A	A
A	A	A	B	B	A	A	A	A	A	A	B	B	A	A	A
A	A	A	B	B	A	A	A	A	A	A	B	B	A	A	A

* [A] / [B]: A당 또는 B당을 지지하는 유권자 1명을 의미한다.

- ○○국 의회 의원은 지역구 의원만으로 구성되며, 소선거구제를 채택하고 있다.
- ○○국의 총 유권자 64명은 모두 투표에 참여하며, 자신이 지지하는 정당 후보자에게 투표한다고 가정한다.

- <보 기>
- ㄱ. A당 당선자 수는 증가하였다.
 - ㄴ. B당에 비해 A당 지지자의 의사는 과소 대표되었다.
 - ㄷ. 갑 선거구의 A당 득표율이 증가하였다.
 - ㄹ. 을 선거구의 사표가 감소하였다.

- ① ㄱ, ㄴ ② ㄱ, ㄷ ③ ㄴ, ㄷ ④ ㄴ, ㄹ ⑤ ㄷ, ㄹ

※ 확인 사항

- 답안지의 해당란에 필요한 내용을 정확히 기입(표기)했는지 확인하십시오.