

6. 다음은 낱말 카드를 활용한 수업 활동 과정이다. (가)에 들어갈 내용으로 옳은 것은? [3점]

• 교사: 1~3에 해당하는 단어를 <낱말 카드>에서 찾아 하나씩 뒤집으세요.

1. 한 나라의 주권이 미치는 바다이다.
 2. 정상부에 천지라는 호수가 있으며, 해발 고도는 2,744m이다.
 3. 2002년 남북 합작으로 조성된 공업 지구가 위치한다.

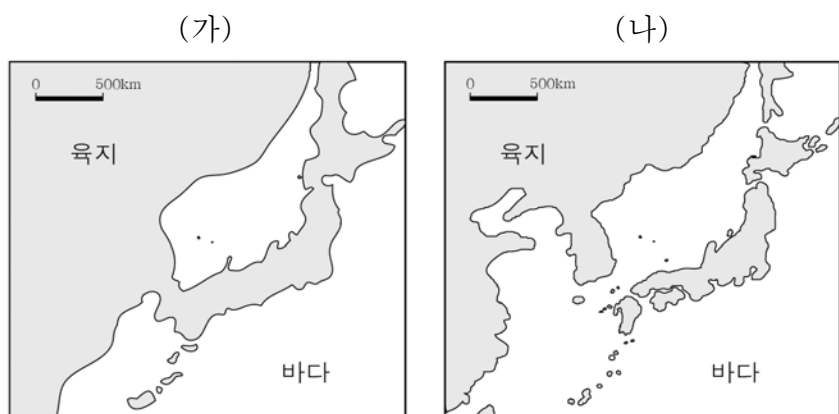
<낱말 카드>

영 백 성 독 개 두 산 해 도

• 교사: <낱말 카드>에서 뒤집고 남은 글자로 만들 수 있는 지역에 대해 설명해 보세요.
 • 학생: _____ (가) _____ 입니다.
 • 교사: 예, 맞습니다.

- ① 우리나라의 표준 경선이 지나는 곳
- ② 우리나라 국토의 최남단에 해당하는 곳
- ③ 동북아시아 항공 교통의 허브 역할을 하는 곳
- ④ 우리나라에서 일출 및 일몰 시각이 가장 이른 곳
- ⑤ 두만강 북쪽 지역으로 최근 조선족 인구가 감소하고 있는 곳

7. 지도는 최종 빙기와 후빙기의 해안선을 나타낸 것이다. (나) 시기와 비교한 (가) 시기의 상대적 특징을 추론한 내용으로 가장 적절한 것은? [3점]



- ① 연 강수량이 많을 것이다.
- ② 하천의 길이가 짧을 것이다.
- ③ 연평균 기온이 높을 것이다.
- ④ 물리적 풍화 작용이 활발할 것이다.
- ⑤ 단위 면적당 식생 밀도가 높을 것이다.

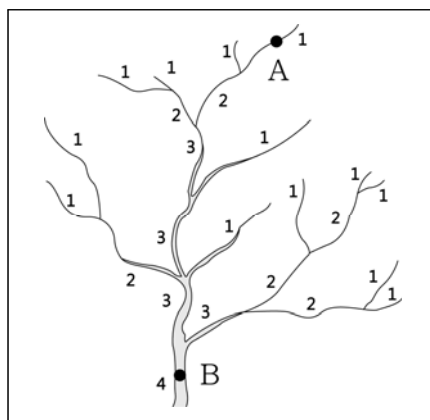
8. 자료는 강원도의 어느 마을을 답사하면서 메모한 내용의 일부이다. ㉠~㉢에 대한 옳은 설명을 <보기>에서 고른 것은?

강원도 태백시의 ㉠해발 900m 고원에 위치한 ○○○ 마을은 과거 울창했던 ㉡원시림을 개간하여 만든 넓은 ㉢고랭지 채소밭으로 유명한 곳이다. 또한, ㉣기후적 특성으로 여름철 휴양지로 각광받고 있으며, 목초지를 조성하기에도 유리하다고 한다.

- <보 기>
- ㄱ. ㉠ - 신생대 지각 변동의 영향을 많이 받았다.
 - ㄴ. ㉡ - 토양 침식이나 산사태의 원인이 되기도 한다.
 - ㄷ. ㉢ - 여름보다는 주로 겨울철에 채소가 재배된다.
 - ㄹ. ㉣ - 동위도의 서해안보다 열대야가 자주 나타난다.

- ① ㄱ, ㄴ ② ㄱ, ㄷ ③ ㄴ, ㄷ ④ ㄴ, ㄹ ⑤ ㄷ, ㄹ

9. 그림은 하계망의 모식도이다. A 지점과 비교한 B 지점의 상대적 특징으로 옳은 설명을 <보기>에서 고른 것은? (단, A, B는 하천의 어느 지점임.) [3점]



* 하계망: 하나의 유역 분지 내에서 분류와 이에 합류하는 수많은 지류들로 이루어지는 하천의 망을 가리킨다.

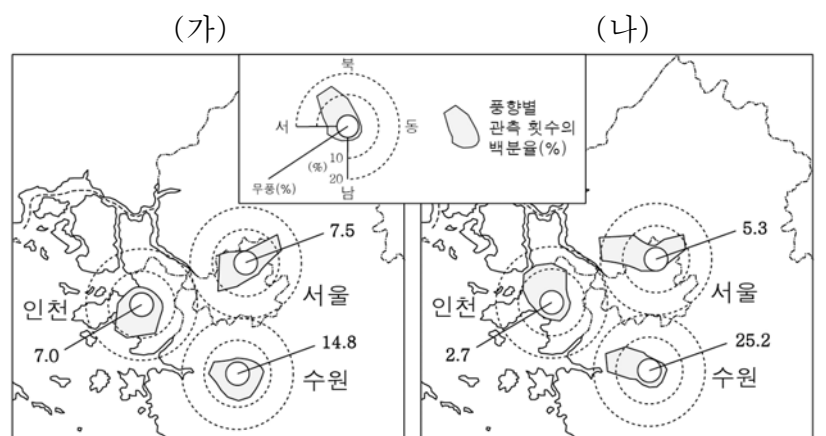
** 하천의 차수: 두 개의 1차수 하천이 합쳐지면 2차수 하천, 두 개의 2차수 하천이 합쳐지면 3차수 하천이 된다. 이러한 방법으로 차수가 매겨진다.

*** 숫자는 하천의 차수를 의미한다.

- <보 기>
- ㄱ. 평균 유량이 적다. ㄴ. 평균 수심이 깊다.
 - ㄷ. 하상의 해발 고도가 높다. ㄹ. 퇴적물의 평균 입자가 작다.

- ① ㄱ, ㄴ ② ㄱ, ㄷ ③ ㄴ, ㄷ ④ ㄴ, ㄹ ⑤ ㄷ, ㄹ

10. 지도는 수도권 일부 지역의 시기별 풍향을 나타낸 것이다. (가), (나) 시기에 대한 설명으로 옳은 것은? (단, (가), (나) 시기는 1월, 7월 중 하나임.)



* 1981 ~ 2010년의 평년값임.(기상청)

- ① 인천은 (가)가 (나)보다 무풍 비율이 낮다.
- ② 서울은 (나)가 (가)보다 북풍 계열의 바람 빈도가 높다.
- ③ (가)는 1월, (나)는 7월에 해당한다.
- ④ (가)는 (나)보다 집중 호우의 가능성이 낮다.
- ⑤ (나)는 (가)보다 북태평양 기단의 영향을 크게 받는다.

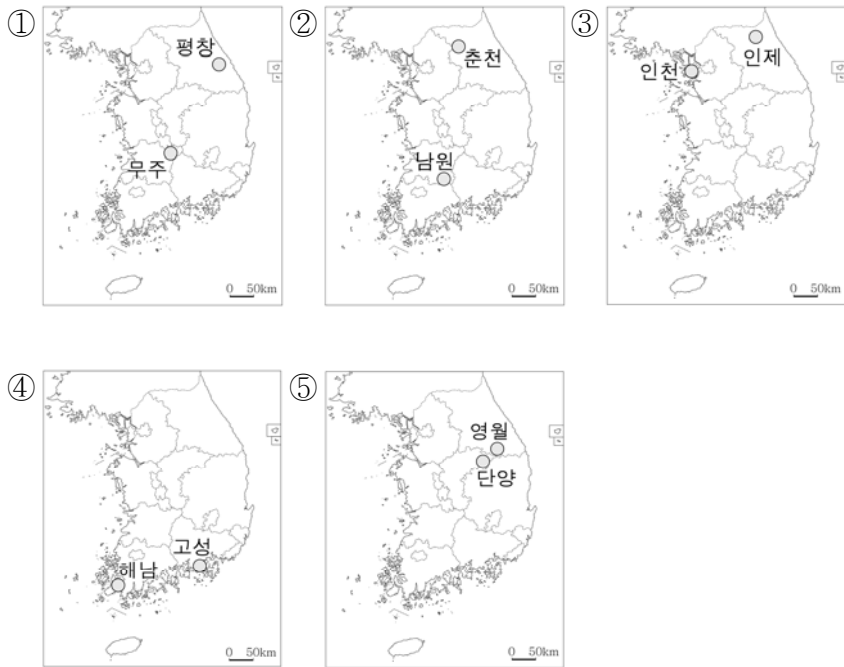
11. (가)에 해당하는 지역을 표시한 지도로 가장 적절한 것은? [3점]

지리 조사 계획서

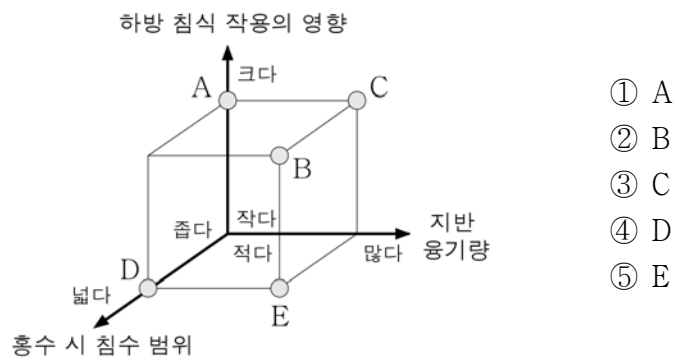
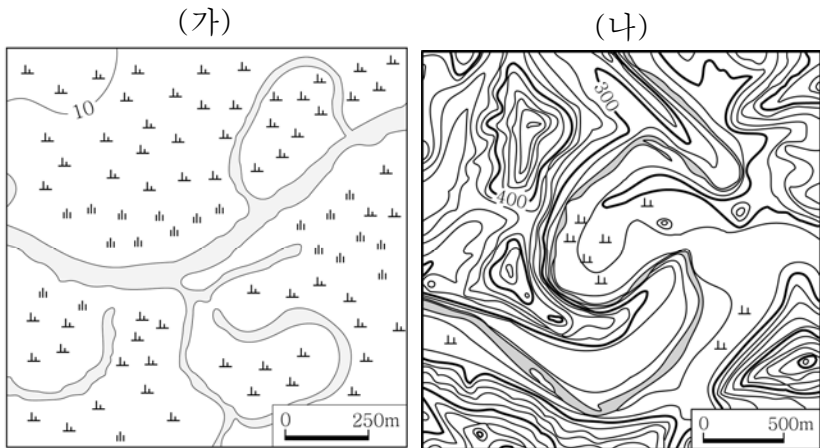
· 답사 일정: 2016년 6월 ○일 ~ ○일

· 모듬별 계획

모듬	답사 계획	답사 지역
1	<ul style="list-style-type: none"> · 주제: 공룡들의 낙원을 찾아서 · 활동: 공룡 박물관 견학 및 공룡 발자국 화석지 조사 	(가)
2	<ul style="list-style-type: none"> · 주제: 침식 분지를 찾아서 · 활동: 산지와 평지의 기반암 조사 	양구, 충주



12. (가) 하천 지형과 비교한 (나) 하천 지형의 상대적 특징을 그림의 A~E에서 고른 것은? [3점]



13. 자료는 '발구덕 마을'을 인터넷으로 검색한 결과이다. A에 대한 설명으로 옳지 않은 것은?

통합 검색

발구덕 마을

곳곳에 A와 같은 깔때기 모양의 많은 구덩이를 가진 마을이다. 발구덕은 둥글게 움푹 꺼져 들어간 곳이라는 뜻의 순우리말이며, 이곳은 구덩이가 8개 있다고 하여 팔구덩이라고도 한다. 최근에도 구멍이나 구덩이가 새로 생겨나고 있다.

- ① 토양은 주로 붉은색을 띤다.
- ② 기반암은 고생대 조선 누층군에 속한다.
- ③ 배수가 양호하여 주로 밭농사가 행해진다.
- ④ 기반암의 화학적 풍화작용에 의해 형성된다.
- ⑤ 지하에는 용암이 굳어 형성된 동굴이 발달한다.

14. 자료는 신문 기사의 일부이다. 영동 지방에서 이와 같은 현상이 나타나는 원인으로 가장 적절한 것은?

○○ 신문 2014년 2월 ○○일

103년 만의 영동 지방 대설은 2월 6일부터 시작되어 14일까지 이어지면서 강릉과 대관령은 9일간 눈이 내렸다. 연속 신적설 일수 9일로 지역별 최심적설은 강릉 110.0cm, 속초 83.5cm, 대관령 74.0cm를 기록하였다. 특히, 강릉의 연속 신적설 일수는 관측 이래 가장 길었으며, 최심적설은 1969년 109.7cm로 관측된 이후 45년 만에 기록을 경신하고 1위에 올랐다.

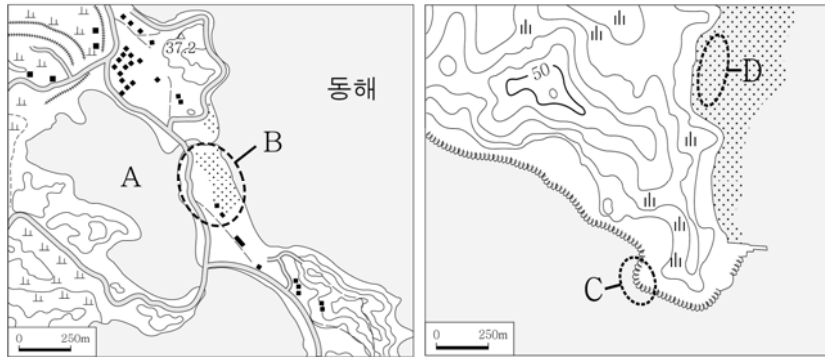
- ① 수증기를 머금은 북동 기류가 유입되었다.
- ② 북태평양 기단이 우리나라 전체를 덮었다.
- ③ 적도 부근에서 발생한 저기압이 동해를 통과하였다.
- ④ 장마 전선이 우리나라 중부 지방에 장기간 머물렀다.
- ⑤ 시베리아 기단의 일시적 확장으로 북서풍이 강하게 불었다.

15. 다음 글의 ㉠~㉢에 대한 설명으로 옳지 않은 것은?

㉠ 침식 분지는 사방이 산지로 둘러싸여 있으며, 일찍부터 농경이 발달하여 지역의 중심지로 성장한 곳이 많다. 범람원은 하천 중·하류 지역에서 홍수 시 하천의 범람으로 형성되며, 주로 ㉡ 자연 제방과 ㉢ 배후 습지로 구성되어 있다. ㉢ 삼각주는 유속의 감소로 하천이 운반해 온 물질이 쌓여 형성되며, 우리나라에서는 낙동강 하구에 잘 발달해 있다.

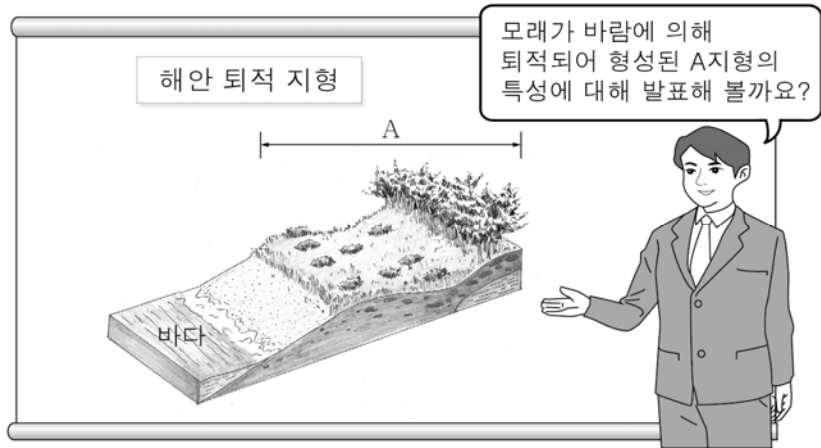
- ① ㉠은 암석의 차별 침식에 의해 발달한다.
- ② ㉡은 ㉢보다 해발 고도가 높다.
- ③ ㉢은 점토 퇴적물이 많아 배수가 불량하다.
- ④ ㉢은 ㉡보다 홍수 시 침수 위험이 높다.
- ⑤ ㉢은 조차가 큰 지역일수록 잘 발달한다.

16. 지도의 A~D에 대한 설명으로 옳은 것은? [3점]



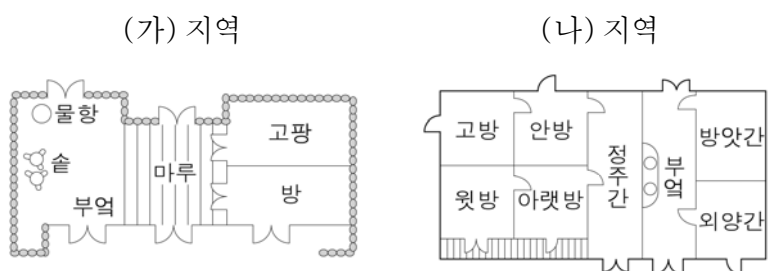
- ① A 호수는 시간이 지날수록 규모가 확대된다.
- ② A는 만의 입구에 B가 발달하여 형성된 호수이다.
- ③ B는 주로 조류의 퇴적 작용으로 형성된다.
- ④ C는 D보다 염전 발달에 유리하다.
- ⑤ D는 C보다 파랑 에너지가 집중된다.

17. 다음은 지리 수업 장면이다. 교사의 질문에 대한 학생의 대답으로 옳지 않은 것은? [3점]



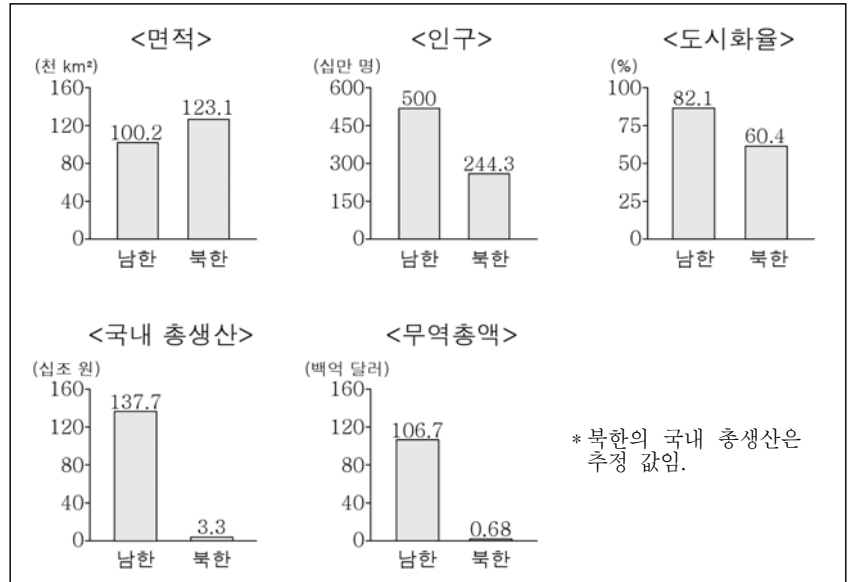
- ① 갯: 내륙과 해안 생태계를 이어주는 역할을 합니다.
- ② 울: 담수 저장 기능을 가지고 있어 식수원 역할도 합니다.
- ③ 병: 방풍림을 조성하면 모래가 유실되어 규모가 축소됩니다.
- ④ 정: 태풍이나 해일 발생 시 해안 지역을 보호하는 역할을 하기도 합니다.
- ⑤ 무: 북서풍의 영향을 많이 받는 태안반도 일대에서 큰 규모로 발달합니다.

18. 자료는 두 지역의 전통 가옥 구조를 나타낸 것이다. (가) 지역과 비교한 (나) 지역의 상대적 특성으로 옳은 것은?



- ① 연 강수량이 적다.
- ② 기온의 연교차가 작다.
- ③ 가옥 구조가 개방적이다.
- ④ 최한월 평균 기온이 높다.
- ⑤ 봄꽃의 개화 시기가 이르다.

19. 그래프는 남북한의 여러 지표를 나타낸 것이다. 북한과 비교한 남한의 상대적 특성으로 옳은 설명을 <보기>에서 고른 것은?



(2012) (통계청, UN)

<보 기>

- ㄱ. 인구 밀도가 낮다.
- ㄴ. 대외 경제 의존도가 낮다.
- ㄷ. 1인당 국내 총생산이 많다.
- ㄹ. 도시 인구가 북한의 총인구보다 많다.

- ① ㄱ, ㄴ ② ㄱ, ㄷ ③ ㄴ, ㄷ ④ ㄴ, ㄹ ⑤ ㄷ, ㄹ

20. (가), (나)에 해당하는 지역을 지도의 A~C에서 고른 것은? [3점]

(가) 한탄강이 흐르며 용암대지 위에 펼쳐진 풍요롭고 광활한 농경지를 가진 곡창지대이다. 특히, 이곳에서 생산된 쌀은 특정한 맛과 품질을 지니므로써 지리적 표시제에 등록되었다.

(나) 화산 생성 과정 및 지질 연구에 있어 학술적 가치를 인정받아 세계자연유산과 세계지질공원으로 선정되었다. 이를 바탕으로 국제적 관광지로 발전했으며, 최근 생태 관광의 발달로 관광객 수가 증가하고 있다.



- | | (가) | (나) |
|---|-----|-----|
| ① | A | B |
| ② | A | C |
| ③ | B | A |
| ④ | B | C |
| ⑤ | C | A |

※ 확인 사항
○ 답안지의 해당란에 필요한 내용을 정확히 기입(표기)했는지 확인하십시오.