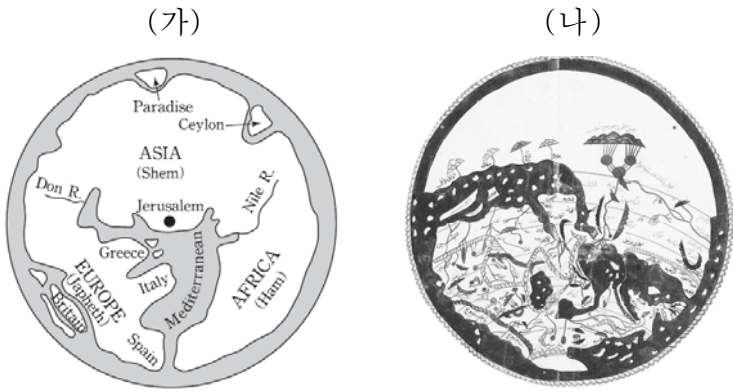


제 4 교시 사회탐구 영역 (세계 지리)

성명 수험 번호 2

1

1. (가), (나) 지도에 대한 옳은 설명을 <보기>에서 고른 것은?



<보 기>

ㄱ. (가)는 현존하는 가장 오래된 세계 지도이다.
 ㄴ. (나)는 이슬람교 세계관이 반영되어 있다.
 ㄷ. 지도의 위쪽이 (가)는 북쪽, (나)는 남쪽이다.
 ㄹ. (가), (나) 모두 지중해가 표현되어 있다.

- ① ㄱ, ㄴ ② ㄱ, ㄷ ③ ㄴ, ㄷ ④ ㄴ, ㄹ ⑤ ㄷ, ㄹ

2. 다음 <조건>을 만족하는 국가에 경제적 지원을 할 때, 가장 적합한 대상 국가를 고른 것은?

<조 건 >

첫째, 영양 부족 인구 비율
20% 이상
둘째, 출생아 천 명 대비 사망자 수
75명 이상
셋째, 기준에 식량 원조를 받는 양
1만 톤 미만



<영양 부족 인구 비율> <출생아 천 명 대비 사망자 수> <기준에 식량 원조를 받는 양>



- ① 리비아 ② 앙골라 ③ 나이지리아
 ④ 에티오피아 ⑤ 마다가스카르

3. 다음은 세계화에 대한 수업 장면이다. 교사의 질문에 옳지 않게 대답한 학생을 고른 것은?

<학습 주제 : 세계화>

(가)에 들어갈 내용을 발표해 볼까요?

1. 의 미 : 민족 및 국가의 경계가 약화되면서 세계가 하나로 통합되는 현상
 2. 배 경 : 교통과 통신의 발달
 3. 영 향 : _____ (가)

갑 을 병 정 무

국가 간 문화적 이질성이 강화됩니다. 다국적 기업의 활동이 활발해 집니다. 국가 간 상호 의존성이 증대 됩니다. 인간 활동의 지리적 범위가 확대됩니다. 국가 간 자본의 이동량이 증가 합니다.

- ① 갑 ② 을 ③ 병 ④ 정 ⑤ 무

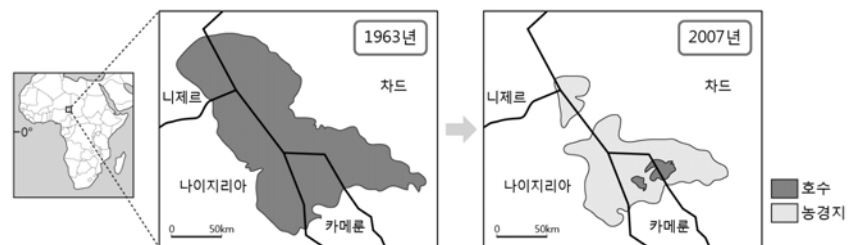
4. 자료는 문화권 구분에 관해 학생이 작성한 수행 평가지의 일부이다. 지도의 A~D에 대한 답안이 옳게 작성된 것은?

※ A~D 지형에 해당하는 명칭을 쓰고, 문화권을 구분하시오.

기호	명칭	문화권의 구분	...
A	안데스 산맥	북서부 유럽 문화권과 남부 유럽 문화권	... ㄱ
B	사하라 사막	아프리카 문화권과 유럽 문화권	... ㄴ
C	히말라야 산맥	중국 문화권과 인도 문화권	... ㄷ
D	리오그란데 강	앵글로아메리카와 라틴 아메리카	... ㄹ

- ① ㄱ, ㄴ ② ㄱ, ㄷ ③ ㄴ, ㄷ ④ ㄴ, ㄹ ⑤ ㄷ, ㄹ

5. 자료에 표시된 지역에서 나타나는 환경 변화에 대한 설명으로 옳은 것은?



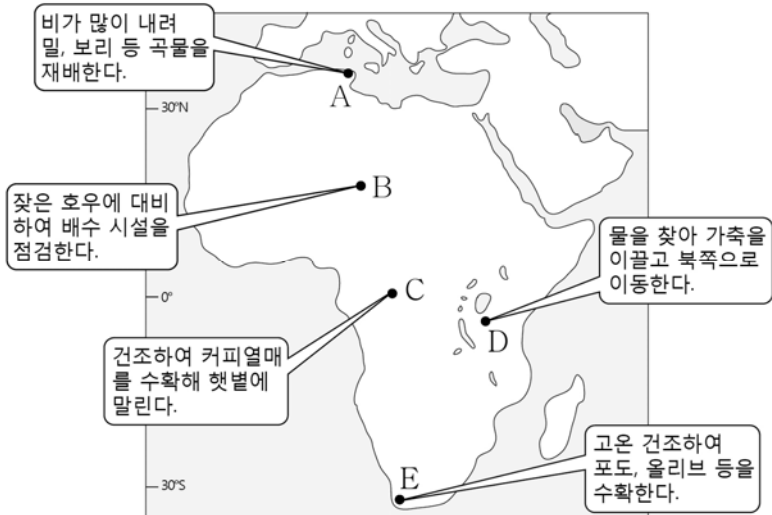
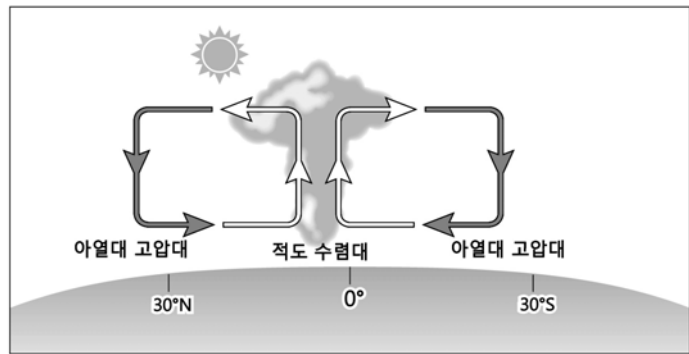
- ① 호수의 염분 농도가 낮아졌다.
 ② 생물종의 다양성이 증가하였다.
 ③ 목축 및 경작이 과도하게 이루어졌다.
 ④ 유기물이 풍부해져 토양이 비옥해졌다.
 ⑤ 호수의 수질이 개선되어 어획량이 증가하였다.

6. (가)~(라)는 어느 국가에 대한 지리 정보 수집 방법을 나타낸 것이다. 이에 대한 설명으로 옳지 않은 것은? (단, (가)~(라)는 문헌 조사, 원격 탐사, 인터넷 조사, 현지 조사 중 하나임.)



- ① (가)를 통해 기존의 기록 및 연구 내용을 파악할 수 있다.
- ② (나)는 신뢰할 만한 정보인가에 대한 판단이 필요하다.
- ③ (다)를 통해 넓은 지역의 정보를 주기적으로 수집할 수 있다.
- ④ (라)는 지리 조사 과정에서 대체로 (가)보다 먼저 이루어진다.
- ⑤ (라)는 (나)에 비해 시간적·공간적 제약이 큰 편이다.

7. 그림은 어느 시기의 적도 수렴대의 위치를 나타낸 것이다. 이 시기에 나타나는 A~E 지역의 주민 생활로 옳은 것은? (단, 시기는 1월과 7월 중 하나임.) [3점]



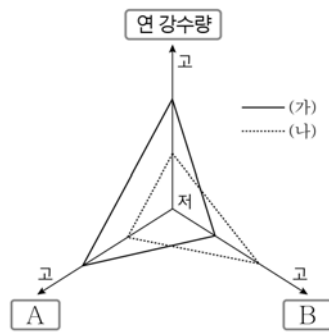

- ① A ② B ③ C ④ D ⑤ E

8. 지도의 (가)~(마)에 대한 설명으로 옳은 것은? [3점]



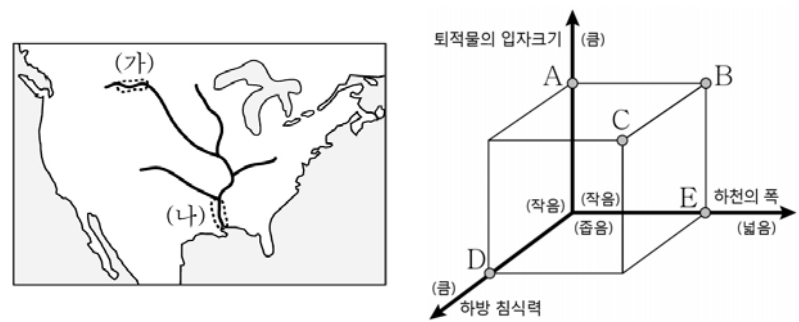
- ① (가)는 두 개의 대륙판이 충돌하여 형성된 화산이다.
- ② (나)는 주로 고생대에 습곡 운동으로 형성된 조산대이다.
- ③ (다)는 대륙의 내부에서 판이 갈라져서 생긴 지구대이다.
- ④ (라)는 판과 판이 어긋나 지진이 자주 발생하는 단층대이다.
- ⑤ (마)는 해양판과 대륙판이 충돌하여 형성된 신기 습곡 산지이다.

9. (가), (나)는 두 기후 지역의 가옥을 나타낸 것이다. 두 지역의 상대적 특성을 그래프로 표현할 때, A와 B에 들어갈 항목으로 옳은 것은? [3점]



- | | | |
|-------------|-----------|---|
| | A | B |
| ① 식생 밀도 | 기온의 연교차 | |
| ② 식생 밀도 | 최난월 평균 기온 | |
| ③ 기온의 연교차 | 식생 밀도 | |
| ④ 기온의 연교차 | 최난월 평균 기온 | |
| ⑤ 최난월 평균 기온 | 식생 밀도 | |


10. 지도의 하천에서 (가) 구간과 비교한 (나) 구간의 상대적 특성을 그림의 A~E에서 고른 것은?



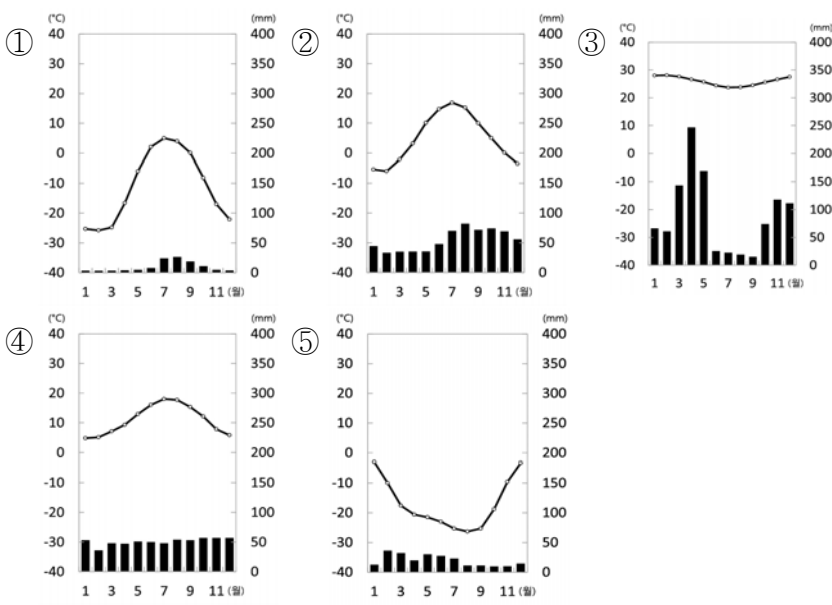
- ① A ② B ③ C ④ D ⑤ E

11. 자료는 여행 보고서의 일부이다. 글쓴이가 여행한 국가의 기후 그래프로 적절한 것은? [3점]

전체 면적의 약 3/4이 삼림으로 덮여 있는 이 국가는 삼림의 대부분이 소나무, 가문비나무 등의 침엽수로 이루어져 목재, 펄프·제지 산업이 크게 발달하였다. 여행 기간 동안 눈 덮인 숲 속에 자리한 통나무로 만든 코타(kota)에서 전통 가옥 체험을 했다. 주민들은 겨울이 길고 춥기 때문에 가열한 돌에 물을 뿌려 습도를 높이고, 그 열로 땀을 내는 사우나(sauna)를 자주 즐긴다고 한다.

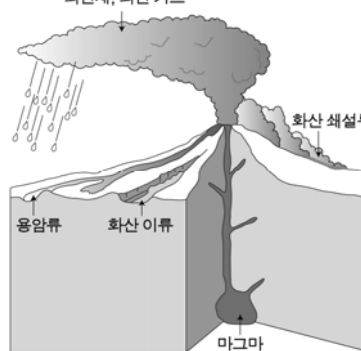


▲ 코타(kota)



12. 자료는 화산 활동으로 발생하는 주요 피해 유형에 관한 것이다. ㉠~㉣에 대한 옳은 설명만을 <보기>에서 있는 대로 고른 것은? [3점]

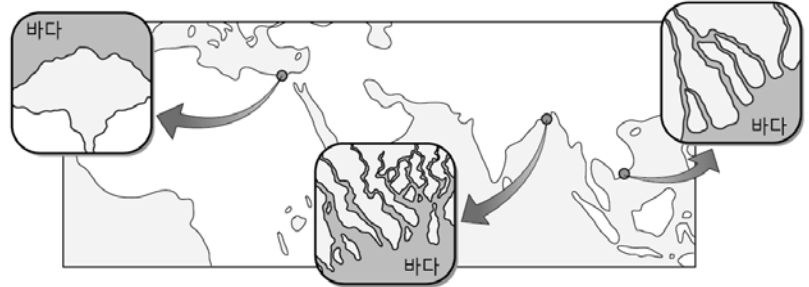
화산 활동으로 인한 직접적 피해는 분화구에서 바로 분출하는 ㉠ 화산재, ㉡ 용암류, ㉢ 화산가스, 화산탄 등에 의해 발생한다. 추가적인 피해는 충격에 의한 산사태, 화산 분출물이 골짜기를 막아 발생하는 홍수, ㉣ 화산쇄설류(화쇄류), 화산이류 등에 의해 발생한다.



- <보 기>
- ㄱ. ㉠이 쌓여 형성된 토양은 척박하여 농업에 불리하다.
 - ㄴ. ㉡은 비교적 느리게 이동하여 인명 피해가 적은 편이다.
 - ㄷ. ㉢은 황산화물과 질소산화물 등이 포함되어 산성비를 유발한다.
 - ㄹ. ㉣은 고온의 화산재와 증기의 혼합물로 고속으로 분출하여 피해 정도가 크다.

- ① ㄱ, ㄴ ② ㄱ, ㄷ ③ ㄴ, ㄹ
 ④ ㄱ, ㄷ, ㄹ ⑤ ㄴ, ㄷ, ㄹ

13. 그림은 지도에 표시된 지역에서 볼 수 있는 지형이다. 이 지형에 대한 설명으로 옳은 것은?



- ① 하천 하구에서 유속 감소로 토사가 퇴적되어 발달한다.
- ② 낙차가 큰 지형 조건을 이용하여 댐 건설이 활발하다.
- ③ 습윤 기후 지역보다 건조 기후 지역에서 잘 발달한다.
- ④ 산지와 평지가 만나는 경사 급변점에서 주로 발달한다.
- ⑤ 수심이 깊은 곳에 형성되어 대규모 항구 발달에 유리하다.

14. 지도에 표시된 A, B는 어느 기후 지역의 일부를 나타낸 것이다. A, B에 대한 옳은 설명을 <보기>에서 고른 것은? [3점]



- <보 기>
- ㄱ. A는 계절풍의 영향으로 일 년 내내 습윤하다.
 - ㄴ. A는 B보다 겨울철 난방에 대한 필요성이 작다.
 - ㄷ. B는 A보다 여름철 하천 범람이 자주 발생한다.
 - ㄹ. A에서는 벼농사, B에서는 수목 농업이 널리 행해진다.

- ① ㄱ, ㄴ ② ㄱ, ㄷ ③ ㄴ, ㄷ ④ ㄴ, ㄹ ⑤ ㄷ, ㄹ

15. 다음은 세계 지리 학습지의 일부이다. (가)에 들어갈 내용으로 가장 적절한 것은? [3점]

< 학습 주제 : 해안 지형의 특징 >

※ 아래 사진에 나타난 지형의 공통점을 적어보세요.

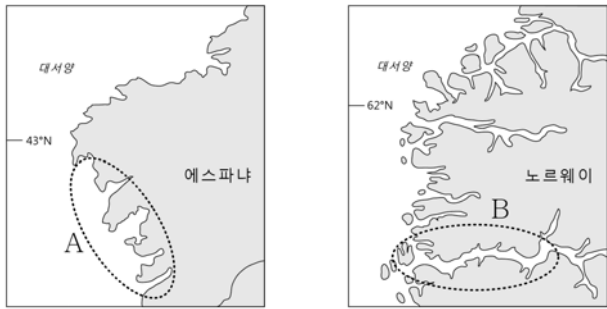


▲ 브라질의 석호 ▲ 뉴질랜드의 해안 단구

☞ 해안에서 볼 수 있는 두 지형은 형성되는 과정에서 공통적으로 (가) 의 영향을 받았다.

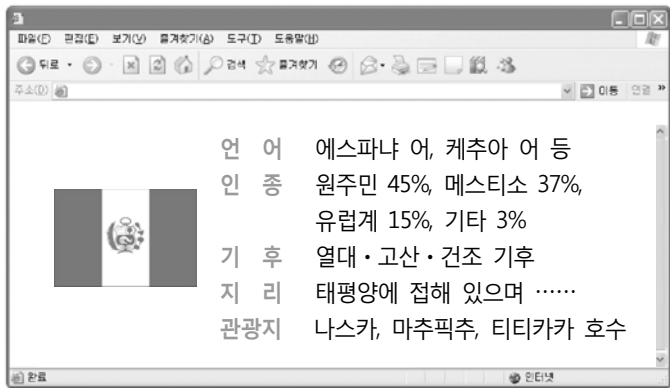
- ① 지반의 융기 ② 해수면 변동 ③ 암석의 차별 침식
 ④ 조류에 의한 퇴적 ⑤ 빙하에 의한 침식

16. 지도에 표시된 A, B 해안에 대한 설명으로 가장 적절한 것은?

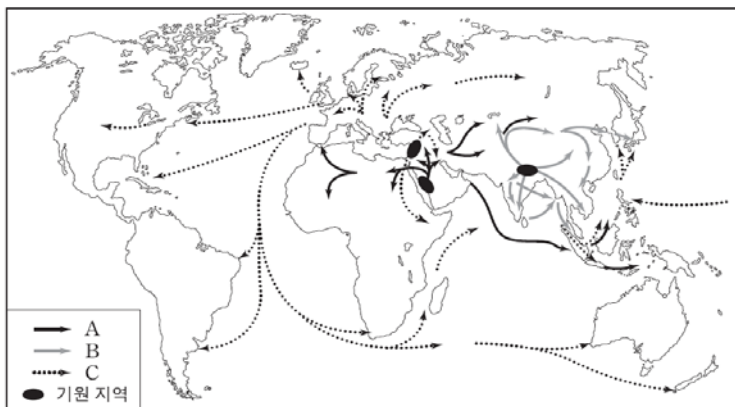


- ① A는 빙식곡이 침수되어 발달하였다.
- ② B는 조수 간만의 차이가 큰 곳에 발달한다.
- ③ A는 B보다 해안의 평균 수심이 깊은 편이다.
- ④ B는 A보다 과거 빙하의 영향을 많이 받았다.
- ⑤ A와 B는 모두 해수면 하강으로 인해 형성되었다.

17. 그림은 어떤 국가에 대한 인터넷 검색 결과의 일부이다. 이에 해당하는 국가를 지도의 A~E에서 고른 것은?

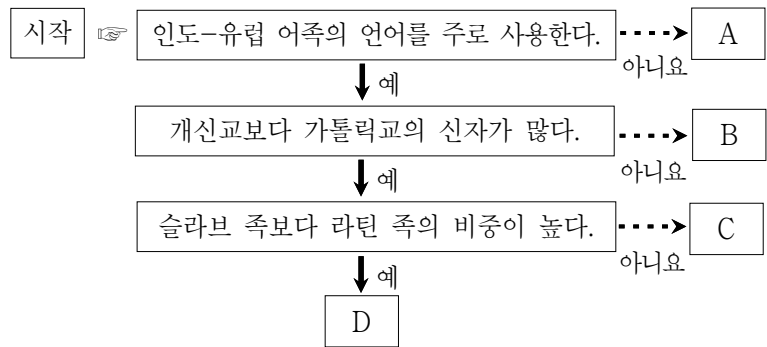
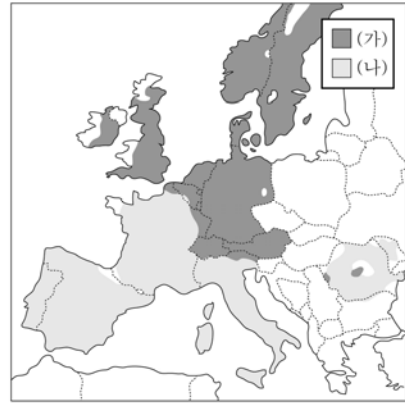


18. 지도는 세계 종교의 전파 경로를 나타낸 것이다. A~C 종교에 대한 설명으로 옳은 것은? [3점]



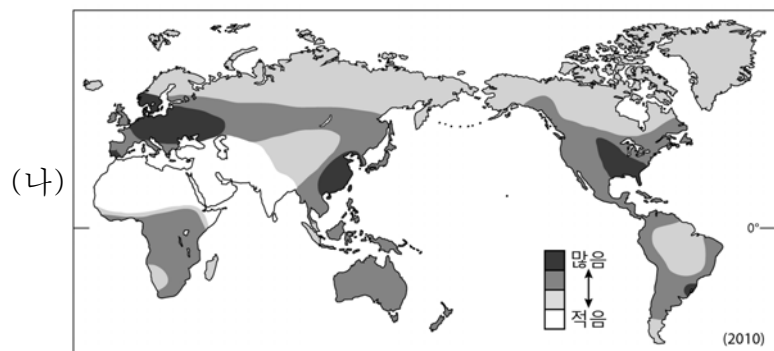
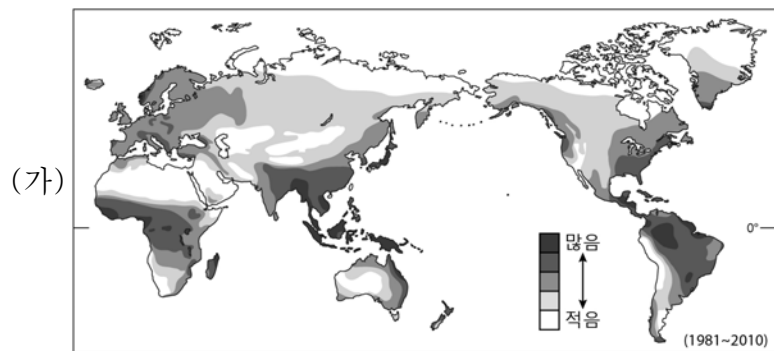
- ① A는 로마 제국의 국교가 되면서 지중해 전역으로 전파되었다.
- ② B는 여러 신을 인정하는 다신교로 신분제에 영향을 주었다.
- ③ C는 아랍 상인들의 활발한 무역 활동을 통해 전파되었다.
- ④ A와 B는 유대교를 모체로 하여 건조 지역에서 발생하였다.
- ⑤ A~C 중에서 세계적으로 신자 수가 가장 많은 종교는 C이다.

19. 지도는 유럽의 주요 민족이 분포하는 지역을 나타낸 것이다. (가), (나) 지역의 특징을 그림의 A~D에서 고른 것은? [3점]



- ① (가) A (나) B
- ② (가) A (나) C
- ③ (가) B (나) C
- ④ (가) B (나) D
- ⑤ (가) C (나) D

20. (가), (나) 지역 구분에 사용된 지표로 옳은 것은? [3점]



- | | |
|----------------|--------------|
| (가) | (나) |
| ① 연 강수량 | 1인당 국내 총생산 |
| ② 연 강수량 | 1인당 돼지고기 소비량 |
| ③ 1인당 국내 총생산 | 연 강수량 |
| ④ 1인당 국내 총생산 | 1인당 돼지고기 소비량 |
| ⑤ 1인당 돼지고기 소비량 | 1인당 국내 총생산 |

※ 확인 사항
○ 답안지의 해당란에 필요한 내용을 정확히 기입(표기)했는지 확인하십시오.