


제 4 교시

사회탐구 영역 (지리)

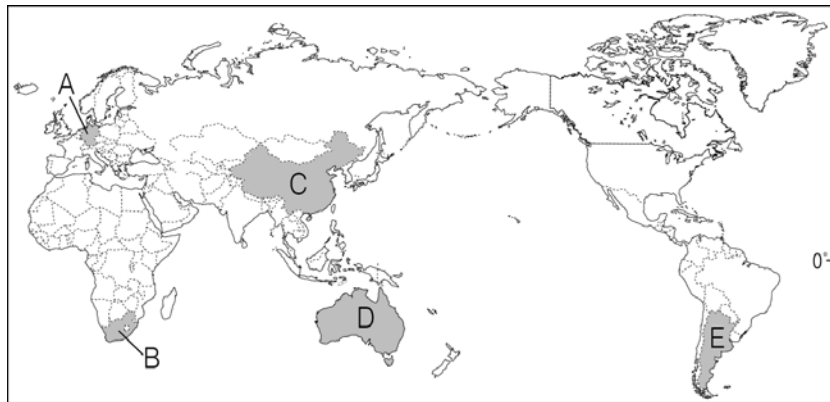
성명		수험번호					1		
----	--	------	--	--	--	--	---	--	--

1. 다음 자료에 해당하는 국가를 지도의 A~E에서 고른 것은?

< OO 국가 지리 정보 >



- 12월 ~ 2월이 여름철에 해당됨.
- 인도양 및 대서양과 접해 해양 진출에 유리함.
- 주요 도시로는 케이프타운, 요하네스버그 등이 있음.



- ① A ② B ③ C ④ D ⑤ E

2. (가), (나) 지역의 기후 그래프를 <보기>에서 고른 것은?

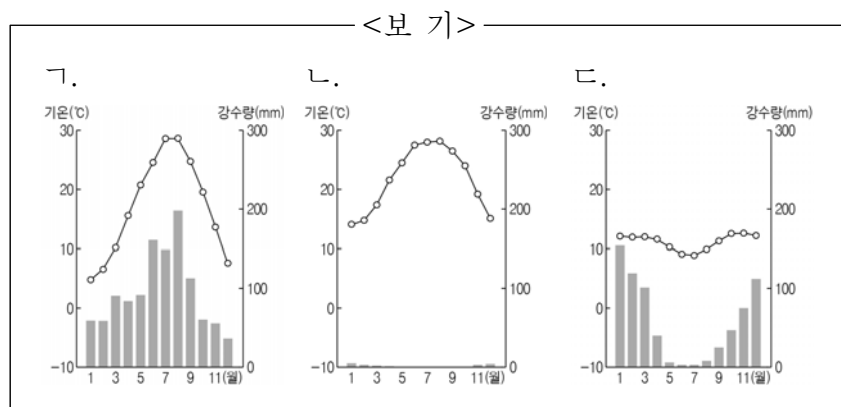
[3점]



이곳은 모래 언덕이 사방으로 펼쳐져 있고, 풀 한 포기 자라지 않는 곳이야. 햇볕 아래서 걷는 것이 힘들어 낙타를 타고 이동했어.



여기는 연중 봄과 같은 날씨가야. 고산 지대라 고산병 때문에 걷기가 힘들었지만 원주민의 찬란한 유적지는 너무 경이로웠어.



- | | | | | | |
|---|-----|-----|---|-----|-----|
| | (가) | (나) | | (가) | (나) |
| ① | ㄱ | ㄴ | ② | ㄱ | ㄷ |
| ③ | ㄴ | ㄱ | ④ | ㄴ | ㄷ |
| ⑤ | ㄷ | ㄱ | | | |

3. 다음 자료에 제시된 지리 정보 수집 방법을 이용하여 조사할 수 있는 탐구 주제를 <보기>에서 고른 것은? [3점]

<홍수 발생 전> <홍수 발생 후>

사진은 태국의 짜오프라야 강 주변의 홍수 발생 전과 후의 모습이다. 이처럼 인공위성을 활용하면 인간의 접근이 어렵거나 넓은 지역의 지리 정보를 주기적으로 수집·분석할 수 있다.

- <보 기>
- ㄱ. 아프리카의 민족 분포
 - ㄴ. 동부아시아의 황사 이동 경로
 - ㄷ. 남아메리카의 교육 수준과 취업률
 - ㄹ. 동남아시아 열대 우림의 면적 변화

- ① ㄱ, ㄴ ② ㄱ, ㄷ ③ ㄴ, ㄷ
 ④ ㄴ, ㄹ ⑤ ㄷ, ㄹ

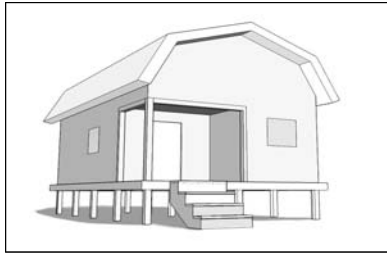
4. 다음 자료는 TV 프로그램 촬영 계획의 일부이다. (가), (나)에 해당하는 지역을 지도의 A~C에서 고른 것은?

세계 전통 음식을 찾아서	
촬영 지역	촬영 내용
(가)	#1. 고온 다습한 여름과 드넓은 평야 #2. 1년에 세 번 벼를 수확하는 사람들 #3. 담백한 육수의 쌀국수 요리
(나)	#1. 고온 건조한 여름과 올리브 농장 #2. 온난 습윤한 겨울철에 밀을 재배하는 사람들 #3. 싱싱한 조개로 맛을 낸 파스타 요리

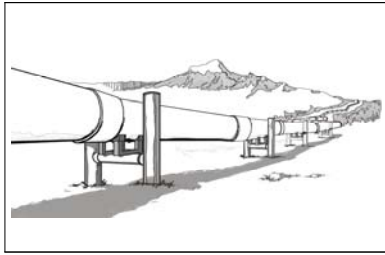


- | | | |
|---|-----|-----|
| | (가) | (나) |
| ① | A | B |
| ② | A | C |
| ③ | B | C |
| ④ | C | A |
| ⑤ | C | B |

5. 그림과 같은 경관이 나타나는 지역의 특성으로 옳은 것은?



<땅 속 깊이 기둥을 박은 가옥>



<지면에서 띄워진 송유관>

- ① 곡물 재배와 가축 사육이 함께 이루어진다.
- ② 침엽수림이 넓게 분포하여 임업이 발달한다.
- ③ 연중 고온 다습하여 울창한 밀림이 형성된다.
- ④ 관개 농업을 통해 대추야자와 밀 등을 재배한다.
- ⑤ 토양층이 녹는 짧은 여름철에 이끼와 풀이 자란다.

6. (가)~(다)에 해당하는 지형을 <보기>에서 고른 것은?

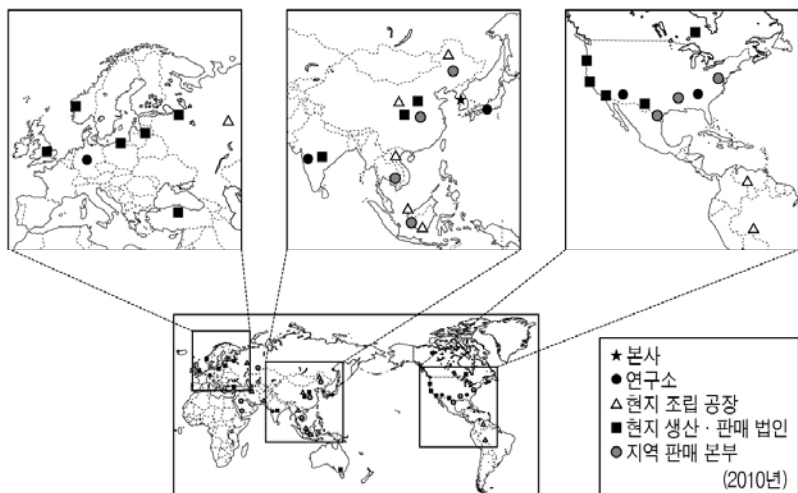
- (가) 바람에 날린 모래의 침식을 받아 형성
- (나) 빙하에 의해 침식된 골짜기가 바닷물에 잠겨 형성
- (다) 지하로 스며든 물에 의해 석회암이 녹으면서 형성

<보 기>



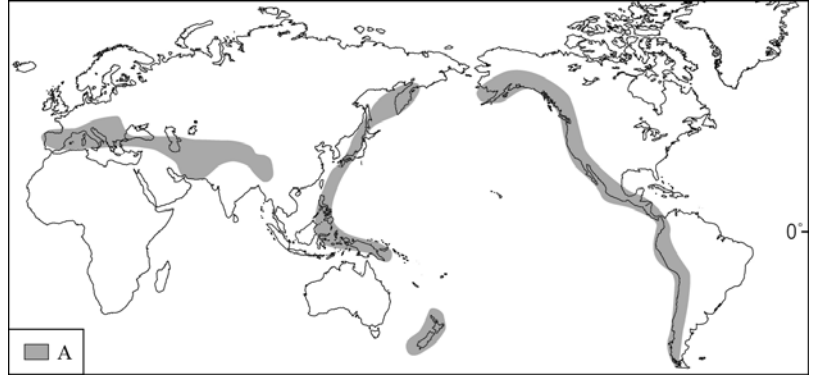
- | | | | | | | | |
|---|-----|-----|-----|---|-----|-----|-----|
| | (가) | (나) | (다) | | (가) | (나) | (다) |
| ① | ㄱ | ㄴ | ㄷ | ② | ㄱ | ㄷ | ㄴ |
| ③ | ㄴ | ㄱ | ㄷ | ④ | ㄴ | ㄷ | ㄱ |
| ⑤ | ㄷ | ㄱ | ㄴ | | | | |

7. 지도는 우리나라 ○○ 기업의 해외 진출 현황이다. 이에 대한 설명으로 옳지 않은 것은? [3점]



- ① 여러 국가에 진출한 다국적 기업이다.
- ② 연구소는 전문 인력의 확보가 유리한 지역에 입지한다.
- ③ 해외 진출을 통해 생산비 절감이나 시장 확보가 가능하다.
- ④ 교통·통신의 발달로 기업의 기능이 세계 각지로 분리된다.
- ⑤ 아시아 지역에 입지한 현지 조립 공장은 아메리카보다 적다.

8. 지도에 표시된 A 지역에 대한 옳은 설명을 <보기>에서 고른 것은? [3점]

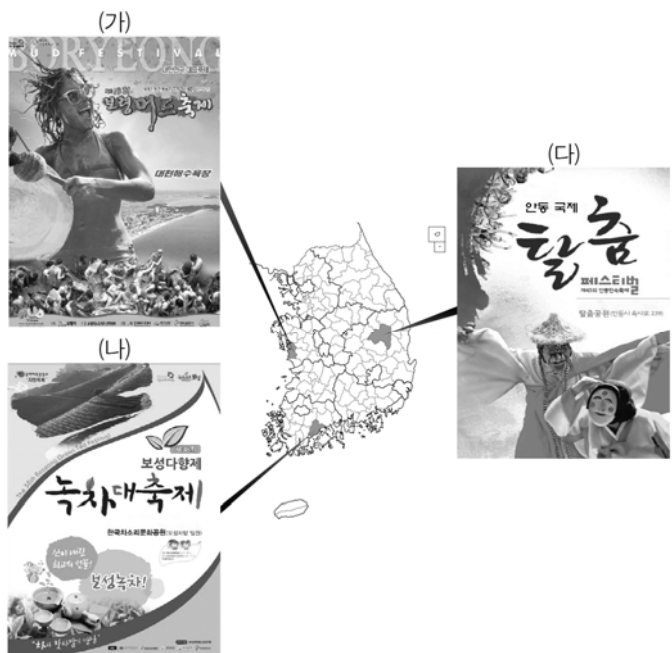


<보 기>

- ㄱ. 지각 판이 충돌하는 경계에 해당한다.
- ㄴ. 고기 습곡 산지로 형성 시기가 오래되었다.
- ㄷ. 지진이나 화산에 의한 피해가 자주 발생한다.
- ㄹ. 해발고도가 낮고 평탄한 고원이 주로 분포한다.

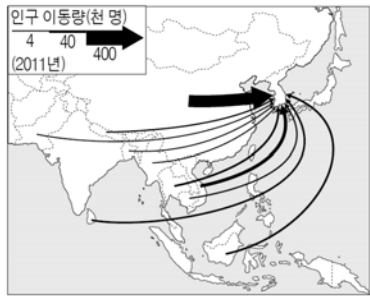
- ① ㄱ, ㄴ ② ㄱ, ㄷ ③ ㄴ, ㄷ
- ④ ㄴ, ㄹ ⑤ ㄷ, ㄹ

9. (가)~(다)와 같은 지역 축제가 개최될 수 있는 주요 배경으로 가장 적절한 것은?



- | | | | | | | | |
|---|-----|-----|-----|---|-----|-----|-----|
| | (가) | (나) | (다) | | (가) | (나) | (다) |
| ① | 기후 | 문화 | 지형 | ② | 지형 | 문화 | 기후 |
| ③ | 지형 | 기후 | 문화 | ④ | 문화 | 기후 | 지형 |
| ⑤ | 문화 | 지형 | 기후 | | | | |

10. 지도에 나타난 인구 이동의 유형으로 옳은 것은?



- | | 이동 의사 | 이동 원인 |
|---|-------|-------|
| ① | 자발적 | 경제적 |
| ② | 자발적 | 정치적 |
| ③ | 자발적 | 종교적 |
| ④ | 강제적 | 경제적 |
| ⑤ | 강제적 | 종교적 |

11. (가), (나) 국가의 인구 특성에 대한 옳은 추론을 <보기>에서 고른 것은? [3점]




<보 기>

ㄱ. (가)는 피라미드형 인구 구조가 나타날 것이다.
 ㄴ. (나)는 저출산 문제가 나타날 것이다.
 ㄷ. (가)는 (나)보다 평균 수명이 길 것이다.
 ㄹ. (나)는 (가)보다 유소년 인구 비중이 높을 것이다.

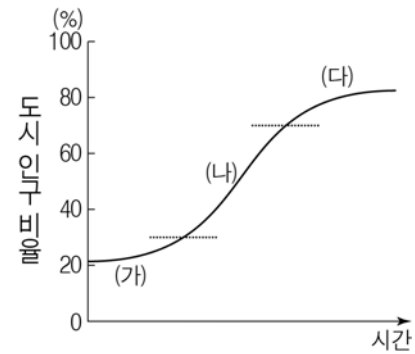
- ① ㄱ, ㄴ ② ㄱ, ㄷ ③ ㄴ, ㄷ
 ④ ㄴ, ㄹ ⑤ ㄷ, ㄹ

12. 다음 자료는 세 국가의 주요 종교 경관이다. (가)~(다) 종교에 대한 설명으로 옳은 것은?



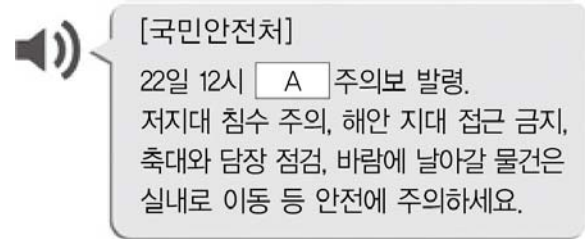
- ① (가)는 연꽃, 탑, 보리수 등과 관련이 있다.
 ② (나)의 신자들은 돼지고기와 술을 금기시 한다.
 ③ (다)의 신자들은 라마단 기간 중 금식을 한다.
 ④ (가)는 메카, (다)는 예루살렘이 성지이다.
 ⑤ (나)는 (가)보다 유럽에서 신자 수의 비중이 높다.

13. 그래프는 도시화 단계를 나타낸 것이다. (가)~(다)에 대한 설명으로 옳지 않은 것은? [3점]



- ① (가)는 3차 산업 종사자 비율이 가장 높다.
 ② (나)는 이촌 향도 현상이 뚜렷하게 나타난다.
 ③ (다)에서는 역도시화 현상이 나타나기도 한다.
 ④ (가)에서 (다)로 갈수록 도시의 수가 증가한다.
 ⑤ (나)는 (다)보다 도시 인구 증가 속도가 빠르다.

14. 다음 자료는 긴급 재난 문자 내용이다. A와 관련된 내용으로 옳은 것은?



- ① 난방용 전력 소비량이 급증한다.
 ② 건조한 날씨가 지속되어 용수가 부족해진다.
 ③ 적도 부근의 바다에서 발달하는 열대 저기압이다.
 ④ 짧은 시간에 많은 눈이 내려 시설물을 붕괴시킨다.
 ⑤ 주로 봄철에 발생하며 호흡기 질환의 원인이 된다.

15. 다음 자료는 형성 평가지의 일부이다. 학생이 옳게 표시한 것을 고른 것은? [3점]

신·재생 에너지의 특징

1학년 □반 이름 : ○○○

※ (가)~(다) 발전 양식에 대한 설명이 옳으면 '예', 틀리면 '아니요'에 √표를 하시오. (단, (가)~(다)는 지열, 태양광, 풍력 중 하나임.)

(가)	(나)	(다)
1. (가)는 일사량이 풍부한 지역이 발전에 유리하다. 예 □ 아니요 <input checked="" type="checkbox"/> ㉠	2. (나)는 바람이 세고 일정한 산지나 해안 지역에 주로 입지한다. 예 <input checked="" type="checkbox"/> 아니요 □ ㉡	3. (다)는 마그마에 의해 가열된 수증기를 이용해 전력을 생산한다. 예 <input checked="" type="checkbox"/> 아니요 □ ㉢
4. (가)는 (나)보다 발전 과정에서 소음이 많이 발생한다. 예 <input checked="" type="checkbox"/> 아니요 □ ㉣		

- ① ㉠, ㉡ ② ㉠, ㉢ ③ ㉡, ㉣
 ④ ㉢, ㉣ ⑤ ㉢, ㉣

16. 다음 자료의 A, B 지역에 대한 옳은 설명을 <보기>에서 고른 것은? [3점]

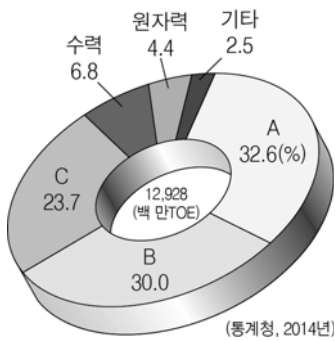


<보 기>

ㄱ. A는 중심 업무 기능이 발달되어 있다.
 ㄴ. B는 도시 내에서 땅값이 가장 비싸다.
 ㄷ. A는 B보다 인구 공동화 현상이 뚜렷하다.
 ㄹ. B는 A보다 초등학교 학급 수가 적다.

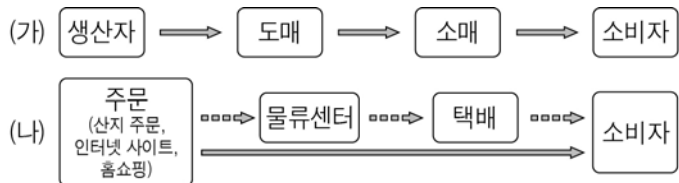
- ① ㄱ, ㄴ ② ㄱ, ㄷ ③ ㄴ, ㄷ
 ④ ㄴ, ㄹ ⑤ ㄷ, ㄹ

17. 그래프는 세계 에너지 자원의 소비 비중을 나타낸 것이다. A~C 자원에 대한 설명으로 옳은 것은? (단, A~C는 석유, 석탄, 천연가스 중 하나임.) [3점]



- ① A는 산업혁명 당시 주요 연료로 이용되었다.
 ② B는 주로 자동차 연료 및 화학 공업의 원료로 이용된다.
 ③ C는 냉동 액화 기술의 발달로 소비량이 증가하였다.
 ④ B는 A보다 일부 지역에 편중되어 국제 이동량이 많다.
 ⑤ C는 B보다 연소 시 대기 오염 물질 배출량이 많다.

18. 그림은 두 가지 유형의 상거래 방식을 나타낸 것이다. (가)에 대한 (나)의 상대적 특징으로 옳은 것을 <보기>에서 고른 것은?



<보 기>

ㄱ. 유통 비용이 많이 든다.
 ㄴ. 상품의 판매 범위가 넓다.
 ㄷ. 무점포 상점의 비중이 낮다.
 ㄹ. 상품 구입의 시간적 제약이 작다.

- ① ㄱ, ㄴ ② ㄱ, ㄷ ③ ㄴ, ㄷ
 ④ ㄴ, ㄹ ⑤ ㄷ, ㄹ

19. 다음 글과 같은 현상이 지속될 경우 나타나게 될 변화로 적절한 것은?

지난 100년간 세계 평균 기온이 0.75℃ 상승하여 망고, 멜론, 구아바 등의 열대작물 재배 가능 지역이 크게 확대되고 있다. 특히 우리나라는 세계 평균 기온 상승폭보다 큰 1.5℃ 가량 상승하여 제주도에서만 생산이 가능했던 감귤과 한라봉이 전라북도 김제, 경기도 이천에서도 재배되고 있다.



- ① A, B ② A, C ③ B, C
 ④ B, D ⑤ C, D

20. 다음 자료는 학생이 수업 시간에 정리한 노트의 일부이다. ㉠~㉤에 대한 설명으로 옳지 않은 것은? [3점]

<우리의 소중한 영토, ○○>

○ 지리적 특성
 - 위치 : ㉠ 37°14'N, 131°52'E
 - 기후 : 바다의 영향을 많이 받아 ㉡ 해양성 기후가 나타남.
 - 지형 : _____ ㉢ _____

○ 지역의 가치
 - 경제적 가치 : _____ ㉣ _____
 - 환경·생태적 가치 : _____ ㉤ _____

- ① ㉠ - 우리나라의 가장 동쪽에 위치한 섬이다.
 ② ㉡ - 비슷한 위도의 내륙보다 기온의 연교차가 크다.
 ③ ㉢ - 용암이 분출하여 형성된 화산섬이다.
 ④ ㉣ - 주변 바다는 조경 수역으로 어족 자원이 풍부하다.
 ⑤ ㉤ - 독특한 생태계를 이뤄 천연 보호 구역으로 지정되었다.

* 확인 사항
 ○ 답안지의 해당란에 필요한 내용을 정확히 기입(표기)했는지 확인하시오.