

제 4 교시

한국사

성명

수험 번호 **2**

1. (가)에 해당하는 유물로 가장 적절한 것은?

○○○ 시대의 생활

- 유적 · 유물
 - 고인돌, 돌널 무덤
 - (가), 반달 돌칼
- 사회 모습
 - 빈부의 격차와 계급 발생
 - 국가 출현



2. (가) ~ (마)에 들어갈 내용으로 적절하지 않은 것은? [3점]

◆ 과정 평가 계획서 ◆

- 주제 : 고대 국가의 사회와 경제
- 학생 활동 : 인터넷으로 자료를 검색하여 보고서 작성
- 모듈별 주제

구분	주제	검색어
1모듈	고구려의 구휼 제도	(가)
2모듈	신라의 상업 정책	(나)
3모듈	가야의 경제 발전	(다)
4모듈	발해의 대외 무역	(라)
5모듈	통일 신라의 수취 제도	(마)

- 평가 방법 : 자기 평가 및 동료 평가

- ① (가) - 진대법
- ② (나) - 동시전
- ③ (다) - 은병(활구)
- ④ (라) - 신라도
- ⑤ (마) - 민정 문서

3. (가), (나) 사이 시기에 있었던 사실로 옳은 것은?

(가) 소수림왕은 불교를 수용하였으며, 태학을 설립하여 인재 양성에 힘썼다. 또한 율령을 반포하여 국가 체제를 정비하였다.

(나) 장수왕은 남진 정책을 추진하여 평양으로 수도를 옮겼으며, 남한강 유역으로 진출하여 한반도 중부 지역까지 영토를 확장하였다.

- ① 대조영이 발해를 건국하였다.
- ② 고이왕이 한강 유역을 장악하였다.
- ③ 성왕이 관산성 전투에서 전사하였다.
- ④ 광개토 대왕이 신라에 침입한 왜를 격퇴하였다.
- ⑤ 신문왕이 관료제를 지급하고 녹읍을 폐지하였다.

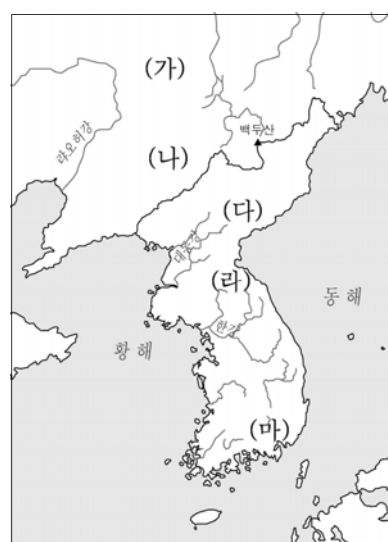
4. (가) 국가에 대한 설명으로 옳은 것은?

(가)은/는 처음에 왕들이 학생들을 자주 당나라에 보내어 고급의 제도를 배우도록 하였는데, 지금에 이르러 해동성국이 되었다. 그 영역을 5경 15부 62주로 나누었다. 숙신 옛 땅에 상경을 두고 용천부라 하였는데, 용·호·발 3주를 거느렸다.

- ① 수도를 강화도로 옮겼다.
- ② 국호를 남부여로 바꾸었다.
- ③ 동맹이라는 제천 행사를 열었다.
- ④ 천군이 다스리는 소도를 두었다.
- ⑤ 고구려 계승 의식을 표방하였다.

5. 밑줄 친 '이 나라'가 있었던 지역을 지도에서 옳게 고른 것은?

이 나라는 철기 문화를 배경으로 5부족 연맹 왕국으로 성장하였으며, 왕이 죽으면 사람을 함께 묻는 순장의 풍습이 있었다. 매년 12월에 영고라는 제천 행사를 열었으며, 특산물로 말과 모피 등이 있었다.





- ① (가)
- ② (나)
- ③ (다)
- ④ (라)
- ⑤ (마)

6. 다음 특별전에서 볼 수 있는 문화유산으로 가장 적절한 것은?

[3점]

‘○○의 세계 유산’ 특별전 기획안

- 목적: ○○ 역사 유적 지구의 유네스코 세계 유산 등재 2주년을 기념하여 공주, 부여, 익산에서 발굴된 대표 유물을 전시함.
- 일시: 2017년 △월 △△일 ~ △월 △△일
- 장소: □□ 박물관
- 전시 유물

 옷칠 갑옷	<ul style="list-style-type: none"> • 공주 공산성 성안마을에서 출토됨. • 의자왕 재위 시기인 ‘정관19년(645년)’이라는 명문이 새겨져 있음.
 사리장엄구	<ul style="list-style-type: none"> • 익산 미륵사지 석탑의 해체 과정에서 나옴. • 무왕의 부인이 미륵사를 창건했다는 기록이 담겨 있음.


- | | | |
|---|---|---|
| ① 
천마도 | ② 
호우명 그릇 | ③ 
직지심체요절 |
| ④ 
무령왕 금제관식 | ⑤ 
청자 상감 운학문 매병 | |

7. 다음 단체에 대한 설명으로 옳은 것은? [3점]

- 설립 유래
 - 원시 사회의 청소년 집단에서 기원
 - 명칭은 ‘꽃처럼 아름다운 남성’이라는 뜻
- 사회적 역할
 - 교육적·군사적·사교적 기능
 - 계층 간의 갈등 조절 역할
- 대표적 인물: 김유신, 사다함, 관창 등

- ① 무신 정변 이후 최고의 권력 기구였다.
- ② 신기군, 신보군, 향마군으로 구성되었다.
- ③ 진흥왕 때 국가적인 조직으로 개편되었다.
- ④ 귀족 회의 기구로 국가의 중대사를 결정하였다.
- ⑤ 국방 문제를 담당하는 임시 기구로 만들어졌다.

8. 다음 문화유산에 대한 설명으로 옳은 것은?

	이 대장경판은 무신 집권기에 제작되어 현재 해인사에 보존되어 있다. 방대한 내용을 담으면서도 오자나 탈자가 거의 없고, 글씨체 또한 아름다워 세계에서 뛰어난 문화재로 손꼽힌다.
---	--

- ① 금속 활자의 우수성을 보여 준다.
- ② 단군 신화의 내용이 기록되어 있다.
- ③ 대각 국사 의천의 주도로 만들어졌다.
- ④ 몽골을 물리치려는 염원을 담아 제작되었다.
- ⑤ 불국사 3층 석탑 복원 과정에서 발견되었다.

9. (가) 국왕이 시행한 정책으로 옳은 것은? [3점]

역사 인물 카드

(가)


- 재위 기간: 918년 ~ 943년
- 주요 업적
 - 후삼국 통일
 - 발해 유민 수용
 - 북진 정책으로 영토 확장

- ① 국학 설립
- ② 과거제 실시
- ③ 교정도감 설치
- ④ 9서당 10정 정비
- ⑤ 사심관 제도 시행

10. 교사의 질문에 대한 학생의 대답으로 가장 적절한 것은?

1	이별찬	자색	6두품
2	이 찬		
3	잡 찬		
4	파진찬		
5	대이찬	비색	5두품
6	아 찬		
7	일김찬		
8	사 찬	청색	4두품
9	글별찬		
10	대나마		
11	나 마		
12	대 사		
13	사 지		
14	김 사		
15	대 오		
16	소 오		
17	조 위		
등급	관등명	공복	관등

이 표를 통해 알 수 있는 신분제에 대해 말해 볼까요?



- ① 음서제가 시행되었어요.
- ② 상수리 제도를 계승하였어요.
- ③ 혈연보다 능력을 중시하였어요.
- ④ 신분 간의 이동이 자유로웠어요.
- ⑤ 개인의 정치 활동 범위를 규제하였어요.

고 2

11. (가)에 들어갈 내용으로 가장 적절한 것은? [3점]

한국사신문 00호

국보 반가사유상의 만남



우리나라의 금동 미륵보살 반가사유상과 주구사(中宮寺)의 목조 반가사유상이 양국의 국교정상화 50주년을 기념하여 한 자리에 전시되었다.

반가사유상은 인도 간다라 지역에서 처음 등장하여 중앙아시아를 거쳐 우리나라로 전해졌는데, 우리나라의 반가사유상은 대부분 미륵보살을 표현한 것으로 추정된다. 아스카 시대에 제작된 주구사(中宮寺)의 반가사유상은 한반도에서 전래된 것을 재해석한 것이다. 이번 전시회를 통해 (가)

- ① 남북국 시대의 대외 관계를 알 수 있다.
- ② 삼국 문화의 일본 전파를 확인할 수 있다.
- ③ 고려와 송의 문화 교류를 이해할 수 있다.
- ④ 나·당 동맹의 결성 과정을 살펴볼 수 있다.
- ⑤ 고조선의 중계 무역 실상을 파악할 수 있다.

12. (가)에 들어갈 내용으로 가장 적절한 것은? [3점]

이 유물은 무기와 농기구 제작에 사용되었고, 화폐로도 쓰였던 덩이쇠야.


그래, 변한에서 발전한 연맹 왕국의 중심지인 김해 지역에서 발견되었어.

이처럼 풍부한 철과 해상 교통의 이점을 기반으로 발전한 이 나라는 (가)



- ① 신라에 병합되었어.
- ② 8조법을 제정하였어.
- ③ 책화라는 풍습이 있었어.
- ④ 22담로에 왕족을 파견하였어.
- ⑤ 9주 5소경 체제를 정비하였어.


13. 밑줄 친 ‘그’가 활동한 시기에 있었던 사실로 옳은 것은?



그는 원나라에 가서 주희의 저서를 직접 배끼고, 공자와 주희의 모습을 그려 가지고 돌아왔다. 그는 “주희의 저서를 읽어 보니, ... (중략) ... 공적이 죽히 공자에 비할 수 있다. 공자를 배우려면 먼저 주희를 배우는 것이 제일이다.”라고 하며 인간의 심성과 우주의 원리를 탐구하는 성리학을 우리나라에 처음으로 들여왔다.

- ① 화엄종이 창시되었다.
- ② 삼국유사가 편찬되었다.
- ③ 충주 고구려비가 세워졌다.
- ④ 황룡사 9층 목탑이 건립되었다.
- ⑤ 석굴암 본존 불상이 제작되었다.

14. 다음 자료에 해당하는 신분에 대한 설명으로 옳은 것은? [3점]



밑줄 친 부분은 귀족과 양민 사이에 있는 신분 계층으로, 고려 시대에 새롭게 등장하였다. 이들은 자신이 담당하던 업무를 세습적으로 물려받았고, 그 대가로 국가로부터 토지를 지급 받았다.

- ① 매매, 증여, 상속의 대상이었다.
- ② 왕실과 중첩된 혼인 관계를 맺었다.
- ③ 여러 대에 걸쳐 고위 관직을 독점하였다.
- ④ 향리, 남반, 기술관, 역리 등이 여기에 속했다.
- ⑤ 특수 행정 구역에 살며 거주 이동의 자유가 없었다.

15. (가)에 들어갈 내용으로 옳은 것은?

(가)

- 배경: 문벌 귀족 사회의 내부 모순
- 사상: 풍수지리설에 근거
- 주장: 칭제건원, 금국 정벌 등
- 결과: 김부식이 이끄는 관군에 의해 진압
→ 문벌 귀족 세력의 보수적 성향 강화

- ① 무신 정변
- ② 김흠돌의 난
- ③ 이자겸의 난
- ④ 망이·망소이의 난
- ⑤ 묘청의 서경 천도 운동

16. 다음 가상 대화가 이루어진 시기를 연표에서 고른 것은? [3점]

918	936	1126	1170	1270	1392
(가)	(나)	(다)	(라)	(마)	
고려 건국	후삼국 통일	이자겸의 난	무신 정변	개경 환도	고려 멸망

① (가) ② (나) ③ (다) ④ (라) ⑤ (마)

17. 다음 두 정책의 공통된 목적으로 옳은 것은?

- 광종은 후삼국 시대의 혼란기에 호족들에 의해 불법적으로 노비가 된 자를 조사하여 양인으로 해방시키는 노비안검법을 시행하였다.
- 공민왕은 전민변정도감을 설치하여 권문세족이 부당하게 빼앗은 토지와 노비를 본래의 소유주에게 돌려주거나 양인으로 해방시켰다.

- ① 영토의 확장
- ② 유학의 진흥
- ③ 대외 무역의 확대
- ④ 지방 행정 조직 정비
- ⑤ 국가 재정 수입 확대

18. 다음 제문이 쓰였던 시기의 사회 모습으로 옳지 않은 것은? [3점]

이규보는 돌아가신 장인 대부경 진공의 영전에 제사를 올립니다. ...**(중략)**... 아! 슬픔입니다. 이전에 친영은 부인이 사위에게 가는 것이므로 부인의 집에 도움 받는 것이 거의 없었습니다. 지금은 부인과 결혼하면 남자가 여자의 집으로 가 모든 것을 부인의 집에 의지하니 장모와 장인의 은혜가 천부모님 같습니다.

- 『동국이상국집』 -

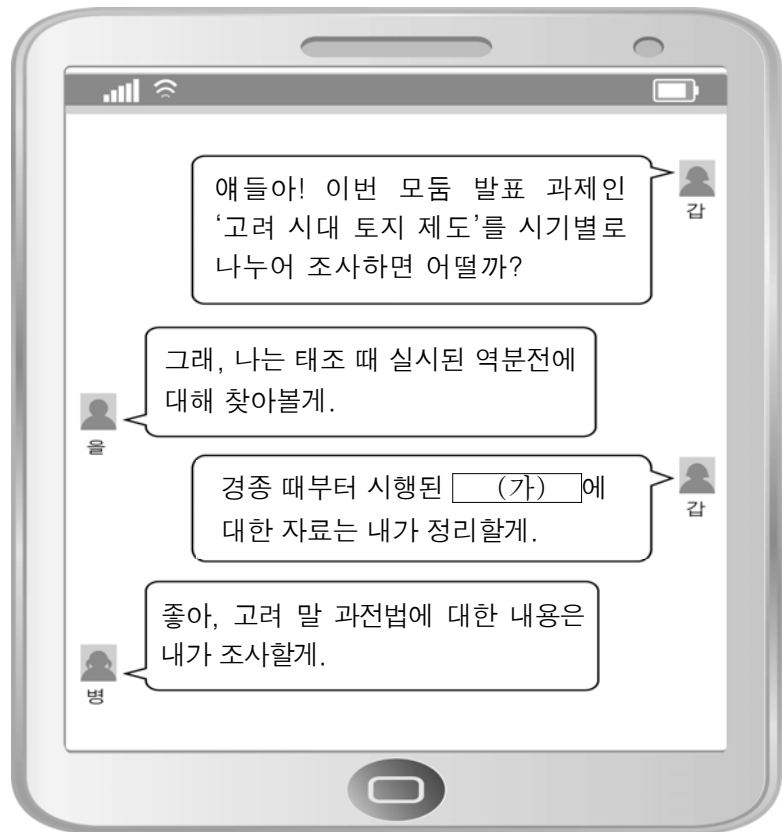
- ① 여성의 재혼이 금지되었다.
- ② 아들이 없을 경우 딸이 제사를 지냈다.
- ③ 사위가 처가의 호적에 오르기도 하였다.
- ④ 자녀는 태어난 순서대로 호적에 기재되었다.
- ⑤ 부모의 유산은 아들과 딸에게 고르게 상속되었다.

19. 지도를 통해 추론할 수 있는 당시의 경제 활동으로 적절한 것은? [3점]



- ① 신라방이 산둥 반도에 설치되었다.
- ② 벽란도가 국제 무역항으로 번성하였다.
- ③ 중국과의 교류로 명도전이 유입되었다.
- ④ 일본도를 통해 발해와 일본이 교류하였다.
- ⑤ 청해진이 해상 무역의 중심지로 발전하였다.

20. (가) 제도에 대한 설명으로 가장 적절한 것은?



- ① 전지와 시지를 지급하였다.
- ② 지급 대상은 일반 농민이었다.
- ③ 신진 사대부의 경제적 기반이 되었다.
- ④ 지급된 토지는 세습되는 것이 원칙이었다.
- ⑤ 노동력을 징발할 수 있는 권리를 함께 부여하였다.

※ 확인 사항
○ 답안지의 해당란에 필요한 내용을 정확히 기입(표기)했는지 확인하십시오.