

제 4 교시

# 한국사 영역


1. (가)에 들어갈 유물로 가장 적절한 것은?

**- 신석기 시대 특별전 -**

♣ 전시 개요  
신석기 시대 사람들은 농경과 목축을 시작하고, 돌괭이, 돌삽 등 농기구와 토기를 만들어 사용하였습니다. 이번 전시회에서는 신석기 시대의 생활 모습을 보여주는 다양한 유물을 볼 수 있습니다.

(가)

◆ 기간: 2017년 9월 ○일 ~ 9월 ○○일  
◆ 장소: □□ 박물관



2. (가)에 들어갈 내용으로 옳은 것은?

**지식 Q&A**

**질문** (가)에 대해 알려 주세요.

**답변** (가)은 훌륭한 유학자를 제사 지내고 학문과 사상을 연구하던 곳입니다. 우리나라에서는 종종 때 풍기 군수 주세붕이 세운 것이 시초이며, 향촌의 문화 수준을 높이고 정치 여론을 형성하는데 기여하였습니다.

- ① 태학    ② 서원    ③ 경당    ④ 성균관    ⑤ 주자각

3. 밑줄 친 '왕'의 업적으로 옳은 것은? [3점]

- 왕의 이름은 거련이다. 광개토 대왕의 아들로 몸과 얼굴이 크고 잘생겼으며 뜻과 기운이 뛰어났다. 광개토 대왕 18년에 태자가 되었고, 4년 뒤 광개토 대왕이 서거하여 즉위하였다.
- 왕이 군사 3만을 거느리고 백제를 공격하여 도읍인 한성을 점령하였다. 백제 개로왕을 죽이고 남녀 8천 명을 포로로 삼아 돌아왔다.

- ① 균역법을 시행하였다.  
② 수도를 평양으로 옮겼다.  
③ 2성 6부제를 마련하였다.  
④ 독서삼품과를 실시하였다.  
⑤ 쌍성총관부를 공격하였다.


4. (가) 국가에 대한 설명으로 옳은 것은? [3점]

**우편엽서**

친구야, 안녕?

나는 오늘 아침에 헤이룽장 성 닝안에 도착했어. 이곳은 대조영이 건국한 (가)의 수도 상경성이 있었던 곳이야. 이곳에 남아 있는 유물·유적 중에서 고구려의 영향을 받은 대형 석등이 가장 기억에 남아. 내일은 둔화로 이동해 동모산을 답사할 예정이야. 건강히 잘 지내.

△△이가



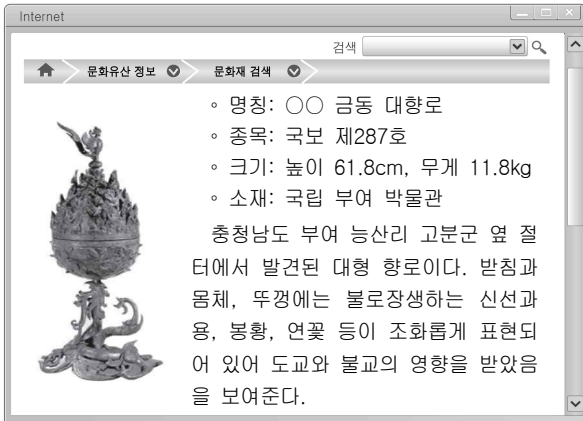
- ① 고구려를 계승하였음을 표방하였다.  
② 매소성 전투에서 당나라 군대를 물리쳤다.  
③ 강화도로 천도하여 대몽 항쟁을 전개하였다.  
④ 명과 후금 사이에서 중립 외교 정책을 취하였다.  
⑤ 한과 한반도 남부의 진 사이에서 중계 무역을 하였다.

5. 밑줄 친 '이 나라'에 대한 설명으로 옳은 것은?

이 나라는 송화 강 유역의 넓은 평야 지대에서 5부족이 연합한 연맹 왕국 형태로 성장하였다. 왕 아래에는 가축의 이름을 딴 마가, 우가, 저가, 구가의 부족장이 있었고, 이들은 사출도라 불린 행정 구역을 각각 다스렸다.

- ① 대가야를 병합하였다.  
② 6조 직계제를 시행하였다.  
③ 영고라는 제천 행사를 열었다.  
④ 칠지도를 왜왕에게 하사하였다.  
⑤ 마립간이라는 왕호를 사용하였다.

6. 다음 유물을 제작한 국가에 대한 설명으로 옳은 것은? [3점]



- ① 옥저를 정복하였다.
- ② 22담로를 설치하였다.
- ③ 국자감을 정비하였다.
- ④ 우산국을 정벌하였다.
- ⑤ 호패법을 시행하였다.

7. (가)~(마) 중 발표 주제로 적절하지 않은 것은? [3점]

제○○회 정기 학술 발표 대회

### 조선 후기 '정조의 개혁 정치'

[발표 주제]

1. 정치적 이상을 담은 화성 ..... (가)
2. 군사 기반 확보를 위한 장용영 ..... (나)
3. 개혁 세력 양성을 위한 초계문신제 ..... (다)
4. 자유로운 상업 활동을 보장한 통공 정책 ..... (라)
5. 영토 확장을 대내외에 알린 북한산 순수비 ..... (마)

◆ 일시: 2017년 ○월 ○일 ○○시  
◆ 장소: □□대학교 대강당

△△ 한국사 연구회

- ① (가)    ② (나)    ③ (다)    ④ (라)    ⑤ (마)

8. (가)에 해당하는 계층으로 옳은 것은?

고려 성종 이후 중앙 집권 체제가 확립되면서 새로운 지배층이 형성되었다. 이들 중 여러 세대에 걸쳐 고위 관직자를 배출한 가문을 [가](이)라 한다. 이들은 과거와 음서를 통하여 고위 관직을 독점하였고, 세습이 허용되는 공음전을 받아 안정된 경제 기반을 확보하였다. 경원 이씨와 파평 윤씨 등이 대표적인 가문이다.

- ① 호족                      ② 진골                      ③ 6두품
- ④ 문벌 귀족              ⑤ 신진 사대부

9. 다음 퀴즈에서 묻는 국왕의 업적으로 옳은 것은? [3점]

# 한국사 골든벨 ○○번 문제

다음 힌트를 통해 알 수 있는 국왕은 누구일까요?

힌트1. 왕건의 넷째 아들  
힌트2. 과거제 실시  
힌트3. 백관의 공복 제정  
힌트4. 광덕, 준풍 등 독자적 연호 사용

- ① 5소경을 정비하였다.
- ② 경국대전을 완성하였다.
- ③ 4군과 6진을 개척하였다.
- ④ 노비안검법을 시행하였다.
- ⑤ 전국에 12목을 설치하였다.

10. (가)에 해당하는 토지 제도로 옳은 것은?



- ① 정전    ② 식읍    ③ 과전법    ④ 전시과    ⑤ 직전법

11. 다음 상황이 전개된 시기를 연표에서 옳게 고른 것은? [3점]

신돈은 “권문세족이 나라의 토지와 힘없는 백성의 토지를 모두 빼앗고, 양민을 자신의 노비로 삼고 있다. 백성이 고통을 받고 국가 재정이 어려워지니 큰 문제가 아닐 수 없다. 이에 전민변정도감을 설치하고 기한을 정하여 이를 시정하고자 한다.”라고 하였다. 이에 따라 권문세족이 빼앗았던 토지를 원래 주인에게 돌려주고 억울하게 노비가 된 백성을 원래 신분으로 되돌리니, 나라의 백성들이 기뻐하였다.

	(가)	(나)	(다)	(라)	(마)
고려 건국	무신 정변	몽골 침입	개경 환도	공민왕 즉위	조선 건국

- ① (가)    ② (나)    ③ (다)    ④ (라)    ⑤ (마)

12. 다음 격문이 발표된 시기에 있었던 사실로 옳은 것은?

무릇 관서 지방은 성인 기자의 옛 터요, 단군 시조의 옛 근거지로서 벼슬아치가 많이 나오고 문물이 발달한 곳이다. 그러나 조정에서 평안도를 버림이 더러움 흠과 다름없다. 심지어 권세 있는 집의 노비들도 평안도 사람을 보면 반드시 ‘평안도 놈’이라고 한다. 어찌 억울하고 원통하지 않겠는가. …(중략)… 이제 격문을 띄워 먼저 여러 고을의 수령에게 알리노니, 절대로 동요하지 말고 성문을 활짝 열어 우리 군대를 맞으라.

- 평서대원수 홍경래 -

- ① 삼별초가 조직되었다.  
 ② 진대법이 실시되었다.  
 ③ 세도 정치가 전개되었다.  
 ④ 팔만대장경이 조판되었다.  
 ⑤ 진골 간의 왕위 다툼이 일어났다.


13. (가)에 들어갈 내용으로 옳은 것은?

**삼국사기에 기록된 ○○왕의 주요 업적**

○ 왕 4년 병부를 설치하였다.  
 ○ 왕 7년 율령을 반포하고 공복 제도를 정하였다.  
 ○ 왕 15년 불교를 공인하였다.  
 ○ 왕 19년 (가)  
 ○ 왕 23년 건원이라는 연호를 제정하였다.

- ① 대마도를 정벌하였다.  
 ② 대동법을 시행하였다.  
 ③ 후삼국을 통일하였다.  
 ④ 한양으로 천도하였다.  
 ⑤ 금관가야를 병합하였다.

14. 밑줄 친 ‘과인’의 재위 기간에 있었던 사실로 옳은 것은?



- ① 탕평책이 실시되었다.  
 ② 석굴암이 조성되었다.  
 ③ 집현전이 설치되었다.  
 ④ 동북 9성이 축조되었다.  
 ⑤ 동의보감이 편찬되었다.

15. (가)에 들어갈 내용으로 가장 적절한 것은? [3점]

**탐구 활동 계획서**

○○고등학교 1학년 1반

◎ 탐구 주제: (가)

◎ 조사 방법: 인터넷 검색 및 문헌 조사

◎ 조사 내용

모듬	내 용
1모듬	지배층의 위선을 풍자한 탈놀이
2모듬	사람의 감정을 솔직하게 표현한 사설시조
3모듬	민중의 소원을 담아 생활 공간을 장식한 민화
4모듬	사회 모순과 양반 부조리를 비판한 한글 소설

- ① 고려 후기 성리학의 수용  
 ② 통일 신라 귀족의 경제생활  
 ③ 조선 후기 서민 문화의 발달  
 ④ 삼국 시대 도교 사상의 유행  
 ⑤ 조선 전기 농본주의 경제 정책

16. 다음 자료에 해당하는 인물로 옳은 것은?

**한국사 인물 카드 - ○○** 고려 편

- 속명: 왕후
- 생몰: 1055년 ~ 1101년
- 시호: 대각각사
- 주요 활동
  - 교장 간행
  - 국청사 창건
  - 해동 천태종 창시
  - 교종 중심의 선종 통합 운동 전개




- ① 이황                      ② 의상                      ③ 의천
- ④ 안향                      ⑤ 지눌

17. 밑줄 친 '전쟁'의 영향으로 옳은 것은? [3점]

**역사신문**

**남해에서 올라온 조선 수군의 승전보**



이순신이 이끈 조선 수군은 옥포, 당포, 한산도 해전 등에서 큰 승리를 거두어 전쟁의 판세를 바꾸고 있다. 이처럼 조선 수군이 승리를 거둘 수 있었던 원동력은 무엇보다도 이순신의 뛰어난 전략과 전술에 있다고 할 것이다. 또한 거북선, 판옥선 등 우수한 전함과 위력적인 화포도 일본의 수군을 압도한 것으로 분석된다.

- ① 별무반이 조직되었다.
- ② 북벌 운동이 추진되었다.
- ③ 개경에 나성이 축조되었다.
- ④ 백두산정계비가 건립되었다.
- ⑤ 명이 쇠퇴하고 여진족이 성장하였다.

18. (가) 기구로 옳은 것은?

◎ 조선 후기 통치 체제의 변화

1. [가]의 기능 강화


가. 설치: 종종 때 외적 방어를 위한 임시 기구로 설치나. 변화

- 1) 을묘왜변을 계기로 상설 기구화
- 2) 임진왜란을 거치며 국정 총괄 기구로 확대

다. 영향: 왕권 약화, 의정부와 6조 기능 약화

- ① 중추원                      ② 비변사                      ③ 집사부
- ④ 승정원                      ⑤ 식목도감

19. 다음 자료가 만들어진 시기의 사회 모습으로 옳지 않은 것은? [3점]




이 준호구는 충숙왕 2년에 작성된 것으로 관청에서 개인의 호적 사항을 증명해 준 문서이다. 호주 낙랑군 부인 최씨(60세), 장남 이운배(32세), 차남 이운성(28세), 3남 이운방(24세), 4남 이혜근(19세) 등의 내용을 통해 여성도 호주가 될 수 있었음을 알 수 있다.

<여주 이씨 준호구>

- ① 일부일처제의 혼인 관계가 일반적이었다.
- ② 부모의 재산이 자녀에게 고르게 상속되었다.
- ③ 부모 봉양과 제사는 자녀가 함께 의무를 졌다.
- ④ 아들이 없는 경우 양자를 들이는 것이 일반적이었다.
- ⑤ 아들과 딸은 구분 없이 태어난 순서대로 호적에 기재되었다.

20. (가)에 들어갈 내용으로 가장 적절한 것은? [3점]



이 그림은 경직도의 일부로 모내기하는 모습이 그려져 있다. 17세기 이후 모판에서 모를 가꾸어 눈에 옮겨 심는 방식인 모내기법이 전국적으로 보급되었다. 이로 인해 농업 분야에서 변화가 일어났는데, 예를 들면 [가]

- ① 광작이 성행하였다.
- ② 우경이 시작되었다.
- ③ 농사직설이 편찬되었다.
- ④ 목화 재배가 시작되었다.
- ⑤ 2년 3작의 윤작법이 보급되었다.

\* 확인 사항

- 답안지의 해당란에 필요한 내용을 정확히 기입(표기)했는지 확인 하시오.