

사회탐구 영역(사회·문화)

제 4 교시

성명

수험번호

2

1

1. 밑줄 친 ㉠ ~ ㉣과 같은 현상의 일반적인 특징에 대한 설명으로 옳은 것은?

한반도의 기후 변화로 ㉠ 진드기의 서식지가 확대되어 진드기가 옮기는 바이러스에 감염된 환자가 증가하고 있다. 진드기는 풀밭에 매달려 있다가 지나가는 사람이나 동물에 달라붙어 흡혈을 한다. 이때 ㉡ 진드기의 바이러스가 숙주에게 넘어가 감염되는 것이다. 이에 전문가들은 산행을 할 때 가급적 풀숲을 피하고 ㉢ 탐방로를 이용하라고 조언하고 있다.

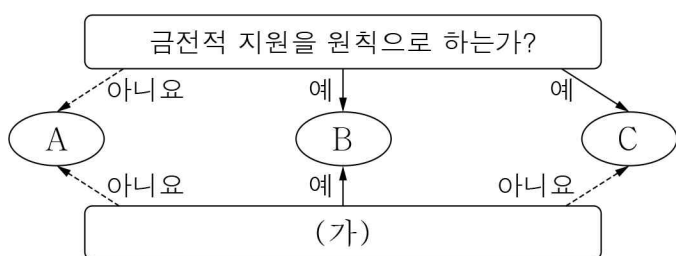
- ① ㉠과 같은 현상은 가치 함축적이다.
- ② ㉡과 같은 현상은 확률의 원리를 따른다.
- ③ ㉢과 같은 현상은 보편성과 특수성이 공존한다.
- ④ ㉠과 같은 현상은 ㉢과 같은 현상과 달리 상위 법칙이 적용된다.
- ⑤ ㉢과 같은 현상은 ㉡과 같은 현상에 비해 인과 관계가 명확하다.

2. 개인과 사회의 관계를 바라보는 관점 (가), (나)에 대한 설명으로 옳은 것은?

(가) 개인들의 생활 규칙을 모아 놓은 것이 사회 규칙이 될 수 없는 것처럼 사회적 사실은 개별적인 인간 행동에 관한 모든 사실을 단순히 합친 것과는 근본적으로 다른 성격을 지닌다.
(나) 단위들의 속성이 전체의 속성을 결정한다. 그러므로 이른바 사회적 사실이라고 일컫는 것도 본질적으로 개인들의 속성에서 비롯된 것에 지나지 않는다.

- ① (가)는 개인에 대한 사회의 구속력을 강조한다.
- ② (가)는 개인의 발전이 곧 사회의 발전이라고 본다.
- ③ (나)는 사회가 개인들의 단순한 집합체 이상이라고 본다.
- ④ (나)는 개인은 사회 속에서만 존재 의미를 지닌다고 본다.
- ⑤ (가)와 (나) 모두 사회가 개인의 외부에 독자적으로 존재한다고 본다.

3. 그림은 우리나라 사회 보장 제도의 유형 A ~ C를 구분한 것이다. 이에 대한 설명으로 옳은 것은? (단, A ~ C는 각각 공공 부조, 사회보험, 사회 서비스 중 하나이다.) [3점]



- ① A는 미래의 위험을 보험의 방식으로 대비한다.
- ② B와 C 모두 국가가 비용을 전액 부담한다.
- ③ A는 B, C와 달리 소득 재분배 효과가 나타난다.
- ④ 국민연금이 B에 해당한다면, 고용 보험은 C에 해당한다.
- ⑤ (가)가 “강제 가입의 원칙이 적용되는가?”라면, 국민 기초 생활 보장 제도는 C에 해당한다.

4. 다음에서 갑이 활용한 연구 방법의 일반적인 특징에 대한 옳은 설명을 <보기>에서 고른 것은? [3점]

연구자 갑은 정서적 방임 상태에 놓인 아동들에게 놀이 치료가 지니는 의미를 이해하고자 하였다. 갑은 아동들의 놀이 치료 과정을 6개월간 관찰하며 이들과 대화를 진행하였다. 이를 통해 놀이 치료 과정에서 나타나는 아동들의 감정 표출과 정서적 변화에 관한 자료를 수집, 해석하였다. 그 결과 갑은 이들에게 놀이 치료는 자신의 내면을 마주하고 드러냄으로써 부정적인 감정을 치유하고 자아상을 변화시키는 경험이었음을 이해할 수 있었다.

< 보기 >

- ㄱ. 방법론적 일원론을 바탕으로 한다.
- ㄴ. 변인 간의 관계에 대한 법칙 발견을 목적으로 한다.
- ㄷ. 행위 이면의 동기와 의미를 파악하는 데 중점을 둔다.
- ㄹ. 연구자의 직관적 통찰 및 감정 이입적 이해를 중시한다.

- ① ㄱ, ㄴ ② ㄱ, ㄷ ③ ㄴ, ㄷ ④ ㄴ, ㄹ ⑤ ㄷ, ㄹ

5. 갑, 을의 문화 이해 태도에 대한 설명으로 가장 적절한 것은?

문화 인류학 자료방

문화 파노라마: 아시아의 부족 문화

인도네시아 수마트라섬 서쪽의 한 부족은 자연에 대한 숭배의 뜻으로 온몸에 문신을 하고, 성인이 되기 전까지 치아를 뾰족하게 갈아 톱니 모양으로 만든다고 한다.

댓글 달기

↳ 갑: 자연을 숭배하기 위해 자신의 몸을 일부러 고통스럽게 하다니 정말 미개한 부족이구나. 이들은 야만성을 버리고 우리의 선진적이고 합리적인 사고방식을 배울 필요가 있겠어.

↳ 을: 이들이 사는 지역은 지진이 잦아 자연에 대한 경외심이 발달할 수밖에 없었어. 또한 문신과 톱니 모양의 치아에는 다른 부족에게 무섭게 보이려는 의도도 반영되어 있어. 각 사회의 문화는 그 사회의 환경과 사회적 맥락에서 비롯된 나름의 의미를 지니고 있다고 봐야 해.

- ① 갑의 태도는 문화 상대주의, 을의 태도는 문화 상대주의이다.
- ② 갑의 태도는 문화의 주체성을 상실할 가능성이 높다.
- ③ 을의 태도는 문화 다양성 보존에 기여할 수 있다.
- ④ 을의 태도는 갑의 태도와 달리 국제적인 고립을 초래할 수 있다.
- ⑤ 갑과 을의 태도 모두 문화의 우열을 평가할 수 있다고 전제한다.

6. 밑줄 친 ㉠ ~ ㉣에 대한 설명으로 옳은 것은? [3점]

가정에 방문하여 아이를 돌봐 주는 아이돌봄서비스로 직장에서는 일에 집중하고, ㉠ 가족의 행복도 찾으세요.

“아이돌봄서비스 실제 이용 후기”

저는 24개월 된 ㉡ 아들을 둔 직장인입니다. 아이가 아플 때마다 어린이집에 아이를 맡기고 ㉢ 회사에 출근을 해야 할지, 집에서 아이를 돌봐야 할지 ㉣ 고민이 되었습니다. 하지만 1년 전부터 아이돌봄서비스를 이용하여 걱정 없이 아이를 키우고 있고, 회사에서는 업무에 집중한 결과 최근에 팀장으로 ㉤ 승진했습니다.



- ① ㉠은 2차적 사회화 기관이다.
- ② ㉡은 성취 지위이다.
- ③ ㉢은 공식적 사회화 기관이다.
- ④ ㉣은 역할 갈등에 해당한다.
- ⑤ ㉤은 역할에 대한 보상이다.

7. 밑줄 친 ㉠ ~ ㉣에 대한 옳은 설명을 <보기>에서 고른 것은?

‘혼밥’(혼자 밥 먹기), ‘혼행’(혼자 여행하기) 등으로 대표되는 ㉠ ‘나홀로 문화’가 최신 트렌드로 자리 잡고 있다. ㉡ 1인 가구 증가와 맞물린 ‘나홀로 문화’는 방송계에도 영향을 미쳤다. 혼자 사는 이들의 생활을 관찰하는 프로그램이 공감을 얻고, ‘떡방’과 ‘쿡방’은 혼자서도 즐겁게 식사할 수 있다는 데 초점을 맞추어 인기를 끌고 있다. 이러한 변화는 삶을 바라보는 우리 사회 구성원들의 시각이 달라지고 있음을 의미한다. 과거에는 전통적인 ㉢ 가족 제도 안에서 가족 공동체 중심의 삶이 우선시되었으나, 최근에는 ㉣ 개인의 삶을 가족 공동체 못지않게 소중하게 여기는 삶의 양식이 확산되고 있다.

< 보기 >

- ㄱ. ㉠에서의 문화는 ‘문화인’에서의 문화와 같이 좁은 의미로 사용되었다.
- ㄴ. ㉡은 문화의 여러 요소들이 상호 유기적으로 결합되어 있음을 보여준다.
- ㄷ. ㉢은 비물질문화에 해당한다.
- ㄹ. ㉣은 주류 문화에 저항하는 반(反)문화이다.

- ① ㄱ, ㄴ ② ㄱ, ㄷ ③ ㄴ, ㄷ ④ ㄴ, ㄹ ⑤ ㄷ, ㄹ

8. 사회 집단 및 사회 조직의 유형 A ~ C에 대한 설명으로 옳은 것은? [3점]


- A ~ C는 각각 비공식 조직, 이익 사회, 자발적 결사체 중 하나이다.
- B 또는 C에 해당하는 집단 및 조직이라면 A에도 해당한다.
- B에 해당하는 집단 및 조직이라면 C에도 해당한다.

- ① A는 자발적 결사체이다.
- ② B는 공식 조직의 존재를 전제로 한다.
- ③ C는 본질 의지를 바탕으로 형성된다.
- ④ A와 B 모두 구성원 간 친밀한 대면 접촉이 지배적이다.
- ⑤ 노동조합은 A, B, C 모두에 해당한다.

9. 사회·문화 현상을 바라보는 갑, 을의 관점에 대한 설명으로 옳은 것은? [3점]

법은 사회 구성원 모두의 합의가 반영된 것으로, 구성원에게 공통의 규범을 제공하여 사회 안정과 통합에 기여합니다.

법은 지배 집단의 가치가 반영된 것으로, 지배 집단이 피지배 집단을 억압하고 통제하는 수단에 불과합니다.



- ① 갑의 관점은 갈등을 사회 변동의 원동력이라고 본다.
- ② 갑의 관점은 사회가 본질적으로 유기체와 유사하다고 본다.
- ③ 을의 관점은 개인이 상황 정의에 기초하여 행동함을 강조한다.
- ④ 을의 관점은 사회 구성 요소 간의 상호 의존적 관계를 중시한다.
- ⑤ 을의 관점은 갑의 관점과 달리 사회 현상의 설명에 있어 구조적 요인을 중시한다.

10. 다음 탐구 활동을 적절하게 수행한 모둠을 고른 것은?

- 탐구 활동: 모둠별로 교육의 기회균등 문제와 관련하여 주어진 진술의 참 또는 거짓을 판별할 수 있는 자료를 수집하시오.
- 활동 결과

모둠	진술	수집한 자료
A	부모의 사회적 지위가 높을수록 자녀 1인당 사교육비 지출액이 크다.	가구 소득 상위 10% 가구의 자녀의 사교육 참여율
B	수도권은 비수도권에 비해 인구 대비 평생 교육 기관 수가 많다.	시·도별 인구와 시·도별 평생 교육 기관 수
C	가구 소득 수준이 높을수록 자녀의 학업 성취도가 높다.	가구의 학력 수준별 자녀의 주당 평균 학습 시간
D	농촌 지역은 도시 지역에 비해 대학 진학률의 남녀 간 격차가 크다.	농촌 지역과 도시 지역 각각의 성별 대학 진학률

- ① A 모둠, B 모둠 ② A 모둠, C 모둠 ③ B 모둠, C 모둠
- ④ B 모둠, D 모둠 ⑤ C 모둠, D 모둠

11. 다음에 나타난 A국과 B국의 문화 변동에 대한 설명으로 옳은 것은?

○ A국의 축제는 본래 자신들의 종교에 기원을 둔 것으로, 많은 이들이 함께 춤을 추며 거리를 행진하는 형태였다. 이후 A국에 노예로 끌려 온 아프리카인들 특유의 춤과 음악이 기존의 축제에 접목되면서 A국의 축제는 독특한 형태로 변화하였다.
○ B국에서는 인터넷을 통해 K-POP이 유행하면서 한류 열풍이 불고 있다. B국 사람들은 자신들의 음악뿐만 아니라 K-POP도 즐기고 있으며, 자신들의 음악 순위와 별도로 K-POP 순위를 소개하는 프로그램도 등장하였다.

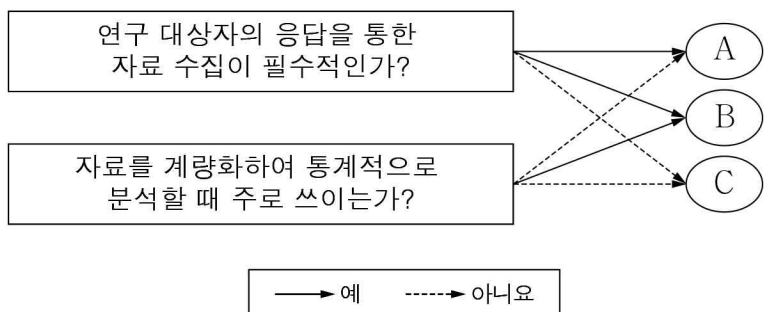
- ① A국에서는 간접 전파에 의한 문화 변동이 나타났다.
- ② A국에서는 문화 접변에 의한 문화 융합이 나타났다.
- ③ B국에서는 강제적 문화 접변에 의한 문화 변동이 나타났다.
- ④ B국에서는 기존의 문화 요소가 외래문화 요소로 대체되었다.
- ⑤ A국에서는 B국과 달리 외재적 요인에 의한 문화 변동이 나타났다.

12. 일탈을 설명하는 두 이론의 공통적인 특징으로 옳은 것은?

○ 자신의 특정한 행위가 일탈로 규정되면서 자신을 일탈자로 보는 타인의 반응을 경험한 사람은 이 경험으로 인해 스스로를 부정적으로 인식하게 된다. 이렇게 형성된 일탈자로서의 정체성은 일탈을 반복하는 원인이 된다.
○ 일탈 집단과의 긴밀한 접촉이 일탈의 원인이 된다. 일탈 집단과 사귀면서 이들로부터 일탈 수법은 물론 일탈을 정당화하는 논리까지 습득한 사람은 일탈에 대한 우호적 태도를 갖게 되어 일탈을 저지르게 된다.

- ① 일탈을 규정하는 절대적인 기준을 강조한다.
- ② 일탈의 해결책으로 일탈자와의 접촉 차단을 제시한다.
- ③ 문화적 목표와 제도적 수단의 괴리를 일탈의 원인으로 본다.
- ④ 사회 구성원 간의 상호 작용 과정을 중심으로 일탈을 설명한다.
- ⑤ 급격한 사회 변화로 인한 규범의 부재를 일탈의 원인으로 본다.

13. 자료 수집 방법 A ~ C의 일반적인 특징에 대한 설명으로 옳은 것은? (단, A ~ C는 각각 면접법, 질문지법, 참여 관찰법 중 하나이다.) [3점]



- ① A는 연구자가 연구 대상자와의 대화를 통해 자료를 수집한다.
- ② B는 문맹자를 대상으로 자료를 수집하기 용이하다.
- ③ C는 시간과 비용 측면에서 효율성이 높다.
- ④ A는 C와 달리 1차 자료를 수집하는 데 사용된다.
- ⑤ C는 B에 비해 자료 수집 도구의 구조화 정도가 높다.

14. 다음 글에 대한 설명으로 가장 적절한 것은?

외모를 가꾸는 것은 남자답지 못하다는 기존의 사회적 통념과 달리 피부 관리를 받거나 화장을 하는 남성들이 늘어나고 있다. 남성의 화장을 낯설게 보는 시선이 여전히 강하지만 젊은 층을 중심으로 남성용 화장품 소비가 증가하고, 남성 화장법을 알려주는 동영상도 많아지고 있다. 한편, 최근 온라인에서 자신의 긴 머리카락을 잘라낸 사진이나 가지고 있던 화장품을 스스로 버린 사진, 화장을 하지 않은 얼굴에 안경을 쓴 사진 등을 의도적으로 올리는 일부 여성들이 주목받고 있다. 이들은 여성에 대한 일반적인 미적 기준에 맞추어 자신을 인위적으로 꾸미는 대신 자연스러움을 추구하고자 한다.

- ① 세대 문화 간의 이질성이 사라진 현상을 보여 주고 있다.
- ② 대중문화 영역에서 발생한 문화 지체 현상을 지적하고 있다.
- ③ 특정 지역의 문화가 전체 문화로 바뀐 과정을 설명하고 있다.
- ④ 대중문화의 상업성으로 인한 문화의 질적 저하를 비판하고 있다.
- ⑤ 한 사회 내의 일부 구성원들이 공유하는 문화의 사례를 보여 주고 있다.

15. 표에 대한 옳은 분석을 <보기>에서 고른 것은? [3점]

<갑국의 성별·학력 수준별 임금 근로자 중 비정규직의 비율>

(단위: %)

구분	고졸 이하	전문대 졸업	4년제 대학 졸업	대학원 졸업
남성	22.3	11.3	6.6	7.3
여성	24.3	15.6	15.6	21.5

* 갑국의 임금 근로자는 정규직과 비정규직으로만 구분함.

< 보 기 >

- ㄱ. 전문대 졸업 이상 학력의 여성 임금 근로자의 과반수가 비정규직이다.
- ㄴ. 대학원 졸업 학력의 비정규직 임금 근로자 수는 남성보다 여성이 많다.
- ㄷ. 모든 학력 수준에서 비정규직 임금 근로자 수보다 정규직 임금 근로자 수가 많다.
- ㄹ. 학력 수준이 높을수록 임금 근로자 중 비정규직의 비율에 있어 성별 격차가 크다.

- ① ㄱ, ㄴ ② ㄱ, ㄷ ③ ㄴ, ㄷ ④ ㄴ, ㄹ ⑤ ㄷ, ㄹ

16. 사회화를 바라보는 관점 (가), (나)에 대한 옳은 설명을 <보기>에서 고른 것은? [3점]

(가) 사회화란 특정 집단의 가치를 보편적인 가치인 것처럼 위장하여 사회 구성원에게 내재화시키는 과정이다. 이러한 과정을 통해 지배 집단에게 유리한 기존 질서가 유지된다.
 (나) 개인의 자아와 인성을 형성해 가는 사회화 과정에서 타인의 반응이 중요한 역할을 한다. 개인은 자신의 행동에 대한 타인의 긍정적 또는 부정적 반응에 기초하여 스스로를 평가하고 이를 통해 자아 정체성을 형성해 간다.

< 보기 >

ㄱ. (가)는 사회화를 통해 불평등 구조가 재생산된다고 본다.
 ㄴ. (나)는 사회화 과정에서 개인의 주관적 의미 부여를 강조한다.
 ㄷ. (나)는 (가)와 달리 사회화의 내용이 기득권층에 의해 결정된다고 본다.
 ㄹ. (가)와 (나) 모두 거시적 관점에 해당한다.

- ① ㄱ, ㄴ ② ㄱ, ㄷ ③ ㄴ, ㄷ ④ ㄴ, ㄹ ⑤ ㄷ, ㄹ

17. 밑줄 친 'A 이론'에 대한 옳은 설명을 <보기>에서 고른 것은?

사회 불평등 현상에 관한 A 이론은 경제적 차원의 계급이 자본주의 사회의 불평등을 설명하는 핵심 개념이라고 보면서도 사회 불평등을 경제적 차원뿐 아니라, 정치적 차원의 당파와 사회적 차원의 지위 집단이라는 개념으로도 설명한다. 각각은 관련성은 있지만 별개의 개념이므로, 경제적 계급을 달리하는 자본가와 노동자도 동일한 지위 집단에 속할 수 있다고 설명한다.

< 보기 >

ㄱ. 지위 불일치 현상을 설명할 수 있다.
 ㄴ. 사회 불평등을 이분화된 계층 구조로 설명한다.
 ㄷ. 다차원적 기준으로 사회 불평등 현상을 분석한다.
 ㄹ. 동일한 경제적 위치에 기반한 구성원 간의 강한 연대 의식을 강조한다.

- ① ㄱ, ㄴ ② ㄱ, ㄷ ③ ㄴ, ㄷ ④ ㄴ, ㄹ ⑤ ㄷ, ㄹ

18. 표는 대중 매체 A ~ C의 일반적인 특징을 비교한 것이다. 이에 대한 설명으로 옳은 것은? (단, A ~ C는 각각 뉴미디어, 음성 매체, 인쇄 매체 중 하나이다.) [3점]

대중 매체의 특징	비교 결과
정보 전달의 양방향성	A > B
청각 정보에 대한 의존도	C > B

- ① A는 C에 비해 정보 제공자와 정보 수용자 간 경계가 명확하다.
 ② B는 A에 비해 정보 전달 과정에서 시공간적 제약이 작다.
 ③ C는 B에 비해 문맹자의 정보 획득 가능성이 크다.
 ④ B, C는 A에 비해 정보 확산의 속도가 빠르다.
 ⑤ A, B, C 모두 영상 매체에 비해 생동감 있는 정보 전달에 유리하다.

19. 밑줄 친 ㉠ ~ ㉣에 대한 옳은 설명을 <보기>에서 고른 것은?

연구자 갑은 고등학생의 ㉠ 논증적 사고력과 수업 방식의 관계를 알아보고자 하였다. 갑은 토론식 수업이 강의식 수업에 비해 논증적 사고력을 향상시키는 효과가 더 클 것이라는 잠정적 결론을 내리고, ㉡ □□고등학교 학생 중에서 성별, 성적 등에서 차이가 나지 않도록 두 집단을 구성하였다. 이들을 대상으로 검사지를 활용하여 ㉢ 연역 추론 능력 지수, 귀납 추론 능력 지수, 유비 추론 능력 지수를 측정 한 후 한 학기 동안 ㉣ A 집단은 강의식으로, ㉣ B 집단은 토론식으로 수업을 진행하였다. 그 후 학생들의 연역 추론 능력, 귀납 추론 능력, 유비 추론 능력을 다시 측정한 결과 B 집단이 A 집단에 비해 논증적 사고력의 향상 정도가 더 크게 나타났으며, 그 차이는 통계적으로 유의미한 수준이었다.

< 보기 >

ㄱ. ㉠ 단계에서는 연구자의 가치가 개입된다.
 ㄴ. ㉡은 모집단이다.
 ㄷ. ㉢은 종속 변수에 대한 조작적 정의가 반영된 것이다.
 ㄹ. ㉣은 실험 집단, ㉣은 통제 집단이다.

- ① ㄱ, ㄴ ② ㄱ, ㄷ ③ ㄴ, ㄷ ④ ㄴ, ㄹ ⑤ ㄷ, ㄹ

20. 다음 자료에 대한 분석으로 옳은 것은? [3점]

갑국의 계층은 A ~ C로만 이루어져 있으며, A ~ C는 각각 상층, 중층, 하층 중 하나이다. 부모 세대는 피라미드형 계층 구조이며, A 비율이 B 비율의 1/2, C 비율의 3배이다. 자녀 세대는 B 비율이 A 비율의 1/3이며, C 비율과는 같다. 모든 부모의 자녀는 1명씩이고, 중층 부모를 둔 자녀 중에서 세대 간 상승 이동을 한 사람과 세대 간 하강 이동을 한 사람의 수가 같다.

<부모 세대 계층 대비 계층 대물림 비율>

부모 세대 계층	상층	중층	하층
계층 대물림 비율(%)	80	80	25

- ① 자녀 세대의 계층 구조는 모래시계형이다.
 ② 세대 간 하강 이동이 세대 간 상승 이동보다 많다.
 ③ 부모와 계층이 일치하는 자녀가 불일치하는 자녀보다 많다.
 ④ 부모 세대 상층에서 자녀 세대 중층으로의 세대 간 이동은 발생하지 않았다.
 ⑤ 자녀 세대의 계층 중에서 세대 간 이동을 한 사람이 가장 많은 계층은 하층이다.

※ 확인 사항

답안지의 해당란에 필요한 내용을 정확히 기입(표기)했는지 확인하십시오.