

제 4 교시

사회탐구 영역(세계 지리)

성명


수험 번호 3

1. 다음 자료의 ㉠~㉣ 중 답이 옳게 표시된 것을 고른 것은?


<형성 평가>

㉠ (가)~(다) 지도에 대한 설명이 옳으면 '예', 틀리면 '아니요'에 표시 하시오.


(가)



(나)



(다)



1 (가)는 지구 구체설을 토대로 제작되었다.
예 아니요 ㉠

2 (다)는 중국 중심의 세계관을 반영하고 있다.
예 아니요 ㉡


3 (가), (나)에는 상상 속의 지역이 표현되어 있다.
예 아니요 ㉢

4 (나)는 지도의 위쪽이 남쪽, (다)는 지도의 위쪽이 동쪽이다.
예 아니요 ㉣

- 1 ㉠, ㉡ 2 ㉠, ㉢ 3 ㉡, ㉢ 4 ㉡, ㉣ 5 ㉢, ㉣


2. 다음 자료는 두 지역의 대표적인 음식 문화를 소개한 것이다. (가) 지역과 비교한 (나) 지역의 상대적 특징을 그림의 A~E에서 고른 것은? [3점]

(가)

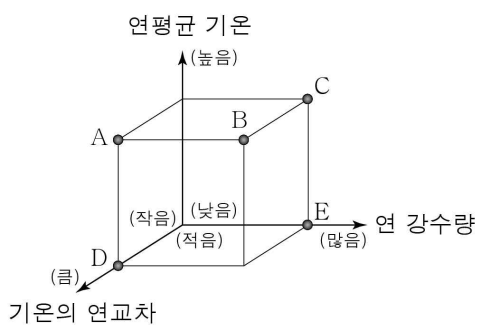


주민들은 전통적으로 생선이나 순록의 고기를 즐겨 먹으며, 냉동, 건조 등 다양한 방법으로 음식을 보관한다.

(나)

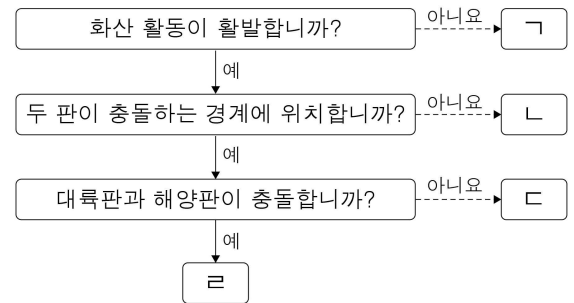
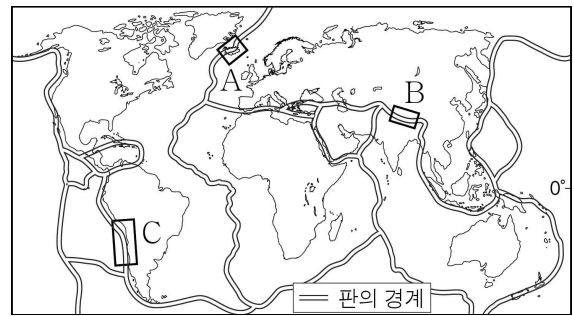


주민들은 다양한 향신료를 넣은 음식을 좋아하며, 새우, 고수, 고추, 라임 등을 넣고 끓인 퐁양꿍을 즐겨 먹는다.



- 1 A
2 B
3 C
4 D
5 E

3. 지도에 표시된 A~C 지역의 특징을 그림의 ㉠~㉣에서 고른 것은? [3점]



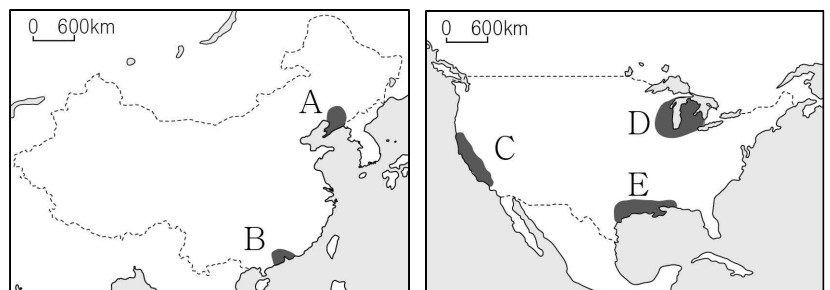
- | | | | | | | | |
|---|---|---|---|--|---|---|---|
| | A | B | C | | A | B | C |
| 1 | ㉠ | ㉡ | ㉢ | | ㉡ | ㉠ | ㉢ |
| 2 | ㉡ | ㉢ | ㉣ | | ㉢ | ㉠ | ㉡ |
| 3 | ㉢ | ㉣ | ㉠ | | ㉣ | ㉡ | ㉠ |
| 4 | ㉣ | ㉠ | ㉡ | | ㉣ | ㉠ | ㉡ |
| 5 | ㉣ | ㉡ | ㉢ | | ㉣ | ㉡ | ㉢ |

4. 다음 글의 (가), (나) 공업 지역을 지도의 A~E에서 고른 것은?

전통 공업 지역들은 기존 산업의 쇠퇴를 극복하기 위해 새로운 산업을 유치하여 부활을 모색하고 있다.


'동양의 루르 지방'으로 알려진 (가) 은/는 풍부한 지하자원을 바탕으로 성장했다. 그러나 중국의 개방 정책 이후 산업 구조의 변화로 침체의 길을 걷다가 최근 자동차, 화학 등의 산업을 유치하고 있다.

'러스트 벨트'라 부르는 미국의 (나) 은/는 과거 풍부한 석탄과 철광석을 바탕으로 공업이 발달했다. 최근에는 지식 산업을 육성하고, 과거의 생산 시설을 새로운 용도로 활용하는 등 도시 재생 사업을 추진하고 있다.



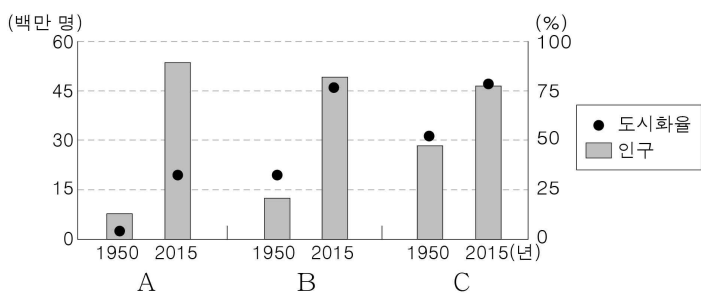
- | | | | | | | | | |
|---|-----|-----|--|-----|-----|--|-----|-----|
| | (가) | (나) | | (가) | (나) | | (가) | (나) |
| 1 | A | C | | A | D | | A | E |
| 2 | A | D | | A | D | | A | E |
| 3 | A | E | | A | E | | A | E |
| 4 | B | D | | B | E | | B | E |
| 5 | B | E | | B | E | | B | E |

5. 다음 자료는 TV 뉴스의 한 장면이다. ㉠에 대한 설명으로 옳은 것은?



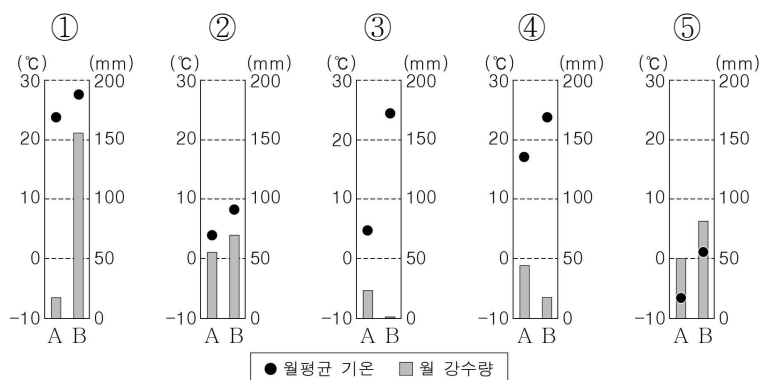
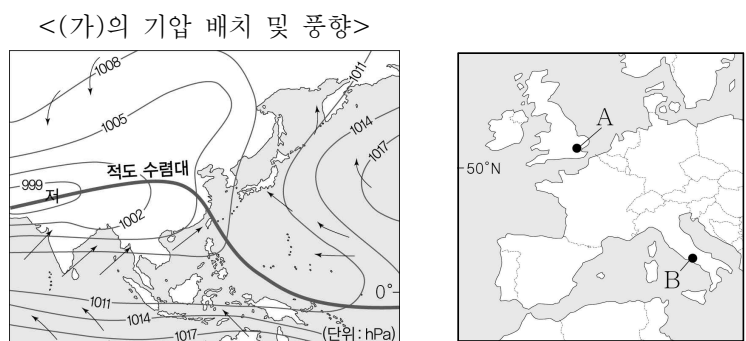
- ① 연 증발량이 연 강수량보다 많다.
- ② 12월에 해가 지지 않는 백야 현상이 나타난다.
- ③ 수목 성장이 가능하여 침엽수림 지대가 분포한다.
- ④ 화학적 풍화 작용이 물리적 풍화 작용보다 활발하다.
- ⑤ 주민들은 순록을 유목하거나 수렵·어업 활동을 한다.

6. 그래프는 세 국가의 시기별 인구 및 도시화율을 나타낸 것이다. A~C 국가에 대한 설명으로 옳지 않은 것은? (단, A~C는 에스파냐, 콜롬비아, 탄자니아 중 하나임.) [3점]

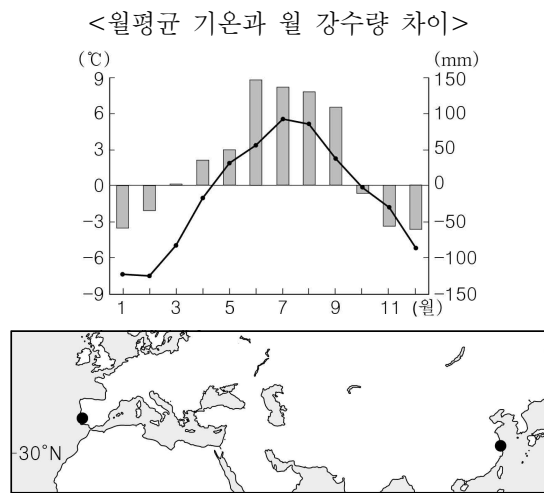


- ① A는 탄자니아, C는 에스파냐이다.
- ② 1950년에 B는 A보다 도시 인구가 많다.
- ③ 1950~2015년에 B는 C보다 도시화율 증가 폭이 크다.
- ④ C는 A보다 도시화의 가속화 단계 진입 시기가 이르다.
- ⑤ 2015년에 A~C는 모두 도시 인구가 촌락 인구보다 많다.

7. (가) 시기에 나타나는 A, B 지역의 기후 그래프로 옳은 것은? (단, (가)는 1월, 7월 중 하나임.) [3점]



8. 그래프는 지도에 표시된 두 지역의 기후 값 차이를 나타낸 것이다. (가), (나) 지역에 대한 설명으로 옳은 것은? (단, 기후 값 차이는 (가)의 기후 값에서 (나)의 기후 값을 뺀 값임.)



- ① (가)는 수목 농업이 활발하다.
- ② (가)는 (나)보다 여름 강수 집중률이 높다.
- ③ (가)는 (나)보다 최한월 평균 기온이 높다.
- ④ (나)는 (가)보다 연 강수량이 많다.
- ⑤ (가)는 대륙 서안, (나)는 대륙 동안에 위치한다.

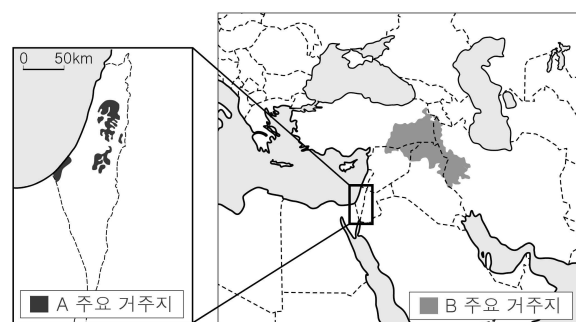
9. 다음 글의 (가), (나) 국가를 지도의 A~D에서 고른 것은?

아메리카 국가들의 문화 특색은 종교·민족(인종)·언어 구성에 따라 유사하면서도 다르다. 예를 들면, (가)와 (나) 국가 주민들은 공통적으로 대부분 가톨릭교를 신봉하고 민족(인종) 구성에서 유럽계의 비율이 가장 높다. 반면 (가)는 에스파냐어, (나)는 포르투갈어 사용자 수가 자국 내에서 가장 많다.

* 민족(인종)은 혼혈, 유럽계, 원주민, 아프리카계로 구분함.

- | | | |
|---------|---------|---------|
| (가) (나) | (가) (나) | (가) (나) |
| ① A B | ② A C | ③ C A |
| ④ D B | ⑤ D C | |

10. 지도의 A, B 민족의 공통점을 <보기>에서 고른 것은? [3점]



- < 보기 >
- ㄱ. 대다수가 이슬람교를 신봉한다.
 - ㄴ. 주변 민족과의 영역 갈등 관계에 있다.
 - ㄷ. 주로 제2차 세계 대전 이후 현 거주지로 이주해 왔다.
 - ㄹ. 영국 식민 지배의 영향으로 영어를 공용어로 사용한다.

- ① ㄱ, ㄴ ② ㄱ, ㄷ ③ ㄴ, ㄷ ④ ㄴ, ㄹ ⑤ ㄷ, ㄹ

11. 다음 자료는 낱말 맞추기의 일부이다. (가)에 들어갈 내용으로 가장 적절한 것은? [3점]

[건조 기후 및 냉·한대 기후 지역에서 발달한 지형]

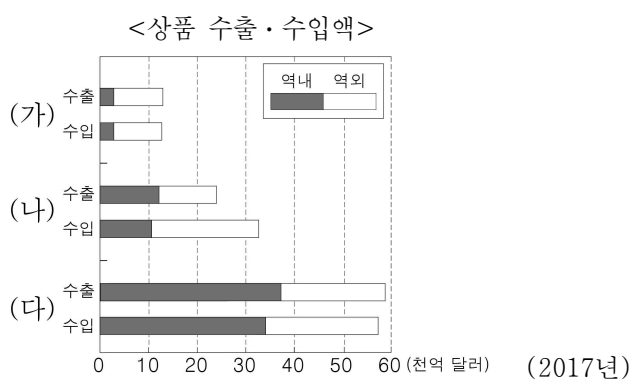
		㉠	㉡	
	㉢			
㉣				

<가로 열쇠>
 ㉠ 바람에 날려 온 모래가 쌓여 이루어진 모래 언덕
 ㉡ 빙하의 후퇴로 남게 된 자갈·모래·점토 등이 섞여 있는 평원
 ㉢ 빙하 침식으로 형성된 반원형의 와지

<세로 열쇠>
 ㉡ _____ (가)
 ㉣ 빙하의 침식으로 형성된 U자 모양의 골짜기

- ① 용빙수에 의해 형성된 제방 모양의 퇴적 지형
- ② 포상홍수 침식에 의해 형성된 완경사의 침식면
- ③ 빙하의 침식으로 형성된 산 정상부의 뾰족한 봉우리
- ④ 토양의 동결과 융해가 반복되어 형성된 다각형의 지형
- ⑤ 비가 내릴 때에 물이 일시적으로 흐르는 골짜기 혹은 하천

12. 그래프의 (가)~(다) 경제 협력체에 대한 설명으로 옳은 것은? (단, (가)~(다)는 유럽 연합, 동남아시아 국가 연합, 북아메리카 자유 무역 협정 중 하나임.)



- ① (가)의 회원국은 유로화를 단일 통화로 사용한다.
- ② (나)는 상품 수출액이 상품 수입액보다 많다.
- ③ (다)는 상품의 역내 교역액이 역외 교역액보다 많다.
- ④ (가)는 (다)보다 정치·경제적 통합 수준이 높다.
- ⑤ (나)는 (가)보다 회원국의 수가 많다.

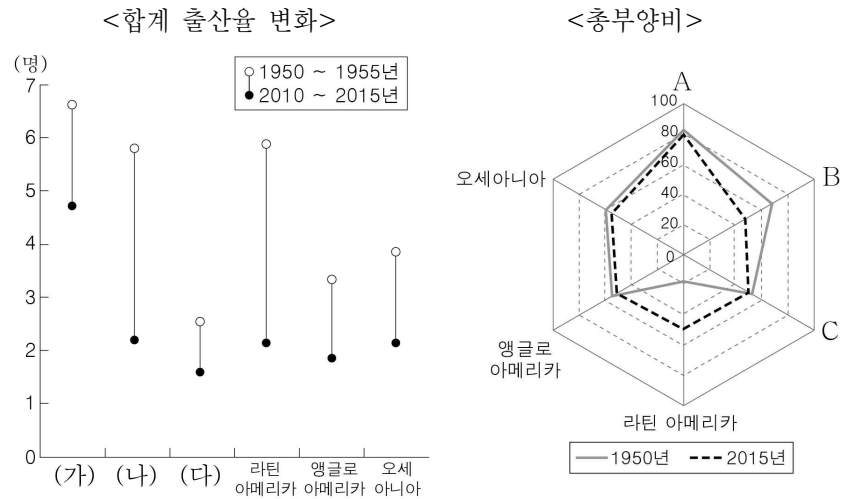
13. 표는 세 화석 에너지의 세계 생산량 상위 5개국을 나타낸 것이다. (가)~(다)에 대한 설명으로 옳은 것은?

순위	(가)	(나)	(다)
1	미국	미국	중국
2	사우디아라비아	러시아	미국
3	러시아	이란	오스트레일리아
4	캐나다	캐나다	인도
5	이란	카타르	인도네시아

(2017년)

- ① (가)는 세계 1차 에너지 중 소비량이 가장 많다.
- ② (다)는 주로 신생대 지층에 매장되어 있다.
- ③ (나)는 (가)보다 상용화된 시기가 이른다.
- ④ (다)는 (가)보다 수송용으로 이용되는 비율이 높다.
- ⑤ (다)는 (나)보다 연소 시 대기 오염 물질 배출량이 적다.

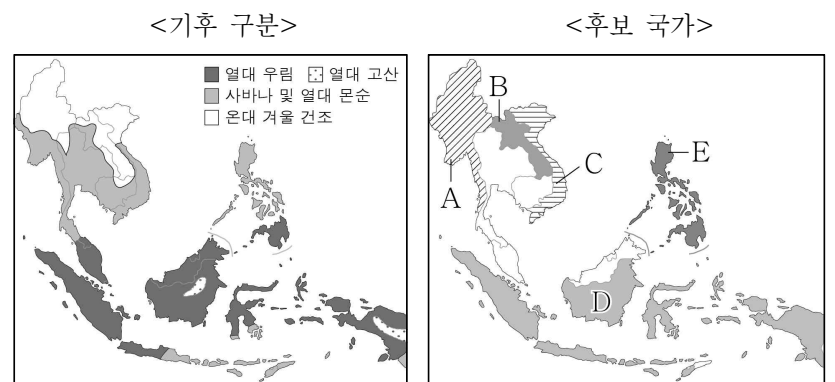
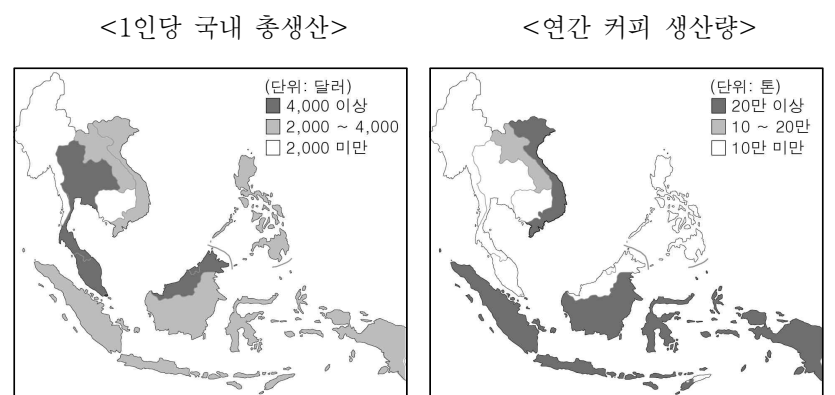
14. 그래프는 지역별 인구 지표를 나타낸 것이다. 이에 대한 설명으로 옳지 않은 것은? [3점]



- ① (가)는 두 시기 모두 합계 출산율이 가장 높다.
- ② (나)는 (다)보다 총인구가 많다.
- ③ (다)는 (가)보다 산업화 시기가 이른다.
- ④ (가)는 A, (나)는 B이다.
- ⑤ B, C는 모두 청장년층 인구 비율이 감소하였다.

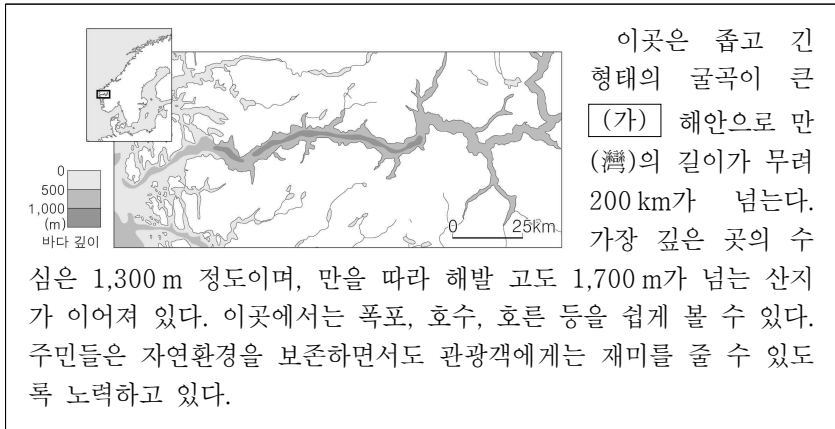
15. 어느 커피 회사가 다음 조건을 모두 만족하는 국가에 아시아 지역 본부를 설립하고자 한다. 최종 후보 국가를 지도의 A~E에서 고른 것은? [3점]

- 조건 1: 1인당 국내 총생산 2,000 달러 이상
- 조건 2: 연간 커피 생산량 20만 톤 이상
- 조건 3: 우기와 건기가 뚜렷한 열대 기후 지역이 국토의 1/3 이상



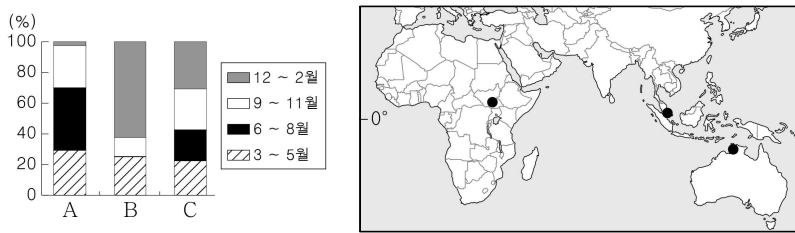
- ① A ② B ③ C ④ D ⑤ E

16. 다음 자료의 (가)에 대한 설명으로 옳은 것은?



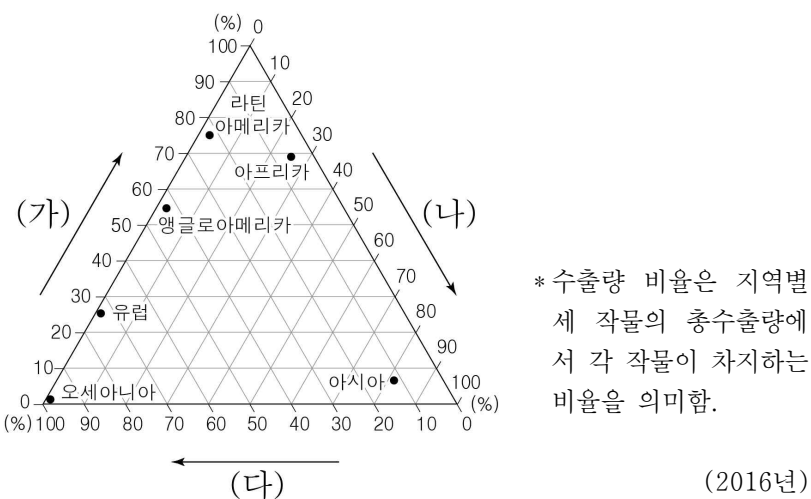
- ① 최후 빙기에 빙하로 덮여 있었다.
- ② 해안선이 단조롭고 섬이 거의 없다.
- ③ 사주가 발달하여 만의 입구가 막혀 있다.
- ④ 해수면 상승으로 V자곡이 침수되어 형성되었다.
- ⑤ 조류의 퇴적 작용이 활발하여 갯벌이 넓게 분포한다.

17. 그래프는 지도에 표시된 세 지역의 시기별 강수 비율을 나타낸 것이다. A ~ C 지역에 대한 설명으로 옳은 것은?



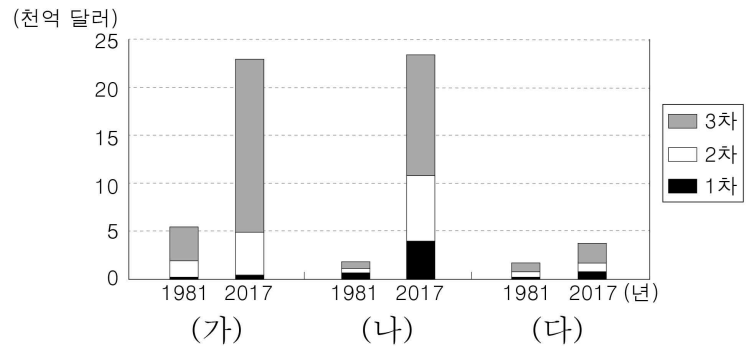
- ① A는 12 ~ 2월에 매일 대류성 강수가 나타난다.
- ② B는 6 ~ 8월에 아열대 고압대의 영향을 받는다.
- ③ C에는 키가 큰 풀의 초원이 드넓게 발달하였다.
- ④ A는 B보다 1월 낮의 길이가 길다.
- ⑤ C는 B보다 시기별 강수량의 차이가 크다.

18. 그래프는 세계 3대 식량 작물의 지역별 수출량 비율을 나타낸 것이다. (가)~(다)에 대한 설명으로 옳은 것은? [3점]



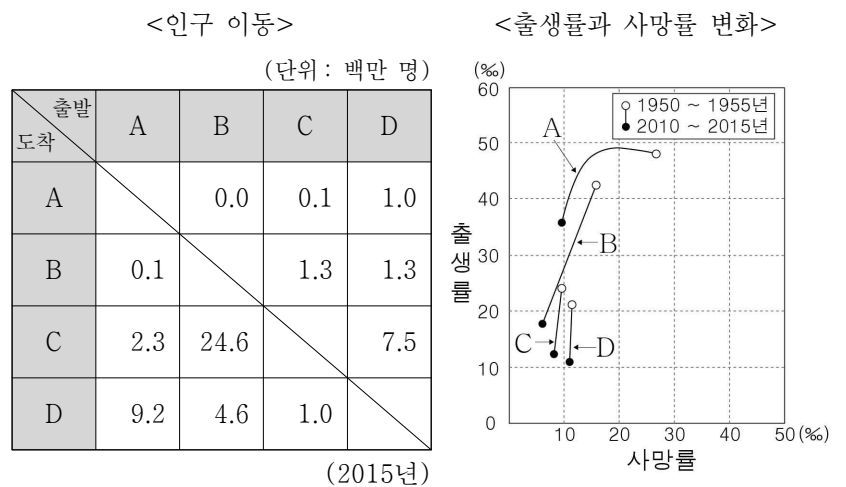
- ① (가)의 기원지는 아시아이다.
- ② (나)는 식량 작물 중 국제 이동량이 가장 많다.
- ③ (다)의 최대 생산국은 미국이다.
- ④ (가)는 (나)보다 바이오 에너지 생산에 이용되는 비율이 높다.
- ⑤ (다)는 (나)보다 단위 면적당 생산량이 많다.

19. 그래프는 세 국가의 산업별 생산액 변화를 나타낸 것이다. (가)~(다) 국가를 지도의 A ~ C 에서 고른 것은?



- | | (가) | (나) | (다) |
|---|-----|-----|-----|
| ① | A | B | C |
| ② | A | C | B |
| ③ | B | A | C |
| ④ | B | C | A |
| ⑤ | C | B | A |

20. 다음 자료의 A ~ D 지역에 대한 설명으로 옳은 것은? (단, A ~ D는 각각 유럽, 아프리카, 라틴 아메리카, 앵글로아메리카 중 하나임.) [3점]



- ① A의 국가들은 대부분 에스파냐어나 포르투갈어를 공용어로 사용한다.
- ② D는 1950 ~ 1955년보다 2010 ~ 2015년의 인구의 자연 증가율이 높다.
- ③ A는 C보다 시간당 평균 임금 수준이 높다.
- ④ B에서 C로의 이주민들은 주로 고소득 전문직에 종사한다.
- ⑤ C는 A보다 D로부터의 인구 유입이 활발하다.

※ 확인 사항

○ 답안지의 해당란에 필요한 내용을 정확히 기입(표기)했는지 확인하십시오.