

제 4 교시

사회탐구 영역 (경제)

성명

수험 번호 2

1. 갑~병의 경제 활동에 대한 설명으로 옳은 것은? [3점]

- 갑은 주식을 보유한 대가로 배당금을 받았다.
- 을은 진주, 구슬을 사서 비즈 목걸이를 만들어 팔았다.
- 고등학생 병은 인터넷 강의를 수강하기 위해 태블릿 PC를 구입하였다.

- ① 갑은 생산물을 구입하였다.
- ② 을은 재화의 가치를 증대시키는 활동을 하였다.
- ③ 병은 생산 요소 구입을 위해 비용을 지불하였다.
- ④ 갑과 병은 생산에 참여한 대가를 받는 경제 활동을 하였다.
- ⑤ 을과 병의 경제 활동의 목적은 이윤 극대화이다.

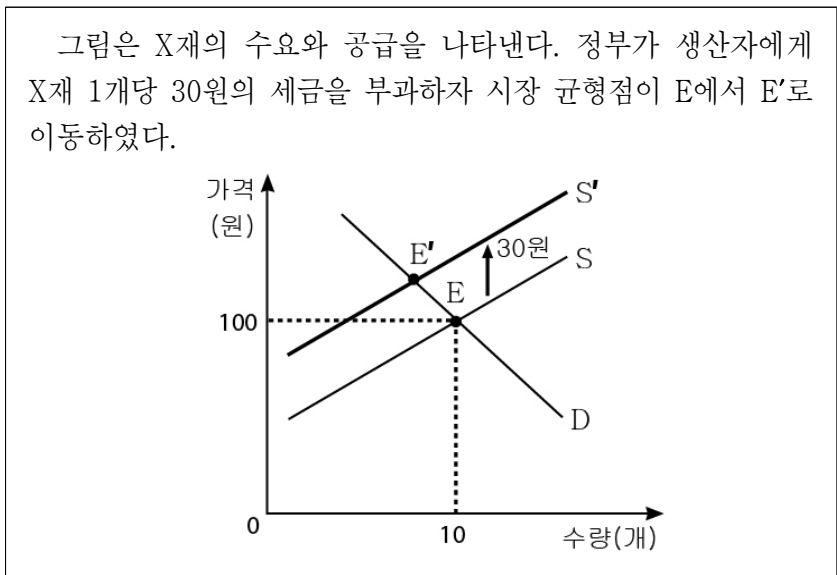
2. (가)~(라)에 들어갈 수 있는 옳은 내용을 <보기>에서 고른 것은? [3점]

경제 체제	시장 경제 체제	혼합 경제 체제	계획 경제 체제
공통점과 차이점	생산 수단의 사유화 인정	(가)	(나)
	(나)	(다)	(라)

- <보 기>
- ㄱ. (가) - 가격 기구를 통한 경제 문제 해결
  - ㄴ. (나) - 전통과 관습에 의한 자원 배분
  - ㄷ. (다) - 정부의 시장 개입
  - ㄹ. (라) - 희소성으로 인한 경제 문제 발생

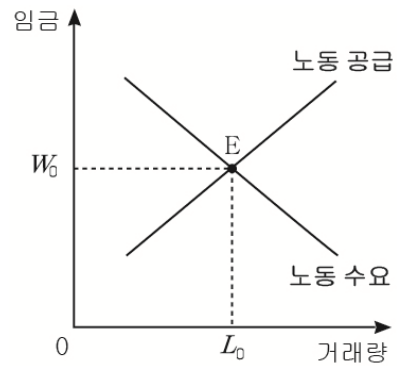
- ① ㄱ, ㄴ    ② ㄱ, ㄷ    ③ ㄴ, ㄷ    ④ ㄴ, ㄹ    ⑤ ㄷ, ㄹ

3. 다음 자료에 대한 분석으로 옳은 것은?



- ① 세금 부과 전 소비자의 총 지출액은 1,000원이다.
- ② 세금 부과 전 생산자 잉여는 판매 수입보다 크다.
- ③ 세금 부과 후 X재 가격은 130원이다.
- ④ 세금 부과 후 X재의 거래량은 증가하였다.
- ⑤ 세금 부과 후 정부의 조세 수입은 300원보다 크다.

4. 그림은 갑국의 노동 시장을 나타낸다. 정부가 실효성 있는 최저 임금제를 실시할 때 나타날 수 있는 변화에 대한 옳은 추론을 <보기>에서 고른 것은?

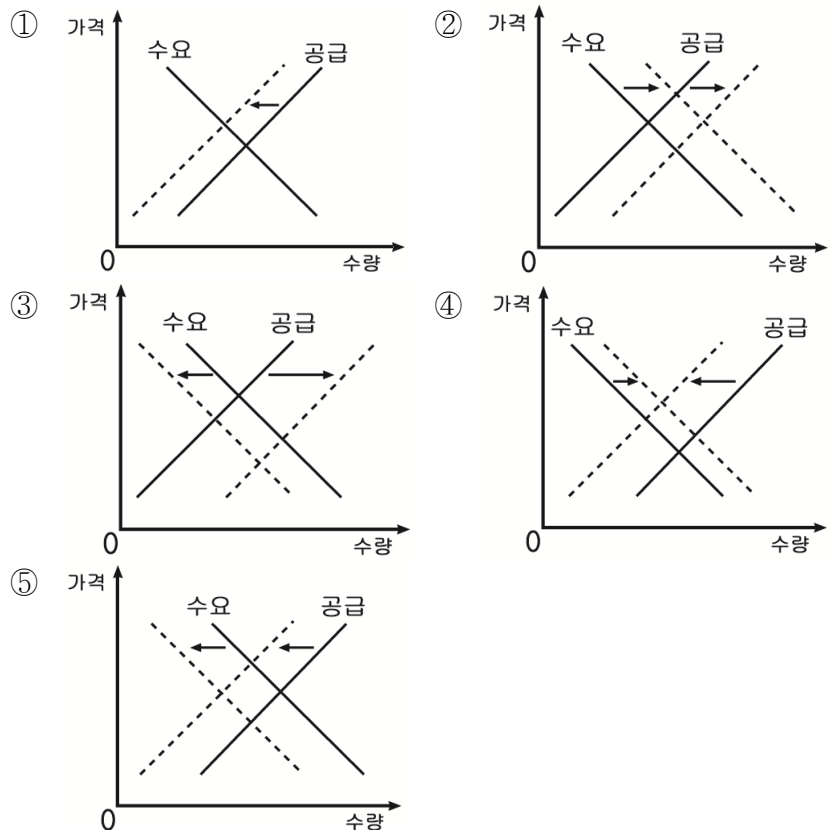


- <보 기>
- ㄱ. 최저 임금은  $W_0$ 보다 높을 것이다.
  - ㄴ. 노동 수요 곡선이 왼쪽으로 이동할 것이다.
  - ㄷ. 노동의 공급량은  $L_0$ 보다 많아질 것이다.
  - ㄹ. 노동 시장의 총잉여는 증가할 것이다.

- ① ㄱ, ㄴ    ② ㄱ, ㄷ    ③ ㄴ, ㄷ    ④ ㄴ, ㄹ    ⑤ ㄷ, ㄹ

5. 다음 사례에 나타난 국제 원유 시장의 변화로 가장 적절한 것은? [3점]

전 세계 원유 재고가 감소하고 산유국들이 생산량 감축에 나서 유가 상승세가 더욱 가속화되었다. 이와 동시에 산유국들이 원유를 팔아서 번 돈으로 해외 투자를 확대하여 세계 경기가 활발해졌다. 이로 인해 원유 수요가 소폭 증가했지만 원유 거래량은 이전보다 감소하였다.



# 사회탐구 영역

6. 다음 내용에 부합하는 진술로 가장 적절한 것은? [3점]

정부가 시장 실패를 보완하기 위해 시장에 개입하는 것이 항상 최선의 결과를 낳는 것은 아니다. 정부는 시장에 개입하여 민간 경제 주체들을 감독하고 규제하는데, 오히려 이들이 이익 집단을 만들어 정부를 설득하고 심지어 자기들에게 유리한 정책을 이끌어 내는 경우도 있다. 또한 정부 관료의 전문성 부족으로 규제 목적을 달성하지 못하거나 이익 집단의 의도대로 규제 정책이 왜곡될 수도 있다.

- ① 정부 규제는 자유로운 시장 경쟁을 촉진한다.
- ② 정부 규제는 공공의 이익을 위해서 반드시 필요하다.
- ③ 정부 규제는 시장 실패를 개선하는 유일한 수단이다.
- ④ 정부의 시장 개입은 시장 질서 유지를 위해 불가피하다.
- ⑤ 정부의 시장 개입은 시장의 비효율적 자원 배분을 충분히 해결하지 못한다.

7. 갑 ~ 병의 주장에 해당하는 경제의 기본 문제를 옳게 연결한 것은? [3점]

사장: 현재 우리 회사의 성장을 위한 과제는 무엇인가요?  
 갑: 경유차를 생산할 것인지, 친환경 연료 차량을 생산할 것 인지를 먼저 결정해야 합니다.  
 을: 아닙니다. 작년에 발생한 이윤을 연구 개발에 투자할지, 직원들에게 성과급으로 지급할지를 결정해야 합니다.  
 병: 그보다 급한 것은 시장 수요에 대응하기 위해 직원을 더 채용할지, 자동화 설비를 확장할지를 결정해야 합니다.

	무엇을 얼마나 생산할 것인가	어떻게 생산할 것인가	누구를 위하여 생산할 것인가
①	갑	을	병
②	을	병	갑
③	병	갑	을
④	갑	병	을
⑤	을	갑	병

8. (가), (나)에 대한 옳은 설명을 <보기>에서 고른 것은? [3점]

(가) 위층에서 실내 운동을 하는 갑으로 인해 아래층에 사는 을이 층간 소음의 피해를 입고 있다.  
 (나) ○○시가 △△강의 범람을 예방하기 위해 제방을 쌓고 산책길을 조성하자, 유동 인구가 많아져 인근 상가의 수익이 증가하였다.

<보 기>

ㄱ. (가)는 부정적 외부 효과의 사례이다.  
 ㄴ. (가)에 나타난 외부 효과는 갑에게 보조금을 지급함으로써 개선될 수 있다.  
 ㄷ. (나)는 사회적 최적 거래량이 시장 거래량보다 큰 사례이다.  
 ㄹ. (가)는 시장 실패, (나)는 정부 실패의 사례이다.

- ① ㄱ, ㄴ    ② ㄱ, ㄷ    ③ ㄴ, ㄷ    ④ ㄴ, ㄹ    ⑤ ㄷ, ㄹ

9. (가) ~ (라)에 해당하는 개념으로 가장 적절한 것은?

구분	경제 활동의 주체	
	(가)	(나)
재화의 특성에 따른 분류	(다)	□□지방 경찰청이 범죄 예방을 위해 순찰 활동을 강화하였다.
	(라)	△△교육청은 업무 전산화를 위해 컴퓨터를 구매하였다.

- |   | (가) | (나) | (다)   | (라)   |
|---|-----|-----|-------|-------|
| ① | 가계  | 정부  | 공공재   | 사적 재화 |
| ② | 기업  | 가계  | 공공재   | 사적 재화 |
| ③ | 정부  | 가계  | 공공재   | 사적 재화 |
| ④ | 가계  | 정부  | 사적 재화 | 공공재   |
| ⑤ | 기업  | 정부  | 사적 재화 | 공공재   |

10. (가)에 들어갈 내용으로 적절하지 않은 것은?

**학습 활동지**

2학년 △반 ○○○

**학습 주제 : 가격의 신호등 기능**

1. 의미

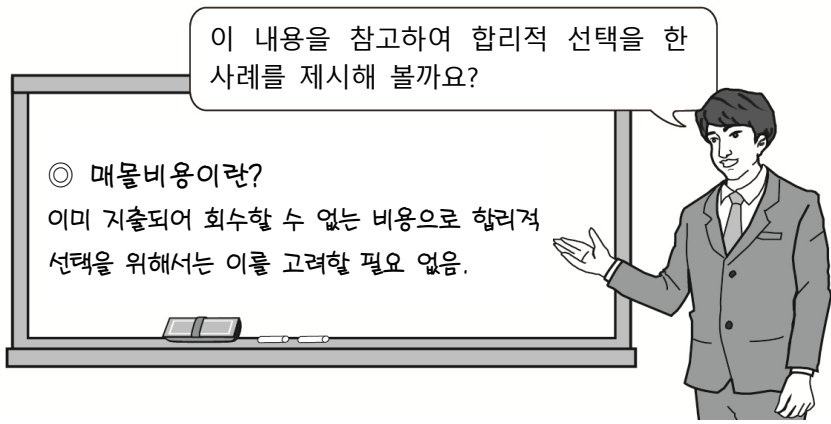
- 가격이 시장에서 경제 주체의 의사 결정을 위한 정보를 제공하는 것을 의미한다.
- 수요자는 상품 가격에 따라 구매 여부를 결정하고, 공급자도 시장 가격을 보고 무엇을 얼마나 어떻게 생산할지를 결정한다.

2. 사례

○  (가)

- ① A전자는 반도체 가격이 폭락하자 생산량을 감축하였다.
- ② 프로야구 선수 B씨는 더 많은 연봉을 제시한 구단과 계약을 하였다.
- ③ 회사원 C씨는 예상하지 않았던 성과급을 받고 새 자동차를 구입하였다.
- ④ D기업은 이자율이 상승하여 은행에서 자금을 빌리기로 한 계획을 취소하였다.
- ⑤ 고등학생 E군은 등록금이 비싼 대학을 포기하고 등록금이 적은 대학에 입학하였다.

11. 교사의 질문에 대한 답변으로 옳은 것은? [3점]



- ① 갑: 저는 1교시 시험에서 답안 작성에 실수를 하여 2교시 시험에 집중을 못했습니다.
- ② 을: ☆☆시는 시민 공원과 예술 회관의 건설 비용을 비교하면서 무엇을 선택할지 고민하고 있습니다.
- ③ 병: ○○항공사는 △△노선이 적자임에도 불구하고 이미 투입한 비용이 너무 커서 여전히 운항하고 있습니다.
- ④ 정: □□회사는 ◇◇제품의 매출이 저조함에도 불구하고 이미 지출한 광고비 때문에 계속 판매하고 있습니다.
- ⑤ 무: 저는 어제 영화를 볼 때 너무 재미없어서 관람료를 포기하고 도중에 영화관을 나오니 오히려 기분이 좋아졌습니다.

12. 다음 자료에 대한 옳은 분석을 <보기>에서 고른 것은?

갑은 X재와 Y재만을 생산하고 있다. 표는 갑이 1년 동안 생산하고자 하는 X, Y재의 생산 계획안이다. 단, X, Y재의 가격은 각각 10만 원, 한 개당 생산비는 각각 5만 원이고 생산된 재화는 모두 판매된다.

(단위: 개)

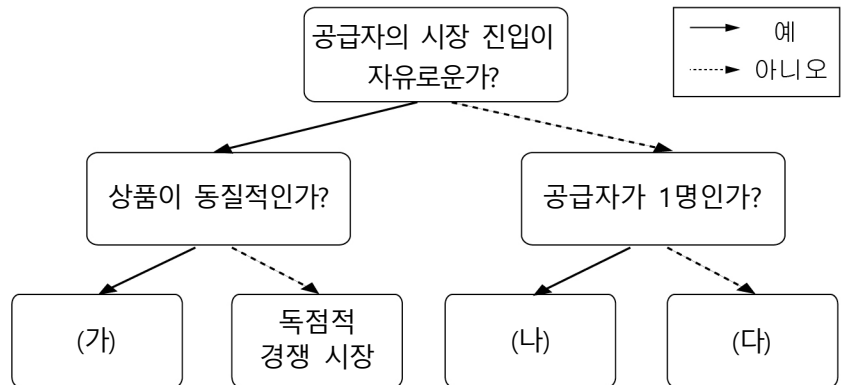
생산 계획안	X재	Y재
(가)	150	0
(나)	130	50
(다)	70	100
(라)	0	120

<보 기>

ㄱ. (가)를 선택했을 때 생산비는 750만 원이다.  
 ㄴ. (나)를 선택하는 것이 가장 합리적이다.  
 ㄷ. (다)를 선택했을 때 이윤은 900만 원이다.  
 ㄹ. (라)에서 (나)로 변경할 경우 Y재 50개를 포기해야 한다.

- ① ㄱ, ㄴ    ② ㄱ, ㄷ    ③ ㄴ, ㄷ    ④ ㄴ, ㄹ    ⑤ ㄷ, ㄹ

13. 시장의 형태 (가)~(다)에 대한 설명으로 옳은 것은? (단, (가)~(다)는 독점 시장, 과점 시장, 완전 경쟁 시장 중 하나이다.)



- ① (가)는 공급자가 시장 지배력을 가진다.
- ② (나)는 자유로운 경쟁을 통해 시장 가격이 결정된다.
- ③ (다)에서는 공급자 간의 담합이 발생할 수 있다.
- ④ (나)는 완전 경쟁 시장, (다)는 독점 시장이다.
- ⑤ (나), (다)는 (가)에 비해 총잉여가 크다.

14. 다음 대화에 대한 옳은 분석을 <보기>에서 고른 것은?

경영자: 우리가 ㉠ 창작자에게 지불해야 하는 저작권료가 인상되어서 음원 이용료를 20% 인상하려 합니다. 이용자 수는 어떻게 변할까요?  
 갑: 음원 이용료를 20% 인상하면 이용자 수가 30% 감소할 것으로 예측됩니다.  
 을: 저는 현재 이용자 수보다 10% 감소할 것이라 생각합니다.

<보 기>

ㄱ. ㉠은 생산 요소의 가격 인상을 의미한다.  
 ㄴ. 갑은 가격의 변화율보다 수요량의 변화율이 더 작을 것이라고 본다.  
 ㄷ. 갑이 예상하는 수요의 가격 탄력성은 을보다 크다.  
 ㄹ. 을의 예측이 옳다면 가격 인상 후 매출액이 감소할 것이다.

- ① ㄱ, ㄴ    ② ㄱ, ㄷ    ③ ㄴ, ㄷ    ④ ㄴ, ㄹ    ⑤ ㄷ, ㄹ

15. 표는 소득세율 적용 방식 (가), (나)에 따른 세액을 나타낸다. 이에 대한 설명으로 옳은 것은?

(단위: 만 원)

과세 대상 소득	소득세율 적용 방식에 따른 세액	
	(가)	(나)
1,000	100	50
2,000	200	200
3,000	300	450
4,000	400	1,000

- ① (가)는 과세 대상 소득이 클수록 세율이 증가한다.
- ② (나)는 과세 대상 소득 증가율보다 세액의 증가율이 낮다.
- ③ (가)는 누진세, (나)는 비례세이다.
- ④ (가)는 (나)에 비해 소득 재분배 효과가 크다.
- ⑤ 과세 대상 소득이 2,000만 원일 때 (가)와 (나)에 따른 세후 소득은 동일하다.

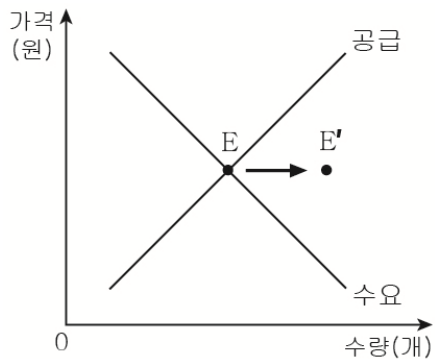
# 사회탐구 영역

16. 다음 자료에 나타난 정부의 경제적 역할로 가장 적절한 것은? [3점]

시장 경제 체제는 주기적인 경기 변동이 발생하기 때문에 이를 보완하기 위한 정부의 역할이 중요하다. 경기가 침체된 상황에서는 세율을 인하하거나 정부 지출을 확대하여 내수를 촉진하고 일자리를 창출하는 정책을 시행한다. 반면에 경기가 과열된 상황에서는 세입을 증가시키거나 정부 지출을 억제하여 경기 변동에 능동적으로 대처한다.

- ① 경제 안정화                      ② 소득 재분배
- ③ 공정한 경쟁 환경 조성        ④ 효율적 자원 배분 유도
- ⑤ 경제 활동의 자유 보장

17. 그림은 X재의 시장 균형점 변동(E → E')을 나타낸다. 이러한 변동의 요인으로 옳은 것은? [3점]



- |               |             |
|---------------|-------------|
| 수요 측면         | 공급 측면       |
| ① 선호도 개선      | 원자재 가격 상승   |
| ② 보완재 가격 상승   | 생산성 향상      |
| ③ 대체재 가격 하락   | 미래 가격 상승 예상 |
| ④ 수요자의 소득 증가  | 기술 혁신       |
| ⑤ 미래 가격 하락 예상 | 수입 개방       |

18. 다음 자료에 대한 옳은 분석을 <보기>에서 고른 것은?

X재와 Y재는 연관재이다. 표는 2019년 4월과 5월에 X재 시장의 변화가 Y재 시장에 미친 결과를 조사한 것이다.

구분	균형 가격		균형 거래량	
	4월	5월	4월	5월
X재	200원	100원	10개	30개
Y재	100원	200원	10개	20개

<보 기>

ㄱ. X재의 균형 거래량은 감소하였다.  
 ㄴ. Y재의 수요 곡선은 오른쪽으로 이동하였다.  
 ㄷ. Y재 수요자의 지출액은 증가하였다.  
 ㄹ. X재와 Y재는 대체 관계이다.

- ① ㄱ, ㄴ    ② ㄱ, ㄷ    ③ ㄴ, ㄷ    ④ ㄴ, ㄹ    ⑤ ㄷ, ㄹ

19. 다음 사례를 종합하여 추론할 수 있는 진술로 가장 적절한 것은? [3점]

- A기업은 전문 경영인 체제를 도입한 뒤 투명 경영, 책임 경영을 실천해 주주들과 소비자의 신뢰를 얻었다.
- B기업은 사회적 기업으로서 지역 청년들에게 일자리를 제공하고 매년 이윤의 70%를 지역 사회에 환원해 왔다.
- C기업은 노동자 대표가 경영에 참여한 후 노동자와 사용자 간 협력과 상생의 분위기가 나타나 기업 문화의 표본이 되었다.

- ① 이윤의 일부를 사회에 환원해야 한다.
- ② 의사 결정 과정의 투명성을 높여야 한다.
- ③ 노동자와 사용자가 상생하는 관계를 확립해야 한다.
- ④ 지속적인 투자를 통해 기술을 혁신하고 새로운 시장을 개척해야 한다.
- ⑤ 사회에 미치는 영향을 고려하여 기업의 사회적 책임을 다할 수 있어야 한다.

20. 갑, 을의 주장에 대한 설명으로 옳은 것은?



- ① 갑은 정부가 공공재를 직접 공급해야 한다고 주장한다.
- ② 을의 주장은 다주택 소유자에게 긍정적 유인으로 작용한다.
- ③ 갑은 공급 확대 정책, 을은 수요 억제 정책을 주장한다.
- ④ 갑보다 을이 주장하는 정책의 효과가 더 크다면 주택 거래량은 증가한다.
- ⑤ 갑과 을의 주장은 주택 가격 통제 정책을 의미한다.

※ 확인 사항  
 ○ 답안지의 해당란에 필요한 내용을 정확히 기입(표기)했는지 확인하십시오.