

2 세계지리

사회탐구 영역

6. 다음은 아프리카 관광 안내 자료의 일부이다. 밑줄 친 ㉠~㉢에 대한 옳은 설명을 <보기>에서 고른 것은? [3점]

트랜스 아프리카 고속도로를 따라 떠나는 아프리카 여행

여러 종류의 상록활엽수가 다층을 이루고 있는 ㉠ 오순-오소그보 신성 숲에 들러 보세요.

드야 동물 보호 구역에서 ㉡ 스콜을 만나면, 잠시만 비를 피하면서 기다리세요.

0°

— 고속도로

㉢ 동아프리카 자구대의 골짜기 너머로 아름다운 석양을 바라보세요.

아프리카의 최남단으로 알려진 희망봉이 있는 ㉣ 케이프타운을 방문해보세요.

<보기>

- ㄱ. ㉠- 열대 우림에 해당한다.
 ㄴ. ㉡- 두 대륙 지각이 서로 수렴하는 곳이다.
 ㄷ. ㉢- 오전보다 오후에 발생할 가능성이 높다.
 ㄹ. ㉣- 1월에는 온난 습윤한 기후 특징을 보인다.

- ① ㄱ, ㄴ ② ㄱ, ㄷ ③ ㄴ, ㄷ ④ ㄴ, ㄹ ⑤ ㄷ, ㄹ

7. 자료는 어느 나라에 대한 인터넷 검색 결과이다. (가) 농업에 대한 설명으로 옳은 것은?

[기후] 국토의 약 93%가 열대 기후
[언어] 포르투갈어
[농업] 인구의 약 26%가 농업에 종사한다. 열대 우림이 발달한 북부의 아마존 분지 지역에서는 전통적으로 (가) 농업을 통해 양, 카사바 등의 작물을 생산하고, ... (후략)

0°

[위치]

- ① 카나트라는 지하 관개 수로를 이용한다.
 ② 주기적으로 이동하며 숲을 태워 농경지를 조성한다.
 ③ 건조한 여름철 기후를 이용하여 주로 수목을 기른다.
 ④ 기호 작물을 대량 재배하여 수출하는 기업적 영농 방식이다.
 ⑤ 원주민의 노동력과 선진국의 자본 및 기술이 결합된 형태이다.

8. 자료는 지도상의 두 지역을 배경으로 그린 작품이다. 두 지역의 공통점으로 옳은 것은? [3점]

「올리브 나무」, 반 고흐: 여름철 뜨거운 햇살과 파란 하늘, 마른 풀, 올리브 나무들이 강렬한 색채로 표현됨.

「집으로 가는 마사이 여인들」, 수잔 시몬: 키가 큰 풀의 초원과 드문드문 서 있는 나무들이 배경으로 그려짐.

0°

- ① 아열대 고압대의 영향을 받는다.
 ② 연 강수량보다 연 증발량이 많다.
 ③ 최한월 평균 기온이 18℃ 이상이다.
 ④ 붉은 색의 라테라이트 토양이 생성된다.
 ⑤ 타이가라는 침엽수림대가 넓게 분포한다.

9. 자료는 SNS 대화 내용의 일부이다. 교사의 말에 옳게 답한 학생을 고른 것은? [3점]

2학년 세계 지리반 단체 대화방

지도에 표시된 지역의 특성과 관련된 지리 조사 주제를 선정해 봅시다. **교사**

갑: 빙력토 평원에 발달하는 지형
 을: 칼데라호를 이용한 관광 산업의 발달
 병: 한류 연안 사막에서의 주민 생활
 정: 리아스식 해안의 특징

0°

- ① 갑, 을 ② 갑, 병 ③ 을, 병 ④ 을, 정 ⑤ 병, 정

10. 다음은 세계지리 활동지의 일부이다. (가)에 들어갈 정답으로 옳은 것은?

주제: ○○ 기후와 인간 생활 이름: △△△

• ○○ 기후 지역의 다양한 경관

툰드라 지역의 구조토 지면 위에 띄워진 송유관 빙설 지대의 수렵 활동

질문 위의 경관을 모두 볼 수 있는 기후 지역을 A~E에서 고르시오.

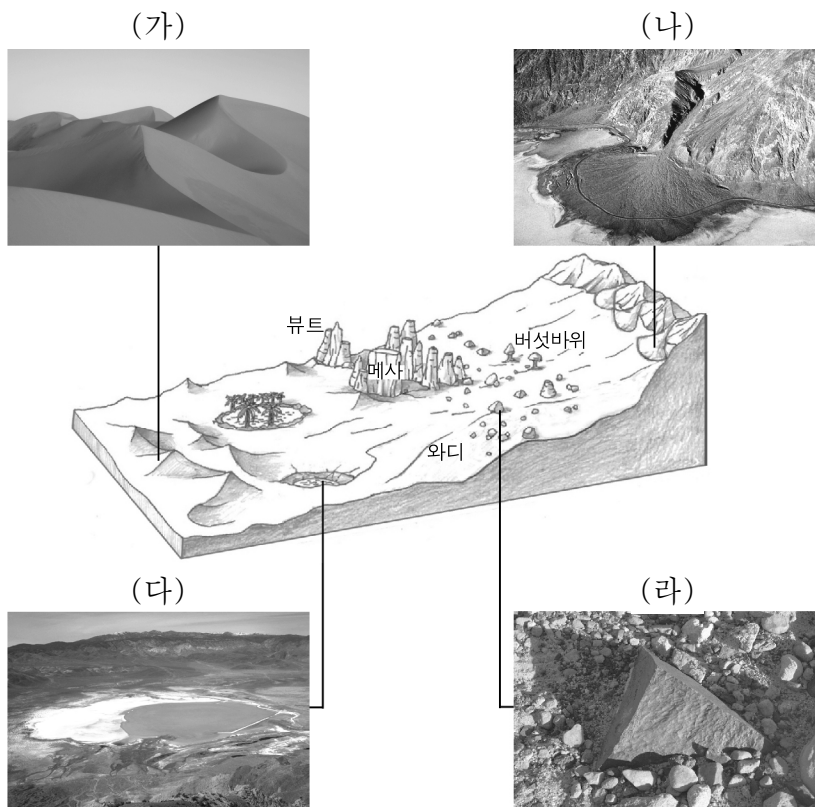
0°

□ A ▨ B ▩ C ▪ D ■ E ■ 기타

정답 (가)

- ① A ② B ③ C ④ D ⑤ E

16. 자료는 건조 지형을 나타낸 것이다. (가)~(라) 지형에 대한 설명으로 옳지 않은 것은? (단, (가)~(라)는 사구, 삼릉석, 선상지, 플라야 중 하나임.)



- ① (가)는 바람의 퇴적 작용으로 형성된 모래 언덕이다.
- ② (나)는 급경사의 산지와 평지가 만나는 곳에 잘 발달한다.
- ③ (다)에 고이는 물은 주로 농업용수로 사용된다.
- ④ (라)는 시간이 지날수록 점차 크기가 작아진다.
- ⑤ (나)는 (라)보다 유수(流水)의 영향을 크게 받아 형성된다.

17. 다음은 학생이 정리한 필기 내용의 일부이다. 밑줄 친 ㉠~㉢에 대한 옳은 설명만을 <보기>에서 있는 대로 고른 것은?

1. ㉠ 세계화(Globalization)
 - 경제·사회·문화 등의 활동 범위가 전 세계로 확대되는 현상
 - ㉠ 다국적 기업의 활동이 더욱 활발해짐
 - 문제점: 국가 간 경제 격차 심화, ㉡

2. 지역화(Localization)
 - 지역적인 것이 세계적인 차원에서 가치를 지니게 되는 현상
 - 전략: 지역 브랜드, ㉢

3. 현지화 또는 세방화(Glocalization)
 - 세계화를 추구하면서도 각 지역의 고유한 의식, 문화, 기호, 행동 양식 등을 존중하는 현상
 - 사례: 한국의 ○○자동차가 터번을 쓰는 인도인을 위해 내부를 높은 차량을 생산 및 판매

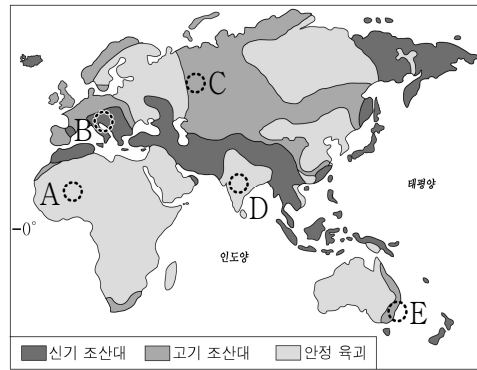
<보 기>

ㄱ. ㉠으로 인해 국경의 의미와 역할이 강화된다.
 ㄴ. ㉡은 지역 간 국제적 분업을 활성화시킨다.
 ㄷ. ㉢에는 문화의 획일화와 다양성의 약화를 들 수 있다.
 ㄹ. ㉢에는 지리적 표시제, 장소 마케팅 등이 있다.

- ① ㄱ, ㄴ ② ㄱ, ㄷ ③ ㄷ, ㄹ
- ④ ㄱ, ㄴ, ㄹ ⑤ ㄴ, ㄷ, ㄹ

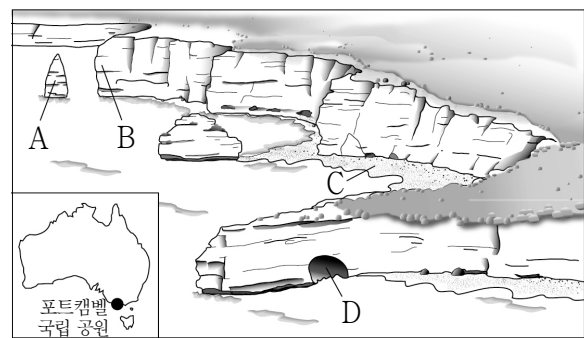
18. 다음 <조건>을 모두 만족하는 지역을 지도의 A~E에서 고른 것은? [3점]

- <조 건>
1. 시·원생대의 조산 운동 이후 오랜 기간 침식 작용을 받아 대부분 고원상의 대지나 대평원을 이루고 있다.
 2. 세계적인 목화 생산지이자 철광석의 주요 매장지이다.
 3. 지역 주민 대부분이 힌두교를 신봉한다.



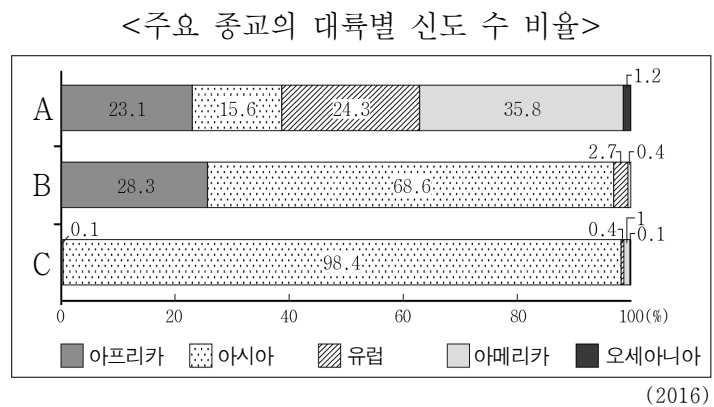
- ① A
- ② B
- ③ C
- ④ D
- ⑤ E

19. A~D 해안 지형에 대한 설명으로 옳지 않은 것은?



- ① A는 차별 침식으로 육지와 분리된 바위섬이다.
- ② B는 시간이 지나면서 육지 쪽으로 후퇴한다.
- ③ C는 조차가 큰 해안에서 잘 발달한다.
- ④ D는 파랑의 침식 작용으로 형성된다.
- ⑤ B는 곳(串)에서, C는 만(灣)에서 주로 발달한다.

20. A~C 종교에 대한 설명으로 옳은 것은? (단, A~C는 불교, 이슬람교, 그리스도교 중 하나임.) [3점]



- ① A는 이슬람 상인들의 무역 활동으로 동남아시아에 전파되었다.
- ② B는 수많은 신을 인정하고 숭배하는 다신교이다.
- ③ C는 부처의 가르침을 전하고 실천하는 종교이다.
- ④ A, B는 모두 돼지고기를 금기시한다.
- ⑤ A, B는 보편 종교, C는 민족 종교에 해당한다.

※ 확인 사항
 ○ 답안지의 해당란에 필요한 내용을 정확히 기입(표기)했는지 확인하십시오.