

사회탐구 영역

6. 문화를 이해하는 갑, 을의 태도에 대한 옳은 설명을 <보기>에서 고른 것은? [3점]

2장. 여러 나라의 장례 풍습
A국에서 사람이 죽으면 유가족들은 같은 문양의 옷을 지어 입고 웃으며 춤을 춘다. 화려하게 장식된 고인의 침실에서 명복을 비는데, 추모객도 웃으며 춤을 추고서야 들어갈 수 있다.

사람이 죽었는데 눈물을 흘리거나 울면서 춤까지 추다니! 우리나라와 비교하면 너무 미개한 풍습인 것 같아.



그렇지 않아. 사후 세계에서 즐겁고 행복하게 지내라는 기원을 담은 풍습이니 그 고유의 가치를 존중해야 해.



<보 기>

- ㄱ. 갑의 태도는 특정 문화를 바탕으로 문화의 우열을 평가한다.
- ㄴ. 을의 태도는 문화를 해당 사회의 맥락 속에서 파악하고자 한다.
- ㄷ. 갑의 태도는 을의 태도에 비해 자기 문화의 정체성을 상실할 우려가 크다.
- ㄹ. 을의 태도는 갑의 태도에 비해 타문화와의 문화적 마찰을 초래할 가능성이 크다.

- ① ㄱ, ㄴ ② ㄱ, ㄷ ③ ㄴ, ㄷ ④ ㄴ, ㄹ ⑤ ㄷ, ㄹ

7. 일탈 이론 (가), (나)에 대한 설명으로 옳은 것은? [3점]

- (가) 일탈 행동은 행위자가 일탈을 일삼는 사람들과 어울리면서 잘못된 행동뿐만 아니라 그것을 정당화하는 가치나 태도 등을 학습함으로써 발생한다.
- (나) 누군가의 일탈 행동이 알려져 주변 사람들이 그 행위자를 일탈자로 규정하게 되면, 행위자는 스스로를 부정적으로 인식하면서 일탈 행동을 지속하게 된다.

- ① (가)는 집단 간 이해관계의 대립으로 일탈 행동이 발생한다고 본다.
- ② (가)는 일탈 행동에 대한 대책으로 일탈자와의 접촉 차단과 정상 집단과의 교류를 강조한다.
- ③ (나)는 문화적 목표와 제도적 수단 간의 부조화로 일탈 행동이 발생한다고 본다.
- ④ (나)는 일탈 행동에 대한 대책으로 합의된 사회 규범의 통제력 강화를 중시한다.
- ⑤ (가), (나)는 모두 일탈 행동을 규정하는 객관적 기준이 존재한다고 본다.

8. 갑의 사회화 과정 (가) ~ (라)에 대한 설명으로 옳은 것은?

- (가) 화목한 가정에서 자란 갑은 부모님의 사랑을 받으며 유년 시절을 보냈다.
- (나) 고등학교에 입학한 갑은 ○○대학교에 진학하기 위해 열심히 공부하였다.
- (다) 대학 재학 중 갑은 도전 정신을 강조하는 □□기업 대표의 TV 강연을 듣고 감동하여 졸업 후 □□기업 입사 시험에 응시하였다.
- (라) 퇴직한 갑은 자녀들이 있는 △△국으로부터 이민 허가를 받은 후 주말마다 ○○대학교 평생교육원에서 외국어를 배우고 있다.

- ① (가)에서는 2차적 사회화 기관을 통한 사회화가 이루어졌다.
- ② (나)에서는 (다)와 달리 비공식적 사회화 기관을 통한 사회화가 이루어졌다.
- ③ (라)에서는 예기 사회화가 나타난다.
- ④ (가), (라)에서는 모두 공식적 사회화 기관을 통한 사회화가 이루어졌다.
- ⑤ (나), (다)에서는 모두 재사회화가 나타난다.

9. 다음은 한 학생이 작성한 질문지의 일부이다. 이에 대한 적절한 평가만을 <보기>에서 있는 대로 고른 것은? [3점]

시사 프로그램 방송사 선호 조사

1. 귀하의 연령대는 어디에 해당합니까?
① 20대 ~ 30대 ② 40대 ~ 50대 ③ 60대 이상

2. 귀하의 소득은 얼마입니까?
① 800만 원 미만
② 800만 원 초과 2,500만 원 미만
③ 2,500만 원 초과

3. 민주 시민이라면 공정하고 객관적인 ○○사의 시사 프로그램 시청이 필수적입니다. 귀하는 어느 방송사의 시사 프로그램을 주로 보십니까?
① ○○사 ② □□사 ③ △△사 ④ 기타

<보 기>

- ㄱ. 특정한 응답을 유도하는 문항이 있다.
- ㄴ. 답지가 상호 배타적이지 않은 문항이 있다.
- ㄷ. 질문의 내용이 명료하지 않은 문항이 있다.
- ㄹ. 응답 가능한 답지를 빠짐없이 제시하지 못한 문항이 있다.

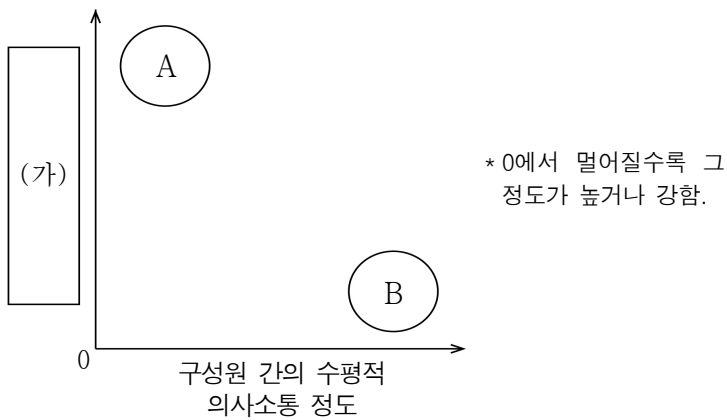
- ① ㄱ, ㄴ ② ㄱ, ㄹ ③ ㄴ, ㄷ
④ ㄱ, ㄷ, ㄹ ⑤ ㄴ, ㄷ, ㄹ

10. 다음 연구에 대한 설명으로 옳은 것은? [3점]

연구자 갑은 학급의 수업 분위기와 학업 성취도 간의 관계를 연구하기로 하였다. 우선 ○○고등학교 2학년 전체 학급을 대상으로 수업 시간 중 질문, 대답, 웃음 등의 횟수를 관찰하여 기록하였다. 또한 학년 초와 학년 말에 실시된 학력평가의 학급별 평균 점수를 각각 조사하였다. 수집된 자료를 분석한 결과 수업 분위기가 좋은 학급일수록 학업 성취도의 향상 정도가 높게 나타났다.

- ① 학급의 수업 분위기는 종속 변수, 학업 성취도는 독립 변수이다.
- ② 독립 변수와 종속 변수에 대한 조작적 정의가 이루어졌다.
- ③ 수업 분위기가 좋은 학급을 실험 집단으로 설정하였다.
- ④ 2차 자료만을 수집하여 연구를 진행하였다.
- ⑤ 연구 결과는 전국의 고등학교 학급에 대해 일반화할 수 있다.

11. 그림은 사회 조직 형태 A, B를 비교한 것이다. 이에 대한 설명으로 옳은 것은? (단, A, B는 각각 관료제 조직과 탈관료제 조직 중 하나이다.)



- ① A에서는 구성원들의 자율성과 창의성이 중시된다.
- ② B에서는 업적보다 연공서열에 따른 보상이 주로 이루어진다.
- ③ A는 B에 비해 조직 운영의 예측 가능성이 낮다.
- ④ A, B 모두 과업 수행의 효율성을 추구한다.
- ⑤ (가)에는 '조직 운영의 유연성'이 들어갈 수 있다.

12. 다음 사례에 나타난 연구 윤리상의 문제점에 대한 옳은 진술을 <보기>에서 고른 것은?

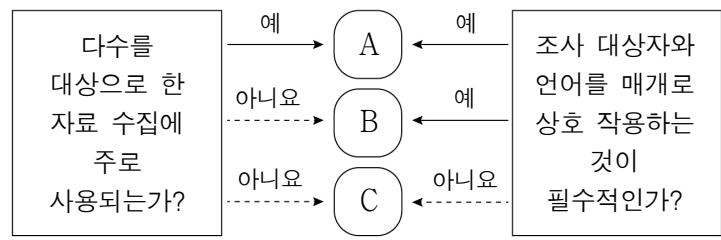
연구자 갑은 음주 운전 근절 방안을 모색하기 위한 연구를 진행하였다. 우선 음주 운전 실태를 파악하고자 면접관에게 부탁하여 기업 채용 시험 응시자들이 면접 대기실에서 반드시 설문 조사에 참여하도록 하였다. 이후 수집한 자료를 분석하여 작성한 연구 보고서를 정책 토론회에서 발표하였다. 이때 음주 운전 경험을 묻는 문항에 '있다'고 응답한 사람과 '없다'고 응답한 사람의 이름과 나이를 함께 제시하였다.

<보 기>

- ㄱ. 연구 대상자의 익명성을 보장하지 않았다.
- ㄴ. 연구 대상자의 자발적 참여를 보장하지 않았다.
- ㄷ. 자료 분석 시 고의로 자료를 선별하여 분석하였다.
- ㄹ. 연구자의 사적 이익을 위해 연구 결과를 왜곡하였다.

- ① ㄱ, ㄴ ② ㄱ, ㄷ ③ ㄴ, ㄷ ④ ㄴ, ㄹ ⑤ ㄷ, ㄹ

13. 자료 수집 방법 A ~ C의 일반적인 특징에 대한 설명으로 옳은 것은? (단, A ~ C는 각각 면접법, 질문지법, 참여 관찰법 중 하나이다.) [3점]



- ① A는 B에 비해 주관적 인식의 심층적 파악이 용이하다.
- ② B는 C에 비해 예상하지 못한 변수의 통제가 어렵다.
- ③ C는 A에 비해 수집한 자료의 통계 분석이 용이하다.
- ④ A, C는 B와 달리 질적 자료를 수집하는 데 용이하다.
- ⑤ A ~ C는 모두 경험적 자료를 수집할 수 있다.

14. 밑줄 친 ㉠ ~ ㉣에 대한 옳은 설명을 <보기>에서 고른 것은?

갑은 ㉠ 1인 방송 진행자가 되길 원했지만 ㉡ 어머니 을의 뜻에 따라 ㉢ 대기업에 입사하였다. 그 후 자신의 업무에 보람을 느끼며 최선을 다한 갑은 뛰어난 업무 능력을 인정받아 동료들에 비해 ㉣ 높은 연봉을 받게 되었고, 해외 근무자로 추천되었다. 갑은 해외 근무를 하면 승진에 유리하지만 외롭게 생활해야 한다는 점 때문에 ㉤ 고민하고 있다.

<보 기>

- ㄱ. ㉠과 ㉡은 후천적으로 획득하는 지위이다.
- ㄴ. ㉢은 갑과 을의 준거 집단이자 소속 집단이다.
- ㄷ. ㉣은 갑의 역할 행동에 대한 보상이다.
- ㄹ. ㉤은 갑의 역할 갈등에 해당한다.

- ① ㄱ, ㄴ ② ㄱ, ㄷ ③ ㄴ, ㄷ ④ ㄴ, ㄹ ⑤ ㄷ, ㄹ

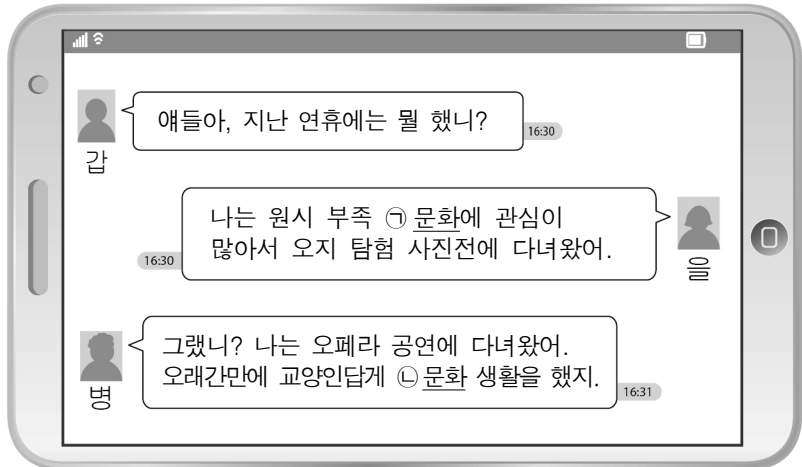
15. 다음 자료에 제시된 문제에 대한 답안으로 옳지 않은 것은?

2019학년도 제1학기 중간고사	<서술형 문제지> 사회·문화	2019. 00. 00. 0교시
1. 문화의 속성 (가) ~ (마)에 대한 적절한 사례를 각각 서술하시오.		
속성	의미	
(가)	문화는 후천적으로 습득된다.	
(나)	문화는 사회 구성원들의 삶에서 공통으로 나타난다.	
(다)	문화는 시간이 흐르면서 새로운 형태를 갖추게 된다.	
(라)	문화의 구성 요소들은 유기적으로 연관되어 있다.	
(마)	문화는 세대 간 전승 과정에서 그 내용이 풍부해진다.	

- ① (가) - 노인 세대가 스마트폰으로 사진 찍는 방법을 익혀 풍경이나 자신의 모습을 촬영한다.
- ② (나) - 외국인인 미역국을 보고 생일이나 산후 조리를 연상하는 우리나라 사람을 이해하지 못한다.
- ③ (다) - 예전에는 산파의 도움으로 집에서 출산하였으나 지금은 대부분 병원에서 출산한다.
- ④ (라) - 원격 진료 시스템이나 온라인 교육 프로그램의 등장은 정보통신 기술의 발달과 관련되어 있다.
- ⑤ (마) - 거주 지역별로 결혼 이주 여성들이 사용하는 사투리가 서로 다르다.

사회탐구 영역

16. 밑줄 친 ㉠, ㉡에 대한 설명으로 옳은 것은?



- ① ㉠은 정신적, 예술적으로 높은 수준에 도달한 것만을 의미한다.
- ② ㉡은 '청소년 문화'에서 사용된 '문화'와 의미가 동일하다.
- ③ ㉠에는 ㉡과 달리 인간의 본능적 행위도 포함된다.
- ④ ㉡에는 ㉠과 달리 진화나 발전과 같은 평가적 의미가 내포되어 있다.
- ⑤ ㉠, ㉡은 모두 인간이 후천적으로 습득한 생활양식 전체를 의미한다.

17. 사회·문화 현상의 연구 방법 A, B의 일반적 특징에 대한 설명으로 옳은 것은? (단, A, B는 각각 양적 연구 방법, 질적 연구 방법 중 하나이다.) [3점]

사회 과학에서 널리 활용되는 연구 방법 A, B는 연구 목적에 따라 구분하여 사용되는 것이 일반적이다. 그런데 최근에는 이 두 연구 방법을 함께 사용하는 연구가 증가하고 있다. 이는 A로 연구하기 어려운 행위자의 주관적 인식에 대해 B를 통해 보완하여 연구할 수 있으며, B가 갖는 객관성 부족과 일반화의 어려움을 A로 보완할 수 있기 때문이다.

- ① A는 방법론적 이원론에 기초한다.
- ② B는 직관적 통찰을 통한 의미 해석을 중시한다.
- ③ A는 B와 달리 일기, 편지 등과 같은 비공식적 자료를 중시한다.
- ④ B는 A와 달리 변수 간의 관계 검증을 중시한다.
- ⑤ A, B는 모두 연구자가 연구 대상으로부터 분리될 수 있다고 본다.

18. 다음에서 공통적으로 강조하는 사회·문화 현상의 탐구 태도로 가장 적절한 것은?

- 연구자는 아무런 이해관계가 없는 제3자의 입장에서 사회·문화 현상을 파악하기 위해 노력해야 한다.
- 연구자는 자신의 주관적 가치뿐만 아니라 자신이 속한 사회의 지배적인 가치가 연구에 개입되는 것을 방지하기 위해 노력해야 한다.

- ① 현상을 있는 그대로 관찰하는 태도
- ② 다른 사람들의 비판을 허용하는 태도
- ③ 개별 사회의 특수성을 인정하는 태도
- ④ 개인과 공동체의 조화를 중시하는 태도
- ⑤ 어떤 주장도 검증되기 전까지는 가설로만 받아들이는 태도

19. (가), (나)에서 각각 강조되는 문화 이해의 관점에 대한 옳은 설명을 <보기>에서 고른 것은? [3점]

(가) 한국, 중국, 일본은 모두 숟가락을 사용하지만 쓰임새와 모양은 각기 다르다. 한국의 숟가락은 밥을 뜨기 위해 우묵한 타원형에 긴 자루가 붙은 형태이다. 중국은 국이나 탕을 먹을 때만 사용하는데, 넓은 원형이고 자루와 음식을 뜨는 부분의 구분이 뚜렷하지 않다. 일본은 음식을 나눌 때 사용하는데, 한국의 국자와 비슷하게 생겼다.

(나) 일본은 밥, 국, 반찬으로 이루어진 식문화를 가지고 있으나 식사할 때 숟가락을 잘 사용하지 않는다. 그 이유는 주로 먹는 쌀의 종류와 사용하는 그릇의 특성과 관련된다. 일본은 차진 성분이 많은 쌀로 밥을 지어 먹는데 젓가락만으로도 충분히 밥을 뜯 수 있다. 또한 대략 16세기 이전까지 도자기 제작 기술이 없어 나무 그릇을 많이 사용했는데, 나무 그릇은 열전도율이 낮아 뜨거운 음식을 그릇째 들고 먹을 수 있어 굳이 숟가락을 사용하지 않아도 되었다.

<보 기>

- ㄱ. (가)의 관점은 서로 다른 문화 간의 공통점과 차이점을 파악하고자 한다.
- ㄴ. (나)의 관점은 문화가 부분이 아닌 전체로서의 의미를 갖는다고 본다.
- ㄷ. (가)의 관점은 (나)의 관점과 달리 서로 다른 문화 요소와의 관련 속에서 문화를 이해하는 데 유용하다.
- ㄹ. (나)의 관점은 (가)의 관점과 달리 자문화의 특징을 객관적으로 이해하는 데 유용하다.

- ① ㄱ, ㄴ ② ㄱ, ㄷ ③ ㄴ, ㄷ ④ ㄴ, ㄹ ⑤ ㄷ, ㄹ

20. 다음 자료에 대한 옳은 설명을 <보기>에서 고른 것은?

갑은 ㉠○○병원 종사자 100명을 대상으로 그들이 소속된 사회 조직을 조사하였다. 조사 결과는 다음과 같다.

<사회 조직별 응답자 수>

구분	○○병원	○○병원 노동조합	○○병원 내 독서 소모임	□□시민 단체	△△ 의료 봉사자 협회
응답자 수(명)	100	60	15	35	80

* 무응답은 없으며, 수치는 복수 응답을 포함한 결과임.

<보 기>

- ㄱ. ㉠은 조직 목표가 분명하고 다른 조직과의 경계가 뚜렷하다.
- ㄴ. 조사 결과에 나타난 공식 조직은 1개이다.
- ㄷ. 비공식 조직에 소속된 응답자의 수는 15명이다.
- ㄹ. 자발적 결사체에 소속된 응답자의 비율은 조사대상자의 80% 미만이다.

- ① ㄱ, ㄴ ② ㄱ, ㄷ ③ ㄴ, ㄷ ④ ㄴ, ㄹ ⑤ ㄷ, ㄹ

※ 확인 사항

- 답안지의 해당란에 필요한 내용을 정확히 기입(표기)했는지 확인하십시오.