

*최근 수정일 : 2023.11.20

■ [공통: 수학 I·수학 II]

01. ① 02. ④ 03. ② 04. ① 05. ④
06. ④ 07. ⑤ 08. ② 09. ④ 10. ②
11. ① 12. ③ 13. ① 14. ① 15. ③
16. 2 17. 8 18. 9 19. 32
20. 25 21. 10 22. 483

1. 출제의도 : 지수법칙을 이용하여 식의 값을 구할 수 있는가?

정답풀이 :

$$\begin{aligned} & \sqrt[3]{24 \times 3^3} \\ &= (2^3 \times 3)^{\frac{1}{3}} \times 3^{\frac{2}{3}} \\ &= (2^3)^{\frac{1}{3}} \times 3^{\frac{1}{3}} \times 3^{\frac{2}{3}} \\ &= 2^{3 \times \frac{1}{3}} \times 3^{\frac{1}{3} + \frac{2}{3}} \\ &= 2^1 \times 3^1 \\ &= 6 \end{aligned}$$

정답 ①

2. 출제의도 : 미분법을 이용하여 미분계수를 구할 수 있는가?

정답풀이 :

$$\begin{aligned} f(x) &= 2x^3 - 5x^2 + 3 \text{에서} \\ f'(x) &= 6x^2 - 10x \text{이므로} \\ \lim_{h \rightarrow 0} \frac{f(2+h) - f(2)}{h} &= f'(2) \\ &= 24 - 20 \\ &= 4 \end{aligned}$$

정답 ④

3. 출제의도 : 삼각함수의 성질을 이용하여 삼각함수의 값을 구할 수 있는가?

정답풀이 :

$$\sin(-\theta) = -\sin\theta = \frac{1}{3} \text{에서}$$

$$\sin\theta = -\frac{1}{3}$$

$$\frac{3}{2}\pi < \theta < 2\pi \text{이므로}$$

$$\cos\theta = \sqrt{1 - \sin^2\theta} = \sqrt{1 - \frac{1}{9}} = \frac{2\sqrt{2}}{3}$$

$$\tan\theta = \frac{\sin\theta}{\cos\theta} = -\frac{1}{2\sqrt{2}} = -\frac{\sqrt{2}}{4}$$

정답 ②

4. 출제의도 : 함수의 연속의 정의와 성질을 이용하여 미지수의 값을 구할 수 있는가?

정답풀이 :

함수 $f(x)$ 가 실수 전체의 집합에서 연속이므로 함수 $f(x)$ 는 $x=2$ 에서도 연속이어야 한다. 즉,

$$\lim_{x \rightarrow 2^-} f(x) = \lim_{x \rightarrow 2^+} f(x) = f(2)$$

이때,

$$\begin{aligned} \lim_{x \rightarrow 2^-} f(x) &= \lim_{x \rightarrow 2^-} (3x - a) \\ &= 6 - a \end{aligned}$$

$$\begin{aligned} \lim_{x \rightarrow 2^+} f(x) &= \lim_{x \rightarrow 2^+} (x^2 + a) \\ &= 4 + a \end{aligned}$$

$$f(2) = 4 + a$$

그러므로

$$6 - a = 4 + a = 4 + a$$

따라서

$$2a = 2. \quad a = 1$$

정답 ①

5. 출제의도 : 다항함수의 부정적분을 구할 수 있는가?

정답풀이 :

$$f'(x) = 3x^2 - 6x \text{ 이므로}$$

$$f(x) = \int (3x^2 - 6x) dx$$

$$= x^3 - 3x^2 + C \quad (C \text{는 적분상수})$$

$$f(1) = 1 - 3 + C = 6 \text{ 에서 } C = 8$$

따라서

$$f(2) = 8 - 12 + 8 = 4$$

정답 ④

6. 출제의도 : 조건을 만족시키는 등비수열의 항을 구할 수 있는가?

정답풀이 :

$$S_4 - S_2 = a_3 + a_4 \text{ 이므로}$$

$$a_3 + a_4 = 3a_4, \quad a_3 = 2a_4$$

등비수열 $\{a_n\}$ 의 공비를 r 라 하면

$$a_5 = \frac{3}{4} \text{ 에서 } r \neq 0 \text{ 이고}$$

$$a_3 = 2a_4 \text{ 에서 } r = \frac{a_4}{a_3} = \frac{1}{2}$$

$$a_5 = a_1 \times r^4 \text{ 에서}$$

$$a_1 = a_5 \times \frac{1}{r^4} = \frac{3}{4} \times 2^4 = 12$$

$$a_5 = a_2 \times r^3 \text{ 에서}$$

$$a_2 = a_5 \times \frac{1}{r^3} = \frac{3}{4} \times 2^3 = 6$$

따라서 $a_1 + a_2 = 12 + 6 = 18$

정답 ④

7. 출제의도 : 다항함수의 극댓값과 극솟값을 갖는 x 의 값을 구할 수 있는가?

정답풀이 :

$$f(x) = \frac{1}{3}x^3 - 2x^2 - 12x + 4 \text{ 에서}$$

$$f'(x) = x^2 - 4x - 12$$

$$= (x+2)(x-6)$$

$$f'(x) = 0 \text{ 에서}$$

$$x = -2 \text{ 또는 } x = 6$$

함수 $f(x)$ 의 증가와 감소를 표로 나타내면 다음과 같다.

x	...	-2	...	6	...
$f'(x)$	+	0	-	0	+
$f(x)$	↗	극대	↘	극소	↗

함수 $f(x)$ 는 $x = -2$ 에서 극대이고, $x = 6$ 에서 극소이다.

따라서

$$\alpha = -2, \quad \beta = 6$$

이므로

$$\beta - \alpha = 6 - (-2) = 8$$

정답 ⑤

8. 출제의도 : 정적분의 성질을 이용하여 정적분의 값을 구할 수 있는가?

정답풀이 :

$$xf(x) - f(x) = 3x^4 - 3x \text{ 에서}$$

$$(x-1)f(x) = 3x(x-1)(x^2+x+1) \quad \text{..... } \textcircled{1}$$

$f(x)$ 가 삼차함수이고

$\textcircled{1}$ 이 x 에 대한 항등식이므로

$$f(x) = 3x(x^2+x+1)$$

따라서

$$\int_{-2}^2 f(x) dx$$

$$= \int_{-2}^2 3x(x^2 + x + 1)dx$$

$$= \int_{-2}^2 (3x^3 + 3x^2 + 3x)dx$$

$$= 2 \int_0^2 3x^2 dx$$

$$= 2 \times \left[x^3 \right]_0^2$$

$$= 2 \times 2^3$$

$$= 16$$

정답 ②

9. 출제의도 : 로그의 정의와 성질을 이용하여 미지수의 값을 구할 수 있는가?

정답풀이 :

수직선 위의 두 점 $P(\log_5 3)$, $Q(\log_5 12)$ 에 대하여 선분 PQ를 $m:(1-m)$ 으로 내분하는 점의 좌표가 1 이므로

$$\frac{m \times \log_5 12 + (1-m) \times \log_5 3}{m + (1-m)} = 1$$

$$m \times \log_5 12 + (1-m) \times \log_5 3 = 1$$

$$m(\log_5 12 - \log_5 3) = 1 - \log_5 3$$

$$m \times \log_5 \frac{12}{3} = \log_5 \frac{5}{3}$$

$$m \times \log_5 4 = \log_5 \frac{5}{3}$$

이때,

$$m = \frac{\log_5 \frac{5}{3}}{\log_5 4}$$

$$= \log_4 \frac{5}{3}$$

따라서,

$$4^m = 4^{\log_4 \frac{5}{3}}$$

$$= \frac{5}{3}$$

정답 ④

10. 출제의도 : 적분을 이용하여 수직선 위의 움직이는 점이 움직인 거리를 구할 수 있는가?

정답풀이 :

시각 t 에서의 두 점 P, Q의 위치를 각각 $x_1(t)$, $x_2(t)$ 라 하면

$$x_1(t) = 0 + \int_0^t (t^2 - 6t + 5)dt$$

$$= \frac{1}{3}t^3 - 3t^2 + 5t,$$

$$x_2(t) = 0 + \int_0^t (2t - 7)dt$$

$$= t^2 - 7t$$

이므로

$$f(t) = |x_1(t) - x_2(t)| \\ = \left| \frac{1}{3}t^3 - 4t^2 + 12t \right|$$

이다. 함수 $g(t)$ 를

$$g(t) = \frac{1}{3}t^3 - 4t^2 + 12t \text{라 하면}$$

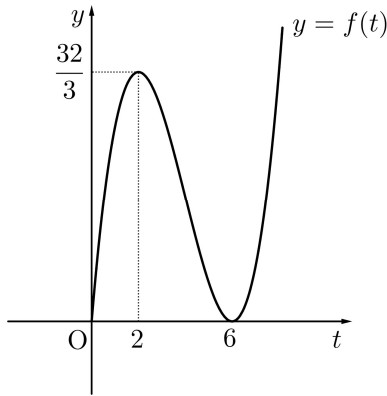
$$g'(t) = t^2 - 8t + 12 = (t-2)(t-6)$$

$$g'(t) = 0 \text{에서 } t=2 \text{ 또는 } t=6$$

$t \geq 0$ 에서 함수 $g(t)$ 의 증가와 감소를 표로 나타내면 다음과 같다.

t	0	...	2	...	6	...
$g'(t)$		+	0	-	0	+
$g(t)$	0	↗	$\frac{32}{3}$	↘	0	↗

$t \geq 0$ 인 모든 실수 t 에 대하여 $g(t) \geq 0$ 이므로 $f(t) = g(t)$ 이고 함수 $y = f(t)$ 의 그래프는 그림과 같다.



함수 $f(t)$ 는 구간 $[0, 2]$ 에서 증가하고, 구간 $[2, 6]$ 에서 감소하고, 구간 $[6, \infty)$ 에서 증가한다. 즉, $a=2$, $b=6$ 이다.

시각 $t=2$ 에서 $t=6$ 까지 점 Q가 움직인 거리는

$$\begin{aligned} \int_2^6 |v_2(t)| dt &= \int_2^6 |2t-7| dt \\ &= \int_2^{\frac{7}{2}} (7-2t) dt + \int_{\frac{7}{2}}^6 (2t-7) dt \\ &= \left[7t - t^2 \right]_2^{\frac{7}{2}} + \left[t^2 - 7t \right]_{\frac{7}{2}}^6 \\ &= \frac{9}{4} + \frac{25}{4} = \frac{17}{2} \end{aligned}$$

정답 ②

11. 출제의도 : 등차수열의 합을 구할 수 있는가?

정답풀이 :

$$|a_6| = a_8 \text{에서}$$

$$a_6 = a_8 \text{ 또는 } -a_6 = a_8 \quad \dots \textcircled{㉠}$$

등차수열 $\{a_n\}$ 의 공차가 0이 아니므로

$$a_6 \neq a_8 \quad \dots \textcircled{㉡}$$

$\textcircled{㉠}$, $\textcircled{㉡}$ 에서

$$-a_6 = a_8 \text{ 즉,}$$

$$a_6 + a_8 = 0 \quad \dots \textcircled{㉢}$$

한편, $|a_6| = a_8$ 에서

$a_8 \geq 0$ 이고, $a_6 + a_8 = 0$ 이므로

$$a_6 < 0 < a_8 \text{이다.}$$

즉, 등차수열 $\{a_n\}$ 의 공차는 양수이다.

등차수열 $\{a_n\}$ 의 공차를 $d(d > 0)$ 이라 하면 $\textcircled{㉢}$ 에서

$$(a_1 + 5d) + (a_1 + 7d) = 0$$

$$a_1 = -6d \quad \dots \textcircled{㉣}$$

한편, $\sum_{k=1}^5 \frac{1}{a_k a_{k+1}} = \frac{5}{96}$ 에서

$$\begin{aligned} \sum_{k=1}^5 \frac{1}{a_k a_{k+1}} &= \sum_{k=1}^5 \frac{1}{a_{k+1} - a_k} \left(\frac{1}{a_k} - \frac{1}{a_{k+1}} \right) \\ &= \sum_{k=1}^5 \frac{1}{d} \left(\frac{1}{a_k} - \frac{1}{a_{k+1}} \right) \\ &= \frac{1}{d} \left\{ \left(\frac{1}{a_1} - \frac{1}{a_2} \right) + \left(\frac{1}{a_2} - \frac{1}{a_3} \right) + \left(\frac{1}{a_3} - \frac{1}{a_4} \right) + \right. \\ &\quad \left. + \left(\frac{1}{a_4} - \frac{1}{a_5} \right) + \left(\frac{1}{a_5} - \frac{1}{a_6} \right) \right\} \end{aligned}$$

$$= \frac{1}{d} \left(\frac{1}{a_1} - \frac{1}{a_6} \right)$$

$$= \frac{1}{d} \left(\frac{1}{a_1} - \frac{1}{a_1 + 5d} \right)$$

$$= \frac{1}{d} \times \frac{5d}{a_1(a_1 + 5d)}$$

$$= \frac{5}{a_1(a_1 + 5d)}$$

이므로

$$\frac{5}{a_1(a_1 + 5d)} = \frac{5}{96}$$

$$a_1(a_1 + 5d) = 96 \quad \dots \textcircled{㉤}$$

$\textcircled{㉣}$ 을 $\textcircled{㉤}$ 에 대입하면

$$-6d \times (-d) = 96$$

$$d^2 = 16$$

$d > 0$ 이므로

$$d = 4$$

$d = 4$ 를 ㉠에 대입하면

$$a_1 = -6 \times 4 = -24$$

따라서

$$\begin{aligned} & \sum_{k=1}^{15} a_k \\ &= \frac{15\{2 \times (-24) + 14 \times 4\}}{2} \\ &= 60 \end{aligned}$$

정답 ①

12. 출제의도 :

곡선과 x 축으로 둘러싸인 부분의 넓이의 최댓값을 구할 수 있는가?

정답풀이 :

함수 $g(x)$ 는 $x \geq t$ 일 때, 점 $(t, f(t))$ 를 지나고 기울기가 -1 인 직선이므로 이 직선은 x 축과 점 $(t+f(t), 0)$ 에서 만난다.

그러므로 함수 $y=g(x)$ 의 그래프와 x 축으로 둘러싸인 부분의 넓이를 $S(t)$ 라 하면

$$S(t) = \int_0^t f(x)dx + \frac{1}{2} \times \{f(t)\}^2$$

이때, 양변을 미분하면

$$\begin{aligned} S'(t) &= f(t) + f(t) \times f'(t) \\ &= f(t)\{1 + f'(t)\} \end{aligned}$$

한편, $f(x) = \frac{1}{9}x(x-6)(x-9)$ 이므로

$$0 < t < 6 \text{에서 } f(t) > 0$$

또,

$$\begin{aligned} & 1 + f'(t) \\ &= 1 + \frac{1}{9} \{(t-6)(t-9) + t(t-9) + t(t-6)\} \\ &= 1 + \frac{1}{9} \{(t^2 - 15t + 54) + (t^2 - 9t)\} \end{aligned}$$

$$\begin{aligned} & + (t^2 - 6t)\} \\ &= 1 + \frac{1}{9}(3t^2 - 30t + 54) \\ &= 1 + \frac{1}{3}(t^2 - 10t + 18) \\ &= \frac{1}{3}(t^2 - 10t + 21) \\ &= \frac{1}{3}(t-3)(t-7) \end{aligned}$$

그러므로 $0 < t < 6$ 에서 $S(t)$ 의 증가와 감소는 다음 표와 같다.

t	(0)	...	3	...	(6)
$S'(t)$		+	0	-	
$S(t)$		↗	(극대)	↘	

그러므로 $S(t)$ 는 $t=3$ 에서 극대이면서 최대이다.

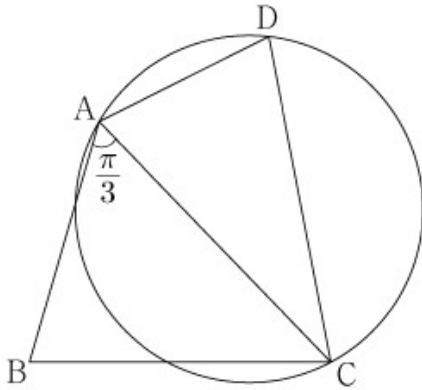
따라서, 최댓값은

$$\begin{aligned} & S(3) \\ &= \int_0^3 f(x)dx + \frac{1}{2} \{f(3)\}^2 \\ &= \frac{1}{9} \int_0^3 x(x-6)(x-9)dx \\ & \quad + \frac{1}{2} \times \left\{ \frac{1}{9} \times 3 \times (-3) \times (-6) \right\}^2 \\ &= \frac{1}{9} \int_0^3 (x^3 - 15x^2 + 54x)dx + 18 \\ &= \frac{1}{9} \left[\frac{1}{4}x^4 - 5x^3 + 27x^2 \right]_0^3 + 18 \\ &= \frac{1}{9} \times \left(\frac{1}{4} \times 81 - 5 \times 27 + 27 \times 9 \right) + 18 \\ &= \left(\frac{9}{4} - 15 + 27 \right) + 18 \\ &= \left(\frac{9}{4} + 12 \right) + 18 \\ &= \frac{9}{4} + 30 \\ &= \frac{129}{4} \end{aligned}$$

정답 ③

13. 출제의도 : 사인법칙, 코사인법칙 및 삼각형의 넓이를 활용하여 외접원의 반지름의 길이를 구할 수 있는가?

정답풀이 :



삼각형 ABC에서

$$\overline{AC} = a (a > 0)$$

이라 하면

코사인법칙에 의해

$$\overline{BC}^2 = \overline{AB}^2 + \overline{AC}^2$$

$$-2 \times \overline{AB} \times \overline{AC} \times \cos(\angle BAC)$$

$$(\sqrt{13})^2 = 3^2 + a^2 - 2 \times 3 \times a \times \cos \frac{\pi}{3}$$

$$a^2 - 3a - 4 = 0$$

$$(a+1)(a-4) = 0$$

$a > 0$ 이므로

$$a = 4$$

즉, $\overline{AC} = 4$

삼각형 ABC의 넓이 S_1 은

$$S_1 = \frac{1}{2} \times \overline{AB} \times \overline{AC} \times \sin(\angle BAC)$$

$$= \frac{1}{2} \times 3 \times 4 \times \sin \frac{\pi}{3}$$

$$= \frac{1}{2} \times 3 \times 4 \times \frac{\sqrt{3}}{2}$$

$$= 3\sqrt{3}$$

$$\overline{AD} \times \overline{CD} = 9$$

이므로

삼각형 ACD의 넓이 S_2 는

$$S_2 = \frac{1}{2} \times \overline{AD} \times \overline{CD} \times \sin(\angle ADC)$$

$$= \frac{9}{2} \sin(\angle ADC)$$

이때, $S_2 = \frac{5}{6} S_1$ 이므로

$$\frac{9}{2} \sin(\angle ADC) = \frac{5}{6} \times 3\sqrt{3}$$

$$\sin(\angle ADC) = \frac{5\sqrt{3}}{9}$$

삼각형 ACD에서

사인법칙에 의해

$$\frac{\overline{AC}}{\sin(\angle ADC)} = 2R$$

이므로

$$\frac{4}{\frac{5\sqrt{3}}{9}} = 2R$$

$$R = \frac{6\sqrt{3}}{5}$$

따라서

$$\frac{R}{\sin(\angle ADC)} = \frac{\frac{6\sqrt{3}}{5}}{\frac{5\sqrt{3}}{9}}$$

$$= \frac{54}{25}$$

정답 ①

14. 출제의도 : 새롭게 정의된 함수가 조건을 만족시키도록 하는 두 자연수의 순서쌍을 구할 수 있는가?

정답풀이 :

$x \leq 2$ 일 때,

$$f(x) = 2x^3 - 6x + 1 \text{ 에서}$$

$$f'(x) = 6x^2 - 6 = 6(x-1)(x+1) \text{ 이므로}$$

$$f'(x) = 0 \text{ 에서 } x = -1 \text{ 또는 } x = 1$$

$x \leq 2$ 에서 함수 $f(x)$ 의 증가와 감소를 표
로 나타내면 다음과 같다.

x	...	-1	...	1	...	2
$f'(x)$	+	0	-	0	+	
$f(x)$	↗	5	↘	-3	↗	5

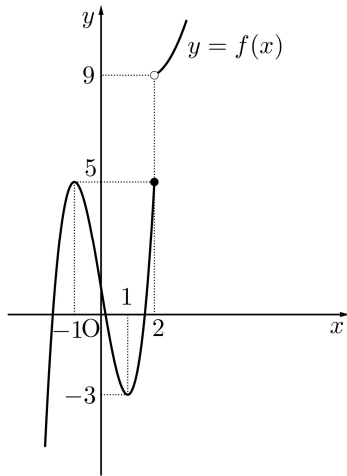
또한, a, b 가 자연수이므로 곡선

$$y = a(x-2)(x-b) + 9$$

는 점 $(2, 9)$ 와 점 $(b, 9)$ 를 지나고 아래
로 볼록한 포물선이다.

(i) $b=1$ 또는 $b=2$ 인 경우

함수 $f(x)$ 는 $x > 2$ 에서 증가하고, 함수
 $y = f(x)$ 의 그래프는 그림과 같다.



이때 $-3 < k < 5$ 인 모든 실수 k 에 대하
여

$$g(k) = \lim_{t \rightarrow k^-} g(t) = \lim_{t \rightarrow k^+} g(t) = 3 \quad \text{..... } \textcircled{7}$$

이므로

$$g(k) + \lim_{t \rightarrow k^-} g(t) + \lim_{t \rightarrow k^+} g(t) = 9 \quad \text{..... } \textcircled{8}$$

을 만족시키는 실수 k 의 개수가 1 이 아
니다.

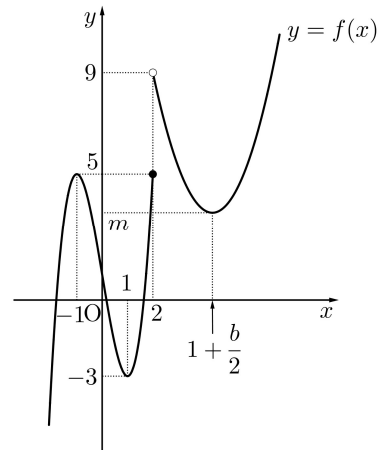
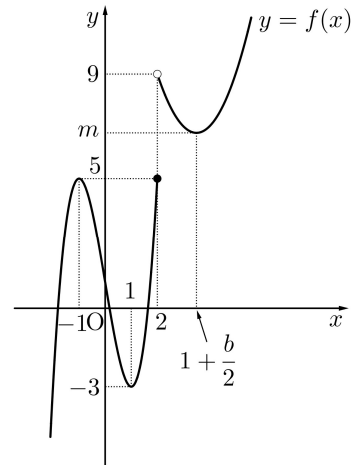
(ii) $b \geq 3$ 인 경우

곡선 $y = a(x-2)(x-b) + 9$ 는 직선

$x = \frac{2+b}{2} = 1 + \frac{b}{2}$ 에 대하여 대칭이므로

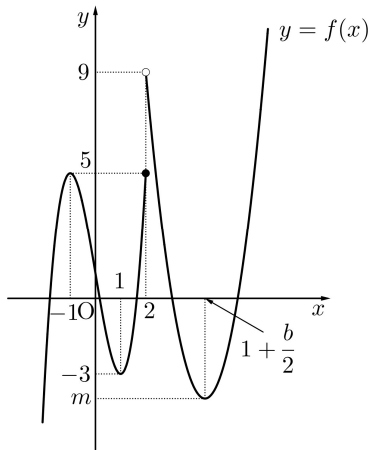
함수 $f(x)$ 는 $x = 1 + \frac{b}{2}$ 에서 극솟값을 갖
는다. 이 극솟값을 m 이라 하자.

(ii - ①) $m > -3$ 인 경우



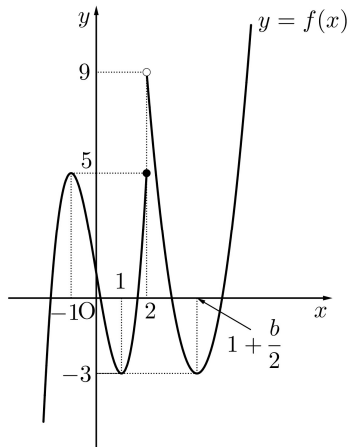
m 과 5 중에 크지 않은 값을 m_1 이라 하
면 $-3 < k < m_1$ 인 모든 실수 k 에 대하
여 $\textcircled{7}$ 이 성립하므로 $\textcircled{8}$ 을 만족시키는 실
수 k 의 개수가 1 이 아니다.

(ii - ②) $m < -3$ 인 경우



$m < k < -3$ 인 모든 실수 k 에 대하여 ㉠이 성립하므로 ㉡을 만족시키는 실수 k 의 개수가 1이 아니다.

(ii-㉢) $m = -3$ 인 경우



k 의 값에 따라 $g(k)$, $\lim_{t \rightarrow k^-} g(k)$,

$\lim_{t \rightarrow k^+} g(k)$ 의 값을 구하면 다음과 같다.

	$g(k)$	$\lim_{t \rightarrow k^-} g(k)$	$\lim_{t \rightarrow k^+} g(k)$
$k < -3$	1	1	1
$k = -3$	3	1	5
$-3 < k < 5$	5	5	5
$k = 5$	4	5	2
$5 < k < 9$	2	2	2
$k = 9$	1	2	1
$k > 9$	1	1	1

즉, ㉡을 만족시키는 실수 k 의 값은 -3 뿐이므로 문제의 조건을 만족시킨다.

(i), (ii)에서 $b \geq 3$, $m = -3$ 이다.

$$f\left(1 + \frac{b}{2}\right) = -3 \text{에서}$$

$$a\left(\frac{b}{2} - 1\right)\left(1 - \frac{b}{2}\right) + 9 = -3$$

$$a(b-2)^2 = 48$$

$48 = 2^4 \times 3$ 이므로 구하는 두 자연수 a ,

b 의 모든 순서쌍 (a, b) 는

$(48, 3)$, $(12, 4)$, $(3, 6)$

이다.

따라서 $a+b$ 의 최댓값은 $48+3=51$ 이다.

정답 ①

15. 출제의도 : 수열의 귀납적 정의를 이용하여 수열의 첫째항의 값을 구할 수 있는가?

정답풀이 :

a_n 이 홀수일 때

$$a_{n+1} = 2^{a_n} \text{은 자연수이고}$$

a_n 이 짝수일 때

$$a_{n+1} = \frac{1}{2} a_n \text{은 자연수이다.}$$

이때 a_1 이 자연수이므로

수열 $\{a_n\}$ 의 모든 항은 자연수이다.

$$a_6 + a_7 = 3 \text{에서}$$

$$a_6 = 1, a_7 = 2 \text{ 또는 } a_6 = 2, a_7 = 1$$

이다.

(i) $a_6 = 1$ 일 때,

$a_6 = 1$ 이고 a_5 가 홀수인 경우

$$a_6 = 2^{a_5} \text{에서}$$

$$1 = 2^{a_5}$$

이 등식을 만족시키는 자연수 a_5 의 값은

없다.

$a_6 = 1$ 이고 a_5 가 짝수인 경우

$$a_6 = \frac{1}{2}a_5 \text{에서}$$

$$1 = \frac{1}{2}a_5$$

$$a_5 = 2$$

a_4 를 구해보자.

$a_5 = 2$ 이고 a_4 가 홀수인 경우

$$a_5 = 2^{a_4} \text{에서}$$

$$2 = 2^{a_4}$$

$$a_4 = 1$$

$a_5 = 2$ 이고 a_4 가 짝수인 경우

$$a_5 = \frac{1}{2}a_4 \text{에서}$$

$$2 = \frac{1}{2}a_4$$

$$a_4 = 4$$

a_3 을 구해보자.

$a_4 = 1$ 일 때

$$a_3 = 2$$

$a_4 = 4$ 이고 a_3 이 홀수인 경우

$$a_4 = 2^{a_3} \text{에서}$$

$$4 = 2^{a_3}$$

$$a_3 = 2$$

이때, a_3 이 짝수이므로 모순이다.

$a_4 = 4$ 이고 a_3 이 짝수인 경우

$$a_4 = \frac{1}{2}a_3 \text{에서}$$

$$4 = \frac{1}{2}a_3$$

$$a_3 = 8$$

a_2 를 구해보자.

$a_3 = 2$ 일 때

$$a_2 = 1 \text{ 또는 } a_2 = 4$$

$a_3 = 8$ 이고 a_2 가 홀수인 경우

$$a_3 = 2^{a_2} \text{에서}$$

$$8 = 2^{a_2}$$

$$a_2 = 3$$

$a_3 = 8$ 이고 a_2 가 짝수인 경우

$$a_3 = \frac{1}{2}a_2 \text{에서}$$

$$8 = \frac{1}{2}a_2$$

$$a_2 = 16$$

a_1 을 구해보자.

$a_2 = 1$ 일 때

$$a_1 = 2$$

$a_2 = 4$ 일 때

$$a_1 = 8$$

$a_2 = 3$ 이고 a_1 이 홀수인 경우

$$a_2 = 2^{a_1} \text{에서}$$

$$3 = 2^{a_1}$$

이 등식을 만족시키는 자연수 a_1 의 값은 없다.

$a_2 = 3$ 이고 a_1 이 짝수인 경우

$$a_2 = \frac{1}{2}a_1 \text{에서}$$

$$3 = \frac{1}{2}a_1$$

$$a_1 = 6$$

$a_2 = 16$ 이고 a_1 이 홀수인 경우

$$a_2 = 2^{a_1} \text{에서}$$

$$16 = 2^{a_1}$$

$$a_1 = 4$$

이때 a_1 이 짝수이므로 모순이다.

$a_2 = 16$ 이고 a_1 이 짝수인 경우

$$a_2 = \frac{1}{2}a_1 \text{에서}$$

$$16 = \frac{1}{2}a_1$$

$$a_1 = 32$$

따라서 a_1 의 값은

2 또는 6 또는 8 또는 32이다.

(ii) $a_6 = 2$ 일 때,

(i)의 과정을 이용하면

$a_2 = 2$ 또는 $a_2 = 6$ 또는 $a_2 = 8$ 또는

$$a_2 = 32$$

a_1 을 구해보자.

$a_2 = 2$ 이고 a_1 이 홀수인 경우

$$a_2 = 2^{a_1}$$

$$2 = 2^{a_1}$$

$$a_1 = 1$$

$a_2 = 2$ 이고 a_1 이 짝수인 경우

$$a_2 = \frac{1}{2}a_1$$

$$2 = \frac{1}{2}a_1$$

$$a_1 = 4$$

$a_2 = 6$ 이고 a_1 이 홀수인 경우

$$a_2 = 2^{a_1}$$

$$6 = 2^{a_1}$$

이 등식을 만족시키는 자연수 a_1 의 값은 없다.

$a_2 = 8$ 이고 a_1 이 짝수인 경우

$$a_2 = \frac{1}{2}a_1$$

$$8 = \frac{1}{2}a_1$$

$$a_1 = 12$$

$a_2 = 8$ 이고 a_1 이 홀수인 경우

$$a_2 = 2^{a_1}$$

$$8 = 2^{a_1}$$

$$a_1 = 3$$

$a_2 = 8$ 이고 a_1 이 짝수인 경우

$$a_2 = \frac{1}{2}a_1$$

$$8 = \frac{1}{2}a_1$$

$$a_1 = 16$$

$a_2 = 32$ 이고 a_1 이 홀수인 경우

$$a_2 = 2^{a_1}$$

$$32 = 2^{a_1}$$

$$a_1 = 5$$

$a_2 = 32$ 이고 a_1 이 짝수인 경우

$$a_2 = \frac{1}{2}a_1$$

$$32 = \frac{1}{2}a_1$$

$$a_1 = 64$$

따라서 a_1 의 값은

1 또는 3 또는 4 또는 5 또는 12 또는 16 또는 64이다.

(i), (ii)에서

모든 a_1 의 값의 합은

$$(2+6+8+32) + (1+3+4+5+12+16+64) = 153$$

정답 ③

16. 출제의도 : 지수에 미지수가 포함된 방정식을 풀 수 있는가?

정답풀이 :

$$3^{x-8} = \left(\frac{1}{27}\right)^x$$

$$3^{x-8} = (3^{-3})^x$$

$$3^{x-8} = 3^{-3x}$$

그러므로

$$x-8 = -3x$$

$$4x = 8$$

$$x = 2$$

정답 2

17. 출제의도 : 도함수와 미분법을 이용하여 미분계수를 구할 수 있는가?

정답풀이 :

$$f(x) = (x+1)(x^2+3) \text{이므로}$$

$$f'(x) = (x^2+3) + (x+1) \times 2x$$

따라서,

$$f'(1) = (1+3) + 2 \times 2$$

$$= 8$$

정답 8

18. 출제의도 : 수열의 합의 기호의 성질을 이용하여 수열의 합을 구할 수 있는가?

정답풀이 :

$$\sum_{k=1}^{10} a_k = \sum_{k=1}^{10} (2b_k - 1)$$

$$= 2 \sum_{k=1}^{10} b_k - 10 \quad \dots \textcircled{A}$$

$$\sum_{k=1}^{10} (3a_k + b_k) = 33 \text{에서}$$

$$3 \sum_{k=1}^{10} a_k + \sum_{k=1}^{10} b_k = 33$$

$$\sum_{k=1}^{10} b_k = -3 \sum_{k=1}^{10} a_k + 33 \quad \dots \textcircled{B}$$

①을 ②에 대입하면

$$\sum_{k=1}^{10} b_k = -3 \left(2 \sum_{k=1}^{10} b_k - 10 \right) + 33$$

$$\sum_{k=1}^{10} b_k = -6 \sum_{k=1}^{10} b_k + 63$$

$$7 \sum_{k=1}^{10} b_k = 63$$

따라서

$$\sum_{k=1}^{10} b_k = 9$$

정답 9

19. 출제의도 : 삼각함수가 포함된 부등식을 해결할 수 있는가?

정답풀이 :

$$f(2+x) = \sin\left(\frac{\pi}{2} + \frac{\pi}{4}x\right) = \cos \frac{\pi}{4}x,$$

$$f(2-x) = \sin\left(\frac{\pi}{2} - \frac{\pi}{4}x\right) = \cos \frac{\pi}{4}x$$

이므로 주어진 부등식은

$$\cos^2 \frac{\pi}{4}x < \frac{1}{4}$$

즉,

$$-\frac{1}{2} < \cos \frac{\pi}{4}x < \frac{1}{2} \quad \dots \textcircled{C}$$

이다.

$$0 < x < 16 \text{에서 } 0 < \frac{\pi}{4}x < 4\pi \text{이므로 } \textcircled{C} \text{에}$$

서

$$\frac{\pi}{3} < \frac{\pi}{4}x < \frac{2}{3}\pi$$

$$\text{또는 } \frac{4}{3}\pi < \frac{\pi}{4}x < \frac{5}{3}\pi$$

$$\text{또는 } \frac{7}{3}\pi < \frac{\pi}{4}x < \frac{8}{3}\pi$$

$$\text{또는 } \frac{10}{3}\pi < \frac{\pi}{4}x < \frac{11}{3}\pi$$

이다. 즉,

$$\frac{4}{3} < x < \frac{8}{3} \quad \text{또는} \quad \frac{16}{3} < x < \frac{20}{3} \quad \text{또는}$$

$$\frac{28}{3} < x < \frac{32}{3} \quad \text{또는} \quad \frac{40}{3} < x < \frac{44}{3}$$

이므로 구하는 자연수 x 의 값은

2, 6, 10, 14이다.

따라서 구하는 모든 자연수 x 의 값의 합은

$$2+6+10+14=32$$

정답 32

20. 출제의도 : 접선의 방정식을 구하고, 이를 활용하여 두 선분의 길이의 곱을 구할 수 있는가?

정답풀이 :

$$f(x) = -x^3 + ax^2 + 2x \text{에서}$$

$$f'(x) = -3x^2 + 2ax + 2$$

$$f'(0) = 2$$

곡선 $y=f(x)$ 위의 점 $O(0, 0)$ 에서의 접선의 방정식은

$$y = 2x$$

이다.

곡선 $y=f(x)$ 와 직선 $y=2x$ 가 만나는 점의 x 좌표를 구해보자.

$$f(x) = 2x \text{에서}$$

$$-x^3 + ax^2 + 2x = 2x$$

$$x^2(x-a) = 0$$

$$x = 0 \text{ 또는 } x = a$$

점 A의 x 좌표는 0이 아니므로 점 A의 x 좌표는 a 이다. 즉, 점 A의 좌표는

$$(a, 2a)$$

이다.

점 A가 선분 OB를 지름으로 하는 원 위의 점이므로

$$\angle OAB = \frac{\pi}{2}$$

이다. 즉, 두 직선 OA와 AB는 서로 수직이다.

이때,

$$\begin{aligned} f'(a) &= -3a^2 + 2a^2 + 2 \\ &= -a^2 + 2 \end{aligned}$$

이므로

직선 AB의 기울기는 $-a^2 + 2$ 이다.

$$2 \times (-a^2 + 2) = -1 \text{에서}$$

$$a^2 = \frac{5}{2}$$

$$a > \sqrt{2} \text{이므로}$$

$$a = \frac{\sqrt{10}}{2}$$

점 A의 좌표는

$$\left(\frac{\sqrt{10}}{2}, \sqrt{10} \right)$$

이다.

곡선 $y=f(x)$ 위의 점 A에서의 접선의 방정식은

$$y = -\frac{1}{2} \left(x - \frac{\sqrt{10}}{2} \right) + \sqrt{10} \quad \text{..... } \textcircled{\ominus}$$

$\textcircled{\ominus}$ 에 $y=0$ 을 대입하면

$$0 = -\frac{1}{2} \left(x - \frac{\sqrt{10}}{2} \right) + \sqrt{10}$$

$$x = \frac{5\sqrt{10}}{2}$$

점 B의 좌표는

$$\left(\frac{5\sqrt{10}}{2}, 0 \right)$$

이다.

따라서

$$\overline{OA} = \sqrt{\left(\frac{\sqrt{10}}{2} \right)^2 + (\sqrt{10})^2} = \frac{5\sqrt{2}}{2},$$

$$\overline{AB} = \sqrt{\left(\frac{5\sqrt{10}}{2} - \frac{\sqrt{10}}{2} \right)^2 + (0 - \sqrt{10})^2} = 5\sqrt{2}$$

이므로

$$\overline{OA} \times \overline{AB} = \frac{5\sqrt{2}}{2} \times 5\sqrt{2} = 25$$

정답 25

21. 출제의도 : 로그함수의 그래프를 이해하고 함수 $g(t)$ 가 최솟값을 갖도록 하는 a 의 값의 범위를 구할 수 있는가?

정답풀이 :

$t=0$ 일 때, 구간 $[-1, 1]$ 에서 함수 $f(x)$ 는 $x=1$ 에서 최댓값 5를 가지므로

$$g(0)=5$$

한편, 함수 $y=-x^2+6x$ 는 직선 $x=3$ 에 대하여 대칭이고 $f(5)=5$ 이므로 $1 \leq t \leq 5$ 일 때,

$$g(t) \geq 5$$

한편,

$$f(5)=5 \text{이고 } f(6)=0$$

또, 구간 $[0, \infty)$ 에서 함수 $g(t)$ 가 최솟값을 5로 갖기 위해서는 $t=6$ 일 때, 구간 $[5, 7]$ 에서 함수 $f(x)$ 의 최댓값이 5이상이어야 하므로

$$f(7) \geq 5$$

즉,

$$a \log_4(7-5) \geq 5$$

$$a \times \log_2 2 \geq 5$$

$$a \times \frac{1}{2} \geq 5$$

$$a \geq 10$$

따라서, 양수 a 의 최솟값은 10이다.

정답 10

22. 출제의도 : 미분법을 이용하여 조건을 만족시키는 삼차함수를 구할 수 있는가?

정답풀이 :

문제의 조건으로부터

함수 $f(x)$ 가 모든 정수 k 에 대하여 $f(k-1)f(k+1) \geq 0$ 을 만족시켜야 한다. ㉠

함수 $f(x)$ 는 삼차함수이므로 방정식 $f(x)=0$ 은 반드시 실근을 갖는다.

(i) 방정식 $f(x)=0$ 의 실근의 개수가

1인 경우

방정식 $f(x)=0$ 의 실근을 a 라 할 때, a 보다 작은 정수 중 최댓값을 m 이라 하면

$$f(m) < 0 < f(m+2)$$

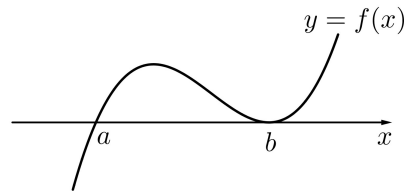
이므로 $f(m)f(m+2) < 0$ 이 되어 ㉠을 만족시키지 않는다.

(ii) 방정식 $f(x)=0$ 의 서로 다른 실근의 개수가 2인 경우

방정식 $f(x)=0$ 의 실근을 $a, b(a < b)$ 라 할 때, $f(x)=(x-a)(x-b)^2$ 또는

$$f(x)=(x-a)^2(x-b)$$
이다.

(ii-㉠) $f(x)=(x-a)(x-b)^2$ 일 때



a 보다 작은 정수 중 최댓값을 m 이라 하면

$$f(m-1) < 0, \quad f(m) < 0, \quad f(m+1) \geq 0, \quad f(m+2) \geq 0$$

이다. 이때 ㉠을 만족시키려면

$$f(m-1)f(m+1) \geq 0,$$

$$f(m)f(m+2) \geq 0 \text{이어야 하므로}$$

$$f(m+1)=f(m+2)=0 \text{이어야 한다.}$$

그러므로 $a=m+1, b=m+2$ 이다.

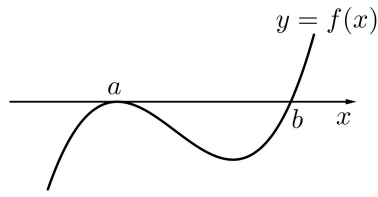
$$f'\left(\frac{1}{4}\right) < 0 \text{이므로 } m+1 < \frac{1}{4} < m+2 \text{이고}$$

정수 m 의 값은 -1 이다. ㉡

$$\text{즉, } f(x)=x(x-1)^2$$

그러나 이때 함수 $y=f(x)$ 의 그래프에서 $f'\left(-\frac{1}{4}\right) > 0$ 이므로 $f'\left(-\frac{1}{4}\right) = -\frac{1}{4}$ 을 만족시키지 않는다.

(ii-㉢) $f(x)=(x-a)^2(x-b)$ 일 때



만약 $a < n < b$ 인 정수 n 이 존재한다면 그 중 가장 큰 값을 n_1 이라 하자. 그러면 $f(n_1) < 0 < f(n_1 + 2)$

이므로 $f(n_1)f(n_1 + 2) < 0$ 이 되어 ㉠을 만족시키지 않는다. 즉, $a < n < b$ 인 정수 n 은 존재하지 않는다. …… ㉡

그러므로 a 보다 작은 정수 중 최댓값을 m 이라 하면

$$f(m-1) < 0, f(m) < 0, f(m+1) \geq 0, f(m+2) \geq 0$$

이고, ㉡과 마찬가지로 $a = m + 1, b = m + 2$, 정수 m 의 값은 -1 이다.

$$\text{즉, } f(x) = x^2(x-1)$$

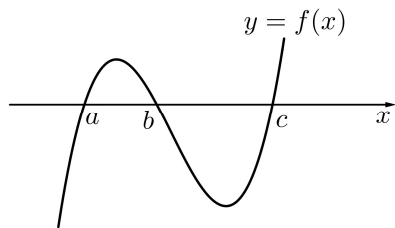
그러나 이때 함수 $y = f(x)$ 의 그래프에서 $f'(-\frac{1}{4}) > 0$ 이므로 $f'(-\frac{1}{4}) = -\frac{1}{4}$ 을

만족시키지 않는다

(iii) 방정식 $f(x) = 0$ 의 서로 다른 실근의 개수가 3인 경우

$$f(x) = (x-a)(x-b)(x-c) \quad (a < b < c)$$

라 하자.



이때 ㉡과 마찬가지로 $b < n < c$ 인 정수 n 은 존재하지 않는다. 그러므로 a 보다 작은 정수 중 최댓값을 m 이라 하면

$$f(m-1) < 0, f(m) < 0, f(m+1) \geq 0, f(m+2) \geq 0$$

이다. 이때 ㉠을 만족시키려면

$$f(m-1)f(m+1) \geq 0,$$

$$f(m)f(m+2) \geq 0 \text{ 이어야 하므로}$$

$$f(m+1) = f(m+2) = 0 \text{ 이어야 한다.}$$

$$\text{즉, } a = m + 1, b = m + 2$$

$$\text{또는 } a = m + 1, c = m + 2$$

$$\text{또는 } b = m + 1, c = m + 2 \text{ 이다.}$$

$$\text{또, } f'(-\frac{1}{4}) = -\frac{1}{4} < 0, f'(\frac{1}{4}) < 0 \text{ 이므로}$$

$$f'(0) < 0 \text{ 이다.}$$

(iii-①) $a = m + 1, b = m + 2$ 일 때

$a < n < b$ 또는 $b < n < c$ 인 정수 n 은 존재하지 않고, $f'(0) < 0$ 이므로 $b = m + 2 = 0$

이다. 이때 $a = m + 1 = -1$ 이므로

$$f(x) = x(x+1)(x-c) = (x^2+x)(x-c)$$

이다.

$$f'(x) = (2x+1)(x-c) + (x^2+x)$$

이므로

$$f'(-\frac{1}{4}) = \frac{1}{2} \times (-\frac{1}{4} - c) + (\frac{1}{16} - \frac{1}{4}) = -\frac{1}{2}c - \frac{5}{16}$$

$$f'(-\frac{1}{4}) = -\frac{1}{4} \text{ 에서}$$

$$-\frac{1}{2}c - \frac{5}{16} = -\frac{1}{4}, c = -\frac{1}{8}$$

그러나 이는 $b < c$ 에 모순이다.

(iii-②) $a = m + 1, c = m + 2$ 일 때

$m + 1, m + 2$ 는 연속하는 두 정수이므로 $f'(n) < 0$ 을 만족시키는 정수 n 은 존재하지 않는다. 그러나 이는 $f'(0) < 0$ 에 모순이다.

(iii-③) $b = m + 1, c = m + 2$ 일 때

$a < n < b$ 또는 $b < n < c$ 인 정수 n 은 존재하지 않고, $f'(0) < 0$ 이므로 $b = m + 1 = 0$ 이다. 이때 $c = m + 1 = 1$ 이므로

$$f(x) = (x-a)x(x-1) = (x-a)(x^2-x)$$

이다.

$$f'(x) = (x^2-x) + (x-a)(2x-1)$$

이므로

$$f'\left(-\frac{1}{4}\right) = \frac{5}{16} + \left(-\frac{1}{4} - a\right) \times \left(-\frac{3}{2}\right)$$

$$= \frac{11}{16} + \frac{3}{2}a$$

$$f'\left(-\frac{1}{4}\right) = -\frac{1}{4} \text{ 에서}$$

$$\frac{11}{16} + \frac{3}{2}a = -\frac{1}{4}, \quad a = -\frac{5}{8}$$

그리고 $a = -\frac{5}{8}$ 이면

$$f'\left(\frac{1}{4}\right) = -\frac{3}{16} + \left(\frac{1}{4} + \frac{5}{8}\right) \times \left(-\frac{1}{2}\right) = -\frac{5}{8}$$

이므로 $f'\left(\frac{1}{4}\right) < 0$ 도 만족시킨다.

(i), (ii), (iii)에서 함수 $f(x)$ 는

$$f(x) = \left(x + \frac{5}{8}\right)(x^2 - x) \text{ 이다.}$$

$$\text{따라서 } f(8) = \frac{69}{8} \times 56 = 483$$

정답 483

■ [선택: 확률과 통계]

23. ③ 24. ④ 25. ⑤ 26. ② 27. ②
28. ④ 29. 196 30. 673

23. 출제의도 : 같은 것이 있는 순열을 이용하여 경우의 수를 구할 수 있는가?

정답풀이 :

문자 x 2개, 문자 y 2개, 문자 z 1개를 일렬로 나열하는 경우의 수이므로

$$\frac{5!}{2! \times 2!} = 30$$

정답 ③

24. 출제의도 : 서로 독립인 두 사건에 대하여 주어진 조건을 만족시키는 확률을 구할 수 있는가?

정답풀이 :

$$P(A^c) = 2P(A) \text{에서}$$

$$1 - P(A) = 2P(A) \text{이므로}$$

$$P(A) = \frac{1}{3}$$

두 사건 A, B 가 서로 독립이므로

$$P(A \cap B) = \frac{1}{4} \text{에서}$$

$$P(A)P(B) = \frac{1}{4}$$

$$\frac{1}{3} \times P(B) = \frac{1}{4}$$

따라서

$$P(B) = \frac{3}{4}$$

정답 ④

25. 출제의도 : 여사건의 확률을 이용하

여 주어진 조건을 만족시키는 사건의 확률을 구할 수 있는가?

정답풀이 :

두 수의 합이 10 보다 큰 경우는

$$5+6=11$$

뿐이므로 양 끝에 놓인 카드에 적힌 두 수의 합이 10 이하인 사건을 A 라 하면

사건 A^c 는 양 끝에 놓인 카드에 적힌 두 수가 5, 6인 사건이다.

따라서

$$P(A^c) = \frac{2! \times 4!}{6!}$$

$$= \frac{1}{15}$$

이므로

$$P(A) = 1 - P(A^c)$$

$$= 1 - \frac{1}{15}$$

$$= \frac{14}{15}$$

정답 ⑤

26. 출제의도 : 이산확률변수 Y 의 평균을 구할 수 있는가?

정답풀이 :

$$P(Y=0) = P(X=0)$$

$$= {}_4C_0 \left(\frac{1}{2}\right)^4$$

$$= \frac{1}{16}$$

$$P(Y=1) = P(X=1)$$

$$= {}_4C_1 \left(\frac{1}{2}\right)^4$$

$$= \frac{1}{4}$$

$$\begin{aligned}
 P(Y=2) &= 1 - P(Y=0) - P(Y=1) \\
 &= 1 - \frac{1}{16} - \frac{1}{4} \\
 &= \frac{11}{16}
 \end{aligned}$$

확률변수 Y 의 확률분포를 표로 나타내면 다음과 같다.

Y	0	1	2	계
$P(Y=y)$	$\frac{1}{16}$	$\frac{1}{4}$	$\frac{11}{16}$	1

따라서

$$\begin{aligned}
 E(Y) &= 0 \times \frac{1}{16} + 1 \times \frac{1}{4} + 2 \times \frac{11}{16} \\
 &= \frac{13}{8}
 \end{aligned}$$

정답 ②

27. 출제의도 : 표본을 이용하여 모평균을 추정하고 표본평균을 구할 수 있는가?

정답풀이 :

모표준편차가 5이고, 표본의 크기가 49, 표본평균이 \bar{x} 이므로 모평균 m 에 대한 신뢰도 95%의 신뢰구간은

$$\bar{x} - 1.96 \times \frac{5}{\sqrt{49}} \leq m \leq \bar{x} + 1.96 \times \frac{5}{\sqrt{49}}$$

$$\bar{x} - 1.4 \leq m \leq \bar{x} + 1.4$$

따라서 $a = \bar{x} - 1.4$ 이고 $\frac{6}{5}a = \bar{x} + 1.4$ 이므로

로

$$\frac{a}{5} = (\bar{x} + 1.4) - (\bar{x} - 1.4) = 2.8$$

따라서

$$a = 5 \times 2.8 = 14$$

이므로

$$\bar{x} = a + 1.4 = 14 + 1.4 = 15.4$$

정답 ②

28. 출제의도 : 주어진 시행에서 조건부 확률을 구할 수 있는가?

정답풀이 :

상자 B에 들어있는 공의 개수가 8인 사건을 E , 상자 B에 들어있는 검은 공의 개수가 2인 사건을 F 라 하면

구하는 확률은 $P(F|E) = \frac{P(E \cap F)}{P(E)}$ 이다.

한 번의 시행에서 상자 B에 넣는 공의 개수는 1 또는 2 또는 3이므로

4번의 시행 후 상자 B에 들어있는 공의 개수가 8인 경우는

$$8 = 3 + 3 + 1 + 1$$

$$8 = 3 + 2 + 2 + 1$$

$$8 = 2 + 2 + 2 + 2$$

뿐이다.

(i) $8 = 3 + 3 + 1 + 1$ 인 경우

상자 B에 들어있는 검은 공의 개수는 2이다.

주머니에서 숫자 1이 적힌 카드 2장, 숫자 4가 적힌 카드 2장을 꺼내야 하므로 이 경우의 확률은

$$\frac{4!}{2! \times 2!} \times \left(\frac{1}{4}\right)^4$$

$$= 6 \times \left(\frac{1}{4}\right)^4$$

(ii) $8 = 3 + 2 + 2 + 1$ 인 경우

상자 B에 들어있는 검은 공의 개수는 3이다.

주머니에서 숫자 1이 적힌 카드 1장, 숫자 2 또는 3이 적힌 카드 2장, 숫

자 4가 적힌 카드 1장을 꺼내야 하
 므로 이 경우의 확률은

$$\frac{4!}{2!} \times \left\{ \left(\frac{1}{4} \right) \times \left(\frac{2}{4} \right)^2 \times \left(\frac{1}{4} \right) \right\}$$

$$= 48 \times \left(\frac{1}{4} \right)^4$$

(iii) $8 = 2 + 2 + 2 + 2$ 인 경우

상자 B에 들어있는 검은 공의 개수
 는 4이다.

주머니에서 숫자 2 또는 3이 적힌
 카드 4장을 꺼내야 하므로 이 경우의
 확률은

$$\left(\frac{2}{4} \right)^4$$

$$= 16 \times \left(\frac{1}{4} \right)^4$$

(i), (ii), (iii)에서

$$P(E) = 6 \times \left(\frac{1}{4} \right)^4 + 48 \times \left(\frac{1}{4} \right)^4 + 16 \times \left(\frac{1}{4} \right)^4$$

$$= 70 \times \left(\frac{1}{4} \right)^4$$

$$P(E \cap F) = 6 \times \left(\frac{1}{4} \right)^4$$

따라서

$$P(F|E) = \frac{P(E \cap F)}{P(E)}$$

$$= \frac{6 \times \left(\frac{1}{4} \right)^4}{70 \times \left(\frac{1}{4} \right)^4}$$

$$= \frac{3}{35}$$

정답 ④

29. 출제의도 : 중복조합을 이용하여 순
 서쌍의 개수를 구할 수 있는가?

정답풀이 :

(i) $a \leq b \leq c \leq d$ 인 순서쌍의 개수

1, 2, 3, 4, 5, 6 중에서 중복을
 허락하여 4개를 택한 다음 크지 않은
 순서대로 a, b, c, d 의 값으로 정하는
 경우의 수와 같으므로

$${}_6H_4 = {}_{6+4-1}C_4 = {}_9C_4$$

$$= \frac{9 \times 8 \times 7 \times 6}{4 \times 3 \times 2 \times 1} = 126$$

(ii) $b \leq a \leq c \leq d$ 인 순서쌍의 개수

(i)과 마찬가지로

$${}_6H_4 = 126$$

(iii) $a = b \leq c \leq d$ 인 순서쌍의 개수

1, 2, 3, 4, 5, 6 중에서 중복을
 허락하여 3개를 택한 다음 크지 않은
 순서대로 $a (=b), c, d$ 의 값으로
 정하는 경우의 수와 같으므로

$${}_6H_3 = {}_{6+3-1}C_3 = {}_8C_3$$

$$= \frac{8 \times 7 \times 6}{3 \times 2 \times 1} = 56$$

(i), (ii), (iii)에서 구하는 순서쌍의
 개수는

$$126 + 126 - 56 = 196$$

[다른 풀이]

(i) $a \leq b \leq c \leq d$ 인 순서쌍의 개수

1, 2, 3, 4, 5, 6 중에서 중복을
 허락하여 4개를 택한 다음 크지 않은
 순서대로 a, b, c, d 의 값으로 정하는
 경우의 수와 같으므로

$${}_6H_4 = {}_{6+4-1}C_4 = {}_9C_4$$

$$= \frac{9 \times 8 \times 7 \times 6}{4 \times 3 \times 2 \times 1} = 126$$

(ii) $b < a \leq c \leq d$ 인 순서쌍의 개수

① $b = 1$ 일 때 $1 < a \leq c \leq d$ 인

순서쌍의 개수는 2, 3, 4, 5, 6

중에서 중복을 허락하여 3개를 택한

다음 크지 않은 순서대로 a, c, d 의 값으로 정하는 경우의 수와 같으므로

$${}_5H_3 = {}_{5+3-1}C_3 = {}_7C_3 = 35$$

② $b=2$ 일 때 $2 < a \leq c \leq d$ 인

순서쌍의 개수는 3, 4, 5, 6 중에서 중복을 허락하여 3개를 택한 다음 크지 않은 순서대로 a, c, d 의 값으로 정하는 경우의 수와 같으므로

$${}_4H_3 = {}_{4+3-1}C_3 = {}_6C_3 = 20$$

③ $b=3$ 일 때 $3 < a \leq c \leq d$ 인

순서쌍의 개수는 4, 5, 6 중에서 중복을 허락하여 3개를 택한 다음 크지 않은 순서대로 a, c, d 의 값으로 정하는 경우의 수와 같으므로

$${}_3H_3 = {}_{3+3-1}C_3 = {}_5C_3 = 10$$

④ $b=4$ 일 때 $4 < a \leq c \leq d$ 인

순서쌍의 개수는 5, 6 중에서 중복을 허락하여 3개를 택한 다음 크지 않은 순서대로 a, c, d 의 값으로 정하는 경우의 수와 같으므로

$${}_2H_3 = {}_{2+3-1}C_3 = {}_4C_3 = 4$$

⑤ $b=5$ 일 때 $5 < a \leq c \leq d$ 이라면

$a=c=d=6$ 이어야 하므로 순서쌍의 개수는 1

이상에서 $b < a \leq c \leq d$ 인 순서쌍의 개수는

$$35 + 20 + 10 + 4 + 1 = 70$$

(i), (ii)에서 구하는 순서쌍의 개수는 $126 + 70 = 196$

정답 196

30. 출제의도 : 정규분포를 표준화하여 확률의 최댓값을 구할 수 있는가?

정답풀이 :

확률변수 X 의 평균이 1이므로

$$P(X \leq 5t) \geq \frac{1}{2} \text{에서}$$

$$5t \geq 1, \text{ 즉 } t \geq \frac{1}{5} \dots \textcircled{A}$$

확률변수 X 의 평균이 1, 표준편차가 t 이므로 $Z = \frac{X-1}{t}$ 로 놓으면 확률변수 Z 는 표준정규분포 $N(0, 1)$ 을 따른다.

$$\begin{aligned} P(t^2 - t + 1 \leq X \leq t^2 + t + 1) \\ = P\left(\frac{t^2 - t}{t} \leq \frac{X-1}{t} \leq \frac{t^2 + t}{t}\right) \\ = P(t-1 \leq Z \leq t+1) \dots \textcircled{B} \end{aligned}$$

이때 $(t+1) - (t-1) = 2$ 로 일정하므로 t 의 값이 확률변수 Z 의 평균 0에 가까울수록 \textcircled{B} 의 값은 증가한다.

따라서 \textcircled{A} 에서 $t = \frac{1}{5}$ 일 때 \textcircled{B} 의 최댓값은

$$\begin{aligned} k &= P\left(\frac{1}{5} - 1 \leq Z \leq \frac{1}{5} + 1\right) \\ &= P(-0.8 \leq Z \leq 1.2) \\ &= P(0 \leq Z \leq 0.8) + P(0 \leq Z \leq 1.2) \\ &= 0.288 + 0.385 \\ &= 0.673 \end{aligned}$$

이므로

$$1000 \times k = 673$$

정답 673

■ [선택: 미적분]

23. ③ 24. ② 25. ④ 26. ③ 27. ①
28. ② 29. 162 30. 125

23. 출제의도 : 로그함수의 극한값을 구할 수 있는가?

정답풀이 :

$$\begin{aligned} \lim_{x \rightarrow 0} \frac{\ln(1+3x)}{\ln(1+5x)} &= \lim_{x \rightarrow 0} \frac{3x \times \frac{\ln(1+3x)}{3x}}{5x \times \frac{\ln(1+5x)}{5x}} \\ &= \frac{3}{5} \times \frac{\lim_{x \rightarrow 0} \frac{\ln(1+3x)}{3x}}{\lim_{x \rightarrow 0} \frac{\ln(1+5x)}{5x}} \\ &= \frac{3}{5} \times \frac{1}{1} = \frac{3}{5} \end{aligned}$$

정답 ③

24. 출제의도 : 매개변수로 나타내어진 함수의 미분계수를 구할 수 있는가?

정답풀이 :

$$x = \ln(t^3 + 1) \text{에서}$$

$$\frac{dx}{dt} = \frac{3t^2}{t^3 + 1}$$

$$y = \sin \pi t \text{에서}$$

$$\frac{dy}{dt} = \pi \cos \pi t$$

따라서

$$\frac{dy}{dx} = \frac{\frac{dy}{dt}}{\frac{dx}{dt}}$$

$$= \frac{\pi \cos \pi t}{\frac{3t^2}{t^3 + 1}} = \frac{\pi(t^3 + 1) \cos \pi t}{3t^2}$$

따라서 $t = 1$ 일 때의 $\frac{dy}{dx}$ 의 값은

$$\frac{\pi(1^3 + 1) \cos \pi}{3 \times 1^2} = \frac{\pi \times 2 \times (-1)}{3} = -\frac{2}{3} \pi$$

정답 ②

25. 출제의도 : 역함수의 미분법과 치환적분법을 이용하여 함수를 구하고 함수값을 구할 수 있는가?

정답풀이 :

함수 $g(x)$ 의 정의역이 양의 실수 전체의 집합이고 그 역함수 $f(x)$ 의 치역은 양의 실수 전체의 집합이다.

즉, 모든 양수 x 에 대하여

$$f(x) > 0 \cdots \textcircled{7}$$

이다.

모든 양수 x 에 대하여 $g(f(x)) = x$ 이므로

양변을 x 에 대하여 미분하면

$$g'(f(x))f'(x) = 1$$

따라서

$$\int_1^a \frac{1}{g'(f(x))f'(x)} dx$$

$$= \int_1^a \frac{f'(x)}{f(x)} dx = [\ln |f(x)|]_1^a$$

$$= \ln f(a) - \ln f(1) \quad (\because \textcircled{7})$$

$$= \ln f(a) - \ln 8$$

$$= \ln f(a) - 3 \ln 2$$

이므로

$$\ln f(a) - 3 \ln 2 = 2 \ln a + \ln(a+1) - \ln 2 \text{에서}$$

$$\ln f(a) = 2 \ln a + \ln(a+1) + 2 \ln 2$$

$$= \ln a^2 + \ln(a+1) + \ln 2^2$$

$$= \ln 4a^2(a+1)$$

즉, $f(a) = 4a^2(a+1)$ 이므로
 $f(2) = 4 \times 2^2 \times (2+1) = 48$

정답 ④

[다른 풀이]

함수 $g(x)$ 의 정의역이 양의 실수 전체의 집합이고 그 역함수 $f(x)$ 의 치역은 양의 실수 전체의 집합이다.

즉, 모든 양수 x 에 대하여

$$f(x) > 0 \cdots \textcircled{7}$$

이다.

$\int_1^a \frac{1}{g'(f(x))f(x)} dx$ 에서 $f(x) = y$ 라 하면

$$x = 1 \text{일 때 } y = f(1) = 8,$$

$$x = a \text{일 때 } y = f(a) \text{이고}$$

$$\frac{dy}{dx} = f'(x)$$

이때 역함수의 미분법에 의하여

$$f'(x) = \frac{1}{g'(y)}$$

이므로

$$\frac{dy}{dx} = \frac{1}{g'(y)}$$

이때 도함수 $g'(x)$ 가 양의 실수 전체의 집합에서 연속이므로

$$g'(y) \neq 0$$

따라서

$$\int_1^a \frac{1}{g'(f(x))f(x)} dx$$

$$= \int_8^{f(a)} \left\{ \frac{1}{g'(y) \times y} \times g'(y) \right\} dy$$

$$= \int_8^{f(a)} \frac{1}{y} dy$$

$$= [\ln|y|]_8^{f(a)}$$

$$= \ln|f(a)| - \ln|8|$$

$$= \ln|f(a)| - 3\ln 2$$

⑦에서 $f(a) > 0$ 이므로 주어진 등식에서

$$\ln f(a) - 3\ln 2 = 2\ln a + \ln(a+1) - \ln 2$$

$$\ln f(a) = 2\ln a + \ln(a+1) + 2\ln 2$$

$$= \ln a^2 + \ln(a+1) + \ln 2^2$$

$$= \ln 4a^2(a+1)$$

따라서

$$f(a) = 4a^2(a+1)$$

이므로

$$f(2) = 4 \times 2^2 \times (2+1) = 48$$

26. 출제의도 : 입체도형의 부피를 구할 수 있는가?

정답풀이 :

직선 $x = t$ ($\frac{3}{4}\pi \leq t \leq \frac{5}{4}\pi$)를 포함하고

x 축에 수직인 평면으로 입체도형을 자른 단면의 넓이를 $S(t)$ 라 하면

$$S(t) = \frac{5}{4}\pi(1-2t)\cos t$$

따라서 입체도형의 부피를 V 라 하면

$$u(t) = 1-2t, \quad v'(t) = \cos t$$

$$u'(t) = -2, \quad v(t) = \sin t$$

라 하면

$$V = \int_{\frac{3}{4}\pi}^{\frac{5}{4}\pi} (1-2t)\cos t dt$$

$$= [(1-2t)\sin t]_{\frac{3}{4}\pi}^{\frac{5}{4}\pi} + 2 \int_{\frac{3}{4}\pi}^{\frac{5}{4}\pi} \sin t dt$$

$$= [(1-2t)\sin t]_{\frac{3}{4}\pi}^{\frac{5}{4}\pi} + 2[-\cos t]_{\frac{3}{4}\pi}^{\frac{5}{4}\pi}$$

$$= \left(1 - \frac{5}{2}\pi\right)\left(-\frac{\sqrt{2}}{2}\right) - \left(1 - \frac{3}{2}\pi\right) \times \frac{\sqrt{2}}{2}$$

$$+ 2\left(\frac{\sqrt{2}}{2} - \frac{\sqrt{2}}{2}\right)$$

$$= 2\sqrt{2}\pi - \sqrt{2}$$

27. 출제의도 : 접선의 방정식을 구하고 함수의 미분계수를 구할 수 있는가?

정답풀이 :

$$y = e^{-x} + e^t \text{이므로}$$

$$y' = -e^{-x}$$

접점의 좌표를 $(s, e^{-s} + e^t)$ 이라고 하면
접선의 방정식은

$$y = -e^{-s}(x-s) + e^{-s} + e^t$$

이 접선이 원점을 지나므로

$$se^{-s} + e^{-s} + e^t = 0$$

$$e^t = -(s+1)e^{-s} \dots \textcircled{\ominus}$$

양변을 s 에 대하여 미분하면

$$e^t \frac{dt}{ds} = -e^{-s} + (s+1)e^{-s} = se^{-s} \dots \textcircled{\ominus}$$

또한 $f(t) = -e^{-s}$ 이므로 양변을 s 에 대하여 미분하면

$$f'(t) \frac{dt}{ds} = e^{-s} \dots \textcircled{\omin�}$$

$\textcircled{\omin�}, \textcircled{\omin�}$ 에서

$$\frac{e^t}{f'(t)} = s, \text{ 즉 } f'(t) = \frac{e^t}{s}$$

또한 $f(a) = -e^{-s} = -e\sqrt{e} = -e^{\frac{3}{2}}$ 에서

$$s = -\frac{3}{2}$$

이고 $\textcircled{\omin�}$ 에서 $e^a = \frac{1}{2}e^{\frac{3}{2}}$ 이므로

$$f'(t) = \frac{e^t}{s} \text{에서}$$

$$f'(a) = \frac{\frac{1}{2}e^{\frac{3}{2}}}{-\frac{3}{2}} = -\frac{1}{3}e^{\frac{3}{2}} = -\frac{1}{3}e\sqrt{e}$$

28. 출제의도 : 정적분을 이용하여 주어진 조건을 만족시키는 함수를 구할 수 있는가?

정답풀이 :

$x < 0$ 일 때 $f(x) = -4xe^{4x^2}$ 이므로

$$f'(x) = -4e^{4x^2} - 4xe^{4x^2} \times 8x \\ = -4e^{4x^2} - 32x^2e^{4x^2} < 0$$

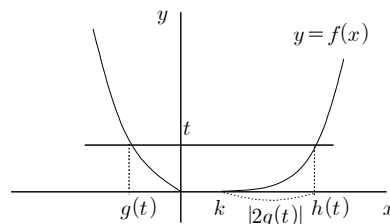
즉, $x < 0$ 에서 함수 $f(x)$ 는 감소한다.

또한 모든 실수 x 에 대하여 $f(x) \geq 0$ 이고 양수 t 에 대하여 x 에 대한 방정식 $f(x) = t$ 의 서로 다른 실근의 개수가 2이므로 $x \geq 0$ 에서 함수 $f(x)$ 는 증가한다.

또한, 모든 양수 t 에 대하여

$$2g(t) + h(t) = k$$

가 성립하므로 함수 $y = f(x)$ 의 그래프의 개형은 다음과 같다.



이때 $\int_0^7 f(x)dx = e^4 - 1$ 에서 $h(t_1) = 7$ 이라 하면

$$\int_{g(t_1)}^0 (-4xe^{4x^2})dx = \frac{1}{2}(e^4 - 1)$$

$$\left[-\frac{1}{2}e^{4x^2} \right]_{g(t_1)}^0 = \frac{1}{2}(e^4 - 1)$$

$$-\frac{1}{2} + \frac{1}{2}e^{4\{g(t_1)\}^2} = \frac{1}{2}(e^4 - 1)$$

$$g(t_1) = -1$$

즉 $k + |2 \times (-1)| = 7$ 에서 $k = 5$ 이므로

$$f(8) = f\left(-\frac{3}{2}\right), f(9) = f(-2)$$

$$\frac{f(9)}{f(8)} = \frac{f(-2)}{f\left(-\frac{3}{2}\right)} = \frac{-4 \times (-2)e^{4(-2)^2}}{-4 \times \left(-\frac{3}{2}\right)e^{4\left(-\frac{3}{2}\right)^2}}$$

$$= \frac{4}{3}e^{16-9}$$

$$= \frac{4}{3}e^7$$

정답 ②

29. 출제의도 : 조건을 만족시키는 등비 급수를 구하여 등비급수의 합을 구할 수 있는가?

정답풀이 :

$$a_n = ar^{n-1}, b_n = bs^{n-1} \quad (a \neq 0, b \neq 0, r \neq 0,$$

$s \neq 0)$ 이라 하면 $\sum_{n=1}^{\infty} a_n, \sum_{n=1}^{\infty} b_n$ 이 각각 수

렴하므로 $-1 < r < 1, -1 < s < 1$ 이다.

$$\sum_{n=1}^{\infty} a_n b_n = \frac{ab}{1-rs}$$

$$\sum_{n=1}^{\infty} a_n = \frac{a}{1-r}, \sum_{n=1}^{\infty} b_n = \frac{b}{1-s}$$

이므로

$$\frac{ab}{1-rs} = \frac{a}{1-r} \times \frac{b}{1-s}$$

$$1-rs = (1-r)(1-s)$$

$$r+s = 2rs \quad \cdots \textcircled{7}$$

(i) $r > 0$ 인 경우

$a_1 > 0$ 이면 $a_2 > 0, a_3 > 0$ 이므로

$$3 \times \sum_{n=1}^{\infty} |a_{2n}| = 3 \times \frac{a_2}{1-r^2}$$

$$7 \times \sum_{n=1}^{\infty} |a_{3n}| = 7 \times \frac{a_3}{1-r^3}$$

$$\frac{3a_2}{1-r^2} = \frac{7a_3}{1-r^3}$$

$$\frac{3}{1-r^2} = \frac{7r}{1-r^3}$$

$$4r^3 - 7r + 3 = 0$$

$$(r-1)(2r-1)(2r+3) = 0$$

따라서 $r = \frac{1}{2}$ 인데 $\textcircled{7}$ 을 만족시키는 s 의 값이 존재하지 않으므로 모순이다.

같은 방법으로 $a_1 < 0$ 인 경우도 존재하지 않는다.

(ii) $r < 0$ 인 경우

$a_1 > 0$ 이면 $a_2 < 0, a_3 > 0$ 이고 수열

$\{a_{2n}\}$ 의 공비는 r^2 , 수열 $\{a_{3n}\}$ 의 공비는 $-r^3$ 이므로

$$3 \times \sum_{n=1}^{\infty} |a_{2n}| = 3 \times \frac{-a_2}{1-r^2}$$

$$7 \times \sum_{n=1}^{\infty} |a_{3n}| = 7 \times \frac{a_3}{1+r^3}$$

$$\frac{-3a_2}{1-r^2} = \frac{7a_3}{1+r^3}, \frac{-3}{1-r^2} = \frac{7r}{1+r^3}$$

$$4r^3 - 7r - 3 = 0$$

$$(r+1)(2r-3)(2r+1) = 0$$

따라서 $r = -\frac{1}{2}$ 이므로 $\textcircled{7}$ 에 대입하면

$$s = \frac{1}{4}$$
이다.

$a_1 < 0$ 인 경우도 같은 방법으로 생각하면 같은 결론을 얻을 수 있다.

$$b_n = b\left(\frac{1}{4}\right)^{n-1} \text{ 이므로}$$

$$\sum_{n=1}^{\infty} \frac{b_{2n-1} + b_{3n+1}}{b_n}$$

$$\begin{aligned}
&= \sum_{n=1}^{\infty} \frac{b\left(\frac{1}{16}\right)^{n-1} + b\left(\frac{1}{64}\right)^n}{b\left(\frac{1}{4}\right)^{n-1}} \\
&= \sum_{n=1}^{\infty} \left\{ \left(\frac{1}{4}\right)^{n-1} + \left(\frac{1}{4}\right)^{2n+1} \right\} \\
&= \frac{1}{1 - \frac{1}{4}} + \frac{\frac{1}{64}}{1 - \frac{1}{16}} \\
&= \frac{4}{3} + \frac{1}{60} \\
&= \frac{27}{20}
\end{aligned}$$

따라서 $S = \frac{27}{20}$ 이므로

$$120S = 120 \times \frac{27}{20} = 162$$

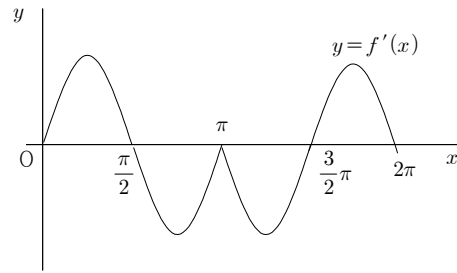
정답 162

30. 출제의도 : 주어진 조건을 이용하여 극값을 갖는 x 의 값을 구할 수 있는가?

정답풀이 :

$$\begin{aligned}
f'(x) &= |\sin x| \cos x \\
&= \begin{cases} \sin x \cos x & (\sin x \geq 0) \\ -\sin x \cos x & (\sin x < 0) \end{cases} \\
&= \begin{cases} \frac{1}{2} \sin 2x & (\sin x \geq 0) \\ -\frac{1}{2} \sin 2x & (\sin x < 0) \end{cases}
\end{aligned}$$

이때 함수 $y = \sin 2x$ 의 주기는 $\frac{2\pi}{2} = \pi$ 이므로 함수 $y = f'(x)$ 의 그래프의 개형을 $0 \leq x \leq 2\pi$ 에서만 그려보면 다음과 같다.



또한

$$h(x) = \int_0^x \{f(t) - g(t)\} dt$$

에서

$$h'(x) = f(x) - g(x)$$

이므로 $h'(x) = 0$ 즉 $f(x) = g(x)$ 를 만족시키면서 그 값의 좌우에서 $h'(x)$ 의 부호가 바뀌는 경우이다.

이때 $y = \sin 2x$ 의 대칭성을 이용하여 양수 a 의 값을 작은 수부터 차례대로 구하면

$$\frac{\pi}{4}, \frac{3}{4}\pi, \pi, \frac{5}{4}\pi, \frac{7}{4}\pi, 2\pi$$

이므로

$$a_6 = 2\pi, a_2 = \frac{3}{4}\pi$$

따라서

$$\begin{aligned}
\frac{100}{\pi} \times (a_6 - a_2) &= \frac{100}{\pi} \times \left(2\pi - \frac{3}{4}\pi\right) \\
&= 125
\end{aligned}$$

정답 125

■ [선택: 기하]

23. ④ 24. ③ 25. ② 26. ⑤ 27. ③
28. ⑤ 29. 11 30. 147

23. 출제의도 : 좌표공간에서 선분의 중점의 좌표를 구할 수 있는가?

정답풀이 :

좌표공간의 두 점 $A(a, -2, 6)$, $B(9, 2, b)$ 에 대하여 선분 AB의 중점의 좌표는

$$\left(\frac{a+9}{2}, \frac{-2+2}{2}, \frac{6+b}{2}\right)$$

이 점의 좌표가 $(4, 0, 7)$ 과 일치하므로

$$\frac{a+9}{2}=4 \text{에서 } a=-1$$

$$\frac{6+b}{2}=7 \text{에서 } b=8$$

따라서

$$a+b=-1+8=7$$

정답 ④

24. 출제의도 : 타원 위의 점에서의 접선의 기울기를 구할 수 있는가?

정답풀이 :

점 $(\sqrt{3}, -2)$ 는 타원 $\frac{x^2}{a^2} + \frac{y^2}{6} = 1$ 위의

점이므로

$$\frac{(\sqrt{3})^2}{a^2} + \frac{(-2)^2}{6} = 1$$

$$\frac{3}{a^2} = 1 - \frac{2}{3} = \frac{1}{3}$$

$$a^2 = 9$$

타원 $\frac{x^2}{9} + \frac{y^2}{6} = 1$ 위의 점 $(\sqrt{3}, -2)$ 에

서의 접선의 방정식은

$$\frac{\sqrt{3}x}{9} + \frac{-2y}{6} = 1$$

$$\text{즉, } y = \frac{\sqrt{3}}{3}x - 3$$

따라서 접선의 기울기는

$$\frac{\sqrt{3}}{3}$$

정답 ③

25. 출제의도 : 평면벡터의 내적을 이용하여 벡터의 크기를 구할 수 있는가?

정답풀이 :

$$|2\vec{a}-\vec{b}|^2 = (2\vec{a}-\vec{b}) \cdot (2\vec{a}-\vec{b})$$

$$= 4|\vec{a}|^2 - 4\vec{a} \cdot \vec{b} + |\vec{b}|^2$$

$$|2\vec{a}-\vec{b}| = \sqrt{17}, |\vec{a}| = \sqrt{11}, |\vec{b}| = 3 \text{이므로}$$

$$17 = 4 \times 11 - 4\vec{a} \cdot \vec{b} + 9$$

$$= 53 - 4\vec{a} \cdot \vec{b}$$

$$\vec{a} \cdot \vec{b} = \frac{53-17}{4}$$

$$= 9$$

$$|\vec{a}-\vec{b}|^2 = (\vec{a}-\vec{b}) \cdot (\vec{a}-\vec{b})$$

$$= |\vec{a}|^2 - 2\vec{a} \cdot \vec{b} + |\vec{b}|^2$$

$$= 11 - 2 \times 9 + 9$$

$$= 2$$

$$|\vec{a}-\vec{b}| \geq 0 \text{이므로}$$

$$|\vec{a}-\vec{b}| = \sqrt{2}$$

정답 ②

26. 출제의도 : 정사영의 성질을 이용하

여 선분의 길이를 구할 수 있는가?

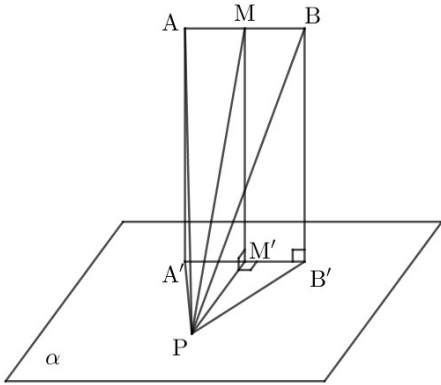
정답풀이 :

두 점 A, B는 평면 α 위에 있지 않고,
 $\overline{AB} = \overline{A'B'}$ 이므로 직선 AB는 평면 α 와
 평행하다.

따라서 선분 AB는 평면 α 와 만나지 않
 고, 평면 AA'B'B와 평면 α 는 서로 수
 직이다.㉠

선분 AB의 중점 M의 평면 α 위로의
 정사영 M'은 선분 A'B'의 중점이다.

.....㉡



그러므로 $\overline{PM'} \perp \overline{A'B'}$ 에서 직선 PM'은
 선분 A'B'의 수직이등분선이다.

$\overline{PM'} = 6$ 이므로 삼각형 A'B'P의 넓이를
 S라 하면

$$S = \frac{1}{2} \times \overline{A'B'} \times \overline{PM'}$$

$$= \frac{1}{2} \times 6 \times 6 = 18$$

두 평면 A'B'P, ABP가 이루는 각의 크
 기를 θ 라 하자.

삼각형 A'B'P의 평면 ABP 위로의 정사
 영의 넓이가 $\frac{9}{2}$ 이므로

$$\frac{9}{2} = S \times \cos \theta$$

$$= 18 \cos \theta$$

$$\cos \theta = \frac{1}{4}$$

㉠, ㉡에서 $\angle MPM' = \theta$ 이고 $\overline{MM'} \perp \overline{PM'}$
 이므로 직각삼각형 MPM'에서

$$\cos \theta = \frac{\overline{PM'}}{\overline{PM}}$$

따라서

$$\overline{PM} = \frac{\overline{PM'}}{\cos \theta}$$

$$= \frac{6}{\frac{1}{4}} = 6 \times 4 = 24$$

정답 ⑤

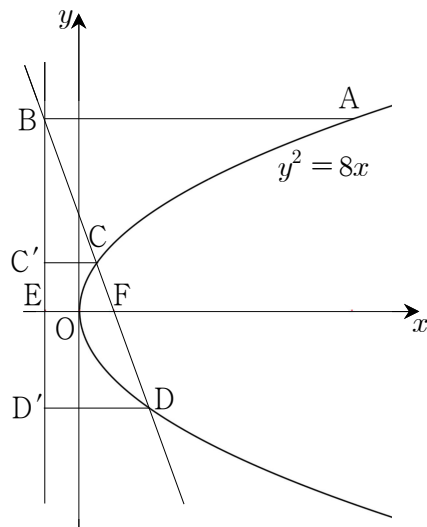
27. 출제의도 : 포물선의 정의를 이용하
 여 주어진 조건을 만족시키는 삼각형의
 넓이를 구할 수 있는가?

정답풀이 :

F(2, 0)이고, 준선은 직선 $x = -2$ 이다.

준선이 x축과 만나는 점을 E라 하고,

두 점 C, D에서 준선에 내린 수선의 발
 을 각각 C', D'이라 하자.



포물선의 정의에 의하여

$$\overline{CF} = \overline{CC'}, \overline{DF} = \overline{DD'}$$

$$\text{이때 } \overline{BC} = \overline{CD} \text{이므로}$$

$$\overline{CC'} = \frac{1}{2} \times \overline{DD'}$$

$$\overline{CC'} = k \ (k > 0) \text{이라 하면 } \overline{DD'} = 2k$$

$$\overline{BC} = \overline{CD}$$

$$= k + 2k$$

$$= 3k$$

$$\overline{BF} = 3k + k$$

$$= 4k$$

두 닮은 삼각형 BCC' , BFE 에서

$$\overline{EF} = 4 \text{이므로}$$

$$3k : k = 4k : 4 \text{에서 } k = 3$$

삼각형 BDD' 에서

$$\overline{BD} = 18, \overline{DD'} = 6 \text{이므로}$$

$$\overline{BD'} = 12\sqrt{2}$$

또 삼각형 BFE 에서 $\overline{BE} = 8\sqrt{2}$

점 B 의 y 좌표가 $8\sqrt{2}$ 이므로

$$(8\sqrt{2})^2 = 8x \text{에서 점 } A \text{의 } x \text{좌표는 } 16$$

따라서 삼각형 ABD 의 넓이는

$$\frac{1}{2} \times \overline{AB} \times \overline{BD'}$$

$$= \frac{1}{2} \times 18 \times 12\sqrt{2}$$

$$= 108\sqrt{2}$$

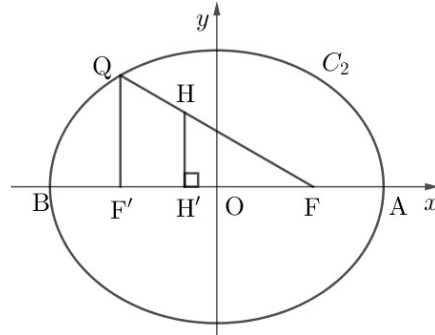
정답 ③

28. 출제의도 : 타원의 정의를 이용하여 선분의 길이를 구하고 삼수선의 정리를 이용하여 두 평면이 이루는 각의 크기를 구할 수 있는가?

정답풀이 :

평면 β 를 xy 평면, 선분 FF' 의 중점을 원점 O , 직선 AB 를 x 축이라 하면

$\overline{AB} = 18$ 이므로 $A(9, 0)$, $B(-9, 0)$ 이다.



점 H 를 중심으로 하고 점 Q 를 지나는 평면 β 위의 원의 반지름의 길이가 4이므로 점 H 에서 x 축에 내린 수선의 발을 H' 이라 하면

$$\overline{HH'} = \overline{HQ} = 4$$

직각삼각형 $HH'F$ 에서 $\angle HFH' = \frac{\pi}{6}$ 이므로

로

$$\overline{HF} = \frac{\overline{HH'}}{\sin \frac{\pi}{6}} = \frac{4}{\frac{1}{2}} = 8$$

$$\overline{H'F} = \frac{\overline{HH'}}{\tan \frac{\pi}{6}} = \frac{4}{\frac{1}{\sqrt{3}}} = 4\sqrt{3}$$

타원의 정의에 의하여 타원 C_2 의 주축의 길이가 18이므로

$$\overline{QF} + \overline{QF'} = 18$$

$$\text{즉, } \overline{HF} + \overline{HQ} + \overline{QF'} = 18$$

$$\overline{QF'} = 18 - \overline{HF} - \overline{HQ}$$

$$= 18 - 8 - 4 = 6$$

세 점 F' , H' , F 는 한 직선 위에 있고,

$$\overline{QF} : \overline{HF} = \overline{QF'} : \overline{HH'} = 3 : 2 \text{이므로}$$

두 삼각형 FHH' , FQF' 는 서로 닮음이고 닮음비가 3:2이다.

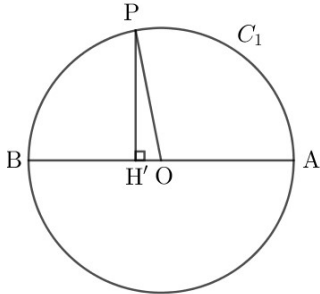
따라서

$$\overline{FF'} = \frac{3}{2} \times \overline{HF} = \frac{3}{2} \times 4\sqrt{3} = 6\sqrt{3}$$

$$\overline{OH'} = \overline{H'F} - \overline{OF}$$

$$= \overline{H'F} - \frac{1}{2}\overline{FF'}$$

$$= 4\sqrt{3} - 3\sqrt{3} = \sqrt{3}$$



점 P는 중심이 O이고 반지름의 길이가 9인 원 위의 점이고, 삼수선의 정리에 의하여 $\overline{PH'} \perp \overline{AB}$ 이므로

$$\overline{PH'} = \sqrt{\overline{OP}^2 - \overline{OH'}^2}$$

$$= \sqrt{81 - 3} = \sqrt{78}$$

$\overline{PO} \perp \overline{AB}$, $\overline{HH'} \perp \overline{AB}$ 이므로 두 평면 α , β 가 이루는 각의 크기 θ 는 $\theta = \angle PH'H$ 이다.

따라서

$$\cos \theta = \frac{\overline{HH'}}{\overline{PH'}}$$

$$= \frac{4}{\sqrt{78}} = \frac{2\sqrt{78}}{39}$$

정답 ⑤

29. 출제의도 : 쌍곡선의 정의를 이용하여 점의 좌표를 구할 수 있는가?

정답풀이 :

두 점 P, Q는 모두 주축의 길이가 6인 쌍곡선 위의 점이고 조건 (가)와 쌍곡선의 정의에 의하여

$$\overline{PF'} - \overline{PF} = 6 \quad \dots\dots \textcircled{가}$$

$$\overline{QF} - \overline{QF'} = 6 \quad \dots\dots \textcircled{나}$$

조건 (다)에서 삼각형 PQF의 둘레의 길

이가 28이고, ㉠에 의하여

$$\overline{PF} + \overline{PQ} + \overline{QF} = \overline{PF} + \overline{PQ} + (\overline{QF'} + 6)$$

$$= \overline{PF} + (\overline{PQ} + \overline{QF'}) + 6$$

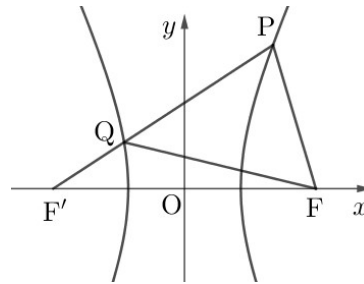
$$= \overline{PF} + \overline{PF'} + 6$$

$$\overline{PF} + \overline{PF'} + 6 = 28$$

$$\overline{PF} + \overline{PF'} = 22 \quad \dots\dots \textcircled{㉠}$$

조건 (나)에서 삼각형 PF'F가 이등변삼각형이고 ㉠에서 $\overline{PF'} \neq \overline{PF}$ 이므로 $\overline{PF'} = \overline{FF'}$ 또는 $\overline{PF} = \overline{FF'}$ 이다.

(i) $\overline{PF'} = \overline{FF'}$ 인 경우



$$\overline{FF'} = 2c \text{ 이므로 } \overline{PF'} = 2c$$

㉠에 의하여

$$\overline{PF} = \overline{PF'} - 6 = 2c - 6$$

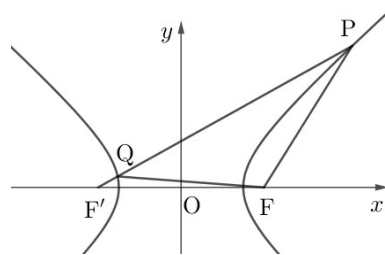
㉠에 의하여

$$2c + (2c - 6) = 22$$

$$4c = 28$$

$$c = 7$$

(ii) $\overline{PF} = \overline{FF'}$ 인 경우



$$\overline{FF'} = 2c \text{ 이므로 } \overline{PF} = 2c$$

㉠에 의하여

$$\overline{PF'} = \overline{PF} + 6 = 2c + 6$$

㉠에 의하여

$$2c + (2c + 6) = 22$$

$$4c = 16$$

$$c = 4$$

(i), (ii)에서 조건을 만족시키는 모든 c 의 값의 합은
 $7+4=11$

정답 11

30. 출제의도 : 벡터의 연산을 이용하여 조건을 만족시키는 삼각형의 넓이를 구할 수 있는가?

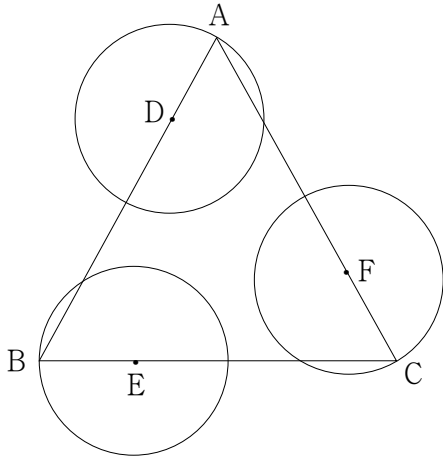
정답풀이 :

조건 (가)에서

점 P는 점 D를 중심으로 하고 반지름의 길이가 1인 원 위의 점이고,

점 Q는 점 E를 중심으로 하고 반지름의 길이가 1인 원 위의 점이고,

점 R는 점 F를 중심으로 하고 반지름의 길이가 1인 원 위의 점이다.



조건 (나)에서

$$\begin{aligned} \overrightarrow{AX} &= \overrightarrow{PB} + \overrightarrow{QC} + \overrightarrow{RA} \\ &= (\overrightarrow{DB} - \overrightarrow{DP}) + (\overrightarrow{EC} - \overrightarrow{EQ}) + (\overrightarrow{FA} - \overrightarrow{FR}) \\ &= \overrightarrow{DB} + \overrightarrow{EC} + \overrightarrow{FA} - (\overrightarrow{DP} + \overrightarrow{EQ} + \overrightarrow{FR}) \end{aligned}$$

그런데 $\overrightarrow{DB} + \overrightarrow{EC} + \overrightarrow{FA} = \vec{0}$ 이므로

$$\overrightarrow{AX} = -(\overrightarrow{DP} + \overrightarrow{EQ} + \overrightarrow{FR})$$

이때 $|\overrightarrow{AX}|$ 의 값이 최대하려면

세 벡터 \overrightarrow{DP} , \overrightarrow{EQ} , \overrightarrow{FR} 의 방향이 모두 같아야 한다.

즉, $|\overrightarrow{AX}|$ 의 값이 최대일 때, 삼각형 PQR의 넓이는 삼각형 DEF의 넓이와 같다.

삼각형 DBE에서 코사인법칙에 의하여

$$\overline{DE}^2 = \overline{DB}^2 + \overline{BE}^2 - 2 \times \overline{DB} \times \overline{BE} \times \cos \frac{\pi}{3}$$

$$= 9 + 1 - 2 \times 3 \times 1 \times \frac{1}{2}$$

$$= 7$$

따라서 삼각형 DEF는 한 변의 길이가

$\sqrt{7}$ 인 정삼각형이므로

$$S = \frac{\sqrt{3}}{4} \times (\sqrt{7})^2$$

$$= \frac{7\sqrt{3}}{4}$$

$$\text{즉, } 16S^2 = 16 \times \left(\frac{7\sqrt{3}}{4}\right)^2$$

$$= 147$$

정답 147