

● 수학 영역 ●

※ 본 전국연합학력평가는 17개 시도 교육청 주관으로 시행되며, 해당 자료는 EBSi에서만 제공됩니다. 무단 전재 및 재배포는 금지됩니다.

정답

1	②	2	⑤	3	①	4	③	5	④
6	①	7	⑤	8	①	9	④	10	②
11	②	12	③	13	④	14	③	15	③
16	⑤	17	⑤	18	④	19	②	20	①
21	②	22	6	23	15	24	126	25	32
26	578	27	153	28	29	29	9	30	91

해설

- [출제의도]** 근호를 포함한 식의 값을 계산한다.  
 $\sqrt{20} + \sqrt{5} = 2\sqrt{5} + \sqrt{5} = 3\sqrt{5}$
- [출제의도]** 일차방정식의 해를 계산한다.  
 $\frac{x}{2} + 7 = 2x - 8$ 에서  $x + 14 = 4x - 16$   
 $3x = 30$   
 $x = 10$
- [출제의도]** 일차함수의 그래프의 평행이동을 이용하여 일차함수의 계수를 계산한다.  
 일차함수  $y = ax$ 의 그래프를  $y$ 축의 방향으로  $-3$ 만큼 평행이동한 그래프를 나타내는 일차함수의 식은  $y = ax - 3$   
 이 일차함수의 그래프가 점  $(2, 9)$ 를 지나므로  $y = ax - 3$ 에  $x = 2, y = 9$ 를 대입하면  $9 = 2a - 3$   
 $2a = 12$   
 따라서  $a = 6$
- [출제의도]** 피타고라스 정리를 이해하여 정사각형의 넓이를 구한다.  
 직각삼각형 ABC에서 피타고라스 정리에 의하여  $AC^2 = AB^2 + BC^2 = 3^2 + 2^2 = 13$   
 따라서 선분 AC를 한 변으로 하는 정사각형의 넓이는  $AC^2 = 13$
- [출제의도]** 줄기와 잎 그림을 이해하여 최빈값을 구한다.  
 주어진 줄기와 잎 그림에서  
 34세가 3번,  
 19세, 25세, 28세가 각각 2번씩,  
 17세, 18세, 20세, 35세, 41세, 46세가 각각 1번씩 나타난다.  
 34세가 3번으로 가장 많이 나타나므로 최빈값은 34세이다.
- [출제의도]** 다항식의 곱셈을 이해하여 상수의 값을 구한다.  
 $(x+a)(x-3) = x^2 + (a-3)x - 3a = x^2 + bx + 6$   
 에서  $a-3 = b, -3a = 6$   
 $a = -2$ 이고, 이를  $a-3 = b$ 에 대입하면  $b = -5$   
 따라서  $ab = (-2) \times (-5) = 10$
- [출제의도]** 일차함수와 일차방정식의 관계를 이해하여 교점의 좌표를 구한다.  
 두 일차방정식의 그래프의 교점의 좌표는  $x, y$ 에 대

한 연립방정식의 해이다.

$$\begin{cases} x - 2y = 7 & \dots \textcircled{1} \\ 2x + y = -1 & \dots \textcircled{2} \end{cases}$$

$\textcircled{1} + 2 \times \textcircled{2}$ 에서

$$5x = 5$$

$$x = 1 \text{ 이므로 } y = -3$$

$$a = 1, b = -3$$

$$\text{따라서 } a + b = 1 + (-3) = -2$$

- [출제의도]** 경우의 수를 이해하여 주어진 사건의 확률을 구한다.

서로 다른 두 개의 주사위를 동시에 던져 나오는 모든 경우의 수는  $6 \times 6 = 36$

나오는 눈의 수를 각각  $a, b$ 라 하고 이것을 순서쌍  $(a, b)$ 로 나타내면

(i)  $a$ 와  $b$ 의 차이가 2인 경우

$$(1, 3), (2, 4), (3, 5), (4, 6),$$

$$(3, 1), (4, 2), (5, 3), (6, 4) \text{의 } 8 \text{가지}$$

(ii)  $a$ 와  $b$ 의 차이가 4인 경우

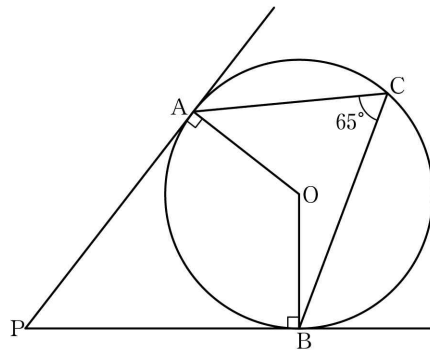
$$(1, 5), (2, 6), (5, 1), (6, 2) \text{의 } 4 \text{가지}$$

(i), (ii)의 경우는 동시에 일어나지 않으므로 나오는 눈의 수의 차이가 2 또는 4인 경우의 수는

$$8 + 4 = 12$$

$$\text{따라서 구하는 확률은 } \frac{12}{36} = \frac{1}{3}$$

- [출제의도]** 원과 접선의 성질을 이해하여 각의 크기를 구한다.



원의 중심을 O라 하자. 직선 PA와 직선 PB가 원의 접선이므로  $\angle PAO = \angle OBP = 90^\circ$

호 AB에 대한 중심각의 크기는 원주각의 크기의 2배이므로

$$\angle AOB = 2 \times \angle ACB = 2 \times 65^\circ = 130^\circ$$

사각형 APBO의 내각의 크기의 합은  $360^\circ$ 이므로

$$\angle BPA + \angle PAO + \angle AOB + \angle OBP = 360^\circ$$

$$\angle BPA + 90^\circ + 130^\circ + 90^\circ = 360^\circ$$

$$\angle BPA = 360^\circ - 90^\circ - 130^\circ - 90^\circ = 50^\circ$$

- [출제의도]** 이차방정식의 근을 이용하여 주어진 조건을 만족시키는 값을 추론한다.

$$(x-a)^2 = 27$$

$$x-a = \pm \sqrt{27}$$

$$x = a \pm \sqrt{27}$$

두 근이 모두 양수이기 위해서는

$$a + \sqrt{27} > 0 \text{ 이고 } a - \sqrt{27} > 0 \text{ 이어야 하므로}$$

$$a > \sqrt{27}$$

$$\sqrt{25} < \sqrt{27} < \sqrt{36} \text{ 이므로}$$

$$5 < \sqrt{27} < 6$$

따라서 구하는 자연수  $a$ 의 최솟값은 6

- [출제의도]** 도수분포표와 유향소수의 성질을 이해하여 도수를 구한다.

$$\text{도수의 총합이 } 45 \text{ 이므로 } 7 + 11 + a + 10 + b = 45$$

$$a + b = 17 \dots \textcircled{1}$$

독서 시간이 10시간 이상 15시간 미만인 계급의 상대도수는  $\frac{a}{45}$  이고, 상대도수가 0이 아니므로  $a > 0$

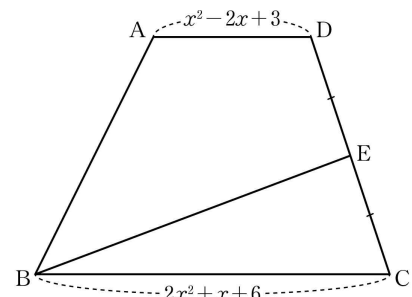
45를 소인수분해하면  $45 = 3^2 \times 5$

$\frac{a}{45} = \frac{a}{3^2 \times 5}$ 가 유향소수이기 위해서는 기약분수로 나타내었을 때 분모의 소인수가 2 또는 5뿐이어야 하므로  $a$ 는 9의 배수이다.  $\dots \textcircled{2}$

$$\textcircled{1}, \textcircled{2} \text{에서 } a = 9, b = 8$$

$$\text{따라서 } 2a + b = 2 \times 9 + 8 = 26$$

- [출제의도]** 다항식의 연산을 이해하여 사각형의 넓이를 구한다.



사각형 ABED의 넓이는 두 삼각형 ABD, BED의 넓이의 합과 같다.

삼각형 ABD에서 밑변을 선분 AD라 하면 높이가 4이므로

$$\begin{aligned} \triangle ABD &= \frac{1}{2} \times \overline{AD} \times 4 = \frac{1}{2} \times (x^2 - 2x + 3) \times 4 \\ &= 2x^2 - 4x + 6 \dots \textcircled{1} \end{aligned}$$

$$\overline{DE} = \overline{CE} \text{ 이므로 } \triangle BED = \triangle BCE$$

$$\triangle BCD = \triangle BED + \triangle BCE = 2 \times \triangle BED$$

삼각형 BCD에서 밑변을 선분 BC라 하면 높이가 4이므로

$$\begin{aligned} \triangle BCD &= \frac{1}{2} \times \overline{BC} \times 4 = \frac{1}{2} \times (2x^2 + x + 6) \times 4 \\ &= 4x^2 + 2x + 12 \dots \textcircled{2} \end{aligned}$$

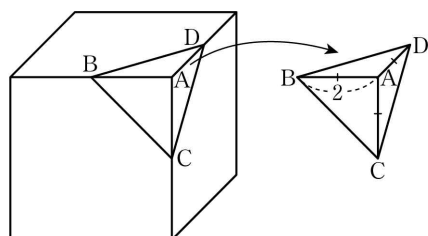
$\textcircled{1}, \textcircled{2}$ 에서

$$\square ABED = \triangle ABD + \triangle BED$$

$$= (2x^2 - 4x + 6) + \frac{1}{2}(4x^2 + 2x + 12)$$

$$= 4x^2 - 3x + 12$$

- [출제의도]** 입체도형을 이해하여 주어진 입체도형의 부피를 구한다.



한 모서리의 길이가 4인 정육면체의 부피는  $4^3 = 64$

네 점 A, B, C, D를 꼭짓점으로 하는 사면체는  $\overline{AB} = \overline{AD} = 2$ 인 직각삼각형 ABD를 밑면으로 하고 높이가 2인 삼각뿔이다.

$$\text{잘라 낸 사면체의 부피는 } \frac{1}{3} \times \left( \frac{1}{2} \times 2 \times 2 \right) \times 2 = \frac{4}{3}$$

따라서 구하는 입체도형의 부피는

$$64 - \frac{4}{3} = \frac{188}{3}$$

- [출제의도]** 대푯값과 산포도를 이해하여 평균과 분산을 구한다.

과수원 B의 사과 6개의 당도의 평균은

$$\frac{11 + 9 + 12 + 9 + a + (a+1)}{6} = \frac{42 + 2a}{6}$$

이고, 과수원 A의 사과 6개의 당도의 평균 11과 같으므로

$$\frac{42 + 2a}{6} = 11, a = 12$$

과수원 B의 사과 6개 각각의 당도는

$$11, 9, 12, 9, 12, 13$$

이 자료의 편차는 차례로

0, -2, 1, -2, 1, 2

(분산) =  $\frac{(\text{편차})^2 \text{의 총합}}{(\text{변량}) \text{의 개수}}$  이므로

과수원 B의 사과 6개의 당도의 분산은  $\frac{0^2 + (-2)^2 + 1^2 + (-2)^2 + 1^2 + 2^2}{6} = \frac{14}{6} = \frac{7}{3}$

$$b = \frac{7}{3}$$

따라서  $a+b = 12 + \frac{7}{3} = \frac{43}{3}$

15. [출제의도] 일차부등식을 이용하여 실생활 문제를 해결한다.

온라인 서점 A에서 x권 주문할 때 지불하는 금액은

$$12000x \times \left(1 - \frac{5}{100}\right)$$

온라인 서점 B에서 x권 주문할 때 지불하는 금액은

$$12000x \times \left(1 - \frac{10}{100}\right) + 4000$$

온라인 서점 A에 지불하는 금액이 온라인 서점 B에 지불하는 금액보다 커야 하므로

$$12000x \times \left(1 - \frac{5}{100}\right) > 12000x \times \left(1 - \frac{10}{100}\right) + 4000$$

이 부등식을 풀면

$$3x \times \left(1 - \frac{5}{100}\right) > 3x \times \left(1 - \frac{10}{100}\right) + 1$$

$$3x \times \frac{95}{100} - 3x \times \frac{90}{100} > 1$$

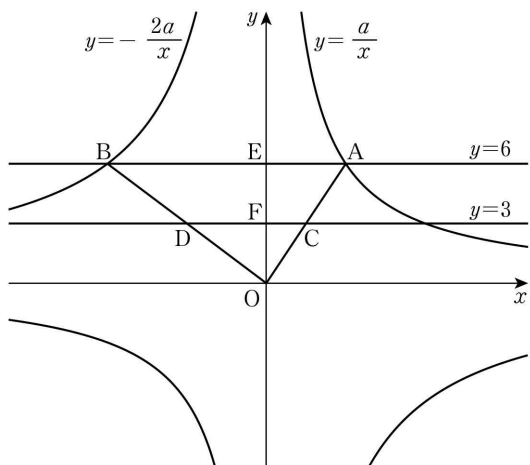
$$3x \times \frac{5}{100} > 1, \frac{3}{20}x > 1$$

$$x > \frac{20}{3}$$

$6 < \frac{20}{3} < 7$ 이므로 x가 7 이상이면 온라인 서점 A에서 주문할 때 지불하는 금액이 온라인 서점 B에서 주문할 때 지불하는 금액보다 더 크다.

따라서 x의 최솟값은 7

16. [출제의도] 삼각형의 닮음의 성질을 이해하여 상수의 값을 구한다.



두 직선  $y=6, y=3$ 이 y축과 만나는 점을 각각 E, F라 하자.

반비례 관계  $y = \frac{a}{x}$ 의 그래프와 직선  $y=6$ 이 만나는 점 A의 좌표가  $\left(\frac{a}{6}, 6\right)$ 이므로  $\overline{EA} = \frac{a}{6}$

반비례 관계  $y = -\frac{2a}{x}$ 의 그래프와 직선  $y=6$ 이 만나는 점 B의 좌표가  $\left(-\frac{a}{3}, 6\right)$ 이므로  $\overline{BE} = \frac{a}{3}$

$$\text{그러므로 } \overline{BA} = \overline{BE} + \overline{EA} = \frac{a}{3} + \frac{a}{6} = \frac{a}{2}$$

삼각형 DOC와 삼각형 BOA에서 각 COD는 공통이고, 두 직선  $y=3, y=6$ 이 서로 평행하므로  $\angle DCO = \angle BAO$

그러므로 두 삼각형은 서로 닮음이다.

평행선 사이의 선분의 길이의 비에서

$$\overline{OF} : \overline{OE} = \overline{OC} : \overline{OA} = 1 : 2$$

이므로 삼각형 DOC와 삼각형 BOA의 닮음비는 1:2

이고, 두 삼각형의 넓이의 비는 1:4이다.

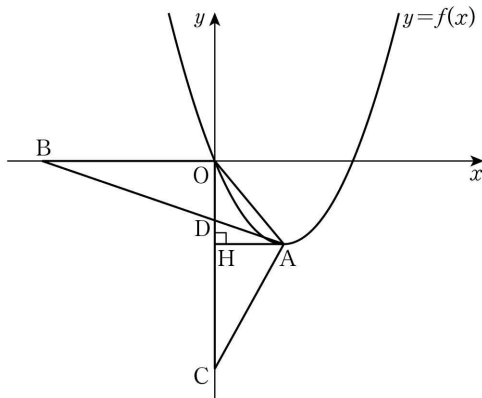
$$\square ABDC = \triangle BOA - \triangle DOC = \triangle BOA - \frac{1}{4} \times \triangle BOA$$

$$= \frac{3}{4} \times \triangle BOA = \frac{3}{4} \times \left(\frac{1}{2} \times \overline{AB} \times \overline{OE}\right)$$

$$\text{그러므로 } 27 = \frac{3}{4} \times \left(\frac{1}{2} \times \frac{a}{2} \times 6\right)$$

따라서  $a=24$

17. [출제의도] 이차함수의 그래프를 이해하여 합숫값을 구한다.



점 A에서 y축에 내린 수선의 발을 H라 하자.

삼각형 OCA에서 밑변을 선분 OC라 하면 높이가  $\overline{AH}$ 이므로

$$\triangle OCA = \frac{1}{2} \times \overline{OC} \times \overline{AH} = \frac{1}{2} \times 6 \times \overline{AH} = 3\overline{AH}$$

삼각형 OCA의 넓이가 6이므로  $\overline{AH} = 2$

점 A는 제4사분면 위의 점이므로

점 A의 x좌표는 2 ..... ㉠

$\overline{OD} = a$  ( $0 < a < 6$ )이라 하면

$$\overline{DC} = 6 - a$$

삼각형 OBD에서 밑변을 선분 OB라 하면 높이가  $\overline{OD}$ 이므로

$$\triangle OBD = \frac{1}{2} \times \overline{OB} \times \overline{OD} = \frac{1}{2} \times 5 \times a = \frac{5}{2}a$$

삼각형 DCA에서 밑변을 선분 DC라 하면 높이가  $\overline{AH}$ 이므로

$$\triangle DCA = \frac{1}{2} \times \overline{DC} \times \overline{AH} = \frac{1}{2} \times (6 - a) \times 2 = 6 - a$$

$\triangle OBD = \triangle DCA$ 에서

$$\frac{5}{2}a = 6 - a, a = \frac{12}{7}$$

$\angle ODB = \angle HDA$  (맞꼭지각),  $\angle BOD = \angle AHD$  이므로 삼각형 OBD와 삼각형 HAD는 서로 닮음이다.

$$\text{즉, } \overline{BO} : \overline{AH} = \overline{OD} : \overline{HD} \text{ 이므로 } 5 : 2 = \frac{12}{7} : \overline{HD}$$

$$\overline{HD} = \frac{1}{5} \times 2 \times \frac{12}{7} = \frac{24}{35}$$

$$\overline{OH} = \overline{OD} + \overline{HD} = \frac{12}{7} + \frac{24}{35} = \frac{12}{5}$$

$$= \frac{12}{5}$$

점 A는 제4사분면 위의 점이므로

점 A의 y좌표는  $-\frac{12}{5}$  ..... ㉡

㉠, ㉡에서 점 A의 좌표는  $\left(2, -\frac{12}{5}\right)$ 이고, 이 점은 이차함수  $y=f(x)$ 의 그래프의 꼭짓점이므로

$$f(x) = p(x-2)^2 - \frac{12}{5} \quad (p \text{는 상수})$$

이차함수  $y=f(x)$ 의 그래프가 원점 O를 지나므로

$$f(0) = p(0-2)^2 - \frac{12}{5}$$

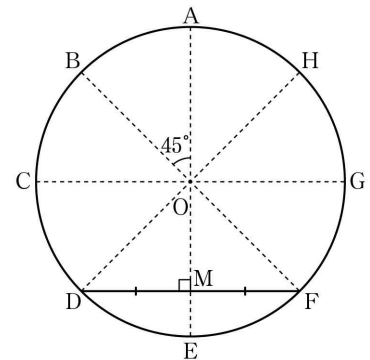
$$= 4p - \frac{12}{5} = 0$$

$$p = \frac{3}{5} \text{에서 } f(x) = \frac{3}{5}(x-2)^2 - \frac{12}{5}$$

따라서

$$f(10) = \frac{3}{5}(10-2)^2 - \frac{12}{5} = 36$$

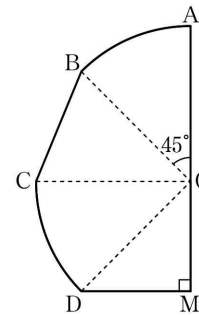
18. [출제의도] 평면도형의 성질과 삼각비를 이용하여 실생활 문제를 해결한다.



점 A, B, C, D, E, F, G, H는 원의 둘레를 8등분하는 점이고, 부채꼴의 호의 길이는 중심각의 크기에 정비례하므로 그림의 8개의 부채꼴의 중심각의 크기는 모두  $45^\circ$ 이다.

원의 중심을 O라 하고, 선분 DF의 중점을 M이라 하면 직선 OM은 선분 DF를 수직이등분한다.

한편 모양의 도형의 넓이는 모양의 도형의 넓이의 2배와 같다.



부채꼴 AOB의 넓이를 S라 하면

$$\left(\square \text{ 모양의 도형의 넓이}\right) = 2S + \triangle OBC + \triangle ODM$$

$$S = \pi \times 4^2 \times \frac{45}{360} = 2\pi \text{ (cm}^2\text{)}$$

$$\triangle OBC = \frac{1}{2} \times 4 \times 4 \times \sin 45^\circ = \frac{1}{2} \times 4 \times 4 \times \frac{\sqrt{2}}{2} = 4\sqrt{2} \text{ (cm}^2\text{)}$$

$$\text{직각삼각형 ODM에서 } \frac{\overline{DM}}{4} = \sin 45^\circ = \frac{\sqrt{2}}{2}$$

$$\overline{DM} = 2\sqrt{2}$$

$$\triangle ODM = \frac{1}{2} \times 2\sqrt{2} \times 2\sqrt{2} = 4 \text{ (cm}^2\text{)}$$

$$\left(\text{mitten 모양의 도형의 넓이}\right)$$

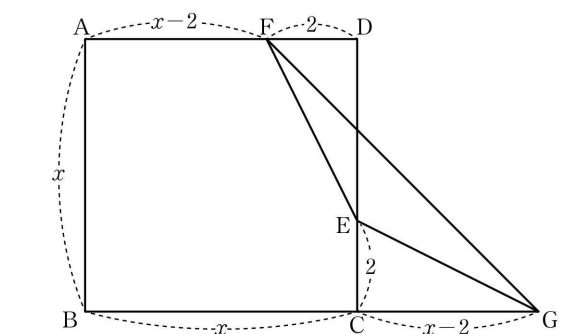
$$= \left(\square \text{ 모양의 도형의 넓이}\right) \times 2$$

$$= (2 \times 2\pi + 4\sqrt{2} + 4) \times 2$$

$$= 8\pi + 8\sqrt{2} + 8 \text{ (cm}^2\text{)}$$

$$\text{따라서 } a = 8 + 8\pi + 8\sqrt{2}$$

19. [출제의도] 삼각형의 합동을 이용하여 이차방정식의 해를 구하는 문제를 해결한다.



$$\overline{AF} = \overline{AD} - \overline{FD} = x - 2$$

$$\overline{BG} = \overline{BC} + \overline{CG} = x + (x-2) = 2x-2$$

사각형 ABGF는 두 밑변의 길이가  $\overline{AF}$ ,  $\overline{BG}$ 이고, 높이가  $x$ 인 사다리꼴이므로

$$\begin{aligned} \square ABGF &= \frac{1}{2} \times \{(x-2) + (2x-2)\} \times x = \frac{1}{2} \times (3x-4) \times x \\ &= \frac{3}{2}x^2 - 2x \dots\dots \textcircled{1} \end{aligned}$$

$$\overline{DE} = \overline{CG} = x-2, \overline{FD} = \overline{EC} = 2 \text{ 이고}$$

$\angle FDE = \angle ECG = 90^\circ$  이므로 삼각형 FDE와 삼각형 ECG는 서로 합동이다.

오각형 ABCEF의 넓이를  $S$ 라 하면

$$\begin{aligned} \square ABGF &= S + \triangle ECG + \triangle EGF = S + \triangle FDE + \triangle EGF \\ &= \square ABCD + \triangle EGF \\ &= x^2 + 7 \dots\dots \textcircled{2} \end{aligned}$$

①, ②에서

$$\frac{3}{2}x^2 - 2x = x^2 + 7$$

$$\frac{1}{2}x^2 - 2x - 7 = 0$$

$$x^2 - 4x - 14 = 0$$

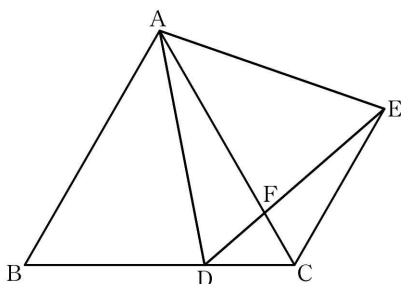
근의 공식에 의하여

$$x = \frac{-(-4) \pm \sqrt{(-4)^2 - 4 \times 1 \times (-14)}}{2 \times 1} = \frac{4 \pm \sqrt{72}}{2}$$

$$= 2 \pm 3\sqrt{2}$$

$$x > 4 \text{ 이므로 } x = 2 + 3\sqrt{2}$$

20. [출제의도] 도형의 답을 이용하여 주어진 선분의 길이를 구하는 과정을 추론한다.



두 정삼각형 ABC, ADE에서  $\overline{AB} = \overline{AC}$ ,  $\overline{AD} = \overline{AE}$ 이고,

$\angle BAD = 60^\circ - \angle DAC = \angle CAE$  이므로 삼각형 ABD와 삼각형 ACE는 서로 합동이다.

그러므로  $\angle DBA = \angle ECA$ ,  $\overline{BD} = \overline{CE}$  이고,

$\angle DBA = 60^\circ$ ,  $\overline{BD} = \overline{BC} - \overline{DC} = 12 - 4 = 8$  이므로

$\angle ECA = 60^\circ$ ,  $\overline{CE} = \boxed{8}$

한편 각 AFD와 각 CFE는 서로 맞꼭지각이고,

$\angle FDA = \angle ECF$  이므로

$\angle DAF = \angle FEC$

또한  $\angle ACD = \angle ECF$  이므로 삼각형 ACD와 삼각형 ECF는 서로 닮은 도형이고,

삼각형 ACD와 삼각형 ECF의 닮음비는

$$\overline{AC} : \overline{EC} = 12 : 8 = \boxed{3} : 2 \text{ 이다.}$$

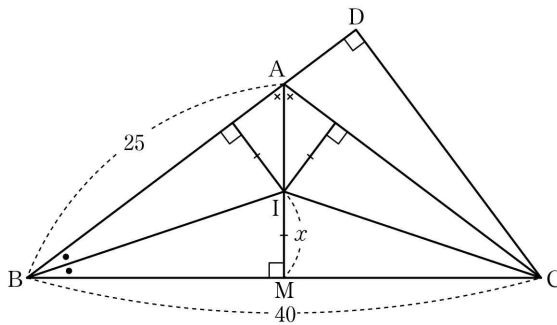
따라서

$$\overline{CD} : \overline{CF} = 3 : 2, \overline{CD} = 4 \text{ 에서 } 3\overline{CF} = 4 \times 2, \overline{CF} = \boxed{\frac{8}{3}}$$

$$\text{따라서 } p = 8, q = 3, r = \frac{8}{3} \text{ 에서}$$

$$p + q + r = \frac{41}{3}$$

21. [출제의도] 삼각형의 내심의 성질과 제곱근을 이용하여 선분의 길이를 구하는 문제를 해결한다.



삼각형 ABC는  $\overline{AB} = \overline{AC}$  인 이등변삼각형이므로 각 BAC의 이등분선은 밑변을 수직이등분한다. 각 BAC의 이등분선이 선분 BC와 만나는 점을 M이라 하면  $\overline{BM} = \overline{CM} = 20$ ,  $\angle AMB = 90^\circ$

직각삼각형 ABM에서 피타고라스 정리에 의하여

$$\overline{AB}^2 = \overline{BM}^2 + \overline{AM}^2, 25^2 = 20^2 + \overline{AM}^2$$

$$\overline{AM}^2 = 225, \overline{AM} = 15$$

점 I는 삼각형 ABC의 내심이므로 선분 AM 위에 있다.

두 삼각형 ABM, CBD에서 각 MBA는 공통이고  $\angle AMB = \angle CDB = 90^\circ$  이므로 삼각형 ABM과 삼각형 CBD는 서로 닮음이다.

그러므로  $\overline{AB} : \overline{CB} = \overline{BM} : \overline{BD}$  에서  $25 : 40 = 20 : \overline{BD}$

$$\overline{BD} = \frac{40 \times 20}{25} = 32$$

$$\overline{AD} = \overline{BD} - \overline{BA} = 32 - 25 = 7$$

마찬가지로  $\overline{AB} : \overline{CB} = \overline{AM} : \overline{CD}$  에서  $25 : 40 = 15 : \overline{CD}$

$$\overline{CD} = \frac{40 \times 15}{25} = 24$$

삼각형 ABC의 내접원의 반지름의 길이를  $x$ 라 하면 점 I가 삼각형 ABC의 내심이므로 점 I에서 삼각형 ABC의 세 변 AB, BC, CA에 이르는 거리가  $x$ 로 모두 같다.

세 삼각형 ABI, BCI, CAI의 밑변을 각각 선분 AB, 선분 BC, 선분 CA라 하면 높이는 모두  $x$ 이므로

$$\triangle ABC = \triangle ABI + \triangle BCI + \triangle CAI$$

$$= \frac{1}{2} \times \overline{AB} \times x + \frac{1}{2} \times \overline{BC} \times x + \frac{1}{2} \times \overline{CA} \times x$$

$$= \frac{1}{2} \times (25 + 40 + 25) \times x$$

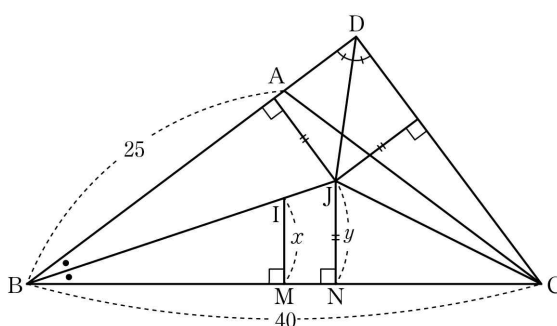
$$= 45x$$

삼각형 ABC에서 밑변을 선분 BC라 하면 높이가  $\overline{AM}$ 이므로

$$\triangle ABC = \frac{1}{2} \times \overline{BC} \times \overline{AM}$$

$$= \frac{1}{2} \times 40 \times 15 = 300$$

그러므로  $45x = 300$  에서  $x = \frac{20}{3}$



삼각형 DBC의 내접원의 반지름의 길이를  $y$ 라 하면 점 J가 삼각형 DBC의 내심이므로 점 J에서 삼각형 DBC의 세 변 DB, BC, CD에 이르는 거리가  $y$ 로 모두 같다.

세 삼각형 DBJ, BCJ, CDJ의 밑변을 각각 선분 DB, 선분 BC, 선분 CD라 하면 높이는 모두  $y$ 이므로

$$\triangle DBC = \triangle DBJ + \triangle BCJ + \triangle CDJ$$

$$= \frac{1}{2} \times \overline{DB} \times y + \frac{1}{2} \times \overline{BC} \times y + \frac{1}{2} \times \overline{CD} \times y$$

$$= \frac{1}{2} \times (32 + 40 + 24) \times y$$

$$= 48y$$

삼각형 DBC에서 밑변을 선분 BD라 하면 높이가  $\overline{CD}$ 이므로

$$\triangle DBC = \frac{1}{2} \times \overline{BD} \times \overline{CD}$$

$$= \frac{1}{2} \times 32 \times 24 = 384$$

그러므로  $48y = 384$  에서  $y = 8$

직각삼각형 IBM에서 피타고라스 정리에 의하여

$$\begin{aligned} \overline{IB}^2 &= \overline{BM}^2 + \overline{IM}^2 \\ &= 20^2 + \left(\frac{20}{3}\right)^2 = \frac{4000}{9} \end{aligned}$$

$$\overline{IB} = \frac{20\sqrt{10}}{3}$$

점 J에서 선분 BC에 내린 수선의 발을 N이라 하자. 두 삼각형 IBM, JBN에서 각 MBI는 공통이고,

$\angle IMB = \angle JNB = 90^\circ$  이므로 삼각형 IBM과 삼각형 JBN은 서로 닮음이고, 그 닮음비는

$$x : y = \frac{20}{3} : 8 = 5 : 6$$

$$\overline{JB} = \frac{6}{5} \overline{IB} \text{ 이므로}$$

$$\overline{IJ} = \overline{JB} - \overline{IB} = \frac{6}{5} \overline{IB} - \overline{IB} = \frac{1}{5} \overline{IB} = \frac{1}{5} \times \frac{20\sqrt{10}}{3}$$

$$\text{따라서 } \overline{IJ} = \frac{4\sqrt{10}}{3}$$

22. [출제의도] 이차함수의 그래프의 꼭짓점의 좌표를 구하여 주어진 식의 값을 계산한다.

$$y = x^2 - 2x + 6 = (x^2 - 2x + 1) + 5$$

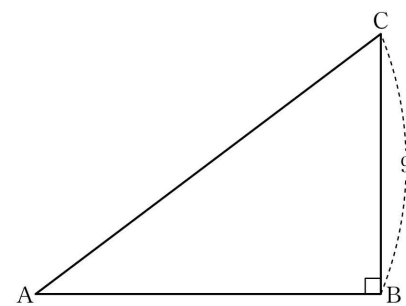
$$= (x-1)^2 + 5$$

이 이차함수의 그래프의 꼭짓점의 좌표는 (1, 5)

$$a = 1, b = 5$$

$$\text{따라서 } a + b = 6$$

23. [출제의도] 삼각비를 이용하여 선분의 길이를 계산한다.



$\angle B = 90^\circ$  인 직각삼각형 ABC에서

$$\sin A = \frac{\overline{BC}}{\overline{AC}} = \frac{9}{\overline{AC}} = \frac{3}{5}$$

$$\text{따라서 } \overline{AC} = 15$$

24. [출제의도] 소인수분해를 이용하여 주어진 조건을 만족시키는 값을 추론한다.

$$1265 \text{ 를 소인수분해하면 } 1265 = 5 \times 11 \times 23$$

$$m \times n = 5 \times 11 \times 23$$

$m$ 이 두 자리의 수이므로 가능한  $m$ 의 값은

11, 23, 55

(i)  $m = 11$  이면  $n = 5 \times 23 = 115$  이므로  $n$ 이 세 자리의 수가 되어 조건을 만족시킨다.

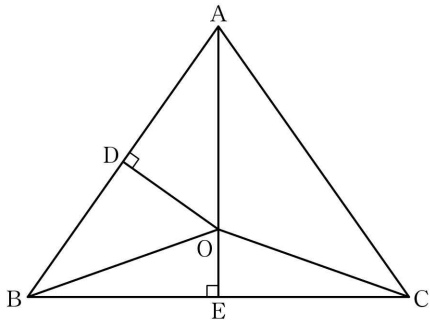
(ii)  $m = 23$  이면  $n = 5 \times 11 = 55$  이므로  $n$ 이 두 자리의 수가 되어 조건을 만족시키지 않는다.

(iii)  $m = 55$  이면  $n = 23$  이므로  $n$ 이 두 자리의 수가 되어 조건을 만족시키지 않는다.

(i), (ii), (iii)에서 조건을 만족시키는 두 자연수  $m, n$ 의 값은  $m = 11, n = 115$

$$\text{따라서 } m + n = 11 + 115 = 126$$

25. [출제의도] 삼각형의 외심의 성질을 이해하여 주어진 삼각형의 넓이를 구한다.



점 O는 삼각형 ABC의 외심이므로  $\overline{OA} = \overline{OB} = \overline{OC}$   
삼각형 OAB는 이등변삼각형이고, 점 O에서  
선분 AB에 내린 수선의 발이 점 D이므로  
직선 OD는 선분 AB를 수직이등분한다.

$\overline{AD} = \overline{BD}$  이므로

$\triangle BDO = \triangle ADO = 6$ 이 되어

$\triangle ABO = \triangle BDO + \triangle ADO = 12$

두 삼각형 ABO, ACO에서

$\overline{AB} = \overline{AC}$ ,  $\overline{OB} = \overline{OC}$ 이고, 선분 OA는 공통이므로  
삼각형 ABO와 삼각형 ACO는 서로 합동이 되어

$\triangle ABO = \triangle ACO = 12$

$\overline{AO} = 3\overline{OE}$  이므로

$\triangle ABO = 3 \times \triangle OBE = 12$ ,  $\triangle OBE = 4$

$\triangle ACO = 3 \times \triangle OCE = 12$ ,  $\triangle OCE = 4$

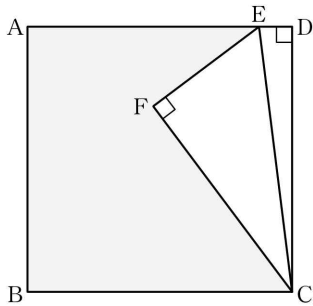
따라서

$\triangle ABC = \triangle ABO + \triangle ACO + \triangle OBE + \triangle OCE$

$= 12 + 12 + 4 + 4$

$= 32$

26. [출제의도] 제곱근의 성질과 피타고라스 정리를 이용하여 주어진 도형의 둘레의 길이를 구한다.



$\overline{DE} = \frac{\sqrt{2}}{2}$  이므로

$\overline{AE} = \overline{AD} - \overline{ED} = 4\sqrt{2} - \frac{\sqrt{2}}{2}$

$= \frac{7\sqrt{2}}{2}$  ..... ㉠

직각삼각형 ECD에서 피타고라스 정리에 의하여

$\overline{EC}^2 = \overline{ED}^2 + \overline{DC}^2 = \left(\frac{\sqrt{2}}{2}\right)^2 + (4\sqrt{2})^2$

$= \frac{65}{2}$

직각삼각형 FCE에서 피타고라스 정리에 의하여

$\overline{EC}^2 = \overline{EF}^2 + \overline{FC}^2$

$\overline{EF} : \overline{FC} = 4 : 7$ 에서  $\overline{EF} = \frac{4}{7}\overline{FC}$  이므로

$\overline{EC}^2 = \left(\frac{4}{7}\overline{FC}\right)^2 + \overline{FC}^2$

$= \frac{65}{49} \times \overline{FC}^2$

$\frac{65}{49} \times \overline{FC}^2 = \frac{65}{2}$ 에서  $\overline{FC}^2 = \frac{49}{2}$

$\overline{FC} = \frac{7\sqrt{2}}{2}$  이고  $\overline{EF} = \frac{4}{7}\overline{FC} = 2\sqrt{2}$  ..... ㉡

정사각형 ABCD에서

$\overline{AB} = \overline{BC} = 4\sqrt{2}$  ..... ㉢

㉠, ㉡, ㉢에서

모양의 도형의 둘레의 길이는

$\overline{AB} + \overline{BC} + \overline{CF} + \overline{FE} + \overline{EA}$

$= 4\sqrt{2} + 4\sqrt{2} + \frac{7\sqrt{2}}{2} + 2\sqrt{2} + \frac{7\sqrt{2}}{2}$

$= 17\sqrt{2}$

$a = 17\sqrt{2}$

따라서  $a^2 = 578$

27. [출제의도] 유리수의 연산을 이용하여 주어진 조건을 만족시키는 값을 추론한다.

네 수 중 서로 다른 두 수를 곱하여 나올 수 있는 값으로 가장 큰 수는 양수이다. 곱하여 양수가 되는 두 수는 모두 양수이거나 모두 음수이므로 a의 값은

$\frac{6}{5} \times \frac{2}{9} = \frac{4}{15}$ 와  $\left(-\frac{1}{2}\right) \times \left(-\frac{3}{4}\right) = \frac{3}{8}$  중 하나이다.

$\frac{4}{15} = \frac{32}{120}$ ,  $\frac{3}{8} = \frac{45}{120}$ 에서  $\frac{4}{15} < \frac{3}{8}$ 이므로  $a = \frac{3}{8}$

네 수 중 서로 다른 두 수를 곱하여 나올 수 있는 값으로 가장 작은 수는 음수이다. 곱하여 음수가 되게 하는 두 수는 양수 하나와 음수 하나이다.

주어진 네 수를 절댓값이 큰 수부터 차례로 나열하면

$\frac{6}{5}$ ,  $-\frac{3}{4}$ ,  $-\frac{1}{2}$ ,  $\frac{2}{9}$

음수는 절댓값이 클수록 수가 작아지므로 두 양수 중 절댓값이 큰 수인  $\frac{6}{5}$ 과 두 음수 중 절댓값이 큰 수

인  $-\frac{3}{4}$ 의 곱이 b가 된다.

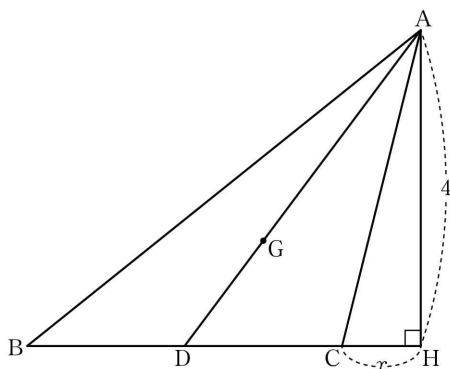
$b = \frac{6}{5} \times \left(-\frac{3}{4}\right) = -\frac{9}{10}$

$a - b = \frac{3}{8} - \left(-\frac{9}{10}\right) = \frac{15 + 36}{40}$

$= \frac{51}{40}$

따라서  $120(a - b) = 153$

28. [출제의도] 삼각형의 무게중심을 이용하여 선분의 길이와 삼각비의 값을 구하는 문제를 해결한다.



점 G가 삼각형 ABC의 무게중심이므로 점 D는 선분 BC의 중점이다.

그러므로  $\overline{BD} = \overline{DC} = 2$

점 A에서 직선 BC에 내린 수선의 발을 H라 하자.

$\triangle ADC = \frac{1}{2} \times \overline{DC} \times \overline{AH} = \frac{1}{2} \times 2 \times \overline{AH}$

$= 4$

$\overline{AH} = 4$

$\overline{CH} = x$ 라 하면  $\overline{BH} = x + 4$

직각삼각형 ABH에서 피타고라스 정리에 의하여

$\sqrt{41}^2 = (x + 4)^2 + 4^2$ ,  $(x + 4)^2 = 25$

$x > 0$ 이므로  $x = 1$ , 즉  $\overline{CH} = 1$

직각삼각형 ADH에서  $\overline{AD}^2 = \overline{DH}^2 + \overline{AH}^2$

$\overline{AD}^2 = 3^2 + 4^2 = 25$

$\overline{AD} = 5$

점 G가 삼각형 ABC의 무게중심이므로

$\overline{AG} : \overline{DG} = 2 : 1$

$\overline{DG} = \frac{1}{3} \times \overline{AD} = \frac{5}{3}$

$\tan(\angle CDA) = \tan(\angle HDA)$

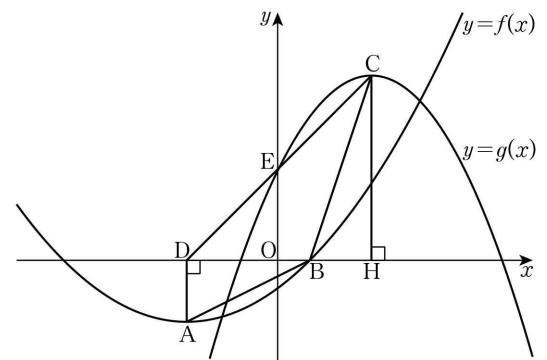
$= \frac{\overline{AH}}{\overline{DH}} = \frac{4}{3}$

$\overline{DG} \times \tan(\angle CDA) = \frac{5}{3} \times \frac{4}{3} = \frac{20}{9}$

$p = 9$ ,  $q = 20$

따라서  $p + q = 29$

29. [출제의도] 이차함수의 그래프의 성질을 이용하여 합숫값을 구하는 문제를 해결한다.



점 D는 점 A에서 x축에 내린 수선의 발이므로 점 D의 좌표는 (-3, 0)

$\overline{DB} = \overline{DO} + \overline{OB} = 3 + 1 = 4$

삼각형 DAB에서 밑변을 선분 DB라 하면 높이가  $\overline{DA}$ 이므로

$\triangle DAB = \frac{1}{2} \times \overline{DB} \times \overline{DA} = \frac{1}{2} \times 4 \times a$

$= 2a$

삼각형 CDB에서 밑변을 선분 DB라 하면 높이가  $3a$ 이므로

$\triangle CDB = \frac{1}{2} \times \overline{DB} \times 3a = \frac{1}{2} \times 4 \times 3a$

$= 6a$

$\square ABCD = \triangle DAB + \triangle CDB = 2a + 6a$

$= 8a$

$\square ABCD = 16$ 이므로

$a = 2$

점 A의 좌표는 (-3, -2)이고 점 C의 좌표는 (3, 6) 이차함수  $y = f(x)$ 의 그래프의 꼭짓점이 점 A이므로

$f(x) = p(x + 3)^2 - 2$  (p는 상수)

이차함수  $y = f(x)$ 의 그래프가 점 B(1, 0)을 지나므로

$f(1) = p(1 + 3)^2 - 2 = 16p - 2 = 0$

$p = \frac{1}{8}$

$f(x) = \frac{1}{8}(x + 3)^2 - 2$

$f(-1) = \frac{1}{8}(-1 + 3)^2 - 2$

$= -\frac{3}{2}$  ..... ㉠

선분 CD가 y축과 만나는 점을 E라 하고, 점 C에서 x축에 내린 수선의 발을 H라 하자.

두 삼각형 EDO, CDH에서 각 ODE는 공통이고,

$\angle EOD = \angle CHD = 90^\circ$ 이므로 삼각형 EDO와 삼각형 CDH는 서로 닮음이다.

$\overline{DO} : \overline{DH} = \overline{EO} : \overline{CH}$ 에서  $3 : 6 = \overline{EO} : 6$

$\overline{EO} = 3$

점 E의 좌표는 (0, 3)

이차함수  $y = g(x)$ 의 그래프의 꼭짓점이 점 C이므로

$g(x) = q(x - 3)^2 + 6$  (q는 상수)

이차함수  $y = g(x)$ 의 그래프가 점 E(0, 3)을 지나므로

$g(0) = q(0 - 3)^2 + 6$

$= 9q + 6 = 3$

$q = -\frac{1}{3}$

$g(x) = -\frac{1}{3}(x - 3)^2 + 6$

$g(-3) = -\frac{1}{3}(-3 - 3)^2 + 6$

$= -6$  ..... ㉡

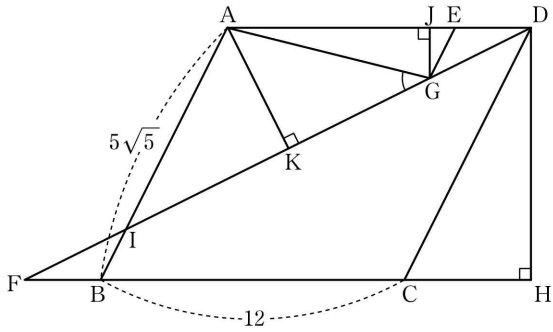
따라서 ㉠, ㉡에서

$f(-1) \times g(-3) = \left(-\frac{3}{2}\right) \times (-6)$

$= 9$

30. [출제의도] 삼각형의 닮음과 피타고라스 정리를 이

용하여 삼각비의 값을 구하는 문제를 해결한다.



점 D에서 직선 BC에 내린 수선의 발을 H라 하면  
 $\square ABCD = \overline{BC} \times \overline{DH} = 12 \times \overline{DH}$   
 $= 120$

$$\overline{DH} = 10$$

사각형 ABCD가 평행사변형이므로

$$\overline{AD} = \overline{BC}, \overline{AB} = \overline{DC}$$

직각삼각형 DCH에서 피타고라스 정리에 의하여

$$\overline{CD}^2 = \overline{CH}^2 + \overline{DH}^2, (5\sqrt{5})^2 = \overline{CH}^2 + 10^2$$

$$\overline{CH}^2 = 125 - 100 = 25, \overline{CH} = 5$$

$$\overline{AE} = 3\overline{ED} \text{ 이므로}$$

$$\overline{AD} = \overline{AE} + \overline{ED} = 3\overline{ED} + \overline{ED} \\ = 4\overline{ED} = 12$$

$$\overline{ED} = 3$$

$$\overline{BF} = \overline{ED} \text{ 이므로 } \overline{BF} = 3$$

$$\overline{FH} = \overline{FB} + \overline{BC} + \overline{CH} = 3 + 12 + 5 = 20$$

직각삼각형 DFH에서 피타고라스 정리에 의하여

$$\overline{DF}^2 = \overline{FH}^2 + \overline{DH}^2 = 20^2 + 10^2 = 500$$

$$\overline{DF} = 10\sqrt{5}$$

선분 AB가 선분 DF와 만나는 점을 I라 하자.

$\overline{AB} \parallel \overline{EG}$  이므로  $\angle DEG = \angle DAB$  (동위각)이고,

$\overline{AD} \parallel \overline{FC}$  이므로  $\angle DAB = \angle FBI$  (엇각)

그러므로  $\angle DEG = \angle FBI$

삼각형 EGD와 삼각형 BFI에서

$\angle DEG = \angle FBI$ ,  $\overline{DE} = \overline{FB} = 3$ ,  $\angle EDG = \angle BFI$  (엇각)이므로 두 삼각형은 서로 합동이다.

삼각형 EGD와 삼각형 AID에서

각 EDG는 공통이고,  $\angle DGE = \angle DIA$  (동위각)이므로 두 삼각형은 서로 닮음이다.

$$\overline{DE} : \overline{DA} = 3 : 12 = 1 : 4 \text{ 이므로}$$

삼각형 EGD와 삼각형 AID의 닮음비는 1:4이다.

$$\overline{FI} = \overline{GD} = x \text{ 라 하면 } \overline{ID} = 4x \text{ 이므로}$$

$$\overline{FD} = \overline{FI} + \overline{ID} = 5x = 10\sqrt{5}$$

$$x = 2\sqrt{5}, \text{ 즉 } \overline{FI} = \overline{GD} = 2\sqrt{5}$$

$$\overline{IB} = \overline{EG} = y \text{ 라 하면 } \overline{AI} = 4y \text{ 이므로}$$

$$\overline{AB} = \overline{AI} + \overline{IB} = 5y = 5\sqrt{5}$$

$$y = \sqrt{5}, \text{ 즉 } \overline{IB} = \overline{EG} = \sqrt{5}$$

점 G에서 선분 AD에 내린 수선의 발을 J라 하자.

$\overline{GE} \parallel \overline{CD}$  이므로  $\angle JEG = \angle ADC$  (동위각)이고,

$\overline{AD} \parallel \overline{CH}$  이므로  $\angle ADC = \angle HCD$  (엇각)

그러므로  $\angle JEG = \angle HCD$

삼각형 GEJ와 삼각형 DCH에서  $\angle JEG = \angle HCD$

$\angle GJE = \angle DHC = 90^\circ$  이므로 두 삼각형은 서로 닮음이다.

$$\overline{GE} : \overline{DC} = \sqrt{5} : 5\sqrt{5} = 1 : 5 \text{ 이므로}$$

삼각형 GEJ와 삼각형 DCH의 닮음비는 1:5이다.

$$\overline{EJ} : \overline{CH} = \overline{EJ} : 5 = 1 : 5 \text{ 에서 } \overline{EJ} = 1$$

$$\overline{GJ} : \overline{DH} = \overline{GJ} : 10 = 1 : 5 \text{ 에서 } \overline{GJ} = 2$$

$$\overline{AJ} = \overline{AD} - \overline{ED} - \overline{JE} = 12 - 3 - 1 = 8$$

직각삼각형 AGJ에서 피타고라스 정리에 의하여

$$\overline{AG}^2 = \overline{GJ}^2 + \overline{AJ}^2 = 2^2 + 8^2 = 68$$

$$\overline{AG} = 2\sqrt{17}$$

점 A에서 선분 DF에 내린 수선의 발을 K라 하면

삼각형 ADK와 삼각형 DFH에서

$\angle ADK = \angle DFH$  (엇각),  $\angle DKA = \angle FHD = 90^\circ$  이므로

두 삼각형은 서로 닮음이다.

$\overline{AK} : \overline{DH} = \overline{AD} : \overline{DF}$  에서  $\overline{AK} : 10 = 12 : 10\sqrt{5}$  이므로

$$\overline{AK} = \frac{120}{10\sqrt{5}} = \frac{12\sqrt{5}}{5}$$

직각삼각형 AGK에서

$$\sin(\angle AGK) = \frac{\overline{AK}}{\overline{AG}} = \frac{12\sqrt{5}}{5} \times \frac{1}{2\sqrt{17}}$$

$$= \frac{12\sqrt{5}}{5} \times \frac{\sqrt{17}}{34}$$

$$= \frac{6}{85} \sqrt{85}$$

$$\angle AGF = \angle AGK \text{ 이므로 } \sin(\angle AGF) = \frac{6}{85} \sqrt{85}$$

따라서  $p = 85$ ,  $q = 6$  에서  $p + q = 91$