

제 4 교시

탐구 영역 (통합사회)

성명

수험 번호

1

1. 밑줄 친 ㉠을 바탕으로 <사례>와 관련한 내용을 탐구하고자 한다. 탐구 활동으로 가장 적절한 것은?

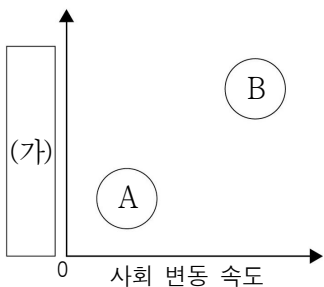
세상을 바라보는 관점에는 시간적, 공간적, 사회적, 윤리적 관점이 있다. 이들 네 가지 중 ㉠○○적 관점에서는 사회에서 발생하는 다양한 현상을 도덕적 가치 판단과 규범적 방향성에 초점을 두고 바라본다.

<사례>

서아프리카의 카카오 농장주들은 초콜릿의 원료가 되는 카카오를 조금이라도 저렴하게 생산하고자 싼값에 아동을 고용하고 있다. 이 과정에서 아동을 학대하는 일이 벌어지기도 한다.

- ① 아동 노동의 역사와 시대적 배경 파악하기
- ② 아동 노동이 발생한 지역의 자연환경 조사하기
- ③ 아동 인권 보호를 위한 올바른 가치관 탐색하기
- ④ 아동을 학대한 농장주의 법적 처벌 절차 확인하기
- ⑤ 아동 인권 침해가 빈번한 지역의 사회구조 분석하기

2. 그림은 A, B 사회의 일반적인 특징을 비교한 것이다. 이에 대한 설명으로 옳은 것은? (단, A, B는 각각 산업 사회, 정보 사회 중 하나임.) [3점]



* 0에서 멀어질수록 그 정도가 높음.

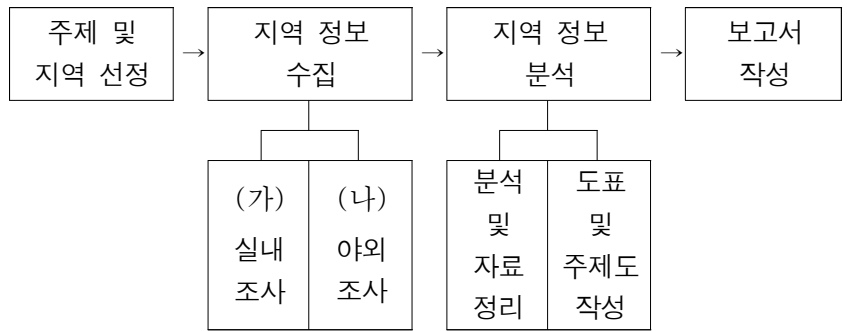
- ① A는 지식과 정보가 가장 중요한 생산 요소이다.
- ② B는 산업 구조에서 1차 산업이 차지하는 비중이 가장 높다.
- ③ A는 B에 비해 인간관계를 맺는 방식이 다양하다.
- ④ B는 A에 비해 정치 참여의 기회가 축소되었다.
- ⑤ (가)에는 '쌍방향 매체의 활용 정도'가 들어갈 수 있다.

3. (가), (나)에서 공통적으로 강조하는 삶의 태도로 가장 적절한 것은?

(가) 만족할 줄 모르는 것보다 더 큰 재앙은 없고, 얻기만 바라는 욕심보다 더 큰 허물은 없다. 그래서 만족할 줄 아는 데에서 얻는 만족이야말로 영원한 만족이다.
(나) 우리는 자연적이고 필수적인 욕구를 최소한으로 추구하는 소박한 삶을 살아야 한다. 결핍으로 인한 고통이 제거된다면, 단순한 음식에서도 큰 만족감을 얻을 수 있다.

- ① 노동을 통한 물질적 풍요를 추구해야 한다.
- ② 사회에서 성공하여 높은 지위를 획득해야 한다.
- ③ 지나친 욕구를 절제하여 검소하게 생활해야 한다.
- ④ 모든 욕구를 제거하고 자연의 이치를 탐구해야 한다.
- ⑤ 권력 획득을 위해 정치 활동에 적극적으로 참여해야 한다.

4. '공공 기관 이전에 따른 ○○군의 변화'를 주제로 지역 조사를 하고자 한다. (가), (나) 단계에 해당하는 활동으로 옳은 것만을 <보기>에서 있는 대로 고른 것은?



<보 기>

- ㄱ. (가): ○○군으로 이전한 공공 기관 주변의 상인을 찾아가 설문 조사를 한다.
- ㄴ. (가): ○○군청 누리집에서 공공 기관 이전 전후의 ○○군 산업별 취업자 통계 자료를 수집한다.
- ㄷ. (나): ○○군 항공 사진에서 식별하기 어려웠던 건물을 현장에 가서 직접 촬영한다.
- ㄹ. (나): ○○군으로 이전한 공공 기관 앞 도로에 가서 지나가는 차량의 수를 세어 기록한다.

- ① ㄱ, ㄴ
- ② ㄱ, ㄹ
- ③ ㄷ, ㄹ
- ④ ㄱ, ㄴ, ㄷ
- ⑤ ㄴ, ㄷ, ㄹ

5. 다음 글의 입장에 부합하는 진술에만 모두 '✓'를 표시한 학생은? [3점]

인간과 자연은 상호 의존적인 존재이다. 인간은 생명 공동체의 평범한 구성원으로서 공동체 자체를 존중해야 한다. 이는 인간의 바람직한 대지 이용을 오직 경제적 문제로만 생각하지 말아야 함을 의미하며, 도덕적 고려의 범위를 동물, 식물, 토양, 물까지 확대 적용하는 것이다. 어떤 것이 생명 공동체의 온전성, 안정성, 아름다움의 보전에 이바지한다면 그것은 옳고, 그렇지 않다면 그르다.

진술 \ 학생	갑	을	병	정	무
인간은 생명 공동체의 안정과 균형에 기여해야 한다.	✓	✓		✓	
인간은 자연으로부터 분리된 존재이며, 자연보다 우월한 존재이다.			✓	✓	✓
자연은 그 자체로 가치를 지니며, 인간은 생명 공동체의 한 구성원이다.	✓		✓		✓
인간 이외의 모든 존재는 인간의 행복과 복지를 위한 도구에 불과하다.		✓		✓	✓

- ① 갑
- ② 을
- ③ 병
- ④ 정
- ⑤ 무

6. 다음 자료는 현지에서 촬영한 영화의 장면들이다. (가) 지역에 대한 설명으로 옳은 것만을 <보기>에서 고른 것은? [3점]

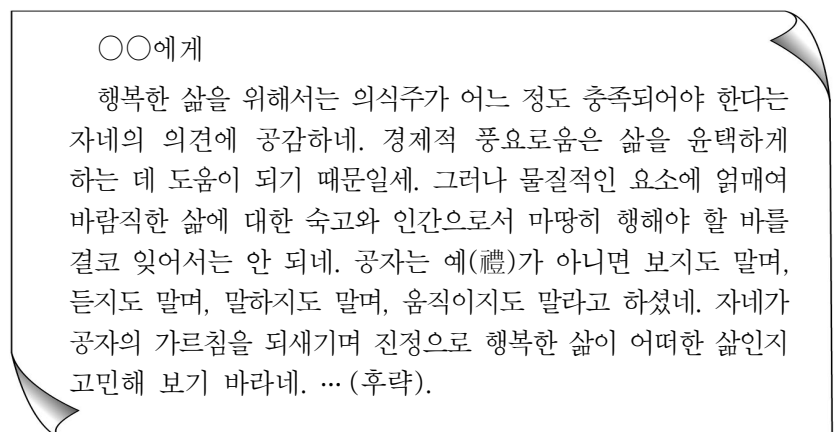


<보 기>

- ㄱ. 침엽수림이 넓게 분포한다.
 ㄴ. 주민들은 전통적으로 순록을 유목한다.
 ㄷ. 흙으로 벽을 두껍게 만든 전통 가옥이 나타난다.
 ㄹ. 오아시스 주변에서 농사를 짓는 주민을 볼 수 있다.

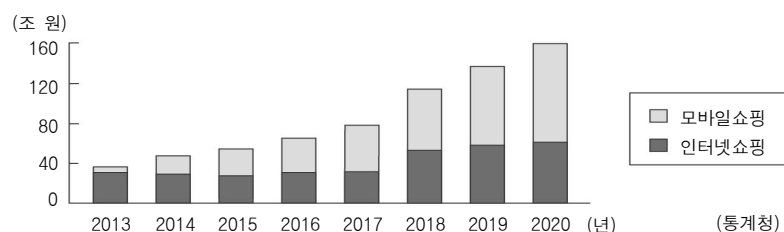
- ① ㄱ, ㄴ ② ㄱ, ㄷ ③ ㄴ, ㄷ ④ ㄴ, ㄹ ⑤ ㄷ, ㄹ

7. 다음 가상 편지를 쓴 사람이 강조하는 내용으로 가장 적절한 것은?



- ① 명예와 부의 축적은 행복한 삶의 궁극적 목표이다.
 ② 윤리적 성찰과 실천은 행복한 삶의 핵심을 이룬다.
 ③ 정치적으로 안정되지 않으면 행복한 삶이 불가능하다.
 ④ 질 높은 정주 환경은 행복한 삶의 유일한 선결 조건이다.
 ⑤ 경제적 안정이 보장되면 행복한 삶은 필연적으로 실현된다.

8. 그래프는 온라인쇼핑의 판매 매체별 거래액 변화를 나타낸 것이다. 이에 대한 분석 및 추론으로 옳은 것만을 <보기>에서 고른 것은? (단, 온라인쇼핑은 모바일쇼핑과 인터넷쇼핑으로만 구분함.) [3점]

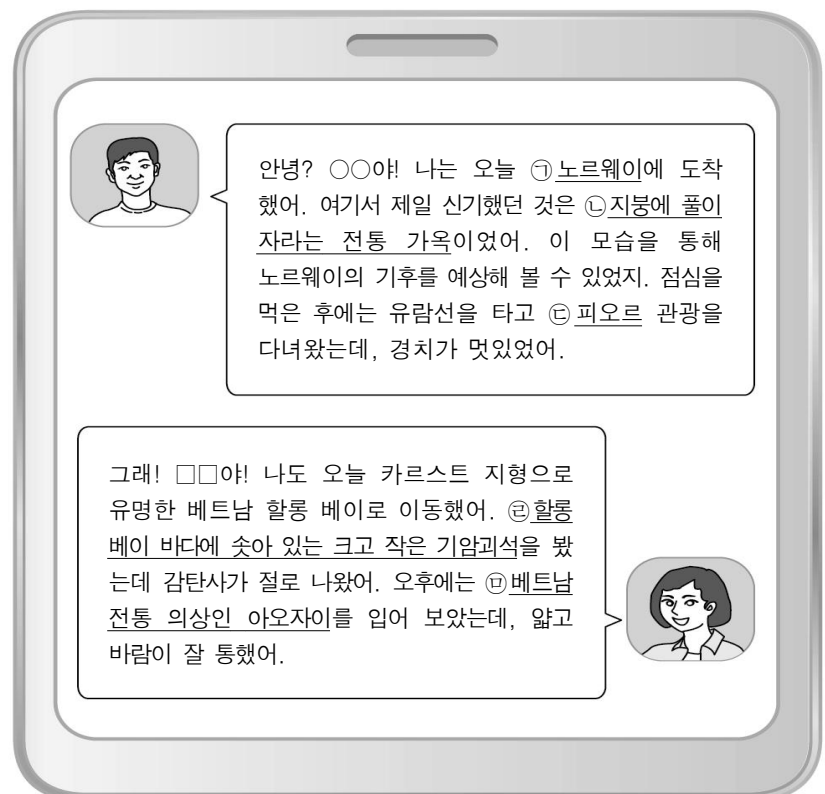


<보 기>

- ㄱ. 택배 산업의 성장이 동반되었을 것이다.
 ㄴ. 상품을 구매할 때 시공간의 제약이 커졌을 것이다.
 ㄷ. 2017년에는 모바일쇼핑 거래액이 인터넷쇼핑 거래액보다 많다.
 ㄹ. 온라인쇼핑 거래액에서 인터넷쇼핑 거래액이 차지하는 비중은 2020년이 2015년보다 높다.

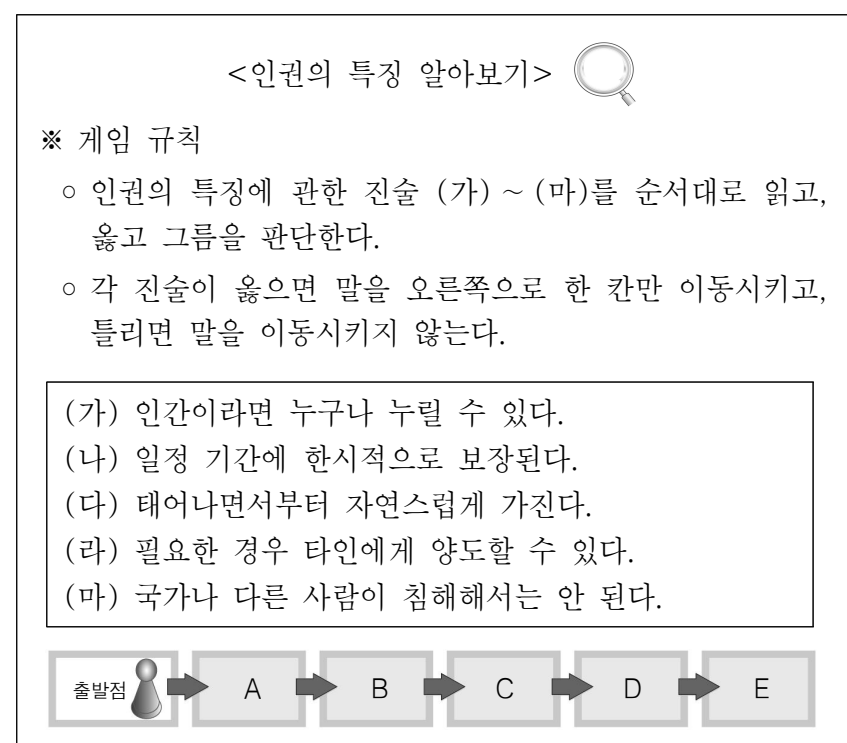
- ① ㄱ, ㄴ ② ㄱ, ㄷ ③ ㄴ, ㄷ ④ ㄴ, ㄹ ⑤ ㄷ, ㄹ

9. 다음 자료는 여행 중인 두 학생이 주고받은 휴대전화 문자 내용이다. 밑줄 친 ㉠~㉣에 대한 설명으로 옳지 않은 것은? [3점]



- ① ㉠은 베트남보다 고위도에 위치한다.
 ② ㉡은 추운 겨울에 보온성을 높이는 데 도움이 된다.
 ③ ㉢은 빙하의 침식으로 형성된 골짜기에 바닷물이 들어와 만들어졌다.
 ④ ㉣은 지하 깊은 곳의 마그마가 지표로 분출하여 형성되었다.
 ⑤ ㉤은 고온 다습한 기후에 적합한 옷이다.

10. 다음 자료에서 게임 규칙에 따라 말을 이동시켰을 때, 말의 최종 위치로 옳은 것은? (단, 말의 최종 위치는 A~E 중 한 칸임.)



- ① A ② B ③ C ④ D ⑤ E

11. 다음 자료에 대한 옳은 설명만을 <보기>에서 고른 것은? [3점]

(가) <바이마르 헌법>	(나) <인종 차별 철폐 협약>
제109조 모든 국민은 법률 앞에 평등하다. 남녀는 원칙적으로 국민으로서의 동일한 권리를 가지며 의무를 진다.	제1조 1. ㉠인종 차별은 인종, 피부색 등에 근거를 둔 어떠한 구별, 배척, 제한 또는 우선권을 말하며, ...
제111조 모든 국민은 전 국가 내에서 이전의 자유를 가진다.	제2조 2. 협약 체결국은 ... 사회적, 경제적, 문화적 등에 있어서 특정 인종 집단 또는 개인의 적절한 발전과 보호를 보증하는 특수하고 구체적인 조치를 취하여 이들에게 완전하고 평등한 인권과 기본적인 자유의 향유를 보장도록 한다.
제159조 노동 조건 및 거래 조건의 유지 및 개선을 위한 결사의 목적은 누구에게 대하여도 또한 어떠한 직업에 대하여도 보장한다.	

—<보 기>—

ㄱ. ㉠은 후천적 차이에 의한 불평등이다.
ㄴ. (가)는 사회권이 문서에 명시된 최초의 헌법이다.
ㄷ. (가)와 달리 (나)에는 합리적인 이유 없이 차별받지 않을 권리가 반영되어 있다.
ㄹ. (가), (나) 모두 국가 권력의 간섭에서 벗어나 자유롭게 생활할 수 있는 권리가 반영되어 있다.

- ① ㄱ, ㄴ ② ㄱ, ㄷ ③ ㄴ, ㄷ ④ ㄴ, ㄹ ⑤ ㄷ, ㄹ

12. 다음은 어떤 자연재해를 대비한 개인 안전 점검표의 일부이다. 이 자연재해에 대한 설명으로 가장 적절한 것은?

점검 항목	예	아니요
○ ○○ 피해를 예방하기 위해 크고 무거운 물건을 선반에 올려 두지 않고, 선반은 벽에 단단히 고정시켜 두십니까?	<input type="checkbox"/>	<input type="checkbox"/>
○ ○○이 발생하면 문틀이 틀어져 문이 안 열리게 되는 경우가 있으므로, 문을 열어서 출구를 확보해 두어야 한다는 사실에 대해서 알고 있습니까?	<input type="checkbox"/>	<input type="checkbox"/>
○ 변화가(빌딩가)에서는 떨어지는 물체(유리 파편, 간판 등)가 가장 위험하므로 우선 갖고 있는 소지품으로 머리를 보호하면서 건물과 떨어진 넓은 장소로 대피하거나, 대형 건물 안으로 대피하는 방법에 대해서 알고 있습니까?	<input type="checkbox"/>	<input type="checkbox"/>

(국민재난안전포털)

- ① 열대 해상에서 발생하며 강풍과 폭우를 동반한다.
② 신속한 제설 작업으로 교통 혼란을 줄일 수 있다.
③ 무더위로 인한 일사병과 열사병을 유발할 수 있다.
④ 오랫동안 비가 오지 않아 각종 용수가 부족해진다.
⑤ 내진 설계 기준을 강화함으로써 피해를 줄일 수 있다.

13. (가), (나) 사례에 해당하는 정보 사회의 문제점으로 가장 적절한 것은?

(가) 인터넷, 스마트 기기를 이용한 비대면 금융 거래가 보편화되면서 오프라인 점포 수를 줄이는 금융 기관이 많아지고 있다. 이에 따라 인터넷과 모바일을 활용한 금융 거래에 익숙하지 않은 노년층이 불편함을 겪고 있다.
(나) 인터넷상에서 ‘신상털기’가 무분별하게 이뤄지면서 사건 당사자의 안전을 위협하거나 심리적 고통을 야기하기도 한다.

- | (가) | (나) |
|----------|--------|
| ① 정보 격차 | 인터넷 중독 |
| ② 정보 격차 | 사생활 침해 |
| ③ 저작권 침해 | 인터넷 중독 |
| ④ 저작권 침해 | 사생활 침해 |
| ⑤ 인터넷 중독 | 저작권 침해 |

14. 다음은 학생 필기 내용의 일부이다. ㉠~㉥ 중 옳지 않은 것은?

—<환경 문제의 발생 원인과 각 주체의 해결 노력>—

1. 발생 원인: 산업화와 인구 증가로 인한 자원 소비량 증가 ... ㉠
2. 각 주체의 해결 노력
○ 정부: 환경 문제 해결을 위한 정책 시행 ㉡
○ 시민 단체: 정부의 환경 정책에 대한 감시와 비판 ㉢
○ 기업: 환경 보호를 위한 법률 제정 ㉣
○ 개인: 일상생활에서 녹색 소비 실천 ㉤

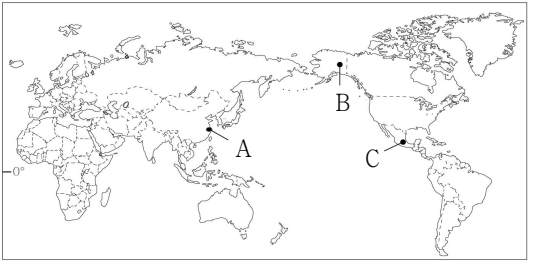
- ① ㉠ ② ㉡ ③ ㉢ ④ ㉣ ⑤ ㉤

15. 그림은 지도에 표시된 A~C 지역을 질문에 따라 구분한 것이다. (가), (나)에 들어갈 질문으로 옳은 것을 <보기>에서 고른 것은? [3점]

(가) 예 → A
아니요 ↓

(나) 예 → B
아니요 ↓

C

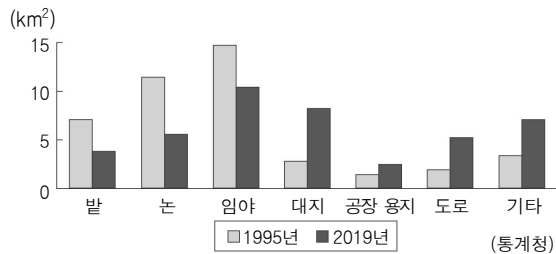


—<보 기>—

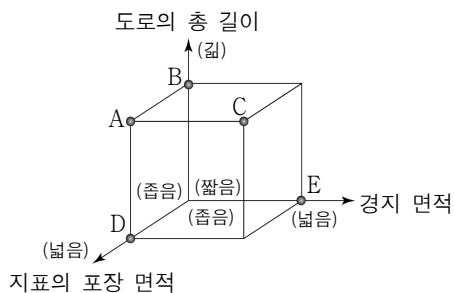
ㄱ. 백야 현상이 나타나는가?
ㄴ. 계절풍의 영향으로 벼농사가 발달하였는가?
ㄷ. 연중 온화하고, 일교차가 큰 고산 기후가 나타나는가?

- | (가) | (나) | (가) | (나) |
|-------|-------|-----|-----|
| ① ㄱ ㄴ | ② ㄱ ㄷ | | |
| ③ ㄴ ㄱ | ④ ㄴ ㄷ | | |
| ⑤ ㄷ ㄴ | | | |

16. 그래프는 우리나라 ○○시의 용도별 토지 면적 변화를 나타낸 것이다. 1995년과 비교한 2019년의 상대적 특징을 그림의 A~E에서 고른 것은? (단, ○○시의 연도별 총면적은 유의미한 차이가 없음.) [3점]



* 밭은 과수원의 면적을 포함함.
** 대지는 주거용 및 상업용 건물을 짓는 데 활용되는 땅임.



- ① A
② B
③ C
④ D
⑤ E

17. 다음 글의 입장에서 지지할 내용으로 적절한 것만을 <보기>에서 고른 것은?

기근의 원인을 홍수와 가뭄에서 찾는 사람들이 있지만, 실제로 많은 국가에서는 그와 같은 자연재해를 겪고도 기근이 일어나지 않았다. 왜냐하면, 민주적 선거가 이뤄지고 정부에 대한 비판과 언론의 자유가 보장된 국가는 굶주림의 고통을 방지하고자 신속하고 체계적으로 대응했기 때문이다.

<보 기>

- ㄱ. 기근을 피할 수 있는 국가는 없다.
ㄴ. 민주주의 국가는 굶주림의 고통에 적극적으로 대처한다.
ㄷ. 사회 안전망이 갖추어지면 홍수와 가뭄이 발생하지 않는다.
ㄹ. 시민의 활발한 정치 참여는 정부의 기근 방지 노력에 기여한다.

- ① ㄱ, ㄴ ② ㄱ, ㄷ ③ ㄴ, ㄷ ④ ㄴ, ㄹ ⑤ ㄷ, ㄹ

18. 밑줄 친 ㉠에 대한 옳은 설명만을 <보기>에서 고른 것은?

교사: 현대사회에서 인권의 개념이 확장되면서 나타나게 된 ㉠○○권에 대해 설명해 볼까요?

가: 경제적, 문화적 배경과 상관없이 누구나 문화 생활을 향유할 수 있는 권리를 말합니다.

을: 표현의 자유 보장을 통해 차별화된 문화 양식을 만들 수 있는 권리를 말합니다.

교사: 모두 옳게 대답했습니다. 잘했습니다.

갑

교사

<보 기>

- ㄱ. 사회의 다양성 확대에 기여하는 권리이다.
ㄴ. 문화적 정체성 확립에 도움을 주는 권리이다.
ㄷ. 쾌적한 주거 환경 조성을 강조하는 권리이다.
ㄹ. 전염병으로부터 자신의 안전을 보장해 주는 권리이다.

- ① ㄱ, ㄴ ② ㄱ, ㄷ ③ ㄴ, ㄷ ④ ㄴ, ㄹ ⑤ ㄷ, ㄹ

19. 다음 자료는 세미나 개최 안내 포스터이다. (가)에 대한 설명으로 옳은 것은? [3점]

세계 (가) 방지의 날* 기념 세미나 개최

- 일시: 2022.6.17.(금) 13:30 ~ 16:00
- 장소: ○○대학교 □□회의실
- 발표 내용
 - 원인 분석: 장기간의 가뭄, 과도한 방목 및 개간을 중심으로
 - 발생 지역 소개: 사헬 지대, 아랄해, 몽골
 - 성과 공유: 아시아 지역의 토지 황폐화 방지 사업
몽골 △△ 희망의 숲 조성 사업

* 매년 6월 17일은 국제 연합(UN)에서 (가) 방지 협약 채택일을 기념하기 위해 정한 날입니다.

- ① 농경지 확대, 상업적 벌목 등으로 인해 열대림이 파괴되는 현상이다.
② 황산화물과 질소산화물 등의 대기 오염 물질이 비와 섞여 내리는 현상이다.
③ 연기(smoke)와 안개(fog)의 합성어로 대기 오염에 의하여 나타나는 연무 현상이다.
④ 염화 플루오린화 탄소(CFCs)의 사용량 증가로 성층권의 오존층이 파괴되는 현상이다.
⑤ 자연적 또는 인위적 요인에 의해 기존에 사막이 아니던 곳이 점차 사막으로 변해가는 현상이다.

20. 갑, 을의 입장에 대한 설명으로 옳은 것만을 <보기>에서 있는 대로 고른 것은? [3점]

갑: 정보 사회에서는 개인이 자신의 정보가 포털 사이트 등을 통해 타인에게 알려지길 원하지 않을 경우, 자신의 정보를 통제할 수 있는 '잊힐 권리'가 보장되어야 한다.
을: 정보 사회에서는 누구나 자유롭게 정보에 접근할 수 있어야 하고, 공동체에 유익하거나 사람들이 알아야 할 정보라면 삭제할 수 있는 '알 권리'가 보장되어야 한다.

<보 기>

- ㄱ. 갑은 개인에게 자신의 정보에 대한 삭제권이 주어져야 한다고 본다.
ㄴ. 갑은 개인 정보 유출로부터 인권을 보호할 수 있는 장치가 마련되어야 한다고 본다.
ㄷ. 을은 공동체의 이익을 위한 정보는 열람 가능해야 한다고 본다.
ㄹ. 을은 자신의 정보 공개 여부에 대한 모든 권한은 자신에게 있어야 한다고 본다.

- ① ㄱ, ㄴ ② ㄱ, ㄹ ③ ㄷ, ㄹ
④ ㄱ, ㄴ, ㄷ ⑤ ㄴ, ㄷ, ㄹ

* 확인 사항

- 답안지의 해당란에 필요한 내용을 정확히 기입(표기)했는지 확인 하시오.